

تعداد سوالات: تستى: ۳۰ تشریحى: --
 زمان آزمون (دقیقه): تستى: ۶۰ تشریحى: --

نام درس: مبانی و کاربرد کامپیوتر در حسابداری
 رشته تحصیلی / کد درس: حسابداری (ستى ۱۱۱۵۰۱۱ - تجميع ۱۱۱۵۰۱۲)

مجاز است.

استفاده از: --

کد سرى سؤال: یک (۱)

امام خمینی^(ع): این محرم و صفر است که اسلام را زنده نگه داشته است.

۱. کدام تعریف برای کامپیوتر صحیح است ؟

- الف. دستگاهی الکترونیکی که قادر است عملیات ریاضی و منطقی را با سرعت کم ولی دقت بالا انجام دهد.
- ب. ماشین الکترونیکی و غیرقابل برنامه ریزی، که قادر به ذخیره، بازیابی و پردازش اطلاعات است.
- ج. یک وسیله همه کاره و قابل برنامه ریزی است که توانایی انجام محاسبه و نگهداری داده ها را دارد.
- د. ماشین الکترونیکی که قادر است با تفکر و تجزیه و تحلیل مسایل مختلف را حل نماید.

۲. کدام گزینه نادرست است؟

- الف. اطلاعات حافظه RAM با قطع برق کامپیوتر از بین می رود.
- ب. واحد کنترل (CU) بخشی از حافظه کامپیوتر است.
- ج. PROM یک حافظه فقط خواندنی با قابلیت برنامه ریزی است.
- د. واحد اندازه گیری حافظه بایت است.

۳. در کدام گزینه هر دو وسیله جزء دستگاههای خروجی هستند؟

- الف. ماوس و رسام
- ب. اسکنر و صفحه کلید
- ج. رسام و بلندگو
- د. دوربین دیجیتال و اسکنر

۴. کامپیوتری که پایانه های زیادی به آن وصل باشند و بتوانند بطور همزمان از امکانات آن استفاده کنند..... نام دارد.

- الف. سرور شبکه
- ب. پایانه هوشمند
- ج. کامپیوتر رومیزی
- د. ابر کامپیوتر

۵. یک گیگا بایت معادل چند کیلو بایت است؟

- الف. 2^{10}
- ب. 2^{20}
- ج. 2^{30}
- د. 2^{40}

۶. حرف R در کلمه RAM به چه معناست؟

- الف. Read
- ب. Review
- ج. Rewrite
- د. Random

۷. کدام گزینه صحیح است؟

- الف. ظرفیت حافظه دیسک های نوری و دیسک های مغناطیسی مشابه هم دیگر است.
- ب. به دوائر متحدالمرکزی که اطلاعات بر روی آن ذخیره می شوند سکتور می گویند.
- ج. وظیفه واحد محاسبه و منطق در کامپیوتر، کنترل قسمت های مختلف کامپیوتر است.
- د. به شیارهای هم شماره روی دیسک های مختلف، استوانه یا سلیندر گفته می شود.

تعداد سوالات: تستى: ۳۰ تشریحى: --
 زمان آزمون (دقیقه): تستى: ۶۰ تشریحى: --

نام درس: مبانی و کاربرد کامپیوتر در حسابداری
 رشته تحصیلی / کد درس: حسابداری (ستى ۱۱۱۵۰۱۱ - تجميع ۱۱۱۵۰۱۲)

مجاز است.

استفاده از: --

کد سرى سؤال: یک (۱)

امام خمینی^(ع): این محرم و صفر است که اسلام را زنده نگه داشته است.

۱. کدام تعریف برای کامپیوتر صحیح است ؟

- الف. دستگاهی الکترونیکی که قادر است عملیات ریاضی و منطقی را با سرعت کم ولی دقت بالا انجام دهد.
- ب. ماشین الکترونیکی و غیرقابل برنامه ریزی ، که قادر به ذخیره، بازیابی و پردازش اطلاعات است.
- ج. یک وسیله همه کاره و قابل برنامه ریزی است که توانایی انجام محاسبه و نگهداری داده ها را دارد.
- د. ماشین الکترونیکی که قادر است با تفکر و تجزیه و تحلیل مسایل مختلف را حل نماید.

۲. کدام گزینه نادرست است ؟

- الف. اطلاعات حافظه RAM با قطع برق کامپیوتر از بین می رود.
- ب. واحد کنترل (CU) بخشی از حافظه کامپیوتر است.
- ج. PROM یک حافظه فقط خواندنی با قابلیت برنامه ریزی است.
- د. واحد اندازه گیری حافظه بایت است.

۳. در کدام گزینه هر دو وسیله جزء دستگاههای خروجی هستند ؟

- الف. ماوس و رسام
- ب. اسکنر و صفحه کلید
- ج. رسام و بلندگو
- د. دوربین دیجیتال و اسکنر

۴. کامپیوتری که پایانه های زیادی به آن وصل باشند و بتوانند بطور همزمان از امکانات آن استفاده کنند..... نام دارد.

- الف. سرور شبکه
- ب. پایانه هوشمند
- ج. کامپیوتر رومیزی
- د. ابر کامپیوتر

۵. یک گیگا بایت معادل چند کیلو بایت است ؟

- الف. 2^{10}
- ب. 2^{20}
- ج. 2^{30}
- د. 2^{40}

۶. حرف R در کلمه RAM به چه معناست ؟

- الف. Read
- ب. Review
- ج. Rewrite
- د. Random

۷. کدام گزینه صحیح است ؟

- الف. ظرفیت حافظه دیسک های نوری و دیسک های مغناطیسی مشابه هم دیگر است.
- ب. به دوائر متحدالمرکزی که اطلاعات بر روی آن ذخیره می شوند سکتور می گویند.
- ج. وظیفه واحد محاسبه و منطق در کامپیوتر ، کنترل قسمت های مختلف کامپیوتر است.
- د. به شیارهای هم شماره روی دیسک های مختلف، استوانه یا سلیندر گفته می شود.

تعداد سوالات: تستی: ۳۰ تشریحی: --
 زمان آزمون (دقیقه): تستی: ۶۰ تشریحی: --

نام درس: مبانی و کاربرد کامپیوتر در حسابداری
 رشته تحصیلی / کد درس: حسابداری (ستتی ۱۱۱۵۰۱۱ - تجميع ۱۱۱۵۰۱۲)

مجاز است.

استفاده از: --

کد سری سؤال: یک (۱)

۸. واحد پردازش مرکزی کامپیوتر چه نام دارد ؟

الف. cpu . ب. RAM . ج. Alu . د. CU .

۹. اگر بخواهیم جستجو در بخشی از کامپیوتر انجام شود، کدام گزینه را باید کلیک کنیم؟

الف. Specify file name or keywords

ب. Include hidden and system files

ج. Look in a specific location

د. find only picture

۱۰. کدام گزینه کامپیوتر را در حالت آماده باش قرار می دهد ؟

الف. shut down . ب. stand by . ج. Restart . د. Restart in MS-DOS Mode .

۱۱. کدام یک از نرم افزارهای زیر برای برنامه های گرافیکی استفاده نمی شود؟

الف. Corel draw . ب. 3Ds Max . ج. Fox pro . د. Flash .

۱۲. فایلهایی که حذف می شوند در کجا نگهداری می شوند ؟

الف. سطل زباله

ب. کلیپ بورد

ج. RAM

د. فایلهای حذف شده در جایی نگهداری نمی شوند و از روی حافظه پاک می شود.

۱۳. کدام یک از موارد زیر یک سیستم عامل نیست؟

الف. MVS . ب. Apple . ج. OS/7 . د. Linux .

۱۴. با فشردن کلید F1 در ویندوز کدام دستور اجرا می شود ؟

الف. save . ب. help . ج. open . د. Exit .

۱۵. درگ کردن یعنی :

الف. فشردن دکمه سمت چپ ماوس

ب. فشردن متناوب دکمه های سمت چپ و راست

ج. پایین نگه داشتن دکمه سمت چپ و تغییر مکان ماوس

د. پایین نگه داشتن دکمه سمت چپ و تغییر اندازه پنجره ها

تعداد سوالات: تستى: ۳۰ تشریحى: --
 زمان آزمون (دقیقه): تستى: ۶۰ تشریحى: --

نام درس: مبانی و کاربرد کامپیوتر در حسابداری
 رشته تحصیلی / کد درس: حسابداری (ستى ۱۱۱۵۰۱۱ - تجميع ۱۱۱۵۰۱۲)

مجاز است.

استفاده از: --

کد سرى سؤال: یک (۱)

۱۶. ساعت و تاریخ کامپیوتر در کدام نوار قرار دارد؟
 الف. نوار منو ب. نوار استاندارد ج. نوار قالب‌بندی د. نوار وظیفه
۱۷. برای برگرداندن یک فایل حذف شده از سطل بازیافت به مکان قبلی خودش از کدام گزینه استفاده می‌شود؟
 الف. Apply ب. Save ج. Paste د. Restore
۱۸. در نرم‌افزار Word اگر بخواهیم خط جدیدی را در یک پاراگراف ایجاد کنیم از چه کلیدهایی باید استفاده کنیم؟
 الف. Shift + Enter ب. Ctrl + Enter ج. Alt + Enter د. Del + Enter
۱۹. در نرم‌افزار Word با فشردن دکمه‌های Ctrl+D چه اتفاقی می‌افتد؟
 الف. فایل مورد نظر ذخیره می‌شود.
 ب. پنجره مربوط به فونت نمایان می‌شود.
 ج. عمل کپی شدن اتفاق می‌افتد.
 د. عمل paste اتفاق می‌افتد.
۲۰. چگونه می‌توان در نرم‌افزار word فایل تولید شده را به صورت خودکار ذخیره کرد؟
 الف. در قسمت setting گزینه auto save را می‌زنیم.
 ب. تنظیم خودکار در نرم‌افزار word امکان‌پذیر نیست.
 ج. در منوی file قسمت save گزینه save auto recover info every را انتخاب می‌کنیم.
 د. در منوی file گزینه quick save را انتخاب می‌کنیم.
۲۱. در نرم‌افزار Excel کدام نوع نمودار برای تاکید بر اهمیت نسبی مقادیر در طول یک دوره زمانی استفاده می‌شود؟
 الف. مساحت (Area) ب. حباب (Bubble) ج. میله ای (Bar) د. پایر دی (Pie)
۲۲. کدام گزینه جزء پسوندهای مجاز فایلها در Excel نیست؟
 الف. XLT ب. XLA ج. XLS د. XWL
۲۳. برای درج اشکال از پیش تعریف شده از کدام ابزار استفاده می‌کنیم؟
 الف. Clip Art ب. Drawing ج. Clip Gallery د. Insert Picture
۲۴. در اکسس در پنجره Data sheet برای رفتن به فیلد بعدی از کدام کلید استفاده می‌کنیم؟
 الف. Ctrl ب. Tab ج. Shift + Tab د. Shift + Ctrl
۲۵. کدام یک از انواع فیلدها در پایگاه داده اکسس وجود دارد؟
 الف. نوع عددی / تصویری ب. شمارش معکوس / متنی
 ج. منطقی / تصویری د. متنی / پولی و ارزی
۲۶. برای ایجاد یک پرس وجو در اکسس از کدام گزینه باید استفاده کنیم؟
 الف. Query ب. Report ج. Form د. Macro

نام درس: مبانی و کاربرد کامپیوتر در حسابداری
 رشته تحصیلی / گد درس: حسابداری (ستت ۱۱۱۵۰۱۱ - تجميع ۱۱۱۵۰۱۲)
 تعداد سوالات: تستی: ۳۰ تشریحی: --
 زمان آزمون (دقیقه): تستی: ۶۰ تشریحی: --

مجاز است.

استفاده از: --

گد سری سؤال: یک (۱)

۲۷. در آدرس سایت های اینترنتی biz. مربوط به چه سازمان هایی است؟

الف. بازرگانی ب. تجاری ج. نظامی د. غیر انتفاعی

۲۸. آدرس سایت هایی را که قبلا توسط مرورگر دیده ایم کجا می توانیم دوباره پیدا کنیم؟

الف. Internet Address ب. Browser

ج. Server د. History

۲۹. به سرویس دهنده اینترنت چه می گویند؟

الف. ICP ب. ISP ج. ISD د. ICD

۳۰. آدرس پست الکترونیکی گیرنده را در کدام بخش وارد می کنید؟

الف. Send ب. To ج. CC د. Subject

www.Sanjesh3.com

تعداد سوالات: تستی: ۳۰ تشریحی: --
 زمان آزمون (دقیقه): تستی: ۶۰ تشریحی: --

نام درس: مبانی و کاربرد کامپیوتر در حسابداری
 رشته تحصیلی / کد درس: حسابداری (ستتی ۱۱۱۵۰۱۱ - تجميع ۱۱۱۵۰۱۲)

مجاز است.

استفاده از: --

کد سری سؤال: یک (۱)

۸. واحد پردازش مرکزی کامپیوتر چه نام دارد ؟

الف. cpu . ب. RAM . ج. Alu . د. CU .

۹. اگر بخواهیم جستجو در بخشی از کامپیوتر انجام شود، کدام گزینه را باید کلیک کنیم؟

الف. Specify file name or keywords

ب. Include hidden and system files

ج. Look in a specific location

د. find only picture

۱۰. کدام گزینه کامپیوتر را در حالت آماده باش قرار می دهد ؟

الف. shut down . ب. stand by . ج. Restart . د. Restart in MS-DOS Mode

۱۱. کدام یک از نرم افزارهای زیر برای برنامه های گرافیکی استفاده نمی شود؟

الف. Corel draw . ب. 3Ds Max . ج. Fox pro . د. Flash .

۱۲. فایلهایی که حذف می شوند در کجا نگهداری می شوند ؟

الف. سطل زباله

ب. کلیپ بورد

ج. RAM

د. فایلهای حذف شده در جایی نگهداری نمی شوند و از روی حافظه پاک می شود.

۱۳. کدام یک از موارد زیر یک سیستم عامل نیست؟

الف. MVS . ب. Apple . ج. OS/7 . د. Linux

۱۴. با فشردن کلید F1 در ویندوز کدام دستور اجرا می شود ؟

الف. save . ب. help . ج. open . د. Exit

۱۵. درگ کردن یعنی :

الف. فشردن دکمه سمت چپ ماوس

ب. فشردن متناوب دکمه های سمت چپ و راست

ج. پایین نگه داشتن دکمه سمت چپ و تغییر مکان ماوس

د. پایین نگه داشتن دکمه سمت چپ و تغییر اندازه پنجره ها

تعداد سوالات: تستى: ۳۰ تشریحى: --
 زمان آزمون (دقیقه): تستى: ۶۰ تشریحى: --

نام درس: مبانی و کاربرد کامپیوتر در حسابداری
 رشته تحصیلی / کد درس: حسابداری (ستى ۱۱۱۵۰۱۱ - تجميع ۱۱۱۵۰۱۲)

مجاز است.

استفاده از: --

کد سرى سؤال: یک (۱)

۱۶. ساعت و تاریخ کامپیوتر در کدام نوار قرار دارد؟
 الف. نوار منو ب. نوار استاندارد ج. نوار قالب‌بندی د. نوار وظیفه
۱۷. برای برگرداندن یک فایل حذف شده از سطل بازیافت به مکان قبلی خودش از کدام گزینه استفاده می‌شود؟
 الف. Apply ب. Save ج. Paste د. Restore
۱۸. در نرم‌افزار Word اگر بخواهیم خط جدیدی را در یک پاراگراف ایجاد کنیم از چه کلیدهایی باید استفاده کنیم؟
 الف. Shift + Enter ب. Ctrl + Enter ج. Alt + Enter د. Del + Enter
۱۹. در نرم‌افزار Word با فشردن دکمه‌های Ctrl+D چه اتفاقی می‌افتد؟
 الف. فایل مورد نظر ذخیره می‌شود.
 ب. پنجره مربوط به فونت نمایان می‌شود.
 ج. عمل کپی شدن اتفاق می‌افتد.
 د. عمل paste اتفاق می‌افتد.
۲۰. چگونه می‌توان در نرم‌افزار word فایل تولید شده را به صورت خودکار ذخیره کرد؟
 الف. در قسمت setting گزینه auto save را می‌زنیم.
 ب. تنظیم خودکار در نرم‌افزار word امکان‌پذیر نیست.
 ج. در منوی file قسمت save گزینه save auto recover info every را انتخاب می‌کنیم.
 د. در منوی file گزینه quick save را انتخاب می‌کنیم.
۲۱. در نرم‌افزار Excel کدام نوع نمودار برای تاکید بر اهمیت نسبی مقادیر در طول یک دوره زمانی استفاده می‌شود؟
 الف. مساحت (Area) ب. حباب (Bubble) ج. میله ای (Bar) د. پایر دای (Pie)
۲۲. کدام گزینه جزء پسوندهای مجاز فایلها در Excel نیست؟
 الف. XLT ب. XLA ج. XLS د. XWL
۲۳. برای درج اشکال از پیش تعریف شده از کدام ابزار استفاده می‌کنیم؟
 الف. Clip Art ب. Drawing ج. Clip Gallery د. Insert Picture
۲۴. در اکسس در پنجره Data sheet برای رفتن به فیلد بعدی از کدام کلید استفاده می‌کنیم؟
 الف. Ctrl ب. Tab ج. Shift + Tab د. Shift + Ctrl
۲۵. کدام یک از انواع فیلدها در پایگاه داده اکسس وجود دارد؟
 الف. نوع عددی / تصویری ب. شمارش معکوس / متنی
 ج. منطقی / تصویری د. متنی / پولی و ارزی
۲۶. برای ایجاد یک پرس وجو در اکسس از کدام گزینه باید استفاده کنیم؟
 الف. Query ب. Report ج. Form د. Macro

نام درس: مبانی و کاربرد کامپیوتر در حسابداری
 رشته تحصیلی / گد درس: حسابداری (ستتی ۱۱۱۵۰۱۱ - تجميع ۱۱۱۵۰۱۲)
 تعداد سوالات: تستی: ۳۰ تشریحی: --
 زمان آزمون (دقیقه): تستی: ۶۰ تشریحی: --

مجاز است.

استفاده از: --

گد سری سؤال: یک (۱)

۲۷. در آدرس سایت های اینترنتی biz. مربوط به چه سازمان هایی است؟

الف. بازرگانی ب. تجاری ج. نظامی د. غیر انتفاعی

۲۸. آدرس سایت هایی را که قبلا توسط مرورگر دیده ایم کجا می توانیم دوباره پیدا کنیم؟

الف. Internet Address ب. Browser

ج. Server د. History

۲۹. به سرویس دهنده اینترنت چه می گویند؟

الف. ICP ب. ISP ج. ISD د. ICD

۳۰. آدرس پست الکترونیکی گیرنده را در کدام بخش وارد می کنید؟

الف. Send ب. To ج. CC د. Subject

www.Sanjesh3.com

تعداد سوالات: تستی: ۲۰ تشریحی: ۵
 زمان آزمون (دقیقه): تستی: ۶۰ تشریحی: ۶۰

نام درس: آمار و کاربرد آن در مدیریت
 رشته تحصیلی / کد درس: حسابداری (۱۱۷۰۱۸)

مجاز است.

استفاده از ماشین حساب

کد سری سؤال: یک (۱)

امام خمینی (ره): این محرم و صفر است که اسلام را زنده نگه داشته است.

۱. نقطه‌ای که تقریباً ۲۵ درصد داده‌ها کمتر از آن قرار دارند چه نام دارد؟

الف. چارک اول ب. چارک دوم ج. میانه د. چارک سوم

۲. اگر میانگین و واریانس X به ترتیب ۳ و ۹ باشد. میانگین و انحراف معیار $Y = \frac{1}{2}X + 1$ کدام است؟

الف. $\mu = 1/5, \sigma = 2/5$ ب. $\mu = 1/5, \sigma = 1/5$

ج. $\mu = 2/5, \sigma = 4/5$ د. $\mu = 2/5, \sigma = 1/5$

۳. در جدول رده‌بندی شده زیر چارک سوم چقدر است؟

$C - L$	۱۰ - ۲۰	۲۰ - ۳۰	۳۰ - ۴۰
فراوانی	۱۰	۳۰	۲۰

الف. ۲۰ ب. ۳۰/۵

ج. ۳۲/۵ د. ۲۵

۴. داده‌های زیر نمونه‌ای از جامعه هستند برآورد انحراف معیار جامعه چقدر است؟

۳, ۴, ۵, ۶, ۷

الف. ۲/۵ ب. $\sqrt{2/5}$ ج. ۲ د. $\sqrt{2}$

۵. طبق قضیه چبیشف حداقل چه نسبتی از مقادیر جامعه در فاصله $\mu \pm 3\sigma$ قرار می‌گیرد؟

الف. $\frac{1}{9}$ ب. $\frac{1}{3}$ ج. $\frac{8}{9}$ د. نمی‌توان مشخص کرد

جدول زیر دو گروه ۸۰ نفره افراد سالم و بیمار بر حسب سیگاری بودن و غیرسیگاری بودن را نشان می‌دهد به سئوالات ۶ تا ۷ پاسخ دهید؟

	سالم	بیمار
سیگاری	۵۰	۴۰
غیر سیگاری	۶۰	۳۰

۶. احتمال بیمار بودن فردی که سیگاری است، چقدر است؟

الف. $\frac{2}{9}$ ب. $\frac{4}{9}$ ج. $\frac{4}{7}$ د. $\frac{4}{5}$

۷. احتمال سیگاری بودن فردی که سالم است، چقدر است؟

الف. $\frac{5}{11}$ ب. $\frac{5}{6}$ ج. $\frac{5}{18}$ د. $\frac{5}{9}$

۸. اگر $P(A) = 0/5$ و $P(B) = 0/4$ و $P(A|B) = 0/1$ باشد آنگاه $P(A \cup B)$ چقدر است؟

الف. ۰/۷۵ ب. ۰/۹ ج. ۰/۸ د. ۰/۸۶

تعداد سوالات: تستی: ۲۰ تشریحی: ۵
 زمان آزمون (دقیقه): تستی: ۶۰ تشریحی: ۶۰

نام درس: آمار و کاربرد آن در مدیریت
 رشته تحصیلی: گد درس: حسابداری (۱۱۷۰۱۸)

مجاز است.

استفاده از ماشین حساب

گد سری سؤال: یک (۱)

۹. اگر ۹ نفر در مسابقه‌ای شرکت کنند به چند طریق می‌توان جوایز اول و دوم و سوم را اعطا نمود؟

الف. ۲۵۲ ب. ۵۰۴ ج. ۶۹۲۰ د. ۷۵۶

۱۰. اگر برای توزیع زیر $E(x) = -1$ باشد تعداد m کدام است؟

x	-۵	-۴	m	۲
$P(x)$	$\frac{1}{4}$	$\frac{1}{8}$	$\frac{1}{2}$	$\frac{1}{8}$

الف. ۳۸ ب. ۱
ج. -۳ د. -۱

۱۱. دانشجویی ۳ سؤال چهار جوابی را به طور تصادفی علامت می‌زند احتمال اینکه حداقل یک جواب درست باشد چقدر است؟

الف. $\frac{1}{3}$ ب. $\frac{2}{3}$ ج. $\frac{63}{64}$ د. $\frac{37}{64}$

۱۲. در یک توزیع نرمال $6/94$ درصد اقلام زیر ۳۵ و $89/04$ درصد زیر ۶۴ می‌باشد. میانگین (μ) و انحراف معیار (σ) توزیع کدام است؟ $P(Z < -1/48) = 0/0694$ و $P(Z < 1/48) = 0/8907$

الف. $\sigma = 5/03, \mu = 10/331$ ب. $\sigma = 4/93, \mu = 10/33$
ج. $\sigma = 10/32, \mu = 49/3$ د. $\sigma = 10/7, \mu = 50/8$

۱۳. در نمونه‌ای به حجم ۴ از یک توزیع نرمال با واریانس ۱۰۰، احتمال اینکه حداقل خطای برآورد برابر ۵ باشد چقدر است؟ $P(Z < 1) = 0/84$

الف. ۰/۶۸ ب. ۰/۳۴ ج. ۰/۹۵ د. ۰/۹۹

۱۴. برآورد کننده ناریب آن است که:

الف. واریانس آن همیشه ثابت باشد.
ب. میانگین آن برابر صفر است.
ج. کمترین واریانس را دارد.
د. امید ریاضی آن برابر پارامتر جامعه باشد.

۱۵. در یک بررسی از ۶۴ بیمار نسبت به کسانی که بعد از عمل جراحی به عارضه معینی مبتلا شده‌اند ۵۰٪ به دست آمده است. فاصله اطمینان ۹۵ درصد برای نسبت واقعی مبتلایان مجدد چقدر است؟ $P(Z < 1/96) = 0/975$

الف. (۰/۳۷۸, ۰/۶۲۵) ب. (۰/۳۴, ۰/۶۶)
ج. (۰/۲, ۰/۴) د. (۰/۴۶, ۰/۵۴)

۱۶. خطای نوع دوم وقتی رخ می‌دهد که:

الف. فرض غلط H_0 را رد کنیم
ب. فرض غلط H_0 را بپذیریم
ج. فرض درست H_1 را بپذیریم
د. فرض غلط H_1 را رد کنیم

تعداد سوالات: تستی: ۲۰ تشریحی: ۵
 زمان آزمون (دقیقه): تستی: ۶۰ تشریحی: ۶۰

نام درس: آمار و کاربرد آن در مدیریت
 رشته تحصیلی / کد درس: حسابداری (۱۱۷۰۱۸)

مجاز است.

استفاده از ماشین حساب

کد سری سؤال: یک (۱)

و از بین ۱۰۰ آزمایش ۵۹ موقعیت مشاهده شده باشد آماره آزمون و نتیجه آزمون $\alpha = 0.05$ کدام
 اگر ۱۷.
$$\left\{ \begin{array}{l} H_0 : P = \frac{1}{2} \\ H_1 : P \neq \frac{1}{2} \end{array} \right.$$

است؟ $(P < Z < -1.96) = 0.025$

الف. $1/8$ و H_0 رد می شود.

ج. $1/8$ و H_0 رد نمی شود.

۱۸. برای مقایسه دو روش آموزش دانشجویان دو نمونه مستقل انتخاب و اطلاعات زیر به دست آمده است

روش اول $S_1 = 8$ ، $X_1 = 52$ ، $n_1 = 13$

روش دوم $S_2 = 16$ ، $X_2 = 48$ ، $n_2 = 15$

تعداد آماره آزمون برای مقایسه میانگین دو جامعه کدام است؟

د. ۱۰۰

ج. ۴

ب. 0.82

الف. 0.15

۱۹. یک آنالیز واریانس روی ۳ ناحیه در شهری که گوشت مصرف می کنند انجام گرفته و اطلاعات زیر به دست آمده است.

$MSE = 94$ ، $df_{کل} = 11$ ، $SSR = 1284$

آماره آزمون (F) کدام است؟

د. $6/83$

ج. $8/63$

ب. $7/21$

الف. $5/42$

۲۰. مفهوم ضریب همبستگی ۱-، آن است که بین دو متغیر همبستگی:

ب. تا اندازه ای وجود دارد.

الف. وجود ندارد.

د. کامل ولی غیر هم جهت وجود دارد.

ج. کامل و هم جهت وجود دارد.

تعداد سوالات: تستی: ۲۰ تشریحی: ۵
 زمان آزمون (دقیقه): تستی: ۶۰ تشریحی: ۶۰

نام درس: آمار و کاربرد آن در مدیریت
 رشته تحصیلی / گد درس: حسابداری (۱۱۷۰۱۸)

مجاز است.

استفاده از ماشین حساب

گد سری سؤال: یک (۱)

سؤالات تشریحی

بارم هر سؤال ۱/۴ نمره می باشد.

۱. با روش کم گذاری میانگین و واریانس جدول توزیع فراوانی زیر را محاسبه کنید؟

رده بندی	۱۴/۵ - ۱۹/۵	۱۹/۵ - ۲۴/۵	۲۴/۵ - ۲۹/۵	۲۹/۵ - ۳۴/۵	۳۴/۵ - ۳۹/۵
فراوانی	۹	۳۷	۳۱	۱۳	۱۰

۲. مدت زمانی که یخچال بدون نیاز به تعمیر کار کند، متغیر تصادفی نمایی با $\theta = ۴$ سال است. مطلوب است:

الف. احتمال اینکه یخچال در کمتر از ۳/۵ سال نیازی به تعمیر نداشته باشد.

ب. حداقل ۴/۵ سال نیاز به تعمیر نداشته باشد.

ج. بین ۲ تا ۴ سال نیازی به تعمیر نداشته باشد

۳. اگر y دارای توزیع دو جمله ای با $n = ۱۶$ و $P = \frac{1}{2}$ باشد مطلوب است محاسبه:

الف. $P(Y = ۷)$ با استفاده از تقریب نرمال

ب. $P(۶ \leq x \leq ۱۰)$ با استفاده از تقریب نرمال

$$P(Z < ۰/۲۵) = ۰/۵۹۸۷$$

$$P(z < ۰/۷۵) = ۰/۷۷۳۴$$

$$P(Z < ۱/۲۵) = ۰/۸۹۴۴$$

۴. برای مقایسه حقوق کارگران کارخانه A و B از کارخانه A یک نمونه ۷ تایی و از کارخانه B یک نمونه ۵ تایی انتخاب می کنیم اگر داشته باشیم ($\alpha = ۰/۰۵$) حقوق بر حسب ۱۰۰۰ تومان در روز

$$m = ۷ \quad \overline{X}_A = ۳۱/۷۱ \quad S_A^2 = ۲/۹$$

$$n = ۵ \quad \overline{X}_B = ۳۵/۲ \quad S_B^2 = ۲/۲$$

$$t_{۰/۰۲۵, ۱۰} = ۲/۲۲۸$$

با فرض برابری واریانس ها، آیا می توان فرض برابری میانگین حقوق کارگران دو کارخانه را پذیرفت.

تعداد سوالات: تستی: ۲۰ تشریحی: ۵
 زمان آزمون (دقیقه): تستی: ۶۰ تشریحی: ۶۰

نام درس: آمار و کاربرد آن در مدیریت
 رشته تحصیلی / کد درس: حسابداری (۱۱۱۷۰۱۸)

مجاز است.

استفاده از ماشین حساب

کد سری سؤال: یک (۱)

۵. درصد ظرفیت تولید و استخدام کارگر در یکی از صنایع در ۶ سال گذشته در جدول زیر آمده است
 الف. ضریب همبستگی را محاسبه کنید.
 ب. معادله خط رگرسیون را به دست آورید.

درصد ظرفیت X	۹۳	۸۹/۸	۸۴/۵	۶۰/۶	۶۳/۶	۶۶/۸
تعداد کارگر Y	۵۱۹	۵۰۹	۵۰۸	۴/۲	۴۰۰	۴۵۰

www.Sanjesh3.com

تعداد سوالات: تستی: ۲۰ تشریحی: ۵
 زمان آزمون (دقیقه): تستی: ۶۰ تشریحی: ۶۰

نام درس: آمار و کاربرد آن در مدیریت
 رشته تحصیلی / کد درس: حسابداری (۱۱۱۷۰۱۸)

مجاز است.

استفاده از ماشین حساب

کد سری سؤال: یک (۱)

$$k = 1 + \frac{3}{3} \log n$$

کوچکترین مقدار - بزرگترین مقدار
 = $\frac{\text{تعداد رده ها}}{\text{طول رده}}$

$$\bar{x} = \frac{\sum_{i=1}^n x_i}{n}$$

$$\bar{x}_g = \frac{\sum_{i=1}^k f_i m_i}{n}$$

$$H_p = (1-w)x_{(r)} + wx_{(r+1)}$$

$$Md = L_M + \frac{\frac{n}{2} - Fc}{f_M} \times l_M$$

$$S^r = \frac{\sum_{i=1}^n x_i^r - \left[\frac{(\sum_{i=1}^n x_i)^r}{n} \right]}{n-1}$$

$$S_g^r = \frac{\sum_{i=1}^k f_i m_i^r - \left[\frac{(\sum_{i=1}^k f_i m_i)^r}{n} \right]}{n-1}$$

$$P(A|B) = \frac{P(AB)}{P(B)}$$

$$P(S_i | A) = \frac{P(S_i) P(A|S_i)}{\sum_{i=1}^k P(S_i) P(A|S_i)}$$

$$P_r^n = \frac{n!}{(n-r)!}$$

$$C_r^n = \frac{n!}{r! (n-r)!}$$

$$\mu_x = E(X) = \sum_x X P(X=x)$$

$$\sigma_x^r = E(X^r) - (E(X))^r$$

$$P(x) = C_x^n P^x q^{n-x}$$

$$E(X) = np$$

$$\sigma_x^r = npq$$

$$P(x) = \frac{\mu^x e^{-\mu}}{x!}$$

تعداد سوالات: تستی: ۲۰ تشریحی: ۵
 زمان آزمون (دقیقه): تستی: ۶۰ تشریحی: ۶۰

نام درس: آمار و کاربرد آن در مدیریت
 رشته تحصیلی / کد درس: حسابداری (۱۱۷۰۱۸)

مجاز است.

استفاده از ماشین حساب

کد سری سؤال: یک (۱)

$$P(x) = \frac{C_x^k C_{n-x}^{N-k}}{C_n^N}$$

$$E(X) = n \cdot \frac{K}{N}$$

$$\sigma^2 = n \cdot \frac{K}{N} \cdot \frac{N-k}{N} \cdot \frac{N-n}{N-1}$$

$$f(x) = \begin{cases} \frac{1}{b-a} \\ 0 \end{cases}$$

$$a < x < b$$

سایر مقادیر

$$P(c \leq x \leq d) = \frac{d-c}{b-a}$$

$$\mu = \frac{a+b}{2}$$

$$\sigma^2 = \frac{(b-a)^2}{12}$$

$$f(x) = \begin{cases} \lambda e^{-\lambda x} \\ 0 \end{cases}$$

$$x > 0, \lambda > 0$$

سایر مقادیر

$$\mu = \sigma = \frac{1}{\lambda}$$

$$Z = \frac{x - \mu}{\sigma}$$

$$\sigma_{\bar{x}} = \frac{\sigma}{\sqrt{n}} \cdot \sqrt{\frac{N-n}{N-1}}$$

$$\delta^2_{(\bar{x}_1 - \bar{x}_2)} = \frac{\sigma_1^2}{n_1} + \frac{\sigma_2^2}{n_2}$$

تعداد سوالات: تستی: ۲۰ تشریحی: ۵
 زمان آزمون (دقیقه): تستی: ۶۰ تشریحی: ۶۰

نام درس: آمار و کاربرد آن در مدیریت
 رشته تحصیلی / کد درس: حسابداری (۱۱۱۷۰۱۸)

مجاز است.

استفاده از ماشین حساب

کد سری سؤال: یک (۱)

$$d = \mu = |\bar{x} - \mu|$$

$$L = \bar{x} - z_{\frac{\alpha}{2}} \cdot \frac{\sigma}{\sqrt{n}}$$

$$U = \bar{x} + z_{\frac{\alpha}{2}} \cdot \frac{\sigma}{\sqrt{n}}$$

$$L = \bar{x} - t_{\frac{\alpha}{2}, n-1} \cdot \frac{s}{\sqrt{n}}$$

$$U = \bar{x} + t_{\frac{\alpha}{2}, n-1} \cdot \frac{s}{\sqrt{n}}$$

$$\sigma_p^2 = \frac{P(1-P)}{n}$$

$$S_p^2 = \frac{\bar{P}(1-\bar{P})}{n}$$

$$d = |\bar{P} - p|$$

$$(L, U) = \bar{P} \pm z_{\frac{\alpha}{2}} \sqrt{\frac{\bar{P}(1-\bar{P})}{n}}$$

$$L = \frac{(n-1)S^2}{\chi^2_{\left(\frac{\alpha}{2}, n-1\right)}}$$

$$U = \frac{(n-1)S^2}{\chi^2_{\left(1-\frac{\alpha}{2}, n-1\right)}}$$

$$Z = \frac{\bar{x} - \mu_0}{\frac{s}{\sqrt{n}}}$$

$$T = \frac{\bar{x} - \mu_0}{\frac{s}{\sqrt{n}}}$$

$$Z = \frac{\bar{x}_1 - \bar{x}_2}{\sigma(\bar{x}_1 - \bar{x}_2)}$$

$$\sigma_{(\bar{x}_1 - \bar{x}_2)}^2 = \frac{\sigma_1^2}{n_1} + \frac{\sigma_2^2}{n_2}$$

$$S_p^2 = \frac{(n_1-1)S_1^2 + (n_2-1)S_2^2}{n_1 + n_2 - 2}$$

$$T = \frac{\bar{x}_1 - \bar{x}_2}{S_p \sqrt{\frac{1}{n_1} + \frac{1}{n_2}}}$$

نام درس: آمار و کاربرد آن در مدیریت
 رشته تحصیلی / کد درس: حسابداری (۱۱۱۷۰۱۸)

تعداد سوالات: تستی: ۲۰ تشریحی: ۵
 زمان آزمون (دقیقه): تستی: ۶۰ تشریحی: ۶۰

کد سری سؤال: یک (۱)

استفاده از ماشین حساب

مجاز است.

$$Z = \frac{\bar{P} - P_0}{\sigma_{\bar{P}}}$$

$$\sigma_{\bar{P}} = \sqrt{\frac{P_0 (1 - P_0)}{n}}$$

$$\chi^2 = \frac{(n-1) S^2}{\sigma_0^2}$$

$$SSR = \sum_{i=1}^k \frac{T_i^2}{n} - \frac{T^2}{n}$$

$$SST = \sum_{i=1}^k \sum_{j=1}^n x_{ij}^2 - \frac{T^2}{n}$$

$$SSE = SST - SSR$$

$$T = \sum_{j=1}^n T_j$$

$$MSR = \frac{SSR}{k-1}$$

$$MSE = \frac{SSE}{N-K}$$

$$F = \frac{MSR}{MSE}$$

$$\hat{y} = \hat{\alpha} + \hat{\beta} x$$

$$\hat{\beta} = \frac{S_{xy}}{S_{xx}}$$

$$\hat{\alpha} = \bar{y} - \hat{\beta} \bar{x}$$

$$SSE = S_{yy} - \frac{(S_{xy})^2}{S_{xx}}$$

$$\rho = \frac{\text{cov}(x, y)}{\sigma_x \sigma_y}$$

$$r = \frac{S_{xy}}{\sqrt{S_{xx} S_{yy}}} = \frac{n \sum x_i y_i - \sum x_i \sum y_i}{\sqrt{[n \sum x_i^2 - (\sum x_i)^2][n \sum y_i^2 - (\sum y_i)^2]}}$$

$$S_{YY} = \sum_{i=1}^n y_i^2 - n \bar{y}^2$$

$$S_{XY} = \sum_{i=1}^n x_i y_i - n \bar{x} \bar{y}$$

نام درس: اصول حسابداری ۲

تعداد سوالات: تستی: — تشریحی: ۷

رشته تحصیلی / کد درس: حسابداری ۱۲۱۴۰۱۸ - اقتصاد ۱۲۲۱۰۹۲ - جهانگردی ۱۲۱۴۰۰۳ - صنعتی ۱۲۱۴۰۱۱ زمان آزمون (دقیقه): تستی: — تشریحی: ۱۲۰

دولتی ۱۲۱۴۰۰۵ - بازرگانی ۱۲۱۴۰۶۸ - تجميع: کلیه گرایشهای مدیریت، اقتصاد حسابداری (۱۲۱۴۰۴۵)

مجاز است.

استفاده از: ماشین حساب

کد سری سؤال: یک (۱)

امام خمینی (ره): این محرم و صفر است که اسلام را زنده نگه داشته است.

۱. مانده حساب جاری شماره ۱۲۴ شرکت خزر نزد بانک ملی در تاریخ ۱۳/۶/۳۱ طبق دفاتر شرکت مبلغ ۳۱۸/۰۰۰ ریال و طبق صورت حساب ارسالی بانک مبلغ ۵۴۸/۰۰۰ ریال است.

پس از مطابقت صورت حساب بانک با دفاتر شرکت مغایرات زیر مشخص شده است:

۱. بانک مبلغ ۷۰۰/۰۰۰ ریال از یکی از بدهکاران شرکت وصول نموده ولی شرکت از آن بی اطلاع است.
 ۲. مبلغ ۵۰/۰۰۰ ریال توسط یکی از مشتریان به حساب جاری شرکت حواله شده که در صورت حساب بانک منعکس نیست.
 ۳. بانک مبلغ ۴۸/۰۰۰ ریال واریزی به حساب جاری یک شرکت دیگر را اشتباهاً به حساب شرکت خزر منظور کرده است.
 ۴. مبلغ ۹۰/۰۰۰ ریال سود بابت سرمایه گذاری در سهام به حساب جاری شرکت واریز شده که شرکت از آن بی اطلاع است.
 ۵. مبلغ ۴/۰۰۰ ریال بابت هزینه های بانکی از حساب جاری برداشت شده که در دفاتر شرکت منعکس نیست.
 ۶. دو از فقره چک های صادره شرکت جمعاً به مبلغ ۴۰/۰۰۰ ریال جهت وصول به بانک ارائه نشده است.
 ۷. چک صادره به مبلغ ۴۸/۰۰۰ ریال بابت خرید کالا اشتباهاً به مبلغ ۸۴/۰۰۰ ریال در دفاتر شرکت ثبت شده است.
- مطلوبست تهیه صورت مغایرت بانکی شرکت خزر در تاریخ ۱۳/۶/۳۱. (۳/۵ نمره)

۲. نرخ هر ساعت دستمزد عادی آقای بهاری، یکی از کارکنان شرکت پارس ۲۰/۰۰۰ ریال است. ساعات کار عادی ماهانه شرکت ۱۷۶ ساعت بوده و آقای بهاری در آبان ماه ۱۳۸۰، ۲۲۵ ساعت کار کرده است.

با توجه به اینکه نرخ مالیات ۱۰٪ و نرخ حق بیمه سهم کارگر و کارفرما به ترتیب ۷٪ و ۲۳٪ و قسط ماهانه وام مسکن آقای بهاری ۳۰۰/۰۰۰ ریال است،

مطلوبست: محاسبه حقوق و دستمزد آقای بهاری و ثبت حقوق و دستمزد در دفتر روزنامه شرکت. (۴ نمره)

۳. فروشگاه لوازم اداری سپید در ۱۳۸۰/۶/۱ یک دستگاه کامپیوتر را که بهای تمام شده آن ۶/۰۰۰/۰۰۰ ریال بود به قیمت ۱۰/۰۰۰/۰۰۰ ریال به اقساط مساوی ۱۰ ماهه فروخته است. درآمد (سود ناویژه) سال های ۸۰ و ۸۱ فروشگاه سپید را طبق روش فروش اقساطی تعیین کنید. (۱/۵ نمره)

۴. رستم و سهراب و اسفندیار شرکای یک شرکت تضامنی هستند که به ترتیب به نسبت ۲ و ۲ و ۳ در سود و زیان سهیم اند و سرمایه هر یک به ترتیب ۴/۰۰۰/۰۰۰ و ۵/۰۰۰/۰۰۰ و ۶/۰۰۰/۰۰۰ ریال می باشد. با موافقت شرکاء، اسفندیار با دریافت مبلغ ۶/۸۰۰/۰۰۰ ریال وجه نقد از شرکت خارج گردید.

مطلوبست: ثبت رویداد مالی فوق در دفتر روزنامه شرکت و تعیین مانده حساب سرمایه رستم و سهراب. (۱/۵ نمره)

نام درس: اصول حسابداری ۲

تعداد سوالات: تستی: — تشریحی: ۷

رشته تحصیلی / کد درس: حسابداری ۱۲۱۴۰۱۸ - اقتصاد ۱۲۲۱۰۹۲ - جهانگردی ۱۲۱۴۰۰۳ - صنعتی ۱۲۱۴۰۱۱ زمان آزمون (دقیقه): تستی: — تشریحی: ۱۲۰

دولتی ۱۲۱۴۰۰۵ - بازرگانی ۱۲۱۴۰۶۸ - تجميع: کليه گرايشهاي مدیریت، اقتصاد حسابداری (۱۲۱۴۰۴۵)

مجاز است.

استفاده از: ماشین حساب

کد سری سؤال: یک (۱)

امام خمینی (ع): این محرم و صفر است که اسلام را زنده نگه داشته است.

۱. مانده حساب جاری شماره ۱۲۴ شرکت خزر نزد بانک ملی در تاریخ ۱۳/۶/۳۱ طبق دفاتر شرکت مبلغ ۳۱۸/۰۰۰ ریال و طبق صورت حساب ارسالی بانک مبلغ ۵۴۸/۰۰۰ ریال است.

پس از مطابقت صورت حساب بانک با دفاتر شرکت مغایرات زیر مشخص شده است:

۱. بانک مبلغ ۷۰۰/۰۰۰ ریال از یکی از بدهکاران شرکت وصول نموده ولی شرکت از آن بی اطلاع است.
 ۲. مبلغ ۵۰/۰۰۰ ریال توسط یکی از مشتریان به حساب جاری شرکت حواله شده که در صورت حساب بانک منعکس نیست.
 ۳. بانک مبلغ ۴۸/۰۰۰ ریال واریزی به حساب جاری یک شرکت دیگر را اشتباهاً به حساب شرکت خزر منظور کرده است.
 ۴. مبلغ ۹۰/۰۰۰ ریال سود بابت سرمایه گذاری در سهام به حساب جاری شرکت واریز شده که شرکت از آن بی اطلاع است.
 ۵. مبلغ ۴/۰۰۰ ریال بابت هزینه های بانکی از حساب جاری برداشت شده که در دفاتر شرکت منعکس نیست.
 ۶. دو از فقره چک های صادره شرکت جمعاً به مبلغ ۴۰/۰۰۰ ریال جهت وصول به بانک ارائه نشده است.
 ۷. چک صادره به مبلغ ۴۸/۰۰۰ ریال بابت خرید کالا اشتباهاً به مبلغ ۸۴/۰۰۰ ریال در دفاتر شرکت ثبت شده است.
- مطلوبست تهیه صورت مغایرت بانکی شرکت خزر در تاریخ ۱۳/۶/۳۱. (۳/۵ نمره)

۲. نرخ هر ساعت دستمزد عادی آقای بهاری، یکی از کارکنان شرکت پارس ۲۰/۰۰۰ ریال است. ساعات کار عادی ماهانه شرکت ۱۷۶ ساعت بوده و آقای بهاری در آبان ماه ۱۳۸۰، ۲۲۵ ساعت کار کرده است.

با توجه به اینکه نرخ مالیات ۱۰٪ و نرخ حق بیمه سهم کارگر و کارفرما به ترتیب ۷٪ و ۲۳٪ و قسط ماهانه وام مسکن آقای بهاری ۳۰۰/۰۰۰ ریال است،

مطلوبست: محاسبه حقوق و دستمزد آقای بهاری و ثبت حقوق و دستمزد در دفتر روزنامه شرکت. (۴ نمره)

۳. فروشگاه لوازم اداری سپید در ۱۳۸۰/۶/۱ یک دستگاه کامپیوتر را که بهای تمام شده آن ۶/۰۰۰/۰۰۰ ریال بود به قیمت ۱۰/۰۰۰/۰۰۰ ریال به اقساط مساوی ۱۰ ماهه فروخته است. درآمد (سود ناویژه) سال های ۸۰ و ۸۱ فروشگاه سپید را طبق روش فروش اقساطی تعیین کنید. (۱/۵ نمره)

۴. رستم و سهراب و اسفندیار شرکای یک شرکت تضامنی هستند که به ترتیب به نسبت ۲ و ۲ و ۳ در سود و زیان سهیم اند و سرمایه هر یک به ترتیب ۴/۰۰۰/۰۰۰ و ۵/۰۰۰/۰۰۰ و ۶/۰۰۰/۰۰۰ ریال می باشد. با موافقت شرکاء، اسفندیار با دریافت مبلغ ۶/۸۰۰/۰۰۰ ریال وجه نقد از شرکت خارج گردید.

مطلوبست: ثبت رویداد مالی فوق در دفتر روزنامه شرکت و تعیین مانده حساب سرمایه رستم و سهراب. (۱/۵ نمره)

تعداد سوالات: تستی: — تشریحی: ۷

نام درس: اصول حسابداری ۲

رشته تحصیلی / کد درس: حسابداری ۱۲۱۴۰۱۸ - اقتصاد ۱۲۲۱۰۹۲ - جهانگردی ۱۲۱۴۰۰۳ - صنعتی ۱۲۱۴۰۱۱ زمان آزمون (دقیقه): تستی: — تشریحی: ۱۲۰

دولتی ۱۲۱۴۰۰۵ - بازرگانی ۱۲۱۴۰۶۸ - تجميع: کليه گرايشهای مدیریت، اقتصاد حسابداری (۱۲۱۴۰۴۵)

مجاز است.

استفاده از: ماشین حساب

کد سری سؤال: یک (۱)

۵. نرگس و شقایق شرکای یک شرکت تضامنی به نسبت ۲ و ۳ در سود و زیان سهم بوده و سرمایه هر یک از آنها به ترتیب ۳/۰۰۰/۰۰۰ و ۵/۰۰۰/۰۰۰ ریال می باشد. شرکاء موافقت نمودند که نستر با پرداخت مبلغ ۴/۰۰۰/۰۰۰ ریال به عنوان شریک جدید

وارد شرکت شده و در $\frac{1}{4}$ سرمایه شرکت سهم گردد. و سرقفلی نیز شناسایی گردید.

مطلوبست: انجام ثبت لازم در دفتر روزنامه شرکت. (۱/۵ نمره)

۶. شرکت نارنج در تاریخ ۱۳۸۰/۵/۳ تعداد ۲۰۰۰ سهم ممتاز به ارزش اسمی ۱/۰۰۰ ریالی خود را به ازای هر سهم ۱/۲۰۰ ریال و ۳۰۰۰ سهم عادی به ارزش اسمی ۱/۰۰۰ ریالی خود را به ازای هر سهم ۹۰۰ ریال به طور نقد به فروش رساند.

مطلوبست: الف. ثبت رویداد مالی فوق در دفتر روزنامه شرکت.

ب. تهیه بخش حقوق صاحبان سهام در ترازنامه. (۳ نمره)

۷. سرمایه شرکت دماوند متشکل از ۲۰۰۰ سهم عادی ۱۰۰۰ ریالی و ۱۰۰۰ سهم ممتاز ۱۰٪ ۱/۰۰۰ ریالی است. شرکت دماوند در سالهای X۱ و X۲ سودی بین سهامداران تقسیم نکرده است.

اگر سود سهام اعلام شده برای سال X۳ مبلغ ۶۰۰/۰۰۰ ریال باشد و سهام ممتاز از مجموع بدون سود انباشته (غیر جمع شونده) و با حق مشارکت در کل سود باشد، سود متعلق به سهام ممتاز و عادی را به دست آورید. (۱ نمره)

تعداد سوالات: تستی: — تشریحی: ۷

نام درس: اصول حسابداری ۲

رشته تحصیلی / کد درس: حسابداری ۱۲۱۴۰۱۸ - اقتصاد ۱۲۲۱۰۹۲ - جهانگردی ۱۲۱۴۰۰۳ - صنعتی ۱۲۱۴۰۱۱ زمان آزمون (دقیقه): تستی: — تشریحی: ۱۲۰

دولتی ۱۲۱۴۰۰۵ - بازرگانی ۱۲۱۴۰۶۸ - تجميع: کليه گرايشهای مدیریت، اقتصاد حسابداری (۱۲۱۴۰۴۵)

مجاز است.

استفاده از: ماشین حساب

کد سری سؤال: یک (۱)

۵. نرگس و شقایق شرکای یک شرکت تضامنی به نسبت ۲ و ۳ در سود و زیان سهم بوده و سرمایه هر یک از آنها به ترتیب ۳/۰۰۰/۰۰۰ و ۵/۰۰۰/۰۰۰ ریال می باشد. شرکاء موافقت نمودند که نستر با پرداخت مبلغ ۴/۰۰۰/۰۰۰ ریال به عنوان شریک جدید

وارد شرکت شده و در $\frac{1}{4}$ سرمایه شرکت سهم گردد. و سرقفلی نیز شناسایی گردید.

مطلوبست: انجام ثبت لازم در دفتر روزنامه شرکت. (۱/۵ نمره)

۶. شرکت نارنج در تاریخ ۱۳۸۰/۵/۳ تعداد ۲۰۰۰ سهم ممتاز به ارزش اسمی ۱/۰۰۰ ریالی خود را به ازای هر سهم ۱/۲۰۰ ریال و ۳۰۰۰ سهم عادی به ارزش اسمی ۱/۰۰۰ ریالی خود را به ازای هر سهم ۹۰۰ ریال به طور نقد به فروش رساند.

مطلوبست: الف. ثبت رویداد مالی فوق در دفتر روزنامه شرکت.

ب. تهیه بخش حقوق صاحبان سهام در ترازنامه. (۳ نمره)

۷. سرمایه شرکت دماوند متشکل از ۲۰۰۰ سهم عادی ۱۰۰۰ ریالی و ۱۰۰۰ سهم ممتاز ۱۰٪ ۱/۰۰۰ ریالی است. شرکت دماوند در سالهای X۱ و X۲ سودی بین سهامداران تقسیم نکرده است.

اگر سود سهام اعلام شده برای سال X۳ مبلغ ۶۰۰/۰۰۰ ریال باشد و سهام ممتاز از مجموع بدون سود انباشته (غیر جمع شونده) و با حق مشارکت در کل سود باشد، سود متعلق به سهام ممتاز و عادی را به دست آورید. (۱ نمره)

نام درس: اصول حسابداری (۳)
 رشته تحصیلی / کد درس: تجميع (حسابداری - اقتصاد - کلیه گرایش های مدیریت) ۱۲۱۴۰۷۶
 حسابداری (ستى جبرانی ارشد ۱۲۱۴۰۱۹)
 کد سری سؤال: یک (۱)
 استفاده از: ماشین حساب مجاز است

امام خمینی (ع): این محرم و صفر است که اسلام را زنده نگه داشته است.

۱. شرکت آپادانا دارای شعبه ای در شیراز است که کالا را به قیمت سیاهه (بهای تمام شده + ۲۰٪) برای آن ارسال می کند. خلاصه اطلاعات و رویدادهای شعبه شیراز طی سال ۸۸ به شرح زیر است:

الف. کالای اول دوره ۶۰۰/۰۰۰ ریال به قیمت سیاهه

ب. ارسال کالا به شعبه ۳/۳۰۰/۰۰۰ ریال

ج. برگشت کالا به مرکز ۹۰/۰۰۰

د. فروش نقدی کالا ۴/۲۵۰/۰۰۰ ریال

هـ. برگشت کالای فروخته شده به طور نقد ۱۵۰/۰۰۰ ریال

و. کالای بین راهی پایان دوره ۳۶۰/۰۰۰ ریال

ز. کالای پایان دوره شعبه ۱۸۰/۰۰۰ ریال

ح. پرداخت هزینه ای شعبه توسط اداره مرکزی ۷۵/۰۰۰ ریال

مطلوبست :

انجام ثبت های لازم در دفاتر روزنامه شرکت آپادانا با استفاده از سیستم متمرکز (۴ نمره)
محاسبه سود یا زیان شعبه و بستن حساب های مرتبط با شعبه

۲. با توجه به اطلاعات زیر بخش فعالیت های عملیاتی صورت جریانات نقدی را به روش مستقیم تهیه نمایید. (۱/۵ نمره)

فروش	۱/۷۰۰/۰۰۰	کاهش در حساب های پرداختنی	۸۰/۰۰۰
بهای تمام شده کالای فروش رفته	۱/۲۰۰/۰۰۰	افزایش در هزینه های معوق	۴۵/۰۰۰
هزینه های عملیاتی	۳۵۰/۰۰۰	کاهش در پیش پرداخت هزینه ها	۳۰/۰۰۰
هزینه استهلاک	۷۵/۰۰۰	افزایش در حساب های دریافتنی	۶۰/۰۰۰
افزایش در موجودی کالا	۱۲۰/۰۰۰		

۳. در تاریخ ۸۸/۱۲/۲۹ اطلاعات زیر از دایره سوم تولیدی شرکت پیروز در دست است:
اطلاعات ریالی:

اول دوره	طی دوره
هزینه های انتقالی از دایره (۲)	۲۰۰/۰۰۰ ریال
مواد مستقیم	۵۰/۰۰۰ ریال
تبدیل	۲۵۰/۰۰۰ ریال
	۱۲/۰۰۰/۰۰۰ ریال
	۲/۰۰۰/۰۰۰ ریال
	۷/۶۰۰/۰۰۰ ریال

نام درس: اصول حسابداری (۳)
 رشته تحصیلی / کد درس: تجميع (حسابداری - اقتصاد - کلیه گرایش های مدیریت) ۱۲۱۴۰۷۶
 حسابداری (ستى جبرانی ارشد ۱۲۱۴۰۱۹)
 کد سری سؤال: یک (۱)
 استفاده از: ماشین حساب مجاز است

امام خمینی (ع): این محرم و صفر است که اسلام را زنده نگه داشته است.

۱. شرکت آپادانا دارای شعبه ای در شیراز است که کالا را به قیمت سیاهه (بهای تمام شده + ۲۰٪) برای آن ارسال می کند. خلاصه اطلاعات و رویدادهای شعبه شیراز طی سال ۸۸ به شرح زیر است:

الف. کالای اول دوره ۶۰۰/۰۰۰ ریال به قیمت سیاهه

ب. ارسال کالا به شعبه ۳/۳۰۰/۰۰۰ ریال

ج. برگشت کالا به مرکز ۹۰/۰۰۰

د. فروش نقدی کالا ۴/۲۵۰/۰۰۰ ریال

هـ. برگشت کالای فروخته شده به طور نقد ۱۵۰/۰۰۰ ریال

و. کالای بین راهی پایان دوره ۳۶۰/۰۰۰ ریال

ز. کالای پایان دوره شعبه ۱۸۰/۰۰۰ ریال

ح. پرداخت هزینه ای شعبه توسط اداره مرکزی ۷۵/۰۰۰ ریال

مطلوبست :

انجام ثبت های لازم در دفاتر روزنامه شرکت آپادانا با استفاده از سیستم متمرکز (۴ نمره)
محاسبه سود یا زیان شعبه و بستن حساب های مرتبط با شعبه

۲. با توجه به اطلاعات زیر بخش فعالیت های عملیاتی صورت جریانات نقدی را به روش مستقیم تهیه نمایید. (۱/۵ نمره)

فروش	۱/۷۰۰/۰۰۰	کاهش در حساب های پرداختنی	۸۰/۰۰۰
بهای تمام شده کالای فروش رفته	۱/۲۰۰/۰۰۰	افزایش در هزینه های معوق	۴۵/۰۰۰
هزینه های عملیاتی	۳۵۰/۰۰۰	کاهش در پیش پرداخت هزینه ها	۳۰/۰۰۰
هزینه استهلاک	۷۵/۰۰۰	افزایش در حساب های دریافتنی	۶۰/۰۰۰
افزایش در موجودی کالا	۱۲۰/۰۰۰		

۳. در تاریخ ۸۸/۱۲/۲۹ اطلاعات زیر از دایره سوم تولیدی شرکت پیروز در دست است:
اطلاعات ریالی:

اول دوره	طی دوره
هزینه های انتقالی از دایره (۲)	۲۰۰/۰۰۰ ریال
مواد مستقیم	۵۰/۰۰۰ ریال
تبدیل	۲۵۰/۰۰۰ ریال
	۱۲/۰۰۰/۰۰۰ ریال
	۲/۰۰۰/۰۰۰ ریال
	۷/۶۰۰/۰۰۰ ریال

نام درس: اصول حسابداری (۳)
 رشته تحصيلي / کد درس: تجميع (حسابداری - اقتصاد - کليه گرايش هاى مدیریت) ۱۲۱۴۰۷۶
 حسابداری (ستى - جبرانى ارشد ۱۲۱۴۰۱۹)
 کد سري سؤال: یک (۱) استفاده از: ماشین حساب مجاز است.

اطلاعات مقداری - كيلو:

اول دوره	طى دوره
---	۴۰۰/۰۰۰
۲۵/۰۰۰	۸۰/۰۰۰
۱۰۰٪	۱۰۰٪
۲۰٪	۵۰٪

واحدهای دریافتی از دایره (۲)

کالای در جریان ساخت

درصد تکمیل از لحاظ:

مواد

تبدیل

مطلوبست تهیه گزارش هزینه تولید دایره ۳ طبق روش FIFO (۴ نمره)

۴. شرکت دریا در تاریخ ۸۰/۵/۳۱ معادل ۴۰٪ سهام شرکت فانوس (۱۰۰۰ سهم) را به قیمت هر سهم ۲۳۰۰ ریال خریداری نمود و نیم درصد کمیسیون خرید پرداخت کرد. در ۸۰/۱۲/۲۹ شرکت فانوس ۵۰۰/۰۰۰ ریال سود خالص اعلام کرد. در ۸۱/۴/۳۱ معادل ۴۰۰/۰۰۰ ریال سود نقدی اعلام و ظرف یک ماه پرداخت گردید. در تاریخ ۸۱/۶/۳۱ شرکت دریا کليه سهام خود را به قیمت هر سهم ۲۵۰۰ ریال به فروش رسانید.

مطلوبست انجام ثبتهای لازم در دفاتر شرکت دریا طبق روش ارزش ویژه (۲/۵ نمره)

۵. شرکت هامون دارای ۳ دایره تولیدی است. اطلاعات زیر مربوط به عملیات فروردین ماه دایره دوم است:

کالای در جریان ساخت اول دوره	۲۴۰/۰۰۰ ریال
واحدهای انتقالی از دایره اول	۸۵۰/۰۰۰ ریال
مواد مستقیم مصرفی	۱۸۰/۰۰۰ ریال
دستمزد مستقیم	۳۰۰/۰۰۰ ریال
سربار جذب شده	۱۵۰٪ دستمزد مستقیم
واحدهای تکمیل شده و انتقالی به دایره سوم	۱/۷۵۰/۰۰۰ ریال

مطلوبست:

انجام ثبتهای لازم طبق نظام دائمی بهای تمام شده در دفاتر شرکت هامون و تهیه حساب T برای کالای در جریان ساخت (۲ نمره)

نام درس: اصول حسابداری (۳)
 رشته تحصيلي / کد درس: تجميع (حسابداری - اقتصاد - کليه گرايش هاى مدیریت) ۱۲۱۴۰۷۶
 حسابداری (ستى - جبرانى ارشد ۱۲۱۴۰۱۹)
 کد سري سؤال: یک (۱) استفاده از: ماشین حساب مجاز است.

اطلاعات مقداری - كيلو:

اول دوره	طی دوره
---	۴۰۰/۰۰۰
۲۵/۰۰۰	۸۰/۰۰۰
۱۰۰٪	۱۰۰٪
۲۰٪	۵۰٪

واحدهای دریافتی از دایره (۲)

کالای در جریان ساخت

درصد تکمیل از لحاظ:

مواد

تبدیل

مطلوبست تهیه گزارش هزینه تولید دایره ۳ طبق روش FIFO (۴ نمره)

۴. شرکت دریا در تاریخ ۸۰/۵/۳۱ معادل ۴۰٪ سهام شرکت فانوس (۱۰۰۰ سهم) را به قیمت هر سهم ۲۳۰۰ ریال خریداری نمود و نیم درصد کمیسیون خرید پرداخت کرد. در ۸۰/۱۲/۲۹ شرکت فانوس ۵۰۰/۰۰۰ ریال سود خالص اعلام کرد. در ۸۱/۴/۳۱ معادل ۴۰۰/۰۰۰ ریال سود نقدی اعلام و ظرف یک ماه پرداخت گردید. در تاریخ ۸۱/۶/۳۱ شرکت دریا کليه سهام خود را به قیمت هر سهم ۲۵۰۰ ریال به فروش رسانید.

مطلوبست انجام ثبتهای لازم در دفاتر شرکت دریا طبق روش ارزش ویژه (۲/۵ نمره)

۵. شرکت هامون دارای ۳ دایره تولیدی است. اطلاعات زیر مربوط به عملیات فروردین ماه دایره دوم است:

کالای در جریان ساخت اول دوره	۲۴۰/۰۰۰ ریال
واحدهای انتقالی از دایره اول	۸۵۰/۰۰۰ ریال
مواد مستقیم مصرفی	۱۸۰/۰۰۰ ریال
دستمزد مستقیم	۳۰۰/۰۰۰ ریال
سربار جذب شده	۱۵۰٪ دستمزد مستقیم
واحدهای تکمیل شده و انتقالی به دایره سوم	۱/۷۵۰/۰۰۰ ریال

مطلوبست:

انجام ثبتهای لازم طبق نظام دائمی بهای تمام شده در دفاتر شرکت هامون و تهیه حساب T برای کالای در جریان ساخت (۲ نمره)

تعداد سوالات: تستی: ۳۰ تشریحی: --

زمان آزمون (دقیقه): تستی: ۶۰ تشریحی: --

نام درس: زبان تخصصی ۱

رشته تحصیلی / کد درس: حسابداری - ۱۲۱۴۰۲۰

مجاز است.

استفاده از: --

کد سری سؤال: یک (۱)

امام خمینی (ره): این محرم و صفر است که اسلام را زنده نگه داشته است.

- The primary means of communicating important accounting information to users is called financial
a. conventions b. copyrights
c. liabilities d. statements
- An economic entity is a unit that exists – for example a business, a hospital or a government body.
a. unusually b. dependently c. independently d. invisibly
- Financial accounting generates report. "Generates" means
a. rejects b. deletes c. prevents d. produces
- A code of conduct that addresses whether everyday actions are right or wrong is called
a. ethics b. principles c. auditing d. equities
- Financial accounting uses measures to gauge the impact of business transactions on separate business entities.
a. estimated b. credit c. money d. income
- Having enough funds on hand to pay debts when they are due is called
a. partnership b. liquidity c. bookkeeping d. profitability
- A business owned by two or more people is called
a. venture b. operation
c. profitability d. partnership
- Every company has two types of equities: creditor's equities and equities.
a. owner's b. debtor's c. seller's d. buyer's
- When revenues exceed expenses, the difference is called
a. net loss b. net income c. net expenses d. net cost
- The word refers to honesty candidness and the subordination of personal gain to service and the public trust.
a. integrity b. enterprise
c. profession d. component

تعداد سوالات تستی: ۳۰ تشریحی: --

زمان آزمون (دقیقه): تستی: ۶۰ تشریحی: --

نام درس: زبان تخصصی ۱

رشته تحصیلی / کد درس: حسابداری - ۱۲۱۴۰۲۰

مجاز است.

استفاده از: --

کد سری سؤال: یک (۱)

11. The general is the file that contains all of a company's accounts arranged in order.
a. ledger b. credit c. issue d. care
12. The assets that the owner takes out of business are called
a. net losses b. net assets
c. owner's withdrawals d. owner's investments
13. The system which is the backbone of accounting evolved during the renaissance.
a. no - entry b. any - entry
c. one - entry d. double - entry
14. An account has three parts: a title, a left side, and a right side which is called the side.
a. credit b. loss c. cost d. debit
15. The general journal is used to record the details of each
a. purchase b. transaction
c. translation d. transportation
16. The word "profit" means the in owner's equity that results from business operations.
a. losses b. increases c. decreases d. debts
17. The nominal accounts, or accounts, show the accumulation of revenues and expenses over one accounting period.
a. natural b. tangible c. temporary d. total
18. The place where transactions first enter the accounting records is journal which is also called the book of entry.
a. late b. unusual c. original d. foreign
19. Many businesses last less than five years. "Last" means
a. continue b. stop c. reduce d. finish
20. Deferrals are used in two instances. "Instances" means
a. cases b. firms c. losses d. receipts
21. In this company cash payments are likely to be less than the expenses. "likely" means
a. real b. invisible c. probable d. impossible

تعداد سوالات: تستی: ۳۰ تشریحی: --

زمان آزمون (دقیقه): تستی: ۶۰ تشریحی: --

نام درس: زبان تخصصی ۱

رشته تحصیلی / کد درس: حسابداری - ۱۲۱۴۰۲۰

مجاز است.

استفاده از: --

کد سری سؤال: یک (۱)

22. The decreases in owner's equity resulting from the costs of goods and services used up in the course of earning revenues are called

- a. losses b. expenses c. profits d. values

23. The difficulty associated with not knowing how long a business entity will survive is called.....

- a. contra account b. carrying value
c. adjusting entry d. continuity issue

24. The term "materiality" refers to the relative of an item or event.

- a. comparability b. uselessness
c. association d. importance

25. The amount in the financial statements are affected by the date on which a purchase is recorded. "Date" means

- الف. روز ب. تاریخ ج. ماه د. سال

26. The classification issue has to do with assigning all the transactions in which a business engages to appropriate categories, or accounts." Classification" means

- الف. محتویات ب. مسیر ج. طبقه بندی د. طبقه بالا

27. Transactions are recorded in chronological order in a journal. "chronological" means

- الف. مالی ب. مکانی ج. زمانی د. جغرافیایی

28. Accountants have developed a number of methods for estimating depreciation. " Estimating" means

- الف. تخمین زدن ب. محاسبه کردن ج. اجتناب کردن د. اضافه کردن

29. Current assets are cash or other assets that are expected to be realized in cash, sold or consumed within the next year." Current assets" means

- الف. دارایی جاری ب. دارایی صحیح ج. اجرای دارایی د. صحت دارایی

نام درس: زبان تخصصی ۱

رشته تحصیلی / کد درس: حسابداری - ۱۲۱۴۰۲۰

تعداد سوالات: تستی: ۳۰ تشریحی: —

زمان آزمون (دقیقه): تستی: ۶۰ تشریحی: —

کد سری سؤال: یک (۱)

استفاده از: —

مجاز است.

30. Intangible assets are long- term assets that have no physical substance. "Intangible" means

.....

د. نامشخص

ج. غیر تجاری

ب. نامشهود

الف. غیر قابل حساب

www.Sanjesh3.com

نام درس: حسابداری صنعتی ۱
 رشته تحصیلی / کد درس: حسابداری (ستى ۱۲۱۴۰۲۱) - بازرگانی (ستى ۱۲۱۴۰۶۹) - صنعتی (ستى ۱۲۱۴۰۱۲) زمان آزمون (دقیقه): ستى: — تشریحی: ۱۵۰
 تجميع (حسابداری، بازرگانی، صنعتی، دولتی، جهانگردی، اقتصاد) ۱۲۱۴۰۳۸
 کد سري سؤال: یک (۱) استفاده از: ماشین حساب مجاز است.

امام خمینی (ره): این محرم و صفر است که اسلام را زنده نگه داشته است.

۱. اطلاعات زیر در ارتباط با عملیات سال مالی منتهی به ۸۷/۱۲/۲۹ شرکت تولیدی احسان در دست است:

مواد مستقیم مصرفی طی دوره ۳۰/۰۰۰ ریال
 دستمزد مستقیم ۸۰/۰۰۰ ریال
 مواد غیر مستقیم ۲۰/۰۰۰ ریال
 استهلاك ماشین آلات تولیدی ۱۰/۰۰۰ ریال
 دستمزد غیر مستقیم ۲۰/۰۰۰ ریال
 سایر هزینه های تولیدی ۶۰/۰۰۰ ریال
 در طی دوره مالی شرکت تولیدی احسان نصیبت به تولید ۴۰ واحد کالا اقدام نموده و کلیه کالاها به صورت ۱۰۰٪ تکمیل شده‌اند هیچ‌گونه کالای در جریان ساخت اول دوره نیز وجود نداشته است در طی دوره مالی ۳۰ واحد کالا به مبلغ ۲۴۰/۰۰۰ ریال به فروش رسیده است و همچنین ۴ واحد کالا در انبار شرکت بر اثر آب گرفتگی از بین رفته است و ما بقی در انبار محصول موجود است. مطلوب است محاسبه بهای اولیه، بهای تبدیل و بهای تمام شده محصول و همچنین محاسبه زیان و هزینه دوره مالی. (۱/۵ نمره)

۲. اطلاعات زیر در ارتباط با مانده بعضی از حسابهای سال مالی منتهی به ۸۷/۱۲/۲۹ شرکت تولیدی باران در دست است این شرکت از سیستم ادواری جهت محاسبه بهای تمام شده استفاده می نماید مطلوب است تهیه صورت حسابهای تمام شده کالای ساخته شده و فروش رفته. (۴ نمره)

موجودی مواد اول دوره ۲۰/۰۰۰ ریال
 موجودی کالای در جریان ساخت اول دوره ۱۵/۰۰۰ ریال
 موجودی کالای ساخته شده اول دوره ۲۰/۰۰۰ ریال
 خرید مواد ۴۰۰/۰۰۰ ریال
 هزینه حمل و عوارض مواد خریداری شده ۲۰/۰۰۰ ریال
 برگشت از خرید و تخفیفات ۱۵/۰۰۰ ریال
 هزینه دستمزد مستقیم ۵۰۰/۰۰۰ ریال
 کنترل سربار ۳۰۰/۰۰۰ ریال
 موجودی مواد آخر دوره ۳۰/۰۰۰ ریال
 موجودی کالای در جریان ساخت آخر دوره ۲۰/۰۰۰ ریال
 فروش ۸۰۰/۰۰۰ ریال
 هزینه های عمومی و اداری و فروش ۳۰۰/۰۰۰ ریال
 موجودی کالای ساخته شده آخر دوره ۱۰/۰۰۰ ریال

نام درس: حسابداری صنعتی ۱
 رشته تحصیلی / کد درس: حسابداری (ستى ۱۲۱۴۰۲۱) - بازرگانی (ستى ۱۲۱۴۰۶۹) - صنعتی (ستى ۱۲۱۴۰۱۲) زمان آزمون (دقیقه): ستى: — تشریحی: ۱۵۰
 تجميع (حسابداری، بازرگانی، صنعتی، دولتی، جهانگردی، اقتصاد) ۱۲۱۴۰۳۸
 کد سری سؤال: یک (۱) استفاده از: ماشین حساب مجاز است.

۳. اطلاعات زیر در ارتباط با عملیات مالی مربوط به یک شرکت تولیدی در دست است:

شرح	تعداد	بهای تمام شده
موجودی مواد اول دوره	۵۰۰	۵۰/۰۰۰
خرید مواد نقدی ۲/۸	۲۰۰۰	۲۴۰/۰۰۰
فروش نقدی مواد ۲/۱۰ به مبلغ ۸۰/۰۰۰ ریال	۵۰۰	؟
فاسد شدن مواد ۲/۱۵	۲۵۰	؟
خرید نسبه مواد ۲/۱۸	۱۰۰۰	۱۵۰/۰۰۰
ارسال به خط تولید ۲/۱۹	۱۰۰۰	؟
خرید مواد نسبه ۲/۲۵	۱۰۰۰	۱۶۰/۰۰۰
برگشت از خرید از محل خرید ۲/۲۵	۱۰۰	؟
ارسال به خط تولید ۲/۳۰	۸۰۰	؟

مطلوبست: انجام ثبت‌های لازم حسابداری طبق روش LIFO (در صورتیکه شرکت فوق از سیستم دائمی جهت محاسبه بهای تمام شده استفاده نماید و همچنین موجودی مواد پایان دوره. (۲/۵ نمره)

نام درس: حسابداری صنعتی ۱
 رشته تحصیلی / کد درس: حسابداری (ستتی ۱۲۱۴۰۲۱) - بازرگانی (ستتی ۱۲۱۴۰۶۹) - صنعتی (ستتی ۱۲۱۴۰۱۲) زمان آزمون (دقیقه): تستی: -- تشریحی: ۱۵۰
 تجميع (حسابداری، بازرگانی، صنعتی، دولتی، جهانگردی، اقتصاد) ۱۲۱۴۰۳۸
 کد سری سؤال: یک (۱)
 استفاده از: ماشین حساب
 مجاز است.

۴. شرکت آسانسور سازی الکتروآسانسور جهت محاسبه بهای تمام شده پروژه های خود از سیستم هزینه یابی سفارش کار استفاده می نماید مانده برخی از حسابها در رابطه با پروژه های این شرکت در اول سال ۸۷ به شرح ذیل است:

شرح	مانده - ریال
موجودی مواد مستقیم	۱/۰۰۰/۰۰۰
کار در جریان پروژه اصفهان	۱/۷۰۰/۰۰۰
کار در جریان پروژه شیراز	۲/۸۰۰/۰۰۰
رویدادهای زیر در سال مالی منتهی به ۸۷/۱۲/۲۹ جهت شرکت الکترو آسانسور به وقوع پیوسته است.	
خرید مصالح و مواد مستقیم به صورت نقد ۲/۵۰۰/۰۰۰ ریال.	
شرح	دستمزد مستقیم
کار در جریان پروژه - اصفهان	۳۰۰/۰۰۰
کار در جریان پروژه - شیراز	۳۵۰/۰۰۰
کار در جریان پروژه - مشهد	۳۵۰/۰۰۰
هزینه های سربار انجام شده عبارت است از:	
دستمزد غیر مستقیم	۱۵۰/۰۰۰ ریال
بیمه منقضي شده	۲۵۰/۰۰۰ ریال
استهلاک ماشین آلات	۴۰۰/۰۰۰ ریال

سربار بر اساس ۸۰٪ هزینه دستمزد مستقیم جذب می شود سفارشهای مربوط به اصفهان و مشهد تکمیل و به ترتیب به مبلغ ۳/۰۰۰/۰۰۰ ریال و ۴/۰۰۰/۰۰۰ ریال تحویل مشتری می گردند مطلوب است ثبت کلیه عملیات در دفتر روزنامه. (۳۵ نمره)

۵. اطلاعات زیر از دایره دوم خط تولید شرکت ایمن تک در دست است
 کالای در جریان ساخت اول دوره شامل ۱/۵۰۰ واحد ۶۰٪ تکمیل
 واحد های انتقالی از دایره اول ۸/۵۰۰ واحد
 کالای در جریان ساخت پایان دوره ۱/۰۰۰ واحد ۵۰٪ تکمیل
 در دایره دوم دو نوع مواد به محصول اضافه می شود مواد نوع الف در نقطه ۴۰٪ و مواد نوع ب در نقطه ۷۵٪ و هزینه تبدیل به طور یکنواخت به محصول اضافه می شوند
 مطلوب است تهیه جدول آحاد و مقداری تولید برای شرکت ایمن تک طبق روش fifo. (۲/۵ نمره)

تعداد سوالات: تستی: ۲۵ تشریحی: ۲
 زمان آزمون (دقیقه): تستی: ۷۵ تشریحی: ۴۵

نام درس: حسابداری میانه ۱
 رشته تحصیلی / کد درس: حسابداری ۱۲۱۴۰۲۲

مجاز است.

ماشین حساب

استفاده از:

کد سری سؤال: یک (۱)

امام خمینی (ع): این محرم و صفر است که اسلام را زنده نگه داشته است.

* با توجه به اطلاعات زیر به سؤالات ۱ الی ۴ پاسخ دهید.

شرکت چالوس در ابتدای سال ۸۰ زمینی را به مبلغ ۴۰ میلیون ریال خریداری نمود. مبلغ تجدید ارزیابی در پایان سال ۸۳ و پایان سال ۸۷ به ترتیب ۳۵ میلیون ریال و ۴۸ میلیون ریال می باشد.

۱. در پایان سال ۸۳ سود انباشته چند ریال بابت رویداد فوق تحت تأثیر قرار می گیرد؟

الف. ۳۵ میلیون ب. ۴۰ میلیون ج. ۵ میلیون د. صفر

۲. در پایان سال ۸۷ سود انباشته چند ریال بابت رویداد فوق تحت تأثیر قرار می گیرد؟

الف. ۱۳ میلیون ب. ۵ میلیون ج. ۸ میلیون د. ۴۸ میلیون

۳. در پایان سال ۸۷ مازاد تجدید ارزیابی چند ریال شناسایی می شود؟

الف. ۸ میلیون ب. ۵ میلیون ج. ۱۳ میلیون د. ۴۸ میلیون

۴. حقوق صاحبان سهام در پایان سال ۸۷ بابت این رویداد چه تغییری می کند؟

الف. ۸ میلیون ب. ۵ میلیون ج. ۱۳ میلیون د. تغییری نمی کند

* شرکت نوشهر و محمودآباد دارائی خود را به شرح زیر با یکدیگر معاوضه کرده اند:

شرکت نوشهر		شرکت محمودآباد	
ماشین آلات	۱۰۰ ریال	ساختمان	۹۵ ریال
استهلاک انباشته	۲۵ ریال	استهلاک انباشته	۴۰ ریال
ارزش منصفانه	۸۰ ریال	ارزش منصفانه	۷۰ ریال

به سؤالات ۵ الی ۸ پاسخ دهید:

۵. بهای تمام شده ماشین آلات تحصیلی برای شرکت محمودآباد چند ریال می باشد؟

الف. ۸۰ ریال ب. ۷۰ ریال ج. ۹۰ ریال د. ۱۰۰ ریال

۶. سرک نقدی چند ریال است و پرداخت کننده کدام شرکت است؟

الف. ۱۰ ریال نوشهر ب. ۱۰ ریال محمودآباد ج. ۵ ریال نوشهر د. ۵ ریال محمودآباد

۷. سود و زیان شرکت نوشهر چند ریال است؟

الف. ۲۰ ریال زیان ب. ۲۰ ریال سود ج. ۵ ریال زیان د. ۵ ریال سود

۸. سود و زیان شرکت محمودآباد چند ریال است؟

الف. ۲۵ ریال زیان ب. ۲۵ ریال سود ج. ۱۵ ریال زیان د. ۱۵ ریال سود

تعداد سوالات: تستی: ۲۵ تشریحی: ۲
 زمان آزمون (دقیقه): تستی: ۷۵ تشریحی: ۴۵

نام درس: حسابداری میانه ۱
 رشته تحصیلی / کد درس: حسابداری ۱۲۱۴۰۲۲

کد سری سؤال: یک (۱) استفاده از: ماشین حساب مجاز است.

۹. کدامیک از مفاهیم زیر جزء اصول و میثاقهای تعدیل کننده حسابداری می باشد؟

الف. احتیاط ب. افشاء ج. تحقق درآمد د. بهای تمام شده

۱۰. ویژگی قابلیت اتکاء مبتنی بر کدام یک از مفاهیم زیر نمی باشد؟

الف. بی طرفانه بودن ب. رجحان محتوا بر شکل

ج. کامل بودن د. به موقع بودن

۱۱. ایجاد ذخیره کاهش ارزش موجودی در پایان سال براساس کدام مفهوم در حسابداری است؟

الف. تحقق درآمد ب. محافظه کاری ج. بهای تمام شده د. افشاء

۱۲. نتیجه کدام فرض جریان بها در روش دائمی و ادواری یکسان است؟

الف. میانگین موزون متحرک ب. میانگین موزون

ج. Lifo د. Fifo

* اطلاعات زیر مربوط به موجودی های شرکت رامس می باشد:

سال	بهای تمام شده	ارزش بازار
۱۳۸۰	۴۰	۳۸
۱۳۸۱	۵۰	۵۱
۱۳۸۲	۵۵	۴۹

* اگر مانده ذخیره کاهش ارزش موجودی در ابتدای سال ۱۳۸۰ به مبلغ ۵ ریال باشد به سوالات ۱۳ الی ۱۷ پاسخ دهید.

۱۳. مانده ذخیره در پایان سال ۱۳۸۰ چند ریال می باشد؟

الف. ۲ ریال ب. ۵ ریال ج. ۷ ریال د. ۳ ریال

۱۴. هزینه کاهش ارزش در پایان سال ۱۳۸۰ چند ریال می باشد؟

الف. صفر ریال ب. ۲ ریال ج. ۵ ریال د. ۳ ریال

۱۵. مانده ذخیره در پایان سال ۱۳۸۱ چند ریال است؟

الف. ۲ ریال ب. ۵ ریال ج. صفر د. ۱ ریال

۱۶. درآمد بازیافت کاهش ارزش موجودی در پایان سال ۱۳۸۱ چند ریال است؟

الف. ۷ ریال ب. ۵ ریال ج. ۲ ریال د. ۱ ریال

۱۷. هزینه کاهش ارزش موجودی در پایان سال ۱۳۸۲ چند ریال است؟

الف. ۲ ریال ب. ۶ ریال ج. ۵ ریال د. ۷ ریال

۱۸. در صورت گردش وجوه نقد، پرداخت حقوق به کارکنان، در کدام طبقه قرار می گیرد؟

الف. تأمین مالی ب. بازده سرمایه گذاریها و سود پرداختی بابت تأمین مالی

ج. سرمایه گذاری د. عملیاتی

تعداد سوالات: تستی: ۲۵ تشریحی: ۲
 زمان آزمون (دقیقه): تستی: ۷۵ تشریحی: ۴۵

نام درس: حسابداری میانه ۱
 رشته تحصیلی / کد درس: حسابداری ۱۲۱۴۰۲۲

کد سری سؤال: یک (۱) استفاده از: ماشین حساب مجاز است.

۱۹. انتشار سهام و خرید اوراق مشارکت به ترتیب در کدام سر فصل صورت گردش وجوه نقد ارائه می شود؟
- الف. تأمین مالی - تأمین مالی
 ب. سرمایه گذاری - سرمایه گذاری
 ج. تأمین مالی - سرمایه گذاری
 د. سرمایه گذاری - تأمین مالی
۲۰. کدام گزینه از صورتهای مالی اساسی نمی باشد؟
- الف. ترازنامه
 ب. صورت سود و زیان جامع
 ج. صورت سود و زیان انباشته
 د. یادداشت های توضیحی
۲۱. شرکت الف جهت تحصیل ماشین آلات تعداد ۱۰/۰۰۰ سهم عادی ۱/۰۰۰ ریالی که در بورس اوراق بهادار هر سهم ۱۸۰۰ ریال معامله می شود را صادر نموده است. ارزش دفتری ماشین آلات در دفتر فروشنده ۱۴/۰۰۰/۰۰۰ ریال و قیمت درخواستی وی ۱۹/۰۰۰/۰۰۰ ریال می باشد. حقوق صاحبان سهام بابت این رویداد چند ریال افزایش می یابد؟
- الف. ۱۹/۰۰۰/۰۰۰ ریال
 ب. ۱۰/۰۰۰/۰۰۰ ریال
 ج. ۱۸/۰۰۰/۰۰۰ ریال
 د. ۱۴/۰۰۰/۰۰۰ ریال
۲۲. کدام روش استهلاك مبتنی بر زمان نمی باشد؟
- الف. خط مستقیم
 ب. مجموع سنوات
 ج. نزولی مضاعف
 د. آحاد تولید
۲۳. کدام روش استهلاك جزء روشهای شتابدار نمی باشد؟
- الف. مجموع سنوات
 ب. آحاد تولید
 ج. نزولی مضاعف
 د. نزولی مضاعف
۲۴. مانده ذخیره مطالبات مشکوک الوصول در ابتدای سال ۱۰۰۰ ریال می باشد. در طی سال ۲۰۰ ریال از مطالبات از حسابها حذف شد. شرکت ۲٪ از حسابهای دریافتنی را به عنوان ذخیره منظور می کند. اگر مانده ذخیره بعد از اصلاحات ۱۱۰۰ ریال باشد، مبلغ حسابهای دریافتنی در پایان سال چند ریال است؟
- الف. ۵۰/۰۰۰ ریال
 ب. ۵۵/۰۰۰ ریال
 ج. ۴۰/۰۰۰ ریال
 د. ۶۰/۰۰۰ ریال
۲۵. مانده ذخیره مطالبات قبل از اصلاحات پایان سال ۱۰/۰۰۰ ریال بدهکار می باشد. اگر شرکت ۲۵٪ از حسابهای دریافتنی به مبلغ ۲/۰۰۰/۰۰۰ ریال را به عنوان ذخیره مطالبات مشکوک الوصول منظور کند. هزینه مطالبات مشکوک الوصول چند ریال است؟
- الف. ۶۰/۰۰۰ ریال
 ب. ۵۰/۰۰۰ ریال
 ج. ۴۰/۰۰۰ ریال
 د. ۱۰/۰۰۰ ریال

تعداد سوالات: تستی: ۲۵ تشریحی: ۲
 زمان آزمون (دقیقه): تستی: ۷۵ تشریحی: ۴۵

نام درس: حسابداری میانه ۱
 رشته تحصیلی / کد درس: حسابداری ۱۲۱۴۰۲۲

مجاز است.

ماشین حساب

استفاده از:

کد سری سؤال: یک (۱)

« سوالات تشریحی »

۱. شرکت بتا جهت خرید گروه دارائی‌های ثابت شرکت آلفا ۸۰۰ ریال نقداً پرداخت نمود. جهت ارزیابی دارائی‌ها مبلغ ۲۰ ریال به کارشناس رسمی دادگستری پرداخت شد. قیمت‌های کارشناسی به شرح زیر است:

دارائی	مبلغ
زمین	۵۰۰
ساختمان	۳۰۰
ماشین‌آلات	۲۰۰

مطلوبست انجام ثبت لازم بابت تحصیل (۲/۵ نمره)

۲. اطلاعات زیر مربوط به شرکت تهران است:

شرکت تهران

صورت سود و زیان

برای سال منتهی به ۱۳۸۸/۱۲/۲۹

۱۳۸۸/۱۲/۲۹	۱۳۸۷/۱۲/۲۹	شرح حساب	
۲/۱۰۰	۲/۰۰۰	حسابهای دریافتنی	
۷۶۰	۸۰۰	حسابهای پرداختنی	
۵۲۰	۵۰۰	پیش دریافت	۱۰۰/۰۰۰ فروش
۴۳۵	۴۵۰	پیش پرداخت	(۵۰/۰۰۰) بهای تمام شده کالای فروش رفته
۹۵۰	۱۰۰۰	استهلاک انباشته	۵۰/۰۰۰ سود ناویژه عملیاتی
۶۲۵	۶۰۰	موجودی کالا	(۳۰/۰۰۰) هزینه‌های عملیاتی
۱۶۰	۱۵۰	هزینه‌های پرداختنی	۲۰/۰۰۰ سود ویژه عملیاتی
			سایر درآمدها و هزینه‌ها
			سود قبل از مالیات
			مالیات
			سود خالص

سایر اطلاعات: ۱. در طی سال دارائی ثابتی به ارزش دفتری ۸۰۰ و بهای تمام شده ۱۰۰۰ ریال با ۵۰ ریال زیان به فروش رسید.

۲. سود سهام تقسیم شده ۲/۲۵۰ ریال می‌باشد.

مطلوبست: تهیه اطلاعات مربوط به گردش وجوه نقد فعالیت‌های عملیاتی به روش غیر مستقیم (۴ نمره)

نام درس: حسابداری میانه ۲
 رشته تحصیلی / کد درس: حسابداری (تجمیع ۱۲۱۴۱۱۰ - سنتی، جبرانی ارشد ۱۲۱۴۰۲۳)
 تعداد سوالات: تستی: ۱۵ تشریحی: ۴
 زمان آزمون (دقیقه): تستی: ۸۰ تشریحی: ۱۰۰

کد سری سؤال: یک (۱) استفاده از: ماشین حساب مجاز است.

امام خمینی (ره)، این محرم و صفر است که اسلام را زنده نگه داشته است.

۱. شرکت لاله اقدام به بازخرید و ابطال تعداد ۲۰۰۰ سهم از کل ۱۰/۰۰۰ سهم ممتاز پنج هزار ریالی منتشر شده خود به قیمت هر سهم ۵/۵۰۰ ریال نمود. سهام مزبور قبلاً با صرف ۲۰ درصد نسبت به ارزش اسمی منتشر شده بود. از بابت بازخرید سهام ممتاز لازم است:

الف. مازاد بازخرید و ابطال سهام ممتاز ۱/۰۰۰/۰۰۰ ریال بستانکار گردد.

ب. سود باز خرید سهام ممتاز معادل ۱/۰۰۰/۰۰۰ ریال بستانکار شود.

ج. سود (زیان) انباشته به مبلغ ۱/۰۰۰/۰۰۰ ریال بستانکار شود.

د. صرف سهام ممتاز معادل ۱/۰۰۰/۰۰۰ ریال بستانکار شود.

۲. کدامیک از جملات زیر در رابطه با سود سهمی صحیح است:

الف. توزیع سود سهمی باعث تغییر در جمع حقوق صاحبان سهام می شود.

ب. توزیع سود سهمی باعث تغییر در ارزش اسمی هر سهم می شود.

ج. توزیع سود سهمی باعث تغییر در ترکیب حقوق صاحبان سهام می شود.

د. سود سهمی اعلام شده به عنوان یک بدهی تلقی می شود.

۳. با توجه به اطلاعات زیر، مبلغی را که باید به عنوان جریان نقدی ورودی در بخش فعالیت های سرمایه گذاری صورت جریان های نقد نشان داده شود را محاسبه نمایید؟

ب. ۱/۱۰۰/۰۰۰

الف. ۱/۸۰۰/۰۰۰

د. ۲/۱۰۰/۰۰۰

ج. ۱/۹۰۰/۰۰۰

۸۸/۱۲/۲۹

۸۷/۱۲/۲۹

۶/۰۰۰/۰۰۰

۵/۰۰۰/۰۰۰

بهای تمام شده ماشین آلات

۲/۰۰۰/۰۰۰

۱/۵۰۰/۰۰۰

استهلاک انباشته

۳/۰۰۰/۰۰۰

پرداختی بابت خرید ماشین آلات

۴۰۰/۰۰۰

سود فروش ماشین آلات

۱/۰۰۰/۰۰۰

هزینه استهلاک ماشین آلات

نام درس: حسابداری میانه ۲
 رشته تحصیلی / کد درس: حسابداری (تجمیع ۱۲۱۴۱۱۰ - سنتی، جبرانی ارشد ۱۲۱۴۰۲۳)
 تعداد سوالات: تستی: ۱۵ تشریحی: ۴
 زمان آزمون (دقیقه): تستی: ۸۰ تشریحی: ۱۰۰

کد سری سؤال: یک (۱) استفاده از: ماشین حساب مجاز است.

۴. اطلاعات زیر در دست است:

سود ویژه عملیاتی	۷۰۰/۰۰۰
هزینه استهلاک	۸۰/۰۰۰
کاهش پیش پرداخت بیمه	۵۰/۰۰۰
افزایش موجودی کالا	۱۵۰/۰۰۰
افزایش حسابهای پرداختنی عملیاتی	۶۰/۰۰۰
کاهش حسابهای دریافتنی عملیاتی	۴۰/۰۰۰
کاهش بهره پرداختنی	۳۰/۰۰۰

با توجه به اطلاعات فوق، وجه نقد حاصل از عملیات عبارت خواهد بود از:

الف. ۷۱۰/۰۰۰ ریال	ب. ۸۱۰/۰۰۰ ریال
ج. ۸۴۰/۰۰۰ ریال	د. ۷۸۰/۰۰۰ ریال

۵. اطلاعات زیر در رابطه با فعالیت های تأمین مالی یک شرکت در دست است:

سهام عادی	۸۷/۱۲/۲۹	۸۸/۱۲/۲۹
صرف سهام عادی	۸/۰۰۰/۰۰۰	۱۰/۰۰۰/۰۰۰
	۲/۰۰۰/۰۰۰	۳/۰۰۰/۰۰۰

در طی سال سهام جایزه ای به ارزش اسمی ۱/۰۰۰/۰۰۰ ریال با ۲۵ درصد صرف منتشر گردید.

با توجه به اطلاعات داده شده بشرح زیر وجه حاصل از انتشار سهام به چه مبلغی باید در صورت جریان های نقدی نشان داده شود:

الف. ۳/۰۰۰/۰۰۰	ب. ۲/۰۰۰/۰۰۰	ج. ۱/۲۵۰/۰۰۰	د. ۱/۷۵۰/۰۰۰
----------------	--------------	--------------	--------------

۶. کدام یک از گزینه های زیر در رابطه با جایگاه اقلام عنوان شده، در صورت جریان های نقدی صحیح است:

فعالیت های عملیاتی	بازده سرمایه گذاری و پرداختی	فعالیت تامین مالی
الف پرداخت بهره	دریافت سود سهام	اعطای وام
ب دریافت بهره	پرداخت سود سهام	دریافت اجاره
ج پرداخت اجاره	دریافت سود سهام	پرداخت مالیات
د بازخرید کارکنان	پرداخت بهره اوراق قرضه	دریافت وام

نام درس: حسابداری میانه ۲
 رشته تحصیلی / گد درس: حسابداری (تجمیع ۱۲۱۴۱۱۰ - سنتی، جبرانی ارشد ۱۲۱۴۰۲۳)
 تعداد سوالات: تستی: ۱۵ تشریحی: ۴
 زمان آزمون (دقیقه): تستی: ۸۰ تشریحی: ۱۰۰

مجاز است.

ماشین حساب

استفاده از:

گد سری سؤال: یک (۱)

۷. اوراق قرضه منتشر شده شرکت مازندران شامل ۳۰۰۰ برگ به ارزش اسمی هر برگ ۵۰۰۰ ریال و مانده صرف مستهلک نشده ۹۰۰/۰۰۰ ریال که هر برگ، قابل تبدیل به ۲ سهم عادی هزار ریالی به ارزش بازار هر سهم ۳۰۰۰ ریال می باشد. در صورتی که تعداد ۱۰۰۰ برگ به سهام عادی تبدیل شود و با فرض استفاده از روش ارزش بازار، کدام گزینه صحیح نمی باشد:

الف. سود تبدیل ۷۰۰/۰۰۰ ریال بستانکار می شود.

ب. صرف سهام عادی ۴/۰۰۰/۰۰۰ ریال بستانکار می شود.

ج. صرف اوراق قرضه ۳۰۰/۰۰۰ ریال بدهکار می شود.

د. سهام عادی ۲/۰۰۰/۰۰۰ ریال بستانکار می شود.

۸. اطلاعات زیر در رابطه با وضعیت سهام منتشر شده شرکت سهامی کاسپین در دست است:

۸۰/۱/۱	سهام موجود	۱۵۰۰۰۰ سهم
۸۰/۳/۱۵	تحصیل سهام خزانه	۳۰۰۰۰ سهم
۸۰/۵/۱۵	فروش سهام خزانه	۲۰۰۰۰۰ سهم
۸۰/۷/۱	توزیع سود سهمی	۲۰ درصد
۱۰/۱	تجزیه سهام	۱ به ۲

میانگین موزون سهام عادی منتشر شده شرکت چقدر میباشد؟

الف. ۳۳۶/۰۰۰ ب. ۳۳۳/۰۰۰

ج. ۲۸۶/۰۰۰ د. ۳۲۴/۰۰۰

۹. ساختار سرمایه شرکت بابلسر شامل ۸۰۰۰ سهم عادی هزار ریالی و ۱۰۰۰ سهم ممتاز ۱۰ درصد دو هزار ریالی با سود انباشته می باشد. سود ویژه شرکت در سال ۱۳۸۸ معادل ۱/۵۰۰/۰۰۰ ریال بوده و شرکت در دو سطل گذشته هیچگونه سودی اعلام نکرده است. سود هر سهم عادی چقدر می باشد؟

الف. ۱۱۲/۵ ب. ۱۶۲/۵ ج. ۱۵۸/۵ د. ۱۳۷/۵

۱۰. قیمت فروش اوراق قرضه سه ساله ای که مبلغ اسمی آن ۵/۰۰۰/۰۰۰ ریال، نرخ بهره اسمی آن ۱۲٪ و نرخ بهره بازار آن ۱۴٪ می باشد، چقدر خواهد بود؟ (بهره اوراق قرضه سالی یکبار و در پایان سال پرداخت می شود).

الف. ۴/۷۶۷/۸۳۶ ریال ب. ۴/۸۶۷/۲۰۰ ریال

ج. ۵/۲۳۲/۷۱۵ ریال د. ۴/۸۴۶/۱۱۲ ریال

نام درس: حسابداری میانه ۲

رشته تحصیلی / کد درس: حسابداری (تجمیع ۱۲۱۴۱۱۰ - سنتی، جبرانی ارشد ۱۲۱۴۰۲۳)

تعداد سوالات: تستی: ۱۵ تشریحی: ۴
زمان آزمون (دقیقه): تستی: ۸۰ تشریحی: ۱۰۰

کد سری سؤال: یک (۱)

استفاده از:

ماشین حساب

مجاز است.

۱۱. شرکت آلفا در ابتدای سال ۱۳۸۸، اقدام به خرید ۱۰٪ از سهام شرکت بتا به مبلغ ۲/۵۰۰/۰۰۰ ریال نمود. شرکت در رابطه با سرمایه گذاری های بلند مدت خود از روش تجدید ارزیابی استفاده می کند. ارزش بازار سرمایه گذاری در پایان سال ۸۸ معادل ۲/۳۰۰/۰۰۰ ریال و در پایان سال ۸۹ معادل ۲/۸۰۰/۰۰۰ ریال بوده است. کدام گزینه در رابطه با ثبت اصلاحی لازم در پایان سال ۸۹ صحیح نمی باشد؟

الف. ارزش شیبایی سرمایه گذاری ۵۰۰/۰۰۰ ریال بدهکار می شود.

ب. مازاد تجدید ارزیابی ۵۰۰/۰۰۰ ریال بستانکار می شود.

ج. مازاد تجدید ارزیابی ۳۰۰/۰۰۰ ریال بستانکار می شود.

د. بازیافت زیان ۲۰۰/۰۰۰ ریال بستانکار می شود.

۱۲. شرکت سهامی کوروش از روش های تمام شده جهت ثبت سرمایه گذاری خود استفاده می کند. شرکت در ۸۸/۲/۱ تعداد ۳۰۰ از کل ۳۰۰۰ سهم عادی هزار ریالی شرکت داریوش را به قیمت هر سهم ۵۰۰۰ ریال بعلاوه ۱ درصد کمیسون خریداری نمود. شرکت در ۸۸/۱۲/۱ سود تقابلی معادل ۲۰۰/۰۰۰ ریال دریافت نمود که ۱۰۰/۰۰۰ ریال آن از محل منافع قبل از تحصیل بوده است. مانده حساب سرمایه گذاری در پایان سال ۸۸ عبارت خواهد بود از:

الف. ۱/۵۰۵/۰۰۰ ریال

ج. ۱/۴۱۵/۰۰۰ ریال

۱۳. به هنگام تجزیه سهام، هر گونه مابه التفاوت احتمالی در

الف. بدهکار سهام عادی جدید ثبت می شود.

ب. بدهکار حساب کسر سهام عادی ثبت می گردد.

ج. در بستانکار حساب مازاد حاصل از تجزیه سهام ثبت می شود.

د. در بستانکار حساب صرف سهام عادی ثبت می شود.

۱۴. در صورتیکه توزیع سود سهمی قابل ملاحظه باشد، به هنگام اعلام سود سهمی لازم است که:

الف. حساب سود (زیان) انباشته معادل ارزش اسمی سهام جایزه بدهکار گردد.

ب. صرف سهام عادی معادل اختلاف ارزش بازار و اسمی سهام، بستانکار گردد.

ج. حساب سود (زیان) انباشته معادل ارزش بازار سهام جایزه بدهکار گردد.

د. سهام عادی معادل ارزش اسمی سهام بستانکار گردد.

نام درس: حسابداری میانه ۲
 رشته تحصیلی / گد درس: حسابداری (تجمیع ۱۲۱۴۱۱۰ - سنتی، جبرانی ارشد ۱۲۱۴۰۲۳)
 تعداد سوالات: تستی: ۱۵ تشریحی: ۴
 زمان آزمون (دقیقه): تستی: ۸۰ تشریحی: ۱۰۰

کد سری سؤال: یک (۱) استفاده از: ماشین حساب مجاز است.

۱۵. شرکت سهامی شیرین به هنگام اعلام ۴۰ درصد سود سهمی، اقدام به انتشار ۵۵۰ سهم عادی هزار ریالی و ۲۰۰ گواهی پاره سهم برای ۵۰ سهم باقیمانده نمود. با فرض اینکه فقط ۶۰ درصد گواهینامه ها به سهام تبدیل و مابقی باطل شود، لازم است به هنگام توزیع سود سهمی:

- الف. مازاد حاصل از ابطال پاره سهم به مبلغ ۲۰/۰۰۰ ریال بستانکار شود.
- ب. درآمد حاصل از ابطال پاره سهم به مبلغ ۲۰/۰۰۰ ریال بستانکار شود.
- ج. سهام عادی به مبلغ ۵۵۰/۰۰۰ ریال بستانکار شود.
- د. سود سهمی قابل انتشار به مبلغ ۵۸۰/۰۰۰ ریال بدهکار می شود.

سوالات تشریحی

۱. شرکت سهامی گیلان در ۸۵/۴/۱ اقدام به انتشار تعداد ۶۰ برگ اوراق قرضه ده هزار ریالی ۱۲ درصد به سررسید ۸۸/۴/۱ نمود. اوراق قرضه بنرخ ۱۰۵ درصد منتشر شدند و سود تضمین شده آن سالی دو بار در تاریخ های ۴/۱ و ۱۰/۱ هر سال پرداخت می شود. نرخ بهره بازار اوراق قرضه ۱۰ درصد در سال بوده و شرکت به منظور استهلاك هر گونه صرف یا کسر اوراق قرضه از روش نرخ بهره موثر استفاده می کند. با توجه به اطلاعات فوق، مطلوبست:

- الف. انجام ثبت های لازم در دفاتر صادر کننده اوراق قرضه در تاریخ های ۸۵/۴/۱، ۸۵/۱۰/۱، ۸۵/۱۲/۲۹ و ۸۶/۴/۱
- ب. در صورتیکه ۲۰۰ برگ اوراق قرضه در تاریخ ۸۶/۴/۲ به مبلغی معادل ۲۰ درصد ارزش اسمی بازخرید شود، چه ثبتی از بابت بازخرید اوراق قرضه باید انجام شود. (۲/۵ نمره)

۲. سرمایه شرکت سهامی سهند مشتمل بر ۸۰۰۰ سهم عادی هزار ریالی و ۱۰۰۰ سهم ممتاز ۲۰۰۰ ریالی ۱۰ درصد با سود انباشته و حق مشارکت محدود در سود حداکثر تا ۱۲ درصد بوده است. شرکت در سال ۱۳۸۵ تاسیس شده و سودهای اعلام شده آن بدین ترتیب بوده است:

سال ۱۳۸۵	۱۵۰/۰۰۰
سال ۱۳۸۶	۱۰۰/۰۰۰
سال ۱۳۸۷	۱/۸۰۰/۰۰۰

سهم سود سهام ممتاز و عادی را در سال ۱۳۸۷ محاسبه نمایید. (۱ نمره)

نام درس: حسابداری میانه ۲

رشته تحصیلی / گد درس: حسابداری (تجمیع ۱۲۱۴۱۱۰ - سنتی، جبرانی ارشد ۱۲۱۴۰۲۳)

تعداد سوالات: تستی: ۱۵ تشریحی: ۴
 زمان آزمون (دقیقه): تستی: ۸۰ تشریحی: ۱۰۰

کد سری سؤال: یک (۱)

استفاده از:

ماشین حساب

مجاز است.

۳. یکی از سهامداران شرکت جویبار تعداد ۵۰۰ سهم هزار ریالی خود را به شرکت انتشار دهنده آن (شرکت جویبار) اهدا نمود (سهام مزبور در گذشته با صرف ۲۵ درصد منتشر شده بود). ارزش بازار هر سهم در تاریخ اهدا معادل ۱۵۰۰ ریال بوده و شرکت جویبار پس از دریافت سهام مزبور اقدام به فروش ۴۰۰ سهم اهدایی به قیمت هر سهم ۱۶۰۰ ریال نموده و مابقی سهام خزانه ابطال شد. با فرض استفاده از روش ارزش بازار، ثبت های لازم از بابت اهدای سهام، فروش و نیز ابطال آن را انجام دهید. (۱/۵ نمره)

۴. شرکت سهامی شمال در ابتدای سال ۱۳۸۸ اقدام به خرید ۴۰٪ از سهام شرکت سهامی جنوب به مبلغ ۲۶/۰۰۰/۰۰۰ ریال نمود. حقوق صاحبان سهام شرکت جنوب در تاریخ تحصیل معادل ۶۰/۰۰۰/۰۰۰ ریال بوده و به استثنای موجودی کالا، زمین و ماشین آلات، ارزش دفتری و ارزش بازار بقیه دارایی ها و بدهی های شرکت با هم مساوی بوده است. اطلاعات اضافی:

۱. شرکت جنوب سود ویژه (عادی) خود را برای سال ۸۸ معادل ۷/۰۰۰/۰۰۰ ریال گزارش نمود.

۲. شرکت جنوب برای سال ۸۵ معادل ۵/۰۰۰/۰۰۰ ریال سود نقدی پرداخت نمود.

۳. در تاریخ انجام سرمایه گذاری ارزش بازار کالا، زمین و ماشین آلات، هر کدام به ترتیب ۴۰۰/۰۰۰ ریال، ۵۰۰/۰۰۰ ریال و ۲/۰۰۰/۰۰۰ ریال بیشتر از ارزش دفتری آن بوده است. شرکت برای ارزیابی موجودی کالای خود از روش FIFO استفاده کرده و عمر مفید باقیمانده ماشین آلات ۱۰ سال بوده و هر گونه سرقفلی ۲۰ ساله مستهلک می شود. مطلوبست:

الف. محاسبه مبلغ مابه التفاوت و سرقفلی.

ب. انجام ثبت های لازم در سال ۸۸ در دفتر روزنامه شرکت شمال (سرمایه گذار) از بابت سرمایه گذاری اولیه، شناسایی سود، اعلام و تقسیم سود و استهلاك مابه التفاوت. (۳ نمره)

تعداد سوالات: تستی: ۳۰ تشریحی: --
زمان آزمون (دقیقه): تستی: ۵۵ تشریحی: --

نام درس: زبان تخصصی ۲
رشته تحصیلی / کد درس: حسابداری - ۱۲۱۴۰۲۴

مجاز است.

استفاده از:

کد سری سؤال: یک (۱)

امام خمینی^(ره): این محرم و صفر است که اسلام را زنده نگه داشته است.

Find the correct answers (a, b, c, or d) and mark them on your answer sheets.

- 1- The function of accounting is to provide useful.....information about economic entities.
 - a. social
 - b. biological
 - c. illegal
 - d. financial
- 2- Accounting theory has developed to.....changing demands and influences.
 - a. ignore
 - b. meet
 - c. divide
 - d. reject
- 3- occurrences of this sort are sometimes referred to as the economic consequences of accounting. "Sort" means.....
 - a. kind
 - b. supply
 - c. budget
 - d. variable
- 4- GAAP require many estimates, assumptions, and professional judgments by management and by.....
 - a. clerks
 - b. students
 - c. accountants
 - d. laborers
- 5- Ethical behavior requires an assessment of whether a decision or action is "right or.....".
 - a. true
 - b. correct
 - c. left
 - d. wrong
- 6- Financial statements display either the financial position of the entity or one kind of changes in financial position of entity during a period of time. "Display" means.....
 - a. join
 - b. show
 - c. play
 - d. separat
- 7- Accounting theory has been defined as a coherent set of..... principles.
 - a. logical
 - b. illogical
 - c. pure
 - d. public
- 8- over the years numerous organizations, committees, and interested individuals developed and published their frameworks. "Individuals" means.....
 - a. firms
 - b. companies
 - c. offices
 - d. persons
- 9- The two primary qualities that make accounting information useful for decision making are.....and reliability.
 - a. rejection
 - b. relevance
 - c. irrelevance
 - d. irregularity
- 10- Investors and creditors can use the information on the income statement to..... the past performance of the interprise.
 - a. change
 - b. vary
 - c. increase
 - d. evaluate

تعداد سوالات: تستی: ۳۰ تشریحی: --

نام درس: زبان تخصصی ۲

زمان آزمون (دقیقه): تستی: ۵۵ تشریحی: --

رشته تحصیلی / کد درس: حسابداری - ۱۲۱۴۰۲۴

مجاز است.

استفاده از:

کد سری سؤال: یک (۱)

11-Assuming all other factors are equal, the income of the first company will be lower than that of the second. "That" refers to.....

- a. the income b. factors c. company d. other factors

12- Expenses take many forms, such asof goods sold, rent, and taxes.

- a. size b. cost c. price d. value

13-In the single-step statement, just two groupings exist:.....and expenses.

- a. losses b. events c. avenues d. revenues

14- A subsection reporting expenses of general administration is called "administrative or general.....".

- a. losses b. prices c. expenses d. profits

15-Decrease in equity from peripheral or incidental transactions of an entity is called.....

- a. gains b. taxes c. losses d. profits

16-The manner by which individuals or groups learn about and value the attributes of products or services and purchase them is called.....

- a. operating b. production c. Distribution d. Marketing

17-The detailed planning and engineering of products, services or processes is called".....of products, services or processes".

- a. design b. control c. cost d. loss

18- What measures and reports financial information and other types of information that assist managers in fulfilling the goals of the organization is called.....

- a. production b. value chain c. marketing d. management accounting

19-This chapter explains several widely recognized cost concepts and terms. "Terms" means.....

- a. worlds b. words c. sales d. sentences

20- The assigning of indirect costs to the chosen cost object is called.....

- a. cost driver b. cost object c. cost allocation d. cost assignment

تعداد سوالات: تستی: ۳۰ تشریحی: --

نام درس: زبان تخصصی ۲

زمان آزمون (دقیقه): تستی: ۵۵ تشریحی: --

رشته تحصیلی / کد درس: حسابداری - ۱۲۱۴۰۲۴

مجاز است.

استفاده از:

کد سری سؤال: یک (۱)

21- Those activities that customers perceive as adding value to the products or services they purchase are called.....activities.

- a. fixed b. variable c. value-added d. work-in-process

22- Operating income = Total revenues - Total.....

- a. losses b. costs c. profits d. interests

23- The operating income plus nonoperating revenues minus nonoperating cost minus income taxes is called.....

- a. CVP b. FC c. net loss d. net income

24- R&D stands for Research and Development. "Research and Development" means.....

- الف. جستجو و کاوش ب. پژوهش و ارتباط ج. توصیه و تحقیق د. تحقیق و توسعه

25- Customer **satisfaction** is priority one. "Satisfaction" means.....

- الف. رضایت ب. منفعت ج. خنثیت د. وجاهت

26- Probable future economic **benefits** obtained or controlled by a particular entity as a result of past transactions are called assets. "Benefits" means.....

- الف. دارایی ها ب. بدهی ها ج. هزینه ها د. سودها

27- Increases in equity from peripheral transactions of an entity are called **gains**. "Gains" means.....

- الف. منافع تخیلی ب. ضرر آنی ج. سود عملیاتی د. سود غیر عملیاتی

28- A relevant range is the range of the cost driver in which a specific relationship between cost and driver is **valid**. "Valid" means.....

- الف. معتبر ب. نامعتبر ج. متغیر د. ثابت

29- **Noncapitalized** costs are recorded as expenses of the accounting period when they are incurred.

"Noncapitalized" means.....

- الف. سود ده ب. غیر سودمند ج. سرمایه ای نشده د. سرمایه ای شده

30- The **breakeven point** is where the total revenues line and total costs line intersect. "Breakeven point" means.....

- الف. نقطه سراسری ب. نقطه سربه سر ج. نقطه سرتاسری د. سرتاسر نقطه ها

نام درس: حسابداری پیشرفته ۱
 رشته تحصیلی / کد درس: حسابداری (۱۲۱۴۰۲۵)
 تعداد سوالات: تستی: ۵
 زمان آزمون (دقیقه): تستی: ۱۲۰
 کد سری سؤال: یک (۱)
 استفاده از ماشین حساب: مجاز است.

امام خمینی (ره): این محرم و صفر است که اسلام را زنده نگه داشته است.

۱. علی و تقی شرکای یک شرکت تضامنی هستند که سود و زیان به نسبت ۳ و ۲ به ترتیب بین شرکاء تقسیم می شود. ترازنامه شرکت در ۸۸/۱۲/۲۹ قبل از ورود حسین به شرح زیر می باشد. (۲/۵ نمره)

شرکت تضامنی علی و شرکاء

ترازنامه

۸۸/۱۲/۲۹

دارائی ها:	بدهی ها:
بانک	حسابهای پرداختنی
حسابهای دریافتنی	اسناد پرداختنی
موجودی کالا	جمع بدهی ها
وسایط نقلیه	حقوق صاحبان سرمایه:
استهلاک انباشته	اندهی عمومی
ارزش دفتری	زیان انباشته
زمین	سرمایه علی
ساختمان	سرمایه تقی
استهلاک انباشته	جمع حقوق صاحبان سرمایه
ارزش دفتری	جمع بدهی و حقوق صاحبان سرمایه
جمع دارائی ها	

حسین در ابتدای سال ۱۳۸۹ با شرایط زیر وارد شرکت گردید.

- موجودی کالا به مبلغ ۱/۸۰۰/۰۰۰ ریال ارزیابی گردید.

- برای حسابهای دریافتنی ۵٪ ذخیره در نظر گرفته شود

- وسایط نقلیه به مبلغ ۱/۶۰۰/۰۰۰ ریال ارزیابی گردید

- زمین و ساختمان به ترتیب مبلغ ۱/۵۰۰/۰۰۰ ریال و ۳/۳۰۰/۰۰۰ ریال ارزیابی گردید

- سرقتی شرکت ۳/۰۰۰/۰۰۰ ریال برآورد و با تمام ارزش در دفتر ثبت می گردد

- حسین در $\frac{1}{4}$ سود و زیان و سرمایه شریک می شود و مبلغ آورده وی متناسب با سرمایه شرکای قبلی بعد از انجام تعدیلات فوق می باشد.

مطلوبست: انجام کلیه ثبت های مورد نیاز بابت ورود شریک جدید

تعداد سوالات: تستی: ۵ تشریحی: ۵
 زمان آزمون (دقیقه): تستی: ۱۲۰ تشریحی: ۱۲۰

نام درس: حسابداری پیشرفته ۱
 رشته تحصیلی / کد درس: حسابداری (۱۲۱۴۰۲۵)

مجاز است.

استفاده از ماشین حساب

کد سری سؤال: یک (۱)

۲. ترازنامه خلاصه شده شرکت تضامنی الف و ب و ج که نسبت سود و زیان آنها به ترتیب $\frac{1}{2}$ ، $\frac{1}{3}$ ، $\frac{1}{6}$ است، به شرح زیر می باشد: (۴/۵ نمره)

شرکت تضامنی الف و شرکاء

ترازنامه

۱۳۸۸/۱۲/۲۹

۴۵۰/۰۰۰	بستانکاران	۱۵۰/۰۰۰	وجه نقد
۳۰۰/۰۰۰	اندوخته عمومی	۲/۴۰۰/۰۰۰	سایر داراییها
۷۵۰/۰۰۰	سرمایه الف		
۶۵۰/۰۰۰	سرمایه ب		
۴۰۰/۰۰۰	سرمایه ج		
۲/۵۵۰/۰۰۰	جمع	۳/۸۳۰/۰۰۰	جمع

شرکاء تصمیم به انحلال شرکت گرفتند. سایر دارایی ها در مرحله اول به مبلغ ۴۰۰/۰۰۰ ریال در مرحله دوم ۱۳۵/۰۰۰ ریال و در مرحله سوم ۱/۴۵۰/۰۰۰ ریال به فروش رفت. همچنین در مرحله دوم ۵۰۰/۰۰۰ ریال و در مرحله سوم ۱۰۰/۰۰۰ ریال هزینه های تصفیه پرداخت گردید. حسابهای پرداختنی در مرحله سوم پرداخت شد.

مطلوبست:

تهیه جدول تقسیم وجه نقد به روش مازاد سرمایه
 انجام ثبت های لازم در دفتر روزنامه.

۳. شرکت آلفا ساختمانی به روش اجاره به شرط تملیک در ابتدای سال ۱۳۸۹ خریداری نمود. پیش قسط ۱۰۰/۰۰۰ ریال و باقیمانده در ۳ قسط ۱۰/۰۰۰/۰۰۰ ریالی در پایان هر سال پرداخت می شود. قیمت نقدی دارائی ۳۷/۲۵۰/۰۰۰ ریال و هزینه بهره ۵٪ نسبت به مانده حساب می باشد.

مطلوبست: انجام ثبت های لازم در سه سال در دفاتر مستاجر (دارائی با تمام ارزش در دفاتر مستاجر ثبت می شود). انجام ثبت استهلاك و بستن حسابهای موقتی ضرورتی ندارد. (۱/۵ نمره)

۴. شرکت آلفا ۸ دستگاه موتور که بهای تمام شده هر واحد ۲۵۰/۰۰۰ ریال و قیمت فروش هر واحد آن ۳۳۰/۰۰۰ ریال می باشد به طور امانی برای حق العمل کار خود شرکت ب ارسال نمود. مبلغ ۱۲۰/۰۰۰ ریال هزینه بسته بندی و حمل کالای فوق توسط آمر پرداخت گردید. در پایان دوره شرکت بتا، صورت حسابی ارسال نمود که حاکی از فروش ۶ دستگاه موتور ۱ دستگاه مفقودی، پرداخت ۸۰/۰۰۰ ریال بیمه دریایی، ۱۵۰/۰۰۰ ریال هزینه توزیع کالا ۲۲۰/۰۰۰ ریال هزینه اجاره انبار و کسر ۵٪ حق العمل فروش می باشد. یک دستگاه موتور باقیمانده نیز جزء موجودی کالای پایان دوره است.

مطلوبست: انجام ثبتهای لازم در دفاتر آمر. (۲/۷۵ نمره)

نام درس: حسابداری پیشرفته ۱
 رشته تحصیلی / کد درس: حسابداری (۱۲۱۴۰۲۵)
 تعداد سوالات: تستی: ۵
 زمان آزمون (دقیقه): تستی: ۱۲۰
 تشریحی: ۵
 تشریحی: ۱۲۰

مجاز است.

استفاده از ماشین حساب

کد سری سؤال: یک (۱)

۵. حسن و حسین در یک شرکت عملی برای خرید و فروش اتومبیل شریکند که سود و زیان را به ترتیب $\frac{2}{3}$ و $\frac{1}{3}$ تسهیم

می نمایند رویدادهای انجام شده به صورت زیر خلاصه گردیده است:

- حسن ۵ دستگاه اتومبیل به بهای هر دستگاه ۷۰/۰۰۰ ریال خریداری و مبلغ ۱/۵۰۰ ریال نیز هزینه های نقل و انتقال پرداخت نمود

- حسن ۴ دستگاه اتومبیل به بهای هر دستگاه ۸۱/۰۰۰ ریال فروخت و مبلغ ۱۰۰/۰۰۰ ریال نیز از وجوه آنرا به حسین فرستاد.

- حسین ۸ دستگاه اتومبیل به بهای هر دستگاه ۹۵/۰۰۰ ریال خریداری و مبلغ ۲/۰۰۰ ریال نیز هزینه های نقل و انتقال پرداخت نمود

- حسین ۶ دستگاه اتومبیل به بهای هر دستگاه ۱۰۱/۰۰۰ ریال فروخت

- حسن یک دستگاه اتومبیل به بهای ۷۵/۰۰۰ ریال و حسین دو دستگاه اتومبیل به بهای کل ۱۷۳/۰۰۰ ریال برداشت نمود

- هزینه های اداری انجام شده جمعاً به مبلغ ۳/۵۰۰ ریال توسط حسین پرداخت شد

- هر یک از شرکاء ۵٪ مبلغ فروش کمیسیون برداشت می نمایند.

- شرکاء طلب یا بدهی همدیگر را با تبادل وجه نقد تسویه نمودند.

مطلوبست: انجام ثبت های شرکت عملی در دفاتر حسن (کلیه عملیات مشارکت در دفاتر حسن ثبت می شود.) (۲/۷۵ نمره)

تعداد سوالات: تستی: ۲ — تشریحی: ۶
 زمان آزمون (دقیقه): تستی: ۱۵۰ — تشریحی: ۱۵۰

نام درس: حسابداری صنعتی ۲
 رشته تحصیلی / کد درس: حسابداری ۱۲۱۴۰۲۶

مجاز است.

ماشین حساب

استفاده از:

کد سری سؤال: یک (۱)

امام خمینی (ع): این محرم و صفر است که اسلام را زنده نگه داشته است.

۱. شرکت چالوس طی فرآیند در مرحله ۲ تولید محصول آلفا را تکمیل و روانه انبار می‌کند. سایر اطلاعات به شرح زیر است:

الف. ماده A در ابتدای فرایند تولید و ماده B در مقطع ۴۰٪ اضافه می‌شود و بهای تبدیل یکنواخت تحقق می‌یابد.

ب. کالای در جریان ساخت اول دوره ۴۰۰۰ واحد که ۳۰٪ تکمیل است به بهای تمام شده ۶,۹۴۰,۰۰۰ ریال

ج. کالای تکمیل شده و انتقالی به انبار ۴۰,۰۰۰ واحد

د. ضایعات عادی پایان عملیات ۱,۰۰۰ واحد

هـ. ضایعات غیر عادی با درجه تکمیل ۴۵٪ به تعداد ۵۰۰ واحد

و. کالای در جریان ساخت پایان دوره ۲۰۰۰ واحد با درجه تکمیل ۴۵٪

ط. بهای انتقالی ۳۹,۵۰۰,۰۰۰ ریال، بهای ماده A مصرف شده طی دوره ۱۹,۷۵۰,۰۰۰ بهای ماده B مصرف شده طی

دوره ۳۰,۴۵۰,۰۰۰ ریال و بهای تبدیل ۴۰,۹۲۵,۰۰۰ می‌باشد.

مطلوبست:

تهیه گزارش بهای تولید به روش *fifo* (۴/۵ نمره)

تعداد سوالات: تستی: — تشریحی: ۶
 زمان آزمون (دقیقه): تستی: — تشریحی: ۱۵۰

نام درس: حسابداری صنعتی ۲
 رشته تحصیلی / کد درس: حسابداری ۱۲۱۴۰۲۶

کد سری سؤال: یک (۱) استفاده از: ماشین حساب مجاز است.

۲. شرکت شهرکرد یک نوع محصول می‌سازد که کارت استاندارد آن به شرح زیر است:

کارت استاندارد یک واحد محصول

شرح	مقدار	نرخ (ریال)	مبلغ (ریال)
ماده A	۳ کیلو	۲۵۰	۷۵۰
دستمزد مستقیم	۲ ساعت	۱۰۵	۲۱۰
سربار ساخت	۳ ساعت	۱۲۰	۳۶۰
			<u>۱۲۰۰</u>

ظرفیت عادی ماهانه ۳۵۰۰۰ ساعت کار ماشین که منتهای تعیین نرخ جذب سربار است و سربار ثابت بودجه شده ماهانه ۱'۷۵۰'۰۰۰ ریال است. سایر اطلاعات واقعی در اریبشت ۸۱ به شرح زیر می‌باشد.

ماده مصرفی A ۵۲,۰۰۰ کیلوگرم به مبلغ ۱۲,۴۸۰,۰۰۰ ریال
 دستمزد مستقیم ۳۲,۰۰۰ ساعت به مبلغ ۳,۵۲۰,۰۰۰ ریال
 سربار واقعی به مبلغ ۴,۲۰۰,۰۰۰ ریال، ساعات واقعی کار ماشین ۳۰,۰۰۰ ساعت و طی اریبشت ۸۱، ۱۶۵۰۰ واحد محصول تولید شده است.

مطلوبست:

محاسبه انحرافات زیر:

- (۱) نرخ مواد، مصرف مواد
- (۲) نرخ دستمزد، کارآیی دستمزد
- (۳) هزینه، حجم و کارآیی سربار متغیر (۳/۵ نمره)

۳. با توجه به مسأله شماره ۲ مطلوبست:

تنظیم حساب کالای در جریان ساخت به شکل T و به روش یگانه و ثبت روزنامه مصرف مواد به روش یگانه (۱/۵ نمره)

تعداد سوالات: تستی: ۶ — تشریحی: ۶
زمان آزمون (دقیقه): تستی: ۱۵۰ — تشریحی: ۱۵۰

نام درس: حسابداری صنعتی ۲
رشته تحصیلی / گد درس: حسابداری ۱۲۱۴۰۲۶

مجاز است.

ماشین حساب

استفاده از:

كد سری سؤال: يك (۱)

۴. اطلاعات زیر مربوط به تولید محصولات مشترک در یک شرکت تولیدی، به شرح زیر است.

محصول	مقدار تولید	نرخ فروش هر كيلو (ريال)	هزینه‌های بعد از نقطه تفکیک
الف	۲۰۰۰ (کیلو)	۴۰۰۰	۲,۰۰۰,۰۰۰ (ريال)
ب	۳۵۰۰ (کیلو)	۶۰۰۰	۱,۵۰۰,۰۰۰ (ريال)
ج	۲۵۰۰ (کیلو)	۸۰۰۰	۵۰۰,۰۰۰ (ريال)
د (محصول فرعی)	۲۵۰ (کیلو)	۱۲۰۰	۲۰,۰۰۰ (ريال)

جمع هزینه‌های مشترک تولیدی ۱,۱۰۰,۰۰۰ ریال است. برای محاسبه سهم محصول فرعی از هزینه‌های مشترک شرکت از روش هزینه یابی معکوس استفاده می‌شود. سود مورد انتظار از فروش محصول فرعی ۱۰٪ فروش و هزینه توزیع و فروش محصول فرعی ۵۰,۰۰۰ ریال است. مطلوبیست:

محاسبه قیمت تمام شده هر كيلو از محصولات الف، ب، ج با استفاده از روش مقدار فیزیکی. (۱/۵ نمره)

۵. شرکت نیما از سیستم هزینه یابی استاندارد استفاده می‌کند. این شرکت تولید کننده یک نوع محصول است که هزینه‌های استاندارد هر واحد آن به شرح زیر است:

مواد مستقیم ۱۰۰ (ريال)	دستمزد مستقیم ۲۵ (ريال)	سربار متغیر ساخت ۱۰ (ريال)
سربار ثابت ساخت ۱۵ (ريال)	هزینه‌های متغیر اداری و فروش ۴ (ريال)	هزینه‌های ثابت اداری و فروش ۶ (ريال)

مطلوبیست:

محاسبه بهای تمام شده هر واحد محصول با استفاده از روش هزینه یابی جذبی و مستقیم. (۱/۵ نمره)

۶. شرکت پدram محصولی تولید می‌کند که قیمت فروش و هزینه متغیر هر واحد آن به ترتیب ۴,۰۰۰ و ۶,۰۰۰ ریال است. هزینه‌های ثابت شرکت سالانه ۵,۰۰۰,۰۰۰ ریال می‌باشد. (۱/۵ نمره)
مطلوبیست:

الف. حاشیه فروش هر واحد

ب. حاشیه فروش کل با فرض اینکه فروش ۴۰۰۰ واحد باشد

ج. نسبت حاشیه فروش

د. تعیین تعداد و مبلغ فروش در نقطه سربه سر

نام درس: حسابرسي (۱)
 رشته تحصيلي / گد درس: حسابداری (ستى) ۱۲۱۴۰۲۷ - بازرگانی (ستى) ۱۲۱۴۰۷۳
 تجميع (حسابداری، بازرگانی، صنعتی، دولتی - جهانگردی - اقتصاد) ۱۲۱۴۰۷۷
 گد سري سؤال: يك (۱)
 استفاده از: --
 مجاز است.

امام خمينی^(ع): اين محرم و صفر است که اسلام را زنده نگه داشته است.

۱. کدام گزینه طبق قانون تجارت ملزم به تعيين بازرس قانونی است ؟

- الف. شرکت سهامی عام وخاص
 ب. شرکت سهامی با مسئولیت محدود
 ج. شرکت تضامنی
 د. شرکت تعاونی

۲. اگر حسابرسي انجام رسيدگی های خود را از مدارک اوليه آغاز و به صورتهای مالی ختم نماید ، کدام گزینه صحيح است ؟

- الف. حسابرسي به شیوه ترازنامه ای
 ب. حسابرسي به شیوه سند رسي
 ج. حسابرسي به شیوه اثباتی
 د. حسابرسي به شیوه الزامی

۳. کدام گزینه صحيح است ؟

- الف. گواهی و اظهار نظر حسابرسي نسبت به امر واقعی و مسلم است که هیچ گونه تردیدی درباره آن وجود ندارد .
 ب. مجاز بودن معامله يعنی رسيدگی به اینکه حاصل معامله عايد شرکت شده است .

ج. گزارش حسابرسي بيان عقیده است نه ذکر واقعیت .

د. مطابق قانون تجارت ايران شرکتهای سهامی خاص ملزم به انتخاب حسابرسي می باشند .

۴. دخالت ندادن عقايد و نظرات شخصی در وظیفه حرفه ای و خودباوری از اظهار نظر جز در مواردی که مستنداً قابل اثبات باشد مربوط به کدام اصل از اصول بنيادی حسابرسي است ؟

- الف. کفایت دانش و تجربه
 ب. دقت در کار
 ج. حفظ اسرار
 د. استقلال و بی طرفی

۵. نمونه گیری آزمایشی از اسناد و مدارک و حسابها و اعمال سایر روشهای حسابرسي نظیر حضور در انبارگردانی و درخواست تأییدیه از بدهکاران و بستانکاران جزء کدام گزینه محسوب می شود ؟

- الف. اصول حسابرسي
 ب. استاندارد عمومی
 ج. استاندارد عملیاتی
 د. برنامه حسابرسي

۶. حسابرسي در کدام حالت اقدام به امضاء ذیل صورتهای مالی می نماید ؟

الف. طبق روال متداول حرفه حسابرسي ، حسابرسي مجاز نيست ذیل صورتهای مالی را امضاء نماید

ب. فقط در حالتيکه صد در صد عملیات مالی موضوع صورتهای مالی را رسيدگی کرده باشد

ج. در صورت درخواست مدیریت واحد مورد رسيدگی از حسابرسي در مجمع عمومی عادی سالیانه

د. اگر حسابرسي به صورت مداوم در شرکت حضور داشته باشد و برکليه امور نظارت کامل داشته باشد

۷. کدام گزینه اعمال نکردن مراقبت های حرفه ای توسط حسابرسي می باشد ؟

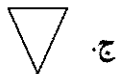

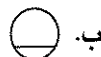
- الف. تقلب
 ب. قصور
 ج. سهل انگاری
 د. تبليغات

نام درس: حسابرسي (۱)
 رشته تحصيلي / گد درس: حسابداری (ستى) ۱۲۱۴۰۲۷ - بازرگانی (ستى) ۱۲۱۴۰۷۳
 تجميع (حسابداری، بازرگانی، صنعتی، دولتی - جهانگردی - اقتصاد) ۱۲۱۴۰۷۷
 گد سري سؤال: يك (۱) استفاده از: -- مجاز است.

۸. کدام گزینه از موارد مسئولیت حاصل از قصور و اهمال در حسابرسي به شمار می رود ؟
- الف. در صورتیکه حسابرسي بر عدم صحت صورتهای مالی واقف باشد و این موضوع را به مجمع عمومی صاحبان سهام اطلاع ندهد
- ب. در صورتیکه مدیران شرکت، عملیاتی خارج از حدود اختیارات شرکت انجام دهند و حسابرسي این موضوع را افشاء ننمایند
- ج. حسابرسي نمى تواند به عذر اینکه کشف اختلاس و تقلب مشکل بود از خود سلب مسئولیت کند
- د. تحریف حقایق با اهمیت توسط حسابرسي با کمال بی توجهی نسبت صحت و سقم آن
۹. کدام گزینه صحیح است ؟
- الف. گزارش جامع بازرسان راجع به وضع شرکت باید حداکثر ۱۰ روز قبل از تشکیل مجمع عمومی عادی در مرکز شرکت آماده باشد
- ب. مطابق قانون تجارت ایران تعیین حق الزحمه بازرسي با مجمع عمومی عادی است
- ج. بازرسي باید هر گونه تخلف مشاهده شده در امور شرکت از ناحیه مدیران و مدیر عامل را به رئیس دادگاه شهرستان اطلاع دهد
- د. بازرسي نمى تواند هر موقع هر گونه رسیدگی و بازرسي لازم را انجام دهد و اسناد و مدارک و اطلاعات مربوط را مطالبه کند
۱۰. کدام گزینه از وظایف و مسئولیتهای شرکاء در یک مؤسسه حسابرسي محسوب می شود ؟
- الف. حدود و زمان لازم برای رسیدگی های حسابرسان
- ب. تهیه برنامه رسیدگی و رویه های حسابرسي
- ج. تهیه گزارش حسابرسي
- د. بررسی فرمها و کاربرگهای رسیدگی
۱۱. کاربرگهای تهیه شده توسط حسابرسان و کمک حسابرسان بطور دائم و در پایان هر مرحله از رسیدگی توسط کدام گزینه مورد بررسی و کنترل قرار می گیرد ؟
- الف. شرکاء
- ب. حسابرسي ارشد
- ج. سرپرست حسابرسي
- د. مدیریت صاحبکار
۱۲. کدام گزینه صحیح است ؟
- الف. برنامه ریزی حسابرسي بعد از انعقاد قرارداد و شروع کار حسابرسي انجام می شود
- ب. مسئولیت طرح و تنظیم برنامه رسیدگی و رویه های حسابرسي بر عهده سرپرستان حسابرسي است
- ج. مؤسسات حسابرسي می توانند بصورت شرکتهای سهامی تأسیس شوند
- د. در بند رسیدگی گزارش حسابرسي اصل اهمیت مورد تأکید قرار می گیرد

نام درس: حسابرسي (۱)
 رشته تحصيلي / گد درس: حسابداری (ستتی) ۱۲۱۴۰۲۷ - بازرگانی (ستتی) ۱۲۱۴۰۷۳
 تجميع (حسابداری، بازرگانی، صنعتی، دولتی - جهانگردی - اقتصاد) ۱۲۱۴۰۷۷
 گد سري سؤال: يك (۱)
 استفاده از: --
 مجاز است.

۱۳. کدام گزینه از ارکان تصميم گيري در يك شركت تجاری محسوب می شود ؟
- الف. شوراهای عالی
ب. مدیران اجرایی و کارکنان
ج. مجمع عمومی صاحبان سهام و هیأت مدیره
د. هیأت امناء
۱۴. در کدام گزینه حسابرسي اقدام به تهیه گزارش حسابرسي مقبول با عبارت توضیحي می نماید ؟
- الف. مشکلات با اهمیت مربوط به افشاء یا اصول پذیرفته شده حسابداری
ب. محدودیت اساسی در رسیدگی به صورتهای مالی
ج. محدودیت ناچیز در رسیدگی به صورتهای مالی
د. انحراف با اهمیت توجه شده از اصول پذیرفته شده حسابداری
۱۵. الزام قانونی واحد های اقتصادی به ارائه اظهار نامه مالیاتی در موعد مقرر مربوط به کدام دسته از کنترلها می باشد ؟
- الف. کنترلهای داخلی
ب. کنترلهای مالی
ج. کنترلهای انضباطی
د. کنترلهای از خارج
۱۶. کدام گزینه صحیح است ؟
- الف. کنترلهای عملیاتی تأثیر مستقیم در صورتهای مالی دارند
ب. حداقل کنترلهای لازم جهت فعالیتهای مالی یک واحد اقتصادی را کنترل داخلی مالی پایه می نامند
ج. کنترلهایی که به خودی خود وجود آنها در یک واحد اقتصادی لازم نیست کنترلهای سرپرستی می نامند
د. مشاهده عینی داراییهای ثبت شده در دفاتر ، در فواصل زمانی مناسب ، کنترل داخلی عملیاتی پایه محسوب می شود
۱۷. کدام گزینه مربوط به خرید های خارجی است که فاکتور بر مبنای قیمت کالا روی عریضه کشتی در نظر گرفته می شود
- الف. C & D
ب. CIF
ج. FOB
د. EX - Factory
۱۸. در کدام مرحله از بررسی سیستم کنترل داخلی حسابرسي از طریق تماس با مسئولان مختلف قسمتها روشهای کنترلی مستقر در واحد را سؤال کرده و با جزئیات آن آشنایی کامل پیدا می کند ؟
- الف. آزمایش صحت ثبت سیستم
ب. ارزیابی سیستم
ج. درک و ثبت سیستم
د. قبل از انجام رسیدگیها و تهیه گزارش
۱۹. برای ثبت سیستم کنترل داخلی از طریق رسم نمودار ، کدام گزینه به منزله بایگانی نسخ مختلف مدارک موجود در سیستم می باشد ؟



تعداد سوالات: تستی: ۳۵ تشریحی: --

زمان آزمون (دقیقه): تستی: ۶۰ تشریحی: --

نام درس: حسابرسي (۱)

رشته تحصیلی / گد درس: حسابداری (ستی) ۱۲۱۴۰۲۷ - بازرگانی (ستی) ۱۲۱۴۰۷۳

تجميع (حسابداری، بازرگانی، صنعتی، دولتی - جهانگردی - اقتصاد) ۱۲۱۴۰۷۷

مجاز است.

استفاده از: --

گد سری سؤال: یک (۱)

۲۰. هنگام رسیدگی به صورتهای مالی یک شرکت، تحصیل مدارک از منابع مستقل، روی کدام گزینه اهمیت مؤثر دارد؟

الف. نوع گزارش حسابرسي

ب. کیفیت و اعتبار مدارک مستند

ج. کمیت مدارک مستند

د. نحوه تنظیم نامه مدیریت

۲۱. کدام گزینه از انواع اطلاعات و مدارک حسابرسي به شمار می رود؟

الف. رویدادهای بعد از تاریخ ترازنامه

ب. ردیابی

ج. مذاقه

د. پی گیری

۲۲. ماهیت معامله و معقول بودن معاملات در مورد کدامیک از روشهای حسابرسي مورد توجه قرار می گیرد؟

الف. دریافت تأییدیه از اشخاص ثالث

ب. محاسبه مجدد

ج. پرس و جو

د. سند رسي

۲۳. کدام گزینه به رسیدگی به عملیاتی که بعد از ثبت یک معامله در دفاتر حسابداری اتفاق است، اشاره دارد؟

الف. ردیابی

ب. میان بر

ج. مذاقه

د. پی گیری

۲۴. کدام روش نمونه گیری می تواند در طراحی نمونه های مؤثر و مفید و اندازه گیری کفایت و قابلیت اطمینان شواهد بدست آمده به حسابرسان کمک بیشتری کند؟

الف. نمونه گیری تصادفی

ب. نمونه گیری تصادفی با طبقه بندی

ج. نمونه گیری آماری

د. نمونه گیری قطعه ای

۲۵. کدام طرح نمونه گیری برای آزمون رعایت روشهای کنترل داخلی مورد استفاده قرار می گیرد؟

الف. طرح نمونه گیری بر اساس متغیر

ب. طرح نمونه گیری بر اساس صفت

ج. طرح نمونه گیری آزمون محتوا

د. طرح نمونه گیری تصادفی

۲۶. کدام گزینه "احتمال اینکه نتایج نمونه نشانگر تحریف عمده در جامعه باشد در حالیکه در واقعیت چنین نباشد" را بیان می دارد؟

الف. احتمال خطر بتا

ب. احتمال خطر آلفا

ج. احتمال خطر گاما

د. احتمال خطر آزمون محتوا

۲۷. برآورد میانگین در هر واحد و برآورد نسبتي از متداولترین طرحهای نمونه گیری بر اساس کدام گزینه هستند؟

الف. صفت

ب. آماری

ج. متغیر

د. تصادفی

۲۸. کدام گزینه تعریف صحیح تری برای مدارک حسابرس است، برای دفاع از حدود رسیدگی و دقت حرفه ای که در رسیدگی های خود بکار برده است،

الف. پرونده دائمی

ب. گزارش حسابرسي

ج. اسناد و مدارک مثبت جمع آوری شده

د. فرمها و یادداشتهای حسابرس

نام درس: حسابرسي (۱)
 رشته تحصیلی / کد درس: حسابداری (ستتي) ۱۲۱۴۰۲۷ - بازرگانی (ستتي) ۱۲۱۴۰۷۳
 تجميع (حسابداری، بازرگانی، صنعتی، دولتی - جهانگردی - اقتصاد) ۱۲۱۴۰۷۷
 کد سری سؤال: یک (۱) استفاده از: -- مجاز است.

۲۹. کدام گزینه شامل طرحهای کلی و برنامه حسابرسي و پرسشنامه کنترل داخلی حسابرسي و برنامه زمانبندی می باشد ؟

- الف. کاربرد نهایی
 ب. کاربرد تعدیلات
 ج. کاربرد عمومی
 د. کاربرد فرعی
۳۰. کدام گزینه کاربرد کلیدی است که تمام کاربرگهای فرعی را کنترل و خلاصه می کند ؟
 الف. کاربرد تراز آزمایشی
 ب. کاربرد نهایی
 ج. کاربرد فرعی
 د. کاربرد مدارک تأیید کننده

۳۱. کدام گزینه از معایب برنامه حسابرسي به شمار می رود ؟

- الف. دشواری در تقسیم کار بین کارمندان حسابرسي
 ب. از بین رفتن امکان فراموش شدن بعضی رسیدگیها
 ج. از بین رفتن ابتکار در کارمندان حسابرسي
 د. امکان انجام کار توسط کارمندان با حداقل نظارت کارمندان ارشد

۳۲. آزمون اعتبار و آزمون دامنه جزء کنترلهای متداول برنامه ای کامپیوتر کدام گزینه هستند ؟

- الف. کنترلهای اطلاعات ورودی
 ب. کنترلهای اطلاعات پردازش اطلاعات
 ج. کنترلهای اطلاعات خروجی
 د. کنترلهای سخت افزار

۳۳. کدام گزینه را نمی توان از اهداف تدوین آیین رفتار حرفه ای بر شمرد ؟

- الف. ارائه رهنمود لازم به اعضا برای حفظ بهبود موازین اخلاقی و الزام به رعایت آنها از طرف اعضا
 ب. بکار گرفتن استانداردهای قابل قبول
 ج. جلوگیری از تخلفات و الزام توجه به اجرای مقررات اساسی و ضوابط حرفه ای
 د. دخالت ندادن عقاید و نظرات شخصی در وظیفه حرفه ای و خودداری از اظهار نظر جز در مواردی که مستنداً قابل اثبات باشد

۳۴. عبارت " حسابرسي باید در حفظ اسرار مؤسسه مورد رسیدگی مراقبت های کافی بعمل آورد و مراسلات و اسناد محرمانه مؤسسه را حفظ کند " مربوط به کدام گزینه است ؟

- الف. مسئولیت گزارش خلاف واقع ناشی از سوء نیت ب. مسئولیت حسابرسي در قبال اشخاص ثالث
 ج. مسئولیت حاصل از قصور و اهما د. مسئولیت حسابرسي در مقابل صاحبکار

۳۵. کدام گزینه به عنوان یک مدرک در پرونده دائمی نگهداری می شود ؟

- الف. وضعیت حقوق صاحبان سهام و رسیدگیهای مرتبط
 ب. خلاصه نقاط ضعف کنترلهای داخلی و نامه مدیریت
 ج. صورت حسابهای انتظامی
 د. کاربرگهای مربوط به کنترل صحت ثبت سیستم

نام درس: حسابداری مالیاتی

رشته تحصیلی / کد درس: حسابداری (۱۲۱۴۰۲۸)

تعداد سوالات: تستی: — تشریحی: ۶

زمان آزمون (دقیقه): تستی: — تشریحی: ۱۲۰

کد سری سؤال: یک (۱)

استفاده از ماشین حساب

مجاز است.

امام خمینی (ره): این محرم و صفر است که اسلام را زنده نگه داشته است.

۱. شرکت الف ساختمانی را برای امور اداری خود برای مدت یکسال از ۸۷/۱/۱ به مبلغ ۱۲۰/۰۰۰/۰۰۰ ریال سالیانه اجاره نموده است اگر مالکیت ساختمان مشاع بطور مساوی به ۳ نفر (هر نفر دو دانگ) تعلق داشته باشد و اجاره بها ساختمان سالیانه پرداخت گردد مالیات بر درآمد اجاره هر یک از مالکین در حالتهای ذیل چقدر است؟
الف) مالکین منابع درآمد دیگری ندارد و معافیت درآمد سالانه ۱۹/۲۰۰/۰۰۰ ریال است.
ب) اگر مالکین منابع درآمد دیگری داشته باشند. (۲ نمره)

۲. آقای سپهر از ۸۲/۱/۱ به استخدام شرکت آمودگان درآمد است حقوق و مزایای نامبرده به شرح ذیل است.
حقوق پایه ۲/۸۰۰/۰۰۰ ریال - فوق العاده شغل ۳۵۰/۰۰۰ ریال - فوق العاده محرومیت از تسهیلات زندگی ۴۵۰/۰۰۰ ریال - فوق العاده محل خدمت ۱۵۰/۰۰۰ ریال - فوق العاده خنجر ۳۰۰/۰۰۰ ریال ضمناً نامبرده در این ماه ۹۰۰/۰۰۰ ریال بن غیرنقدی و ۱/۲۰۰/۰۰۰ ریال اضافه کار داشته است.

مطلوبست محاسبه مالیات حقوق فروردین ماه ایشان با فرض اینکه معافیت ماهیانه حقوق ۱/۶۰۰/۰۰۰ ریال باشد.
در صورتیکه: الف) شرکت دولتی باشد ب) شرکت خصوصی باشد (۲ نمره)

۳. بخشی از ملک خانم تهرانی در طرح تعریض خیابان قرار گرفته است شهرتاری تهران بابت این تعریض مبلغ ۱۵۰ میلیون ریال برای ایشان در نظر گرفته است در حالیکه ایشان ادعای ۳۰۰ میلیون ریال را دارند اگر در این خصوص آقای محمدی به عنوان وکیل نامبرده دعوی ایشان را پیگیری کند مطلوبست محاسبه مالیات حق الوکاله آقای محمدی. (۲ نمره)

۴. اگر شخصی بابت انتقال حق واگذاری ملک خود ۱۵۰/۰۰۰ ریال مالیات بپردازد مبلغ دریافتی بابت فروش ملک چقدر است؟ (۲ نمره)

۵. در یک شرکت اطلاعات ذیل در دست است و شرکت جزء شرکتهای پذیرفته شده در بورس اوراق بهادار است مطلوبست محاسبه مالیات شرکت به فرض پذیرش کلیه هزینه ها توسط اداره دارائی. (۲ نمره)

درآمد فروش محصولات ۱۰۰/۰۰۰/۰۰۰

درآمد متفرقه ۱۰/۰۰۰/۰۰۰

هزینه های عملیاتی ۱۵۰/۰۰۰/۰۰۰

هزینه های متفرقه ۶/۰۰۰/۰۰۰

نام درس: حسابداری مالیاتی

رشته تحصیلی / کد درس: حسابداری (۱۲۱۴۰۲۸)

تعداد سوالات: تستی: — تشریحی: ۶

زمان آزمون (دقیقه): تستی: — تشریحی: ۱۲۰

کد سری سؤال: یک (۱)

استفاده از ماشین حساب

مجاز است.

۶. آقای حسینی، ایرانی و مقیم ایران در تاریخ ۸۱/۴/۳ فوت نموده - وارث او پسر - دختر و همسر او که همگی مقیم ایران هستند.

لیست ماترک متوفی

حساب سپرده بانکی در تهران ۳۰۰/۰۰۰/۰۰۰ ریال

ساختمان عرصه ۶۰۰ متر مربع ۹/۰۰۰/۰۰۰ و اعیان ۲۴۰ متر مربع ۱۳/۰۰۰/۰۰۰ ریال و بهای برآوردی آن ۲/۸ میلیارد

ریال سهام شرکت پذیرفته شده در بورس ۷۰/۰۰۰/۰۰۰ ریال

سهام شرکت سهامی عام ۳۰/۰۰۰/۰۰۰ ریال

سهام شرکت سهامی خاص ۶/۰۰۰/۰۰۰ ریال که توسط دارائی ۸/۰۰۰/۰۰۰ ریال ارزیابی شد.

اموال منقول واقع در نیویورک به مبلغ ۴۲/۰۰۰ دلار که بر اساس قوانین مالیاتی ایالات متحده امریکا مالیات اموال مزبور ۸۲۰۰ دلار می باشد.

پرداختی بیمه بابت بیمه عمر به بازماندگان به مبلغ ۱۸۰/۰۰۰/۰۰۰ ریال

اگر پسر متوفی ۱۹ سال و دختر او ۱۷ سال باشد مالیات سهم الارث هر یک از بازماندگان را محاسبه نمایید.

(نرخ محاسبه دلار معادل ۸۰۰۰ ریال است / مهریه همسر طبق رای دادگاه ۴۰/۰۰۰/۰۰۰ ریال) (۴ نمره)

نام درس: حسابداری مالیاتی

رشته تحصیلی / کد درس: حسابداری (۱۲۱۴۰۲۸)

تعداد سوالات: تستی: — تشریحی: ۶

زمان آزمون (دقیقه): تستی: — تشریحی: ۱۲۰

کد سری سؤال: یک (۱)

استفاده از ماشین حساب

مجاز است.

جداول پیوست سوالات حسابداری مالیاتی

نرخ ماده ۲۰

ش	طبقه اول	طبقه دوم	طبقه سوم
تا مبلغ ۵۰,۰۰۰,۰۰۰ ریال	۵٪	۱۵٪	۳۵٪
تا مبلغ ۲۰۰,۰۰۰,۰۰۰ ریال نسبت به مازاد ۵۰,۰۰۰,۰۰۰ ریال	۱۵٪	۲۵٪	۴۵٪
تا مبلغ ۵۰۰,۰۰۰,۰۰۰ ریال نسبت به مازاد ۲۰۰,۰۰۰,۰۰۰ ریال	۲۵٪	۳۵٪	۵۵٪
نسبت به مازاد ۵۰۰,۰۰۰,۰۰۰ ریال	۳۵٪	۴۵٪	۶۵٪

نرخ ماده ۵۹

نقل وانتقال قطعی املاک به مأخذ ارزش معاملاتی و به نرخ پنج درصد (۵٪) و همچنین انتقال حق واگذاری محل به مأخذ وجوه دریافتی ملک یا صاحب حق و به نرخ دو درصد (۲٪) در تاریخ انتقال از طرف مالکان عین یا صاحب حق مشمول مالیات می باشد.

نرخ ماده ۱۰۳

وکلاء دادگستری و کسانی که در محاکم اختصاصی وکالت می کنند مکلف اند در وکالتنامه های خود رقم حق الوکاله ها را قید نمایند و معادل ۵٪ آن را بابت مالیات بر وکالتنامه تمبر الصاق و ابطال نمایند

نرخ ماده ۱۰۵

جمع درآمد شرکت ها و درآمد ناشی از فعالیت های انتفاعی سایر اشخاص حقوقی که از منابع مختلف در ایران یا خارج از ایران حاصل می شود، پس از وضع زیان های حاصل از منابع مختلف در ایران یا خارج از ایران و پس از وضع زیان های حاصل از منابع غیر معاف و کسر معافیت های مقرر به استثنای مواردی که طبق مقررات این قانون دارای نرخ جداگانه ای می باشد مشمول مالیات به نرخ ۲۵٪ خواهند بود.

نرخ ماده ۱۳۱

ش	نرخ
تا مبلغ ۳۰,۰۰۰,۰۰۰ ریال	۱۵٪
تا مبلغ ۱۰۰,۰۰۰,۰۰۰ ریال نسبت به مازاد ۳۰,۰۰۰,۰۰۰ ریال	۲۰٪
تا مبلغ ۲۵۰,۰۰۰,۰۰۰ ریال نسبت به مازاد ۱۰۰,۰۰۰,۰۰۰ ریال	۲۵٪
تا مبلغ ۱,۰۰۰,۰۰۰,۰۰۰ ریال نسبت به مازاد ۲۵۰,۰۰۰,۰۰۰ ریال	۳۰٪
نسبت به مازاد ۱,۰۰۰,۰۰۰,۰۰۰ ریال	۳۵٪

نام درس: حسابداری پیشرفته ۲
 رشته تحصیلی / کد درس: حسابداری (ستى، تجميع) - ۱۲۱۴۰۲۹
 تعداد سوالات: تستی: — تشریحی: ۶
 زمان آزمون (دقیقه): تستی: — تشریحی: ۱۵۰

مجاز است.

استفاده از: ماشین حساب

کد سری سؤال: یک (۱)

امام خمینی^(ع): این محرم و صفر است که اسلام را زنده نگه داشته است.

۱. شرکتهای فرعی در چه شرایطی از تلفیق مستثنی هستند؟ (۱ نمره)

۲. شرکت الف ۸۰٪ سهام دارای حق رای شرکت ب را در ابتدای سال ۱۳۸۸ به مبلغ ۸۵۵,۰۰۰ ریال تحصیل نمود. ترازنامه دو شرکت در تاریخ تحصیل به شرح زیر می باشد:

شرکت ب	شرکت الف	شرح
۱۸۰,۰۰۰	۳۰۰,۰۰۰	وجود نقد
۹۰,۰۰۰	۱۲۰,۰۰۰	حسابهای دریافتی
۴۲۰,۰۰۰	۹۰,۰۰۰	موجودی کالا
۹۰,۰۰۰	۲۱۰,۰۰۰	زمین
۶۹۰,۰۰۰	۲,۳۷۰,۰۰۰	ساختمان و تجهیزات - خالص
—	۸۵۸,۰۰۰	سرمایه گذاری در شرکت ب
۱,۴۷۰,۰۰۰	۳,۹۴۵,۰۰۰	جمع
۱۸۰,۰۰۰	۵۷۰,۰۰۰	حسابهای پرداختنی
۳۹۰,۰۰۰	۴۵,۰۰۰	اسناد پرداختنی
—	۱,۸۰۰,۰۰۰	اوراق قرضه پرداختنی
۶۰۰,۰۰۰	۶۰۰,۰۰۰	سهم عادی
۳۰۰,۰۰۰	۹۳۰,۰۰۰	سود انباشته
۱,۴۷۰,۰۰۰	۳,۹۴۵,۰۰۰	جمع

در زمان تحصیل، ارزش منصفانه برخی اذدارئی ها و بدهی های شرکت ب به شرح زیر می باشد:

زمین ۱۲۰,۰۰۰ ریال و ساختمان و تجهیزات ۷۵۰,۰۰۰ ریال و اسناد پرداختنی ۴۱۴,۰۰۰ ریال می باشد. ارزش منصفانه سایر دارائی ها و بدهی ها با ارزش دفتری برابر می باشد.

مطلوبست: انجام ثبت های حذفی کاربرگ به روش خرید

تهیه کاربرگ تلفیقی. (۳/۵ نمره)

نام درس: حسابداری پیشرفته ۲
 رشته تحصیلی / کد درس: حسابداری (ستى، تجميع) - ۱۲۱۴۰۲۹
 تعداد سوالات: تستی: — تشریحی: ۶
 زمان آزمون (دقیقه): تستی: — تشریحی: ۱۵۰

مجاز است.

استفاده از: ماشین حساب

کد سری سؤال: یک (۱)

۳. شرکت محمد ۸۰٪ سهام عادی شرکت پارسا را در ۱۳۸۴/۱/۱ به ارزش ۶,۲۴۰,۰۰۰ ریال تحصیل نمود. در آن تاریخ سهام عادی و سود انباشته شرکت فرعى به ترتیب ۳,۹۰۰,۰۰۰ ریال و ۱,۹۵۰,۰۰۰ ریال مى باشد. تراز آزمایشی دو شرکت در ۱۳۸۸/۱۲/۲۹ به شرح زیر مى باشد:

شرکت پارسا	شرکت محمد	
۱,۲۰۰,۰۰۰	۲,۳۶۰,۰۰۰	بانک
۳۶۰,۰۰۰	۶۰۰,۰۰۰	حسابهای دریافتی - خالص
۲,۶۴۰,۰۰۰	۵,۲۸۰,۰۰۰	موجودی کالا
—	۷,۳۳۲,۰۰۰	سرمایه گذاری در سهام شرکت پارسا
۴,۳۲۰,۰۰۰	۵,۳۸۸,۰۰۰	اموال، ماشین آلات و تجهیزات - خالص
۳,۳۶۰,۰۰۰	۴,۲۰۰,۰۰۰	بهای تمام شده کالای فروش رفته
۴۸۰,۰۰۰	۷۲۰,۰۰۰	سایر هزینه ها
۳۹۰,۰۰۰	۱,۰۰۰,۰۰۰	سود سهام پرداخت شده
۱۲,۷۵۰,۰۰۰	۲۶,۸۸۰,۰۰۰	جمع
۲۴۰,۰۰۰	۷۸۸,۰۰۰	حسابهای پرداختی
۴۸۰,۰۰۰	۲,۸۸۰,۰۰۰	سایر بدهی ها
۳,۹۰۰,۰۰۰	۸,۸۰۰,۰۰۰	سهام عادی
۳,۵۱۰,۰۰۰	۷,۷۱۲,۰۰۰	سود انباشته
۴,۶۲۰,۰۰۰	۶,۰۰۰,۰۰۰	فروش
—	۷۸۰,۰۰۰	درآمد حاصل از سرمایه گذاری
۱۲,۷۵۰,۰۰۰	۲۶,۸۸۰,۰۰۰	جمع

سایر اطلاعات :

- موجودی کالای اول دوره شرکت محمد حاوی ۱,۴۴۰,۰۰۰ ریال کالای خریداری از شرکت پارسا می باشد که بهای تمام شده آن ۹۶۰,۰۰۰ ریال بوده و در سال جاری نیز به فروش رفته است.
- شرکت محمد کالایی به بهای تمام شده ۲,۴۰۰,۰۰۰ ریال را به مبلغ ۳,۶۰۰,۰۰۰ ریال به شرکت پارسا فروخت. در پایان سال موجودی کالای شرکت پارسا حاوی ۹۰۰,۰۰۰ ریال کالای دریافتی از شرکت محمد می باشد.
- از حسابهای دریافتی شرکت محمد مبلغ ۲۰۰,۰۰۰ ریال مربوط به شرکت پارسا می باشد.
- ارزش منصفانه و دفتر دارائی ها و بدهی ها شرکت فرعى برابر و هرگونه مابه التفاوت به حساب سرقتی منظور و طی ۱۰ سال مستهلک می شود.

نام درس: حسابداری پیشرفته ۲

رشته تحصیلی/ کد درس: حسابداری (ستى، تجميع) - ۱۲۱۴۰۲۹

تعداد سوالات: تستی: — تشریحی: ۶

زمان آزمون (دقیقه): تستی: — تشریحی: ۱۵۰

کد سری سؤال: یک (۱)

استفاده از: ماشین حساب

مجاز است.

- شرکت از روش ارزش ویژه برای سرمایه‌گذاری استفاده می‌نماید.

مطلوبست: انجام ثبت‌های حذفی کاربرگ. (۴/۲۵ نمره)

۴. شرکت الف (شرکت اصلی) در ۸۸/۷/۱ مبلغ ۱۱,۹۰۰,۰۰۰ ریال به شرکت ج (یک شرکت غیر وابسته) می‌پردازد تا اوراق قرضه شرکت ب (شرکت فرعی) را تحصیل نماید. اوراق قرضه مزبور در تاریخ ۸۵/۱/۱ با ارزش اسمی ۱۲,۵۰۰,۰۰۰ ریال ۵ ساله با نرخ بهره ۱۰٪ به مبلغ ۱۳,۱۲۵,۰۰۰ ریال توسط شرکت ب منتشر شده و بهره آن هر شش ماه یک بار پرداخت می‌گردد. روش استهلاک صرف یا کسر اوراق قرضه خط مستقیم و شرکت الف ۸۰٪ سهام عادی شرکت ب را تحصیل نموده است. مطلوبست:

انجام ثبت‌های حذفی کاربرگ سال ۸۸. (۲ نمره)

۵. شرکت آلفا مالک ۸۰٪ سهام عادی و ۶۰٪ سهام ممتاز ده درصدی با سود انباشته شرکت بتا می‌باشد. ارزش اسمی سهام ممتاز شرکت بتا ۵/۰۰۰/۰۰۰ ریال بوده و سود ویژه شرکت مزبور در سال ۱۳۸۹ معادل ۸/۰۰۰/۰۰۰ ریال بوده است. در صورتیکه سود ویژه عملیاتی شرکت آلفا ۲۰/۰۰۰/۰۰۰ ریال باشد، مطلوبست: (۱ نمره)

الف. محاسبه سهم اقلیت از سود ب. محاسبه مبلغ درآمد حاصل از سرمایه‌گذاری در سهام عادی.

۶. شرکت امیر ۸۰٪ سهام عادی شرکت محمد را در ۸۵/۱/۱ به ارزش دفتری خریداری نمود. سایر اطلاعات به شرح زیر می‌باشد:
- در ۱۳۸۷/۷/۱ شرکت امیر زمینی به بهای تمام شده ۲,۵۰۰,۰۰۰ ریال را به مبلغ ۲,۵۰۰,۰۰۰ ریال به شرکت محمد فروخت.
شرکت محمد نیز زمین فوق را به مبلغ ۱۸,۰۰۰,۰۰۰ ریال در سال ۸۸ به شرکت مهدی فروخت.
- شرکت محمد در ۸۸/۳/۳۱ وسایط نقلیه به ارزش ۴,۶۵۰,۰۰۰ ریال به شرکت امیر فروخت. وسایط نقلیه فوق در ۸۶/۱/۱ به ارزش ۷,۵۰۰,۰۰۰ ریال با عمر مفید ۱۰ سال (بدون ارزش اسقاط) خریداری شده است. مطلوبست:

انجام ثبت‌های حذفی کاربرگ سال ۸۸. (۲/۲۵ نمره)

تعداد سوالات: تستی: ۱۵ تشریحی: ۵
 زمان آزمون (دقیقه): تستی: ۸۰ تشریحی: ۸۰

نام درس: مدیریت مالی ۱
 رشته تحصیلی / گد درس: حسابداری (ستى و تجميع ۱۲۱۴۰۳۰)

مجاز است.

ماشین حساب

استفاده از:

گد سرى سؤال: يك (۱)

امام خمینی (ره): این محرم و صفر است که اسلام را زنده نگه داشته است.

۱. کدامیک از موارد زیر جزو وظایف مربوط به سودآوری یک مدیر مالی محسوب می شود؟

ب. کنترل هزینه

الف. پیش بینی جریان نقدی

د. اداره جریان منابع مالی داخلی

ج. تأمین منابع مالی

۲. ارزش هر سهم عادی بنگاهی ۲۰۰۰۰ واحد پولی می باشد. چنانچه تعداد سهام عادی این بنگاه ۳۵۰۰ سهم باشد و درآمد خالص آن معادل ۱۲۶۰۰۰۰۰ واحد پولی باشد بازده مورد انتظار سرمایه گذاران در این بنگاه کدامیک از گزینه های زیر می باشد؟

د. ۰/۱۸۰

ج. ۰/۱۶۰

ب. ۰/۱۴۰

الف. ۰/۱۲۰

۳. اگر فردی بخواهد چهار سال بعد پول برای خرید زمینی به ارزش ۵۰/۰۰۰/۰۰۰ ریال در اختیار داشته باشد، با فرض نرخ بهره ۱۰٪ در زمان حال چه مبلغی باید پس انداز کند؟

د. ۳۸/۴۸۲/۰۰۰۰

ج. ۳۶/۳۷۲/۰۰۰۰

ب. ۳۴/۱۵۰/۰۰۰۰

الف. ۳۲/۲۲۸/۰۰۰۰

۴. اگر شرکتی بخواهد به یکی از کارمندانش که شش سال بعد بازنشسته خواهد شد مبلغ ۱۸/۱۹۲/۰۰۰ ریال به صورت یکجا پس از بازنشستگی پرداخت کند، با فرض نرخ بهره ۸٪ در سال، این شرکت هر سال می بایست تقریباً چه مبلغی را پس انداز کند؟

د. ۵۴۰/۰۰۰۰

ج. ۸۰۰/۰۰۰۰

ب. ۷۲۰/۰۰۰۰

الف. ۶۰۰/۰۰۰۰

۵. نرخ بازده بدون مخاطره ۹٪، بقای سهم الف ۱/۴ و نرخ بازده کل بازار ۱۲٪ می باشد. قیمت سهم الف در ابتدای سال با فرض اینکه در پایان سال قیمت این سهم ۷۸۰ ریال باشد و شرکت نیز ۳۲ ریال سود نقدی به ازای هر سهم پرداخت کند کدامیک از موارد زیر است؟

د. ۸۷۵

ج. ۷۰۰

ب. ۶۰۰

الف. ۴۵۰

۶. با توجه به قاعده میانگین - انحراف معیار مارکویتز و با توجه به اطلاعات زیر کدامیک از گزینه های زیر صحیح می باشد؟

طرح ب		طرح الف	
احتمال	بازده خالص	احتمال	بازده خالص
۰/۰۵	۲۰۰	۰/۲۵	۱۰۰
۰/۲۵	۰	۰/۲۵	۲۰۰
۰/۳۰	۵۰۰	۰/۲۵	۳۰۰
۰/۴۰	۱۰۰	۰/۲۵	۲۰۰

ب. طرح ب بر طرح الف ترجیح دارد

الف. طرح الف بر طرح ب ترجیح دارد

د. اطلاعات برای اظهار نظر کافی نمی باشد

ج. هر دو طرح یکسان می باشند

نام درس: مدیریت مالی ۱

رشته تحصیلی / گد درس: حسابداری (ستتی و تجميع ۱۲۱۴۰۳۰)

تعداد سوالات: تستی: ۱۵ تشریحی: ۵
زمان آزمون (دقیقه): تستی: ۸۰ تشریحی: ۸۰

گد سری سؤال: یک (۱)

استفاده از:

ماشین حساب

مجاز است.

۷. افزایش نرخ مالیات، بر نرخ بهره مؤثر اوراق قرضه چه اثری دارد؟

الف. گاهی سبب افزایش و گاهی سبب کاهش می شود.

ب. سبب افزایش نرخ بهره مؤثر می شود.

ج. سبب کاهش نرخ بهره مؤثر می شود.

د. هیچ تأثیری بر روی آن ندارد.

۸. سهام شرکتی در گذشته با نرخ ۸٪ رشد داشته است. این شرکت امسال به اندازه ۵ واحد پولی به هر سهم سود پرداخت کرده است. اگر قیمت هر سهم این شرکت در بازار ۱۲۰ واحد پولی باشد، بازده مورد انتظار سرمایه گذاران در این شرکت کدامیک از گزینه های زیر می باشد؟

الف. ۱۰/۷۵٪

ب. ۱۵/۲۵٪

ج. ۱۷/۵۰٪

د. ۱۲/۵۰٪

۹. طبق فرضیه بازار کارا، در بازار با کارایی ضعیف کدامیک از انواع اطلاعات، در قیمت های جاری منعکس شده و تأثیر خود را بر قیمت های جاری گذاشته است؟

الف. اطلاعات عمومی بازار

ب. اطلاعاتی که در اختیار گروه خاصی است.

ج. اطلاعات مربوط به قیمت های تاریخی و زمان حال

د. اطلاعات مربوط به قیمت های تاریخی

۱۰. اوراق قرضه ای به ارزش اسمی ۱۵۰۰۰ واحد پولی منتشر شده است. نرخ بهره این اوراق ۱۴٪ است که به صورت سالانه پرداخت می شود. سررسید این اوراق ۱۷ سال بعد می باشد. با فرض نرخ بازده مورد انتظار ۱۰٪، در حال حاضر برای خرید چنین اوراق قرضه ای چه مبلغی باید پرداخت؟

الف. ۱۸۷۶۹/۵۲

ب. ۱۹۸۱۶/۲۰

ج. ۲۲۷۶۸/۲۴

د. ۲۰۶۷۸/۴۸

۱۱. اگر ارزش فعلی خالص طرحی مثبت باشد می توان نتیجه گرفت:

الف. شاخص سودآوری کوچکتر از ۱ است

ب. نرخ بازده طرح برابر با هزینه سرمایه است

ج. نرخ بازده طرح بیش از هزینه سرمایه است.

د. هزینه سرمایه طرح بزرگتر از نرخ بازده طرح است

۱۲. ارزش فعلی جریان نقدی طرح الف ۱۰۰۰ و سرمایه گذاری در طرح الف ۸۰۰ ریال می باشد اگر ارزش فعلی جریان نقدی طرح ب ۲۰۰۰ و سرمایه گذاری در طرح ب ۱۹۰۰ ریال باشد کدام طرح بر اساس شاخص سودآوری انتخاب می شود؟

الف. طرح الف و ب

ب. طرح ب

ج. اطلاعات برای پاسخگوئی کافی نیست

د. طرح الف

۱۳. کدامیک از گزینه های زیر ضعیف ترین معیار اندازه گیری یک طرح سرمایه گذاری می باشد؟

الف. ARR

ب. NPV / I

ج. IRR

د. NPV

نام درس: مدیریت مالی ۱

رشته تحصیلی / گد درس: حسابداری (ستى و تجميع ۱۲۱۴۰۳۰)

تعداد سوالات: تستى: ۱۵ تشریحى: ۵

زمان آزمون (دقیقه): تستى: ۸۰ تشریحى: ۸۰

گد سرى سؤال: یک (۱)

استفاده از:

ماشین حساب

مجاز است.

۱۴. کدامیک از موارد زیر جزو ایرادات روش پیش بینی محافظه کارانه (از روشهای تحلیل مخاطره طرح) محسوب می شود؟
- الف. احتمال رد نادرست طرحهای کم مخاطره - اتکا بیش از حد به قضاوت مدیر مالی - بیش از حد پرهزینه بودن این روش
- ب. سادگی طرح - دقیق نبودن نتایج بدست آمده از این روش - در نظر نگرفتن تفاوت مخاطره طرحهای یک طبقه
- ج. اتکا بیش از حد به قضاوت مدیر مالی - خطر ارائه پیش بینی بالاتر توسط پیشنهاد کننده طرح - احتمال رد نادرست طرحهای کم مخاطره
- د. بیش از حد پرهزینه بودن طرح - دقیق نبودن نتایج بدست آمده از این روش - سادگی بیش از حد طرح
۱۵. حد اقل نرخ بازده قابل قبول انواع طرحهای شرکتی به صورت زیر است:
- تنوع محصول ۲۰٪ - توسعه خط تولید ۱۲٪ - آموزش نیروی انسانی ۱۵٪
- شرکت سه طرح را پیش روی خود دارد، با توجه به اطلاعات زیر و بر اساس معیار خالص ارزش فعلی به ترتیب کدام طرحها دارای اولویتند؟
- طرح A: تولید محصولی جدید با استفاده از خط تولید فعلی با هزینه ۳۵۰۰۰ واحد پولی و درآمد سالانه ۱۵۰۰۰ واحد برای سه سال
- طرح B: ایجاد خط تولید جدیدی در شهری دیگر برای تولید بیشتر محصولات فعلی با هزینه اولیه ۹۰۰۰۰ و درآمد سالانه ۲۶۰۰۰ واحد پولی برای پنج سال
- طرح C: آموزش نیروی انسانی جهت ارتقاء کیفیت محصولات با هزینه اولیه ۲۵۰۰۰ و صرفه جویی مبلغ ۴۰۰۰۰ واحد پولی پس از دو سال
- الف. A-C-B
ب. A-B-C
ج. C-B-A
د. C-A-B

نام درس: مدیریت مالی ۱

رشته تحصیلی / گد درس: حسابداری (ستى و تجميع ۱۲۱۴۰۳۰)

تعداد سوالات: تستى: ۱۵ تشریحى: ۵

زمان آزمون (دقیقه): تستى: ۸۰ تشریحى: ۸۰

گد سرى سؤال: يك (۱)

استفاده از:

ماشين حساب

مجاز است.

« سوالات تشریحى »

۱. وظايف مدير مالی را نام برده و يك مورد را به اختصار توضيح دهيد. ۱/۵ نمره

۲. شرکت الف تعداد ۱۰۰۰ برگ ورقة قرضه شرکت ب را خریداری نموده است. ارزش اسمى هر برگه ۱۰۰۰۰ ريال و بهره سالانه آن ۱۵٪ است که در پايان هر سال پرداخت مى گردد. سررسيد اين اوراق ۵ ساله است. شرکت الف همچنين تعداد ۵۰۰۰۰ سهم به ارزش اسمى هر سهم ۱۰۰۰ ريال دارد که نرخ رشد سود سهام اين شرکت تاکنون ۴٪ بوده است و پيش بينى مى شود به همين نحو رشد داشته باشد. پيش بينى مى شود در پايان امسال به ميزان ۱۰۰ واحد پولى به هر سهم سود پرداخت گردد. چنانچه بخواهيم با دريافت وامى با نرخ بهره ۲۲٪ شرکت الف را خریداری کنيم حداکثر مبلغ قابل پرداخت بابت خريد اين شرکت را محاسبه نماييد. ۲/۵ نمره

۳. شرکتى دو طرح سرمايه گذارى را در دست بررسى دارد. با توجه به اطلاعات زير مطلوب است ارزيابى و اظهار نظر در مورد رد يا پذيرش اين طرحها از طريق روشهاى زير:

۱- روش ارزش فعلى خالص ۲- روش دوره برگشت سرمايه
طرح الف: سرمايه گذارى اوليه اين طرح ۸ ساله به مبلغ ۸۰۰۰۰ واحد پولى و جريان نقدينه آن برای ۸ سال آينده به شرح زير است:

سال اول ۴۰۰۰۰ ريال ، سال دوم صفر ، سال سوم ۹۰۰۰۰ ريال ، سال چهارم ۳۵۰۰۰ ريال و سال پنجم تا هشتم هر ساله ۲۰۰۰۰ ريال .

نرخ بازده بدون ريسک در بازار ۵٪ و نرخ بازده کل بازار ۹٪ و بتای سهام اين شرکت ۱/۵ ميباشد.

طرح ب: سرمايه گذارى اوليه اين طرح دائمی ۲۲۰۰۰۰ واحد پولى و جريان نقدي سالانه آن ۲۵۰۰۰ واحد پولى ميباشد. ۲/۵ نمره

۴. تركيب منابع مالی شرکت الف به شرح زير ميباشد. با توجه به اطلاعات زير هزينه سرمايه شرکت را محاسبه کنيد.

اوراق قرضه ۰/۳۵ کل منابع (ارزش اسمى هر ورقة قرضه ۵۰۰۰ ريال و سود سالانه به ازای هر ورقة ۶۰۰ ريال است).

سهام ممتاز ۰/۲۵ کل منابع (ارزش هر سهم ممتاز ۲۰۰ ريال و سوديکه شرکت از بابت آن مى پردازد ۳۵ واحد در سال است).

سهام عادى ۰/۴۰ کل منابع (نرخ رشد سالانه ۴٪ و سود نقدي سال آينده ۱۵۰ ريال به ازای هر سهم و قيمت هر سهم در بازار ۱۵۰۰ واحد است). ۲ نمره

تعداد سوالات: تستى: ۱۵ تشریحى: ۵
 زمان آزمون (دقیقه): تستى: ۸۰ تشریحى: ۸۰

نام درس: مدیریت مالی ۱
 رشته تحصیلی / گد درس: حسابداری (ستى و تجميع ۱۲۱۴۰۳۰)

مجاز است.

ماشین حساب

استفاده از:

گد سرى سؤال: یک (۱)

۵. با توجه به اطلاعات زیر ابتدا بازده دو طرح را محاسبه کرده و سپس با استفاده از معیار ضریب تغییرات معین کنید کدام طرح ارجحیت دارد؟ ۱ نمره

طرح الف:

دوره	۱	۲	۳
بازده	۳۰۰۰	۴۰۰۰	۲۵۰۰
احتمال	۰/۳	۰/۶	۰/۱

طرح ب:

دوره	۱	۲	۳
بازده	۳۰۰۰	۴۰۰۰	۲۵۰۰
احتمال	۰/۷	۰/۱	۰/۲

www.Sanjesh3.com

تعداد سوالات: تستى: ۱۵ تشریحى: ۵
 زمان آزمون (دقیقه): تستى: ۸۰ تشریحى: ۸۰

نام درس: مدیریت مالی ۱
 رشته تحصیلی / گد درس: حسابداری (ستى و تجميع ۱۲۱۴۰۲۰)

مجاز است.

ماشین حساب

استفاده از:

گد سرى سؤال: یک (۱)

(F/p. ۱۰۰۰)

Year	1%	2%	3%	4%	5%	6%	7%	8%	9%	10%	11%	12%	13%	14%	15%
1	1.010	1.020	1.030	1.040	1.050	1.060	1.070	1.080	1.090	1.100	1.110	1.120	1.130	1.140	1.150
2	1.020	1.040	1.061	1.082	1.102	1.124	1.145	1.166	1.188	1.210	1.232	1.254	1.277	1.300	1.322
3	1.030	1.061	1.093	1.125	1.158	1.191	1.225	1.260	1.295	1.331	1.366	1.405	1.443	1.482	1.521
4	1.041	1.082	1.126	1.170	1.216	1.262	1.311	1.360	1.412	1.464	1.518	1.574	1.630	1.689	1.749
5	1.051	1.104	1.159	1.217	1.276	1.338	1.403	1.469	1.539	1.611	1.685	1.762	1.842	1.925	2.011
6	1.062	1.126	1.194	1.265	1.340	1.419	1.501	1.587	1.677	1.772	1.870	1.974	2.082	2.195	2.313
7	1.072	1.149	1.230	1.316	1.407	1.504	1.606	1.714	1.828	1.949	2.076	2.211	2.353	2.502	2.660
8	1.083	1.172	1.267	1.369	1.477	1.594	1.718	1.851	1.993	2.144	2.305	2.476	2.658	2.849	3.059
9	1.094	1.195	1.305	1.423	1.551	1.689	1.838	1.999	2.172	2.358	2.558	2.773	3.004	3.252	3.518
10	1.105	1.219	1.344	1.480	1.629	1.791	1.967	2.159	2.367	2.594	2.839	3.106	3.395	3.707	4.046
11	1.116	1.243	1.384	1.539	1.710	1.898	2.105	2.332	2.580	2.853	3.152	3.479	3.835	4.219	4.632
12	1.127	1.268	1.426	1.601	1.796	2.012	2.252	2.518	2.813	3.138	3.498	3.896	4.335	4.818	5.350
13	1.138	1.294	1.469	1.665	1.886	2.133	2.410	2.720	3.066	3.452	3.883	4.363	4.897	5.492	6.153
14	1.149	1.319	1.513	1.732	1.980	2.261	2.579	2.937	3.342	3.797	4.310	4.887	5.535	6.261	7.076
15	1.161	1.346	1.558	1.801	2.079	2.397	2.759	3.172	3.642	4.177	4.785	5.474	6.254	7.138	8.137
16	1.173	1.373	1.605	1.873	2.183	2.540	2.952	3.426	3.970	4.595	5.311	6.130	7.067	8.137	9.358
17	1.184	1.400	1.653	1.948	2.292	2.693	3.159	3.700	4.328	5.054	5.895	6.855	7.986	9.276	10.761
18	1.196	1.428	1.702	2.026	2.407	2.854	3.380	3.996	4.717	5.560	6.544	7.690	9.024	10.575	12.375
19	1.208	1.457	1.754	2.107	2.527	3.026	3.617	4.316	5.142	6.125	7.263	8.613	10.197	12.056	14.232
20	1.220	1.486	1.806	2.191	2.652	3.207	3.870	4.661	5.604	6.728	8.062	9.646	11.523	13.743	16.367
21	1.232	1.516	1.860	2.279	2.786	3.400	4.141	5.034	6.109	7.400	8.949	10.804	13.021	15.668	18.822
22	1.245	1.546	1.916	2.370	2.925	3.604	4.430	5.437	6.652	8.140	9.934	12.100	14.714	17.861	21.645
23	1.257	1.577	1.974	2.465	3.072	3.820	4.741	5.871	7.258	8.954	11.026	13.552	16.627	20.362	24.891
24	1.270	1.608	2.033	2.563	3.225	4.049	5.072	6.341	7.911	9.829	12.239	15.179	18.788	23.212	28.625
25	1.282	1.641	2.094	2.666	3.386	4.292	5.427	6.842	8.623	10.835	13.585	17.000	21.231	26.462	32.919
26	1.295	1.673	2.157	2.772	3.556	4.549	5.807	7.395	9.395	11.918	15.080	19.040	23.990	30.167	37.857
27	1.308	1.707	2.221	2.883	3.733	4.822	6.214	7.984	10.245	13.110	16.739	21.325	27.109	34.390	43.535
28	1.321	1.741	2.288	2.999	3.920	5.112	6.540	8.524	11.167	14.421	18.580	23.884	30.633	39.204	50.066
29	1.335	1.776	2.357	3.119	4.116	5.418	7.113	9.317	12.172	15.863	20.624	26.750	34.616	44.693	57.575
30	1.348	1.811	2.427	3.243	4.322	5.743	7.812	10.063	13.268	17.449	22.892	29.960	39.116	50.950	66.212
31	1.361	1.846	2.499	3.372	4.538	6.078	8.529	10.884	14.421	19.040	25.462	33.021	43.021	56.261	74.857
32	1.374	1.881	2.572	3.504	4.758	6.407	9.112	11.367	15.167	20.445	27.495	36.130	47.130	62.470	85.966
33	1.387	1.916	2.648	3.636	4.983	6.789	9.640	12.000	16.421	22.000	29.960	40.240	52.240	69.580	99.075
34	1.400	1.951	2.725	3.770	5.213	7.174	10.245	13.167	17.727	24.000	33.021	45.350	59.460	80.690	112.184
35	1.413	1.986	2.803	3.906	5.448	7.563	10.884	14.421	19.040	26.000	36.130	49.460	64.570	87.800	127.293
36	1.426	2.021	2.883	4.043	5.688	7.958	11.500	15.668	20.445	28.000	39.116	53.580	70.690	95.910	144.402
37	1.439	2.056	2.964	4.184	5.938	8.359	12.245	16.739	22.000	30.240	42.240	58.700	78.800	106.020	163.511
38	1.452	2.091	3.046	4.329	6.193	8.766	13.000	17.966	24.000	33.021	45.350	63.810	86.910	118.130	184.620
39	1.465	2.126	3.129	4.476	6.453	9.179	13.867	19.293	26.000	36.130	49.460	69.920	96.020	131.240	207.730
40	1.478	2.161	3.213	4.626	6.708	9.600	14.727	20.668	28.000	39.116	53.580	75.030	106.130	145.350	232.840
41	1.491	2.196	3.299	4.778	6.968	10.027	15.668	22.000	30.240	42.240	58.700	81.140	112.240	157.460	260.950
42	1.504	2.231	3.386	4.933	7.233	10.460	16.668	23.445	33.021	45.350	63.810	86.910	120.350	169.570	291.060
43	1.517	2.266	3.472	5.091	7.503	10.900	17.727	25.000	36.130	49.460	69.920	96.020	131.240	184.620	324.170
44	1.530	2.301	3.560	5.252	7.778	11.347	18.867	26.668	39.116	53.580	75.030	106.130	145.350	207.730	360.280
45	1.543	2.336	3.649	5.416	8.058	11.800	20.000	28.000	42.240	58.700	81.140	112.240	157.460	232.840	400.390
46	1.556	2.371	3.739	5.583	8.345	12.245	21.245	30.240	45.350	63.810	86.910	120.350	169.570	260.950	444.500
47	1.569	2.406	3.830	5.754	8.638	12.700	22.500	33.021	49.460	69.920	96.020	131.240	184.620	291.060	493.610
48	1.582	2.441	3.922	5.928	8.938	13.167	23.867	36.130	53.580	75.030	106.130	145.350	207.730	324.170	546.720
49	1.595	2.476	4.016	6.105	9.243	13.640	25.333	39.116	58.700	81.140	112.240	157.460	232.840	360.280	604.830
50	1.608	2.511	4.111	6.286	9.554	14.127	26.867	42.240	63.810	86.910	120.350	169.570	260.950	391.390	667.940
51	1.621	2.546	4.207	6.471	9.871	14.620	28.445	45.350	69.920	96.020	131.240	184.620	291.060	427.500	736.050
52	1.634	2.581	4.304	6.660	10.195	15.127	30.000	49.460	75.030	106.130	145.350	207.730	324.170	468.610	810.160
53	1.647	2.616	4.402	6.853	10.526	15.640	31.668	53.580	81.140	112.240	157.460	232.840	360.280	504.720	890.270
54	1.660	2.651	4.501	7.050	10.863	16.160	33.333	58.700	86.910	120.350	169.570	260.950	391.390	546.720	977.380
55	1.673	2.686	4.601	7.252	11.208	16.693	35.000	63.810	96.020	131.240	184.620	291.060	427.500	593.490	1071.490
56	1.686	2.721	4.702	7.459	11.560	17.240	36.727	69.920	106.130	145.350	207.730	324.170	468.610	635.500	1173.600
57	1.699	2.756	4.804	7.670	11.918	17.787	38.500	75.030	112.240	157.460	232.840	360.280	504.720	683.610	1283.710
58	1.712	2.791	4.907	7.885	12.283	18.340	40.333	81.140	120.350	169.570	260.950	391.390	546.720	737.720	1401.820
59	1.725	2.826	5.011	8.104	12.655	18.907	42.222	86.910	131.240	184.620	291.060	427.500	593.490	797.830	1527.930
60	1.738	2.861	5.117	8.328	13.033	19.480	44.167	96.020	145.350	207.730	324.170	468.610	635.500	857.940	1662.040
61	1.751	2.896	5.224	8.557	13.418	20.060	46.167	106.130	157.460	232.840	360.280	504.720	593.490	918.050	1804.150
62	1.764	2.931	5.332	8.791	13.809	20.647	48.222	112.240	169.570	260.950	391.390	546.720	635.500	988.160	1954.260
63	1.777	2.966	5.441	9.030	14.206	21.240	50.333	120.350	184.620	291.060	427.500	593.490			

تعداد سوالات: تستی: ۱۵ تشریحی: ۵

نام درس: مدیریت مالی ۱

زمان آزمون (دقیقه): تستی: ۸۰ تشریحی: ۸۰

رشته تحصیلی / گد درس: حسابداری (ستى و تجميع ۱۲۱۴۰۲۰)

مجاز است.

ماشین حساب

استفاده از:

گد سرى سؤال: يك (۱)

(F/A, L, n)

n	1%	2%	3%	4%	5%	6%	7%	8%	9%	10%	11%	12%	13%	14%	15%
1	1.000	1.000	1.000	1.000	1.000	1.000	1.000	1.000	1.000	1.000	1.000	1.000	1.000	1.000	1.000
2	2.010	2.020	2.030	2.040	2.050	2.060	2.070	2.080	2.090	2.100	2.110	2.120	2.130	2.140	2.150
3	3.030	3.060	3.091	3.122	3.152	3.184	3.215	3.246	3.278	3.310	3.342	3.374	3.407	3.440	3.472
4	4.060	4.122	4.184	4.246	4.310	4.375	4.440	4.506	4.573	4.641	4.710	4.779	4.850	4.921	4.993
5	5.101	5.204	5.309	5.416	5.526	5.637	5.751	5.867	5.985	6.105	6.228	6.353	6.480	6.610	6.742
6	6.152	6.308	6.468	6.633	6.802	6.975	7.153	7.336	7.523	7.716	7.913	8.115	8.323	8.538	8.754
7	7.214	7.434	7.662	7.898	8.142	8.394	8.654	8.923	9.200	9.487	9.783	10.089	10.405	10.730	11.067
8	8.286	8.583	8.892	9.214	9.549	9.897	10.260	10.637	11.028	11.436	11.859	12.300	12.757	13.233	13.727
9	9.369	9.755	10.159	10.583	11.027	11.491	11.978	12.488	13.021	13.578	14.164	14.776	15.416	16.085	16.786
10	10.462	10.950	11.464	12.006	12.578	13.181	13.816	14.487	15.193	15.937	16.722	17.549	18.420	19.337	20.304
11	11.567	12.169	12.808	13.486	14.207	14.972	15.784	16.645	17.560	18.531	19.561	20.655	21.814	23.045	24.350
12	12.682	13.412	14.192	15.026	15.917	16.870	17.888	18.977	20.141	21.384	22.713	24.133	25.650	27.277	29.022
13	13.809	14.680	15.618	16.627	17.713	18.882	20.141	21.495	22.953	24.523	26.212	28.029	29.983	32.089	34.352
14	14.947	15.974	17.088	18.292	19.599	21.015	22.551	24.215	26.019	27.975	30.095	32.393	34.883	37.581	40.505
15	16.097	17.293	18.599	20.024	21.579	23.276	25.129	27.152	29.361	31.772	34.405	37.280	40.417	43.832	47.580
16	17.258	18.639	20.157	21.825	23.657	25.672	27.888	30.324	33.003	35.950	39.190	42.733	46.672	50.980	55.717
17	18.430	20.012	21.762	23.697	25.840	28.213	30.840	33.750	36.974	40.545	44.501	48.884	53.732	59.118	65.075
18	19.615	21.412	23.414	25.645	28.132	30.906	33.999	37.450	41.301	45.599	50.396	55.750	61.725	68.394	75.836
19	20.811	22.840	25.117	27.671	30.539	33.760	37.379	41.446	46.019	51.153	56.939	63.440	70.749	78.969	88.212
20	22.019	24.297	26.870	29.778	33.066	36.786	40.996	45.762	51.160	57.275	64.263	72.092	80.947	91.025	102.44
21	23.239	25.783	28.676	31.969	35.719	39.993	44.865	50.423	56.765	64.003	72.265	81.699	92.470	104.77	118.81
22	24.472	27.299	30.537	34.248	38.505	43.392	49.006	55.457	62.873	71.463	81.211	92.503	105.49	120.44	137.63
23	25.716	28.845	32.453	36.618	41.430	46.998	53.436	60.893	69.532	79.543	90.748	104.60	120.20	138.30	159.28
24	26.973	30.422	34.426	39.083	44.502	50.815	58.177	66.765	76.790	88.487	102.17	118.16	136.83	158.66	184.17
25	28.243	32.030	36.459	41.646	47.727	54.664	63.249	73.106	84.704	98.347	114.41	133.33	155.62	181.87	212.79
26	29.526	33.671	38.553	44.312	51.113	59.156	68.977	79.954	93.324	109.18	128.00	150.33	176.85	208.33	245.71
27	30.821	35.344	40.710	47.084	54.669	63.708	74.884	87.351	102.77	121.10	143.08	169.37	200.84	238.50	283.57
28	32.129	37.051	42.931	49.968	58.402	68.528	80.699	95.388	113.27	134.21	159.82	190.70	227.95	272.89	327.10
29	33.450	38.792	45.219	52.966	62.323	73.640	87.347	103.97	124.14	148.63	179.40	214.56	258.58	312.09	377.17
30	34.785	40.568	47.575	56.085	66.439	79.058	94.431	113.22	136.31	164.49	199.02	241.33	293.20	356.79	434.75

n	16%	17%	18%	19%	20%	21%	22%	23%	24%	25%	26%	27%	28%	29%	30%
1	1.000	1.000	1.000	1.000	1.000	1.000	1.000	1.000	1.000	1.000	1.000	1.000	1.000	1.000	1.000
2	2.160	2.170	2.180	2.190	2.200	2.210	2.220	2.230	2.240	2.250	2.260	2.270	2.280	2.290	2.300
3	3.326	3.339	3.352	3.366	3.380	3.394	3.408	3.423	3.437	3.451	3.466	3.481	3.496	3.511	3.526
4	4.506	4.514	4.525	4.539	4.553	4.568	4.582	4.597	4.612	4.627	4.642	4.657	4.672	4.687	4.702
5	5.687	5.704	5.715	5.729	5.742	5.757	5.771	5.786	5.801	5.816	5.831	5.846	5.861	5.876	5.891
6	6.977	6.997	7.012	7.027	7.042	7.057	7.072	7.087	7.102	7.117	7.132	7.147	7.162	7.177	7.192
7	8.144	8.167	8.182	8.197	8.212	8.227	8.242	8.257	8.272	8.287	8.302	8.317	8.332	8.347	8.362
8	9.311	9.337	9.353	9.369	9.385	9.401	9.417	9.433	9.449	9.465	9.481	9.497	9.513	9.529	9.545
9	10.480	10.508	10.526	10.544	10.562	10.580	10.598	10.616	10.634	10.652	10.670	10.688	10.706	10.724	10.742
10	11.650	11.680	11.710	11.740	11.770	11.800	11.830	11.860	11.890	11.920	11.950	11.980	12.010	12.040	12.070
11	12.821	12.853	12.885	12.917	12.949	12.981	13.013	13.045	13.077	13.109	13.141	13.173	13.205	13.237	13.269
12	14.000	14.034	14.068	14.102	14.136	14.170	14.204	14.238	14.272	14.306	14.340	14.374	14.408	14.442	14.476
13	15.179	15.215	15.250	15.285	15.320	15.355	15.390	15.425	15.460	15.495	15.530	15.565	15.600	15.635	15.670
14	16.358	16.396	16.434	16.472	16.510	16.548	16.586	16.624	16.662	16.700	16.738	16.776	16.814	16.852	16.890
15	17.537	17.576	17.615	17.653	17.692	17.730	17.768	17.807	17.845	17.883	17.922	17.960	17.998	18.037	18.075
16	18.716	18.756	18.795	18.834	18.873	18.912	18.951	18.990	19.029	19.068	19.107	19.146	19.185	19.224	19.263
17	19.895	19.936	19.976	20.015	20.054	20.093	20.132	20.171	20.210	20.249	20.288	20.327	20.366	20.405	20.444
18	21.074	21.115	21.155	21.194	21.233	21.272	21.311	21.350	21.389	21.428	21.467	21.506	21.545	21.584	21.623
19	22.253	22.294	22.334	22.373	22.412	22.451	22.490	22.529	22.568	22.607	22.646	22.685	22.724	22.763	22.802
20	23.432	23.473	23.513	23.552	23.591	23.630	23.669	23.708	23.747	23.786	23.825	23.864	23.903	23.942	23.981
21	24.611	24.652	24.692	24.731	24.770	24.809	24.848	24.887	24.926	24.965	25.004	25.043	25.082	25.121	25.160
22	25.790	25.831	25.871	25.910	25.949	25.988	26.027	26.066	26.105	26.144	26.183	26.222	26.261	26.300	26.339
23	26.969	27.010	27.050	27.089	27.128	27.167	27.206	27.245	27.284	27.323	27.362	27.401	27.440	27.479	27.518
24	28.148	28.189	28.229	28.268	28.307	28.346	28.385	28.424	28.463	28.502	28.541	28.580	28.619	28.658	28.697
25	29.327	29.368	29.408	29.447	29.486	29.525	29.564	29.603	29.642	29.681	29.720	29.759	29.798	29.837	29.876
26	30.506	30.547	30.587	30.626	30.665	30.704	30.743	30.782	30.821	30.860	30.899	30.938	30.977	31.016	31.055
27	31.685	31.726	31.766	31.805	31.844	31.883	31.922	31.961	32.000	32.039	32.078	32.117	32.156	32.195	32.234
28	32.864	32.905	32.945	32.984	33.023	33.062	33.101	33.140	33.179	33.218	33.257	33.296	33.335	33.374	33.413
29	34.043	34.084	34.124	34.163	34.202	34.241	34.280	34.319	34.358	34.397	34.436	34.475	34.514	34.553	34.592
30	35.222	35.263	35.303	35.342	35.381	35.420	35.459	35.498	35.537	35.576	35.615	35.654	35.693	35.732	35.771
31	36.401	36.442	36.482	36.521	36.560	36.599	36.638	36.677	36.716	36.755	36.794	36.833	36.872	36.911	36.950
32	37.580	37.621	37.661	37.700	37.739	37.778	37.817	37.856	37.895	37.934	37.973	38.012	38.051	38.090	38.129
33	38.759	38.799	38.839	38.878	38.917	38.956	38.995	39.034	39.073	39.112	39.151	39.190	39.229	39.268	39.307
34	39.938	39.978	40.018	40.057	40.096	40.135	40.174	40.213	40.252	40.291	40.330	40.369	40.408	40.447	40.486
35	41.117	41.157	41.196	41.235	41.274	41.313	41.352	41.391	41.430	41.469	41.508	41.547	41.586	41.625	41.664
36	42.296	42.336	42.375	42.414	42.453	42.492	42.531	42.570	42.609	42.648	42.687	42.726	42.765	42.804	42.843
37	43.475	43.515	43.554	43.593	43.632	43.671	43.710	43.749	43.788	43.827	43.866	43.905	43.944	43.983	44.022
38	44.654	44.694	44.733	44.772	44.811	44.850	44.889	44.928	44.967	45.006	45.045	45.084	45.123	45.162	45.201
39	45.833	45.873	45.912	45.951	45.990	46.029	46.068	46.107	46.146	46.185	46.224	46.263	46.302	46.341	46.380
40	47.012	47.052	47.091	47.130	47.169	47.208	47.247	47.286	47.325	47.364	47.403	47.442	47.481	47.520	47.559
41	48.191	48.231	48.270	48.309	48.348	48.387	48.426	48.465	48.504	48.543	48.582	48.621	48.660	48.699	48.738
42	49.370	49.410	49.449	49.488	49.527	49.566	49.605	49.644	49.683	49.722	49.761	49.800	49.839	49.878	49.917
43	50.549	50.589	50.628	50.667	50.706	50.745	50.784	50.823	50.862	50.901	50.940	50.979	51.018	51.057	51.096
44	51.728	51.768	51.807	51.846	51.885	51.924	51.963	52.002	52.041	52.080	52.119	52.158	52.197	52.236	52.275
45	52.907	52.947	52.986	53.025	53.064	53.103	53.142	53.181	53.220	53.259	53.298	53.337	53.376	53.415	53.454
46	54.086	54.126	54.165	54.204	54.243	54.282	54.321	54.360	54.399	54.438	54.477	54.516	54.555	54.594	54.633
47	55.265	55.305	55.344	55.383	55.422	55.461	55.500	55.539	55.578	55.617	55.656	55.695	55.734	55.773	55.812
48	56.444	56.484	56.523	56.562	56.601	56.640	56.679	56.718	56.757	56.796	56.835	56.874	56.913	56.952	56.991
49	57.623	57.663	57.702	57.741	57.780	57.819	57.858	57.897	57.936	57.975	58.014	58.053	58.092	58.131	58.170
50	58.802	58.842	58.881	58.920	58.959	58.998	59.037	59.076	59.115	59.154	59.193	59.232	59.271	59.310	59.349
51	59.981	60.020	60.059	60.098	60.137	60.176	60.215	60.254	60.293	60.332	60.371	60.410	60.449	60.488	60.527
52	61.160	61.200	61.239	61.278	61.317	61.356	61.395	61.434	61.473	61.512	61.551	61.590	61.629	61.668	61.707
53	62.339	62.378	62.417	62.456	62.495	62.534	62.573	62.612	62.651	62.690	62.729	62.768	62.807	62.846	62.885
54	63.518	63.557	63.596	63.635	63.674	63.713	63.752	63.791	63.830	63.869	63.908	63.947	63.986	64.025	64.064
55	64.697	64.736	64.775	64.814	64.853	64.892	64.931	64.970	65.009	65.048	65.087	65.126	65.165	65.204	65.243
56	65.876	65.915	65.954	65.993	66.032	66.071	66.110	66.149	66.188	66.227	66.266	66.305	66.344	66.383	66.422
57	67.055	67.094	67.133	67.172	67.211	67.250	67.289	67.328	67.367	67.406	67.445	67.484	67.523	67.562	67.601
58	68.234	68.273	68.312	68.351	68.390	68.429	68.468	68.507	68.546	68.585	68.624	68.663	68.702	68.741	68.780
59	69.413	69.452	69.491	69.530	69.569	69.608	69.647	69.686	69.725	69.764	69.803	69.842	69.881	69.920	69.959
60	70.592	70.631	70.670	70.709	70.748	70.787	70.826	70.865	70.904	70.943	70.982	71.021	71.060	71.099	71.138
61	71.771	71.810	71.849	71.888	71.927	71.966	72.005	72.044	72.083	72.122	72.161	72.200	72.239	72.278	72.317
62	72.950	72.989	73.028	73.067	73.106	73.145	73.184	73.223	73.262	73.301	73.340	73.379	73.418	73.457	73.496
63	74.129	74.168	74.207	74.246	74.285	74.324	74.363	74.402	74.441	74.480	74.519	74.558	74.597	74.636	74.675
64	75.308	75.347	75.386	75.425	75.464	75.503	75.542	75.581	75.620	75.659	75.698	75.737	75.776	75.815	75.854
65	76.487	76.526	76.565	76.604	76.643	76.682	76.721	76.760	76.799	76.838	76.877	76.916	76.955	76.994	77.033
66	77.666	77.705	77.744	77.783	77.822	77.861	77.900	77.939	77.978	78.017	78.056	78.095	78.134	78.173	78.212
67	78.845	78.884	78.923	78.962	79.001	79.040	79.079	79.118	79.157	79.196	79.235	79.274	79.313	79.352	79.391
68	79.624	79.663	79.702	79.741	79.780	79.819	79.858	79.897	79.936	79.975	80.014	80.053	80.092	80.131	80.170
69	80.803	80.842	80.881	80.920	80.959	80.998	81.037	81.076	81.115	81.154	81.193	81.232	81.271	81.310	81.349
70	81.982	82.021	82.060	82.099	82.138	82.177	82.216	82.255	82.294	82.333	82.372	82.411	82.450	82.489	82.528
71	83.161	83.200	83.239	83.278	83.317	83.356									

تعداد سوالات: تستى: ۱۵ تشریحى: ۵

نام درس: مدیریت مالی ۱

زمان آزمون (دقیقه): تستى: ۸۰ تشریحى: ۸۰

رشته تحصیلی / کد درس: حسابداری (ستى و تجميع ۱۲۱۴۰۳۰)

مجاز است

ماشین حساب

استفاده از:

کد سرى سؤال: یک (۱)

(P/F و n)

Year	1%	2%	3%	4%	5%	6%	7%	8%	9%	10%	11%	12%	13%	14%	15%
1	0.990	0.980	0.971	0.962	0.952	0.943	0.935	0.926	0.917	0.909	0.901	0.893	0.885	0.877	0.870
2	0.980	0.961	0.943	0.925	0.907	0.890	0.873	0.857	0.842	0.826	0.812	0.797	0.783	0.769	0.756
3	0.971	0.942	0.915	0.889	0.864	0.840	0.816	0.794	0.772	0.751	0.731	0.712	0.693	0.675	0.658
4	0.961	0.924	0.888	0.855	0.823	0.792	0.763	0.735	0.708	0.683	0.659	0.636	0.613	0.592	0.572
5	0.951	0.906	0.863	0.822	0.784	0.747	0.713	0.681	0.650	0.621	0.593	0.567	0.543	0.519	0.497
6	0.942	0.888	0.837	0.790	0.746	0.705	0.666	0.630	0.596	0.564	0.535	0.507	0.480	0.456	0.432
7	0.933	0.871	0.813	0.760	0.711	0.665	0.623	0.583	0.547	0.513	0.482	0.452	0.425	0.400	0.376
8	0.923	0.853	0.789	0.731	0.677	0.627	0.582	0.540	0.502	0.467	0.434	0.404	0.376	0.351	0.327
9	0.914	0.837	0.766	0.703	0.645	0.592	0.544	0.500	0.460	0.424	0.391	0.361	0.333	0.308	0.284
10	0.905	0.820	0.744	0.676	0.614	0.558	0.508	0.463	0.422	0.386	0.352	0.322	0.295	0.270	0.247
11	0.896	0.804	0.722	0.650	0.585	0.527	0.475	0.429	0.388	0.350	0.317	0.287	0.261	0.237	0.215
12	0.887	0.788	0.701	0.625	0.557	0.497	0.444	0.397	0.356	0.319	0.286	0.257	0.231	0.208	0.187
13	0.879	0.773	0.681	0.601	0.530	0.469	0.415	0.368	0.326	0.290	0.258	0.229	0.204	0.182	0.163
14	0.870	0.758	0.661	0.577	0.505	0.442	0.388	0.340	0.299	0.263	0.232	0.205	0.181	0.160	0.141
15	0.861	0.743	0.642	0.555	0.481	0.417	0.362	0.315	0.275	0.239	0.209	0.183	0.160	0.140	0.123
16	0.853	0.728	0.623	0.534	0.459	0.394	0.339	0.292	0.252	0.218	0.188	0.163	0.141	0.123	0.107
17	0.844	0.714	0.605	0.513	0.436	0.371	0.317	0.270	0.231	0.196	0.170	0.146	0.125	0.108	0.093
18	0.836	0.700	0.587	0.494	0.418	0.350	0.296	0.250	0.212	0.186	0.153	0.130	0.111	0.095	0.081
19	0.828	0.686	0.570	0.475	0.398	0.331	0.277	0.232	0.194	0.169	0.138	0.116	0.098	0.083	0.070
20	0.820	0.673	0.554	0.456	0.377	0.312	0.258	0.215	0.178	0.149	0.124	0.104	0.087	0.073	0.061
21	0.811	0.659	0.538	0.439	0.359	0.294	0.242	0.199	0.164	0.135	0.112	0.093	0.077	0.064	0.053
22	0.803	0.647	0.522	0.422	0.342	0.278	0.226	0.184	0.150	0.123	0.101	0.083	0.069	0.056	0.046
23	0.795	0.634	0.507	0.406	0.326	0.262	0.211	0.170	0.138	0.113	0.091	0.074	0.060	0.049	0.040
24	0.788	0.622	0.492	0.390	0.310	0.247	0.197	0.158	0.126	0.102	0.082	0.066	0.053	0.043	0.035
25	0.780	0.610	0.478	0.375	0.295	0.233	0.184	0.146	0.116	0.092	0.074	0.059	0.047	0.038	0.030
26	0.772	0.598	0.464	0.361	0.281	0.220	0.172	0.135	0.106	0.084	0.066	0.053	0.042	0.033	0.026
27	0.764	0.586	0.450	0.347	0.268	0.207	0.161	0.125	0.097	0.076	0.060	0.047	0.037	0.029	0.023
28	0.757	0.574	0.437	0.333	0.255	0.196	0.150	0.115	0.088	0.069	0.054	0.042	0.033	0.026	0.020
29	0.749	0.563	0.424	0.321	0.243	0.185	0.141	0.107	0.082	0.063	0.048	0.037	0.029	0.022	0.017
30	0.742	0.552	0.412	0.308	0.231	0.174	0.131	0.099	0.075	0.057	0.044	0.033	0.026	0.020	0.015

Year	16%	17%	18%	19%	20%	21%	22%	23%	24%	25%	26%	27%	28%	29%	30%
1	0.862	0.835	0.809	0.784	0.760	0.737	0.715	0.693	0.672	0.650	0.630	0.610	0.591	0.572	0.553
2	0.743	0.731	0.718	0.706	0.694	0.683	0.672	0.661	0.650	0.640	0.630	0.620	0.610	0.601	0.592
3	0.641	0.624	0.609	0.593	0.579	0.564	0.551	0.537	0.524	0.512	0.500	0.488	0.477	0.466	0.455
4	0.553	0.534	0.516	0.499	0.482	0.467	0.451	0.437	0.423	0.410	0.397	0.384	0.373	0.361	0.350
5	0.476	0.456	0.437	0.419	0.402	0.386	0.370	0.355	0.341	0.328	0.315	0.303	0.291	0.280	0.269
6	0.410	0.390	0.370	0.352	0.335	0.319	0.303	0.289	0.275	0.262	0.250	0.238	0.227	0.217	0.207
7	0.354	0.333	0.314	0.296	0.279	0.263	0.249	0.235	0.222	0.210	0.198	0.186	0.178	0.168	0.159
8	0.305	0.285	0.266	0.249	0.233	0.218	0.204	0.191	0.179	0.168	0.157	0.146	0.139	0.130	0.123
9	0.263	0.243	0.225	0.209	0.194	0.180	0.167	0.155	0.144	0.134	0.125	0.116	0.108	0.101	0.094
10	0.227	0.208	0.191	0.176	0.162	0.149	0.137	0.126	0.116	0.107	0.099	0.092	0.085	0.078	0.073
11	0.195	0.178	0.162	0.146	0.135	0.123	0.112	0.103	0.094	0.086	0.079	0.072	0.066	0.061	0.056
12	0.168	0.152	0.137	0.124	0.112	0.102	0.092	0.083	0.076	0.069	0.062	0.057	0.052	0.047	0.043
13	0.145	0.130	0.116	0.104	0.093	0.084	0.075	0.068	0.061	0.055	0.050	0.045	0.040	0.037	0.033
14	0.125	0.111	0.099	0.088	0.078	0.069	0.062	0.055	0.049	0.044	0.039	0.035	0.032	0.028	0.025
15	0.108	0.095	0.084	0.074	0.065	0.057	0.051	0.045	0.040	0.035	0.031	0.028	0.025	0.022	0.020
16	0.093	0.081	0.071	0.062	0.054	0.047	0.042	0.036	0.032	0.028	0.025	0.022	0.019	0.017	0.015
17	0.080	0.069	0.060	0.052	0.045	0.039	0.034	0.030	0.026	0.023	0.020	0.017	0.015	0.013	0.012
18	0.069	0.059	0.051	0.044	0.038	0.032	0.028	0.024	0.021	0.018	0.016	0.014	0.012	0.010	0.009
19	0.060	0.051	0.043	0.037	0.031	0.027	0.023	0.020	0.017	0.014	0.012	0.011	0.009	0.008	0.007
20	0.051	0.043	0.037	0.031	0.026	0.022	0.019	0.016	0.014	0.012	0.010	0.008	0.007	0.006	0.005
21	0.044	0.037	0.031	0.026	0.022	0.018	0.015	0.013	0.011	0.009	0.008	0.007	0.006	0.005	0.004
22	0.038	0.032	0.026	0.022	0.018	0.015	0.013	0.011	0.009	0.007	0.006	0.005	0.004	0.004	0.003
23	0.033	0.027	0.022	0.018	0.015	0.012	0.010	0.009	0.007	0.006	0.005	0.004	0.003	0.003	0.002
24	0.028	0.023	0.019	0.015	0.013	0.010	0.008	0.007	0.006	0.005	0.004	0.003	0.003	0.002	0.002
25	0.024	0.020	0.016	0.013	0.010	0.009	0.007	0.006	0.005	0.004	0.003	0.003	0.002	0.002	0.001
26	0.021	0.017	0.014	0.011	0.009	0.007	0.006	0.005	0.004	0.003	0.002	0.002	0.002	0.001	0.001
27	0.018	0.014	0.011	0.009	0.007	0.006	0.005	0.004	0.003	0.002	0.002	0.002	0.001	0.001	0.001
28	0.016	0.012	0.010	0.008	0.006	0.005	0.004	0.003	0.002	0.002	0.002	0.001	0.001	0.001	0.001
29	0.014	0.011	0.008	0.006	0.005	0.004	0.003	0.002	0.002	0.002	0.001	0.001	0.001	0.001	0.000
30	0.012	0.009	0.007	0.005	0.004	0.003	0.003	0.002	0.002	0.001	0.001	0.001	0.001	0.000	0.000

تعداد سوالات: تستی: ۱۵ تشریحی: ۵

نام درس: مدیریت مالی ۱

زمان آزمون (دقیقه): تستی: ۸۰ تشریحی: ۸۰

رشته تحصیلی / گد درس: حسابداری (ستى و تجميع ۱۲۱۴۰۲۰)

مجاز است.

ماشین حساب

استفاده از:

كد سرى سؤال: يك (۱)

(P/A, i, n)

n	1%	2%	3%	4%	5%	6%	7%	8%	9%	10%	11%	12%	13%	14%	15%
1	0.990	0.980	0.971	0.962	0.952	0.943	0.935	0.926	0.917	0.909	0.901	0.893	0.885	0.877	0.870
2	1.970	1.942	1.913	1.886	1.859	1.833	1.808	1.783	1.759	1.736	1.713	1.690	1.668	1.647	1.626
3	2.941	2.884	2.829	2.775	2.723	2.673	2.624	2.577	2.531	2.487	2.444	2.402	2.361	2.322	2.283
4	3.902	3.808	3.717	3.630	3.546	3.465	3.387	3.312	3.240	3.170	3.102	3.037	2.974	2.914	2.856
5	4.853	4.713	4.580	4.452	4.329	4.212	4.100	3.993	3.890	3.791	3.696	3.605	3.517	3.433	3.352
6	5.795	5.601	5.417	5.242	5.076	4.917	4.767	4.623	4.486	4.355	4.231	4.111	3.998	3.889	3.784
7	6.728	6.472	6.230	6.002	5.786	5.582	5.389	5.206	5.033	4.868	4.712	4.564	4.423	4.288	4.160
8	7.652	7.325	7.020	6.733	6.463	6.210	5.971	5.747	5.535	5.335	5.146	4.968	4.799	4.639	4.487
9	8.566	8.152	7.786	7.435	7.108	6.802	6.515	6.247	5.995	5.759	5.537	5.328	5.132	4.945	4.772
10	9.471	8.983	8.530	8.111	7.722	7.360	7.024	6.710	6.418	6.145	5.889	5.650	5.426	5.216	5.019
11	10.368	9.787	9.253	8.760	8.306	7.887	7.499	7.139	6.805	6.495	6.207	5.938	5.687	5.453	5.234
12	11.255	10.575	9.954	9.385	8.863	8.364	7.943	7.536	7.181	6.814	6.492	6.194	5.918	5.660	5.421
13	12.134	11.348	10.635	9.966	9.394	8.853	8.358	7.904	7.487	7.103	6.750	6.424	6.122	5.843	5.583
14	13.004	12.106	11.296	10.563	9.899	9.295	8.745	8.244	7.786	7.367	6.982	6.628	6.302	6.002	5.724
15	13.865	12.849	11.938	11.118	10.380	9.712	9.108	8.559	8.061	7.606	7.191	6.811	6.462	6.142	5.847
16	14.718	13.578	12.561	11.652	10.838	10.106	9.447	8.851	8.313	7.824	7.379	6.974	6.602	6.265	5.954
17	15.562	14.292	13.166	12.166	11.274	10.477	9.763	9.122	8.544	8.022	7.549	7.120	6.729	6.373	6.047
18	16.398	14.992	13.754	12.859	11.690	10.828	10.059	9.372	8.756	8.201	7.702	7.250	6.840	6.467	6.128
19	17.226	15.678	14.324	13.134	12.085	11.158	10.336	9.604	8.950	8.365	7.839	7.360	6.936	6.550	6.198
20	18.045	16.351	14.877	13.590	12.462	11.470	10.594	9.818	9.129	8.514	7.953	7.459	7.025	6.623	6.259
21	18.857	17.011	15.415	14.029	12.821	11.764	10.836	10.017	9.292	8.649	8.075	7.562	7.102	6.687	6.312
22	19.660	17.658	15.937	14.451	13.163	12.042	11.061	10.201	9.442	8.772	8.178	7.645	7.170	6.743	6.359
23	20.456	18.292	16.444	14.857	13.489	12.303	11.272	10.371	9.580	8.883	8.266	7.718	7.230	6.792	6.399
24	21.243	18.914	16.936	15.247	13.799	12.550	11.469	10.529	9.707	9.000	8.368	7.804	7.293	6.835	6.434
25	22.023	19.523	17.413	15.622	14.094	12.783	11.654	10.675	9.823	9.077	8.422	7.843	7.330	6.873	6.464
26	22.795	20.121	17.877	15.983	14.375	13.003	11.826	10.810	9.929	9.161	8.488	7.896	7.372	6.906	6.491
27	23.560	20.707	18.327	16.330	14.643	13.211	11.987	10.933	10.029	9.237	8.548	7.943	7.409	6.935	6.514
28	24.316	21.281	18.764	16.663	14.898	13.406	12.137	11.051	10.116	9.307	8.602	7.984	7.441	6.961	6.534
29	25.066	21.844	19.188	16.984	15.141	13.591	12.278	11.158	10.198	9.370	8.650	8.022	7.470	6.983	6.551
30	25.808	22.396	19.600	17.292	15.372	13.765	12.409	11.259	10.274	9.427	8.694	8.055	7.496	7.003	6.566

n	16%	17%	18%	19%	20%	21%	22%	23%	24%	25%	26%	27%	28%	29%	30%
1	0.862	0.853	0.847	0.840	0.833	0.826	0.820	0.813	0.806	0.800	0.794	0.787	0.781	0.775	0.769
2	1.605	1.585	1.566	1.547	1.528	1.509	1.492	1.474	1.457	1.440	1.424	1.407	1.392	1.376	1.361
3	2.245	2.210	2.174	2.140	2.106	2.074	2.042	2.011	1.981	1.952	1.923	1.895	1.868	1.842	1.816
4	2.795	2.743	2.690	2.638	2.589	2.540	2.494	2.448	2.404	2.362	2.320	2.280	2.241	2.203	2.166
5	3.274	3.199	3.127	3.058	2.991	2.926	2.864	2.803	2.745	2.689	2.635	2.583	2.532	2.483	2.436
6	3.685	3.589	3.498	3.410	3.326	3.245	3.167	3.092	3.020	2.951	2.885	2.821	2.759	2.700	2.643
7	4.035	3.922	3.812	3.706	3.605	3.508	3.416	3.327	3.242	3.161	3.083	3.009	2.937	2.868	2.802
8	4.344	4.207	4.078	3.954	3.837	3.726	3.619	3.518	3.421	3.329	3.241	3.156	3.076	2.999	2.925
9	4.607	4.451	4.303	4.163	4.031	3.905	3.786	3.673	3.566	3.463	3.366	3.273	3.184	3.100	3.019
10	4.833	4.659	4.494	4.339	4.192	4.054	3.923	3.799	3.682	3.571	3.465	3.364	3.269	3.178	3.092
11	5.029	4.836	4.656	4.487	4.327	4.177	4.035	3.902	3.776	3.656	3.543	3.437	3.335	3.239	3.147
12	5.197	4.988	4.793	4.611	4.439	4.278	4.127	3.985	3.851	3.725	3.606	3.493	3.387	3.286	3.190
13	5.342	5.118	4.910	4.715	4.533	4.362	4.203	4.053	3.912	3.780	3.656	3.538	3.427	3.322	3.223
14	5.468	5.229	5.008	4.802	4.611	4.432	4.265	4.108	3.962	3.824	3.695	3.573	3.459	3.351	3.249
15	5.575	5.324	5.092	4.876	4.675	4.489	4.315	4.153	4.001	3.859	3.726	3.601	3.483	3.373	3.268
16	5.668	5.405	5.162	4.938	4.730	4.536	4.357	4.189	4.033	3.887	3.751	3.623	3.503	3.390	3.283
17	5.749	5.475	5.222	4.990	4.775	4.576	4.391	4.219	4.059	3.910	3.771	3.640	3.518	3.403	3.295
18	5.818	5.534	5.273	5.033	4.812	4.608	4.419	4.243	4.080	3.928	3.786	3.654	3.529	3.413	3.304
19	5.877	5.584	5.316	5.070	4.843	4.635	4.442	4.263	4.097	3.942	3.799	3.664	3.539	3.421	3.311
20	5.929	5.628	5.353	5.101	4.870	4.657	4.460	4.279	4.110	3.954	3.808	3.673	3.546	3.427	3.316
21	5.973	5.665	5.384	5.127	4.891	4.675	4.476	4.292	4.121	3.963	3.816	3.679	3.551	3.432	3.320
22	6.011	5.696	5.410	5.149	4.909	4.690	4.488	4.302	4.130	3.970	3.822	3.684	3.556	3.436	3.323
23	6.044	5.723	5.432	5.167	4.925	4.703	4.499	4.311	4.137	3.976	3.827	3.689	3.559	3.438	3.325
24	6.073	5.746	5.451	5.182	4.937	4.713	4.507	4.318	4.143	3.981	3.831	3.692	3.562	3.441	3.327
25	6.097	5.766	5.467	5.195	4.948	4.721	4.514	4.323	4.147	3.985	3.834	3.694	3.564	3.442	3.329
26	6.118	5.783	5.480	5.206	4.956	4.728	4.520	4.328	4.151	3.988	3.837	3.696	3.566	3.444	3.330
27	6.136	5.798	5.492	5.215	4.964	4.734	4.524	4.332	4.154	3.990	3.839	3.698	3.567	3.445	3.331
28	6.152	5.810	5.502	5.223	4.970	4.739	4.528	4.335	4.157	3.992	3.840	3.699	3.568	3.446	3.331
29	6.166	5.820	5.510	5.229	4.975	4.743	4.531	4.337	4.159	3.994	3.841	3.700	3.569	3.446	3.332
30	6.177	5.829	5.517	5.235	4.979	4.746	4.534	4.339	4.160	3.995	3.842	3.701	3.569	3.447	3.332

تعداد سوالات: تستی: ۴۰ تشریحی: --

زمان آزمون (دقیقه): تستی: ۶۰ تشریحی: --

نام درس: اصول تنظیم و کنترل بودجه دولتی

رشته تحصیلی / کد درس: حسابداری (استی ۱۲۱۴۰۳۱ - تجميع ۱۲۱۴۰۳۹)

مجاز است.

استفاده از: --

کد سری سؤال: یک (۱)

امام خمینی (ع): این محرم و صفر است که اسلام را زنده نگه داشته است.

- کتاب «تئوری عمومی اشتغال بهره و پول» اثر کدام اقتصاد دان است؟
 الف. کینز ب. اسمیت ج. لئون سه د. فریدمن
- فرآیندی که طی آن چگونگی استفاده از کلیه منابع و امکانات جهت تولید کالا تعیین می گردد مربوط به کدام وظیفه دولت است؟
 الف. توزیعی ب. تثبیتی ج. قانونی د. تخصیصی
- تدابیر مربوط به تدوین و حفظ مقررات اقتصادی کدام وظیفه دولت را نشان می دهد؟
 الف. توزیعی ب. تثبیتی ج. قانونی د. تخصیصی
- اولین بودجه از طرف سازمان برنامه در چه سالی در قوه مقننه تصویب شد؟
 الف. ۱۳۵۱ ب. ۱۳۴۴ ج. ۱۳۲۷ د. ۱۳۳۶
- ریشه اصلی تنظیم بودجه چه عاملی است؟
 الف. سیاسی ب. اقتصادی ج. اجتماعی د. فرهنگی
- اینکه درآمدها و هزینه ها نباید با یکدیگر تهاثر شوند بر کدام اصل بودجه ای تاکید دارد؟
 الف. وحدت ب. جامعیت ج. شمولیت د. انعطاف پذیری
- قاعده بودجه ناویژه و اصل عدم تخصیص درآمدها نتایج منطقی کدام اصل است؟
 الف. وحدت ب. انعطاف پذیری ج. جامعیت د. شمولیت
- کدام اصل به معنی اصلاح بودجه و استثناء بر اصل تخصیص می باشد؟
 الف. انعطاف پذیری ب. تعادل ج. سالیانه بودن د. جامعیت
- کدام هزینه از اصول بودجه نمی باشد؟
 الف. تعادل ب. سالیانه بودن ج. جامعیت د. تحدیدی بودن درآمدها
- فریدمن و آدام اسمیت از کدام نظریه حمایت می کردند؟
 الف. توازن ماهیانه بودجه ب. تعادل بلندمدت بودجه ج. عدم تعادل بودجه د. توازن سالیانه بودجه
- اعتبارات جاری و اعتبارات عمرانی (سرمایه گذاری ثابت) از محل کدام درآمدها تأمین می شود؟
 الف. درآمد اختصاصی ب. درآمد عمومی ج. درآمد شرکتهای دولتی د. درآمد مالیاتی
- قدیمی ترین و متداول ترین طبقه بندی بودجه ای کدامست؟
 الف. سازمانی ب. عملیاتی ج. هزینه ای د. درآمدی
- مجموعه ای از کوشش های سازمان یافته که بخش عمده و قابل ملاحظه ای از وظایف دولت را در برمی گیرد چه نامیده می شود؟
 الف. امور ب. فصل ج. طرح د. فعالیت

تعداد سوالات: نستی: ۴۰ تشریحی: --
 زمان آزمون (دقیقه): نستی: ۶۰ تشریحی: --

نام درس: اصول تنظيم و کنترل بودجه دولتي
 رشته تحصیلی / گد درس: حسابداری (ستى ۱۲۱۴۰۳۱ - تجميع ۱۲۱۴۰۳۹)

مجاز است.

استفاده از: --

گد سري سؤال: يك (۱)

۱۴. انواع طرح‌های عمرانی کدامند؟
 الف. انتفاعی و غیر انتفاعی
 ج. غیرانتفاعی و مطالعاتی
 ب. انتفاعی و مطالعاتی
 د. انتفاعی ، غیرانتفاعی و مطالعاتی
۱۵. عالی‌ترین ارگان اجرائی کشور که با قصد تحقق یک یا چند هدف دولت به وجود می‌آید کدامست؟
 الف. مؤسسات دولتي
 ب. وزارتخانه
 ج. شرکتهای دولتي
 د. نهادهای عمومی غیردولتي
۱۶. سازمان انرژی اتمی در کدام دسته از سازمانها قرار می‌گیرد؟
 الف. نهاد عمومی غیردولتي
 ب. شرکت دولتي
 ج. مؤسسه دولتي مستقل
 د. مؤسسه دولتي وابسته
۱۷. سازمان تأمین اجتماعی از کلمه سازمانهای محسوب می‌شود؟
 الف. نهادهای عمومی غیردولتي
 ب. مؤسسات دولتي
 ج. شرکتهای دولتي
 د. مؤسسات انتفاعی
۱۸. در طبقه‌بندی‌های بودجه‌ای کدام یک در ایران انجام نمی‌شود؟
 الف. سازمانی
 ب. اقتصادی
 ج. عملیاتی
 د. هزینه‌ای
۱۹. ریاست شورای اقتصاد به عهده کیست؟
 الف. رئیس سازمان مدیریت و برنامه ریزی
 ب. وزیر دارایی
 ج. رئیس بانک مرکزی
 د. رئیس جمهور
۲۰. آخرین مرحله از مراحل بودجه کدامست؟
 الف. تهیه و تنظیم بودجه
 ب. اجرای بودجه
 ج. کنترل بودجه
 د. تصویب بودجه
۲۱. تهیه برنامه عمرانی ۵ ساله، تهیه و تنظیم بودجه کشور را کدام نهاد انجام می‌دهد؟
 الف. وزارت دارایی
 ب. سازمان مدیریت و برنامه ریزی
 ج. دیوان محاسبات
 د. خزانه داری کل
۲۲. سازمان بازرسی کشور زیر نظر کدام قوه یا قوا فعالیت می‌کند؟
 الف. قوه مجریه و مقننه
 ب. قوه مجریه
 ج. قوه مقننه
 د. قوه قضائیه
۲۳. پیش نویس بخش نامه بودجه توسط کدام نهاد تهیه می‌شود؟
 الف. سازمان مدیریت و برنامه ریزی
 ب. خزانه داری کل
 ج. وزارت دارایی
 د. شورای اقتصاد
۲۴. بررسی برنامه‌ها و بهبود مدیریت به کدام بُعد توجه دارند؟
 الف. کارایی - کارایی
 ب. کارایی - اثربخشی
 ج. اثربخشی - کارایی
 د. اثر بخشی - اثربخشی

تعداد سوالات: تستی: ۴۰ تشریحی: --

زمان آزمون (دقیقه): تستی: ۶۰ تشریحی: --

نام درس: اصول تنظیم و کنترل بودجه دولتی

رشته تحصیلی / کد درس: حسابداری (استی ۱۲۱۴۰۳۱ - تجميع ۱۲۱۴۰۳۹)

مجاز است.

استفاده از: --

کد سری سؤال: یک (۱)

۲۵. کدام مورد در لایحه بودجه قرار ندارد؟

الف. پیام بودجه ب. بخشنامه بودجه ج. متن لایحه بودجه د. پیوستهای بودجه

۲۶. جهت تصویب نهائی بودجه کدام مرجع نظر می‌دهد؟

الف. مجلس ب. دیوان محاسبات ج. شورای اقتصاد د. شورای نگهبان

۲۷. اختصاص دادن تمام یا قسمتی از اعتبارات مصوب برای هزینه معین چه نامیده می‌شود؟

الف. تأمین اعتبار ب. تخصیص اعتبار ج. درخواست وجه د. تعهد

۲۸. آخرین مرحله از مراحل اجرای بودجه کدامست؟

الف. درخواست وجه ب. تأمین اعتبار ج. هزینه د. تسجیل

۲۹. منظور از پرداخت‌های قطعی چیست؟

الف. تنخواه پرداخت ب. علی الحساب‌ها ج. پیش پرداخت‌ها د. هزینه‌ها

۳۰. ساخت یک بیمارستان در ناحیه مورد نیاز به هزینه قابل قبول مربوط به کدام شاخص است؟

الف. غیراثربخش و ناکارآمد ب. اثربخش و ناکارآمد

ج. غیراثربخش و کارآمد د. اثربخش و کارآمد

۳۱. جهت جلوگیری از اسراف از دیدگاه کلان در کدام مرحله از بودجه قابل اجراست؟

الف. تصویب بودجه ب. نظارت بودجه ج. تنظیم بودجه د. اجرای بودجه

۳۲. مسئولیت تأمین اعتبار و تطبیق پرداخت با قوانین و مقررات به عهده چه کسی است؟

الف. ذیحساب ب. عامل ذیحساب

ج. وزیر یا رئیس موسسه د. رئیس جمهور

۳۳. وظیفه نظارت عملیاتی برعهده چه نهادی است؟

الف. وزارت دارائی ب. سازمان مدیریت ج. دیوان محاسبات د. خزانه داری کل

۳۴. وظیفه نظارت قضایی برعهده چه نهادی است؟

الف. وزارت دارائی ب. دیوان محاسبات ج. سازمان مدیریت د. خزانه داری کل

۳۵. در چه روشی پیش بینی درآمدها بر اساس تجزیه و تحلیل همبستگی‌ها و جمع‌آوری پرسش نامه‌های نمونه انجام می‌شود؟

الف. روش سال ماقبل آخر ب. روش حد متوسط‌ها

ج. روش پیش بینی مستقیم د. روش سنجیده منظم

۳۶. در کدام روش بودجه بندی، هزینه‌های آینده به هزینه‌های گذشته بستگی ندارد؟

الف. بودجه افزایشی ب. بودجه عملیاتی ج. بودجه بندی بر مبنای صفر د. بودجه برنامه‌ای

۳۷. اخذ مالیات تصاعدی و پرداخت یارانه به طبقات ضعیف جهت اجرای کدام قدرت است؟

الف. تعدیلی ب. تصحیحی ج. تشویقی د. تعدیلی و تشویقی

تعداد سوالات: تستی: ۴۰ تشریحی: —

زمان آزمون (دقیقه): تستی: ۶۰ تشریحی: —

نام درس: اصول تنظیم و کنترل بودجه دولتی

رشته تحصیلی / کد درس: حسابداری (استی ۱۲۱۴۰۳۱ - تجميع ۱۲۱۴۰۳۹)

مجاز است.

استفاده از: —

کد سری سؤال: یک (۱)

۲۸. انتخاب غلط سیستم مالیاتی و سازمان غلط وصول درآمدها باعث کدام کسری می‌شود؟

الف. کسر بودجه اداری

ج. کسر مربوط به ساختمان اقتصادی

د. کسر بودجه سیاسی

۳۹. ارزشیابی فعالیت‌ها و طرح‌های عمرانی از نظر مطابقت عملیات و نتایج با اهداف و سیاستهای تعیین شده کدام نظارت است؟

الف. نظارت مالی

ب. نظارت عملیاتی

ج. نظارت بعد از خرج

د. نظارت قبل از خرج

۴۰. مقایسه بودجه مصوب تخصیص شده (برنامه) با تفریغ بودجه (عملکرد) را چه می‌گویند؟

الف. نظارت پالایشی

ب. نظارت قضائی

ج. نظارت مالی

د. نظارت عملیاتی

www.Sanjesh3.com

نام درس: حسابرسي و حسابداري دولتي
 رشته تحصيلي / گد درس: مديريت دولتي (ستتي ۱۲۱۴۰۰۷ - تجميع ۱۲۱۸۲۶۰)
 حسابداري (ستتي و تجميع ۱۲۱۴۰۳۲)
 گد سري سوال: يك (۱)
 استفاده از: ماشين حساب
 مجاز است.

امام خميني (ع): اين محرم و صفر است كه اسلام را زنده نگه داشته است.

۱. اصل لزوم نگهداري حسابهاي مستقل و اصل كنترل بودجه‌اي در کداميك از قوانين کشور مورد تأكيد قرار گرفته است؟
 الف. قانون اساسي
 ج. قانون محاسبات عمومي کشور
 د. قانون برنامه و بودجه
 ب. قانون ديوان محاسبات کشور
۲. حساب مستقل پروژه‌هاي عمراني در کداميك از طبقه‌بندي‌هاي كلي زير منظور مي‌شود؟
 الف. حسابهاي مستقل وجوه دولتي
 ج. حسابهاي مستقل وجوه سرمايه‌اي
 د. گروه حساب داراينهاي ثابت
 ب. حسابهاي مستقل وجوه اماري
۳. اصل تأمين اعتبار و ايجاد تعهد در راستاي تحقق کداميك از اصول حسابداري دولتي است؟
 الف. اصل نگهداري حسابهاي مستقل
 ج. اصل كنترل بودجه‌اي
 د. اصل استفاده از مبناي نيمه تعهدي
 ب. اصل تقدم قوانين و مقررات بر اصول حسابداري
۴. بودجه سال ۱۳۸۷ حساب مستقل وجوه عمومي دولت به هجوي تصويب شده است كه ميزان اعتبارات مصوب از درآمدهاي عمومي پيش‌بيني شده بيشتر است، نتيجه ثبت بودجه مصوب كداميك از موارد زير است؟
 الف. افزايش وجوه نقد در طول سال مالي
 ج. افزايش در حساب مازاد
 د. افزايش در حساب مازاد پيش‌بيني شده
 ب. كاهش در حساب مازاد
۵. كداميك از مدارك زير براي اثبات تحقق مرحله تعهد، مورد قبول واقع مي‌شود؟
 الف. قبض انبار
 ج. صورت وضعيت در طرحهاي عمراني
 د. فاكتور يا صورت حساب
 ب. گواهي انجام كار
۶. كداميك از مدارك زير براي اثبات تحقق مرحله تسجيل، مورد قبول واقع شده مي‌شود؟
 الف. قبض انبار
 ج. دستور رئيس دستگاه اجرائي
 د. فاكتور فروش
 ب. صورت جلسه
۷. مسؤليت مراحل تأمين اعتبار و نظارت مالي با چه كساني است؟
 الف. رئيس مؤسسه
 ج. ذيحساب
 د. ديوان محاسبات
 ب. معاون اداري و مالي

نام درس: حسابرسي و حسابداري دولتي
 رشته تحصيلي / گد درس: مديريت دولتي (ستتي ۱۲۱۴۰۰۷ - تجميع ۱۲۱۸۲۶۰)
 حسابداري (ستتي و تجميع ۱۲۱۴۰۳۲)
 گد سري سوال: يك (۱)
 استفاده از: ماشين حساب
 مجاز است.

۸. اختيار و مسئوليت کداميك از مراحل زير با رئيس مؤسسه است؟
 - الف. تأمين اعتبار
 - ب. نظارت مالي
 - ج. پرداخت
 - د. تشخيص
۹. در کدام يك از مباني حسابداري، در آمد صرفاً در زمان وصول شناسايي نمي شود؟
 - الف. نقدي تعديل شده
 - ب. نيمه تعهدي
 - ج. نقدي كامل
 - د. تعهدي كامل
۱۰. کدام يك از موارد زير از جمله موارد افتراق مبناي حسابداري تعهدي تعديل شده با مبناي نيمه تعهدي است؟
 - الف. ثبت پيش پرداخت
 - ب. ثبت پيش دريافت
 - ج. ثبت هزينه نسيه
 - د. ثبت در آمد نقدي
۱۱. در مبناي نيمه تعهدي:
 - الف. در آمدها و هزينهها نقدي شناسايي مي شوند.
 - ب. در آمدها و هزينهها تعهدي شناسايي مي شوند.
 - ج. در آمدها نقدي و هزينهها تعهدي شناسايي مي شوند.
 - د. در آمدها تعهدي و هزينهها نقدي شناسايي مي شوند.
۱۲. زماني كه اعتبار براي دستگاههاي دولتي تخصيص داده مي شود، چه حسابي در حساب مستقل وجوه عمومي بدهكار مي گردد؟
 - الف. اعتبارات مصوب
 - ب. اعتبارات تخصيص يافته
 - ج. حساب بودجه
 - د. در آمد پيش بيني شده
۱۳. کداميك از حسابهاي زير، حساب بودجه اي است؟
 - الف. اندوخته پيش پرداخت و علي الحساب سنواتي
 - ب. تنخواه گردان حسابداري
 - ج. اندوخته اعتبار سنواتي
 - د. پيش پرداخت سنواتي
۱۴. مجوزي كه جهت انجام مخارج دستگاههاي دولتي توسط مجلس صادر مي گردد مفهوم کداميك از اصطلاحات زير است؟
 - الف. اعتبارات مصوب
 - ب. در آمدهاي پيش بيني شده
 - ج. اعتبارات تخصيص يافته
 - د. در آمدهاي وصولي
۱۵. تشخيص از نقطه نظر قانون محاسبات عمومي ايران يعني:
 - الف. تحويل كالا يا انجام خدمت
 - ب. تعيين و انتخاب كالا
 - ج. پرداخت بهاي كالا يا خدمت
 - د. تأييد ميزان بدهي قابل پرداخت

تعداد سوالات: نستی: ۲۰ تشریحی: ۴
 زمان آزمون (دقیقه): نستی: ۶۰ تشریحی: ۹۰

نام درس: حسابرسي و حسابداري دولتي
 رشته تحصیلی / کد درس: مدیریت دولتي (ستى ۱۲۱۴۰۰۷ - تجميع ۱۲۱۸۲۶۰)
 حسابداری (ستى و تجميع ۱۲۱۴۰۳۲)

مجاز است.

استفاده از ماشین حساب

کد سری سؤال: یک (۱)

۱۶. کدامیک از موارد زیر مرحله اداری خرج می باشد؟

- الف. تأمین اعتبار
- ب. نظارت مالی
- ج. تسجیل
- د. پرداخت وجه

۱۷. کدامیک از موارد زیر از مراحل مالی خرج نمی باشد؟

- الف. تأمین اعتبار
- ب. نظارت مالی
- ج. تسجیل
- د. پرداخت وجه

۱۸. مسئولیت مرحله انجام تعهد با چه کسی است؟

- الف. رئیس مؤسسه
- ب. کارپرداز
- ج. ذیحساب مؤسسه
- د. معاون ذیحساب مؤسسه

۱۹. حساب مستقل وجوه برای کاهش هزینه های عمومی و خرید به موقع مورد استفاده قرار می گیرد. این حساب مستقل در طبقه حسابهای مستقل قرار دارد.

الف. انتفاعی - وجوه سرمایه ای

ب. خدمات و تدارکات داخلی - وجوه سرمایه ای

ج. خدمات و تدارکات داخلی - وجوه دولتی

د. اختصاصی - وجوه دولتی

۲۰. کدامیک از گزینه های زیر صحیح می باشد:

الف. ذیحساب مأمور دارائی است که نظارت بعد از خارج را انجام می دهد

ب. نظارت بعد از خرج توسط وزارت دارائی انجام می شود

ج. نظارت قضائی یک نوع نظارت قبل از خرج می باشد

د. نظارت پارلمانی توسط دیوان محاسبات انجام می شود

تعداد سوالات: تستی: ۲۰ تشریحی: ۴
 زمان آزمون (دقیقه): تستی: ۶۰ تشریحی: ۹۰

نام درس: حسابرسي و حسابداري دولتي
 رشته تحصیلی / کد درس: مدیریت دولتي (ستتی ۱۲۱۴۰۰۷ - تجميع ۱۲۱۸۲۶۰)
 حسابداري (ستتی و تجميع ۱۲۱۴۰۳۲)
 کد سری سؤال: یک (۱)
 استفاده از ماشین حساب مجاز است.

« سوالات تشریحی »

۱. موارد افتراق حسابداری دولتی با حسابداری بازرگانی را بنویسید. (۱/۲۵ نمره)

۲. جمع دریافت‌های طی سال ۱/۳۹۵/۰۰۰ ریال، هزینه‌ها و سایر پرداخت‌ها ۱/۳۷۵/۰۰۰ ریال، جمع صورتحسابهای ارسالی برای مشتریان در طی سال ۱/۰۰۰/۰۰۰ ریال که از مبلغ مذکور وصول ۱۰۰/۰۰۰ ریال در کوتاه مدت بعید به نظر می‌رسد. در طول سال مالی مبلغ ۴۷۵/۰۰۰ ریال از درآمدهای فاقد اندازه‌گیری و قابلیت وصول در کوتاه مدت وصول گردید. همچنین مبلغ ۱۲۰/۰۰۰ ریال پیش دریافت درآمد دریافت شده است. سایر اطلاعات به شرح زیر می‌باشد:
 - مانده حسابهای دریافتنی در اول و پایان دوره به ترتیب ۱۲۵/۰۰۰ ریال و ۲۲۵/۰۰۰ ریال می‌باشد.
 - مانده حسابهای پرداختنی در اول و پایان دوره به ترتیب ۷۵/۰۰۰ ریال و ۱۳۵/۰۰۰ ریال می‌باشد.
 - مانده پیش پرداخت و علی‌الحساب سال جاری در پایان مبلغ ۱۳۵/۰۰۰ ریال می‌باشد.
 مطلوبست: محاسبه درآمد هزینه بر مبنای نقدی تعدیل شده و تعهدی تعدیل شده. (۱/۵ نمره)

۳. مانده حسابهای دائمی حساب مستقل وجوه عمومی در ابتدای سال مالی ۱۳۸۸ به شرح زیر از دفاتر حسابداری استخراج شده است: ارقام به میلیون ریال:

بانک تمرکز ۴۷۵/۰۰۰ ریال مازاد تخصیص یافته ۴۷۵/۰۰۰

رویدادهای مالی و بودجه‌ای زیر در طی سال صورت گرفته است:

- بودجه سال ۱۳۸۸ با مبلغ ۷/۵۰۰/۰۰۰ ریال درآمد پیش بینی شده و ۷/۲۵۰/۰۰۰ ریال اعتبارات مصوب به تصویب رسیده است. ۱۰۰٪ اعتبارات مصوب، تخصیص یافته است

- مبلغ ۲/۵۰۰/۰۰۰ ریال مالیات و ۵/۲۵۰/۰۰۰ ریال درآمد فروش نفت وصول شده است.

- مبلغ ۷/۱۲۵/۰۰۰ ریال بابت درخواست دستگاههای دولتی برای انجام مخارج پرداخت شده است.

مطلوبست: ثبت فعالیت‌های بودجه‌ای و مالی در خزانه‌داری کل به همراه بستن حسابها. (۲/۲۵ نمره).

تعداد سوالات: تستی: ۲۰ تشریحی: ۴
 زمان آزمون (دقیقه): تستی: ۶۰ تشریحی: ۹۰

نام درس: حسابرسي و حسابداري دولتي
 رشته تحصیلی / کد درس: مدیریت دولتي (ستتی ۱۲۱۴۰۰۷ - تجميع ۱۲۱۸۲۶۰)
 حسابداری (ستتی و تجميع ۱۲۱۴۰۳۲)
 کد سری سؤال: یک (۱)

مجاز است.

استفاده از ماشین حساب

۴. مانده حسابهای دفتر کل حساب مستقل وجوه اعتبارات هزینه‌ای یک مؤسسه دولتي که از مبنای نقدی تعدیل شده استفاده می‌نماید در پایان ۱۳۸۸ به شرح زیر می‌باشد:

ردیف	شرح	بدهکار	بستانکار
۱	بودجه جاری	۳۰۰/۰۰۰	
۲	اعتبارات مصوب		۳۰۰/۰۰۰
۳	جاری با خزانه	۴۲۰/۰۰۰	
۴	درخواست وجه	۲/۲۸۰/۰۰۰	
۵	اعتبارات تخصیص یافته		۵۱۰/۰۰۰
۶	ذخیره اعتبار پرداخت‌های غیر قطعی		۳۰/۰۰۰
۷	اعتبارات مصرف شده		۲/۱۶۰/۰۰۰
۸	دریافتی از خزانه		۱/۹۸۰/۰۰۰
۹	تنخواه گردان حسابداری		۳۰۰/۰۰۰
۱۰	پیش پرداخت سال جاری	۹/۰۰۰	
۱۱	علی الحساب سال جاری	۲۱/۰۰۰	
۱۲	هزینه سال جاری	۲/۱۶۰/۰۰۰	
۱۳	بانک پرداخت	۱۳۵/۰۰۰	
۱۴	درخواست وجه سنواتی	۲۴۵/۰۰۰	
۱۵	ذخیره اعتبار پرداخت‌های غیر قطعی سنواتی		۴۱۶/۰۰۰
۱۶	اعتبارات مصرف شده سنواتی		۶۵/۰۰۰
۱۷	پیش پرداخت سنواتی	۱۹۵/۰۰۰	
۱۸	علی الحساب سنواتی	۲۴۰/۰۰۰	
۱۹	هزینه از محل اعتبار سنواتی	۱۶۵/۰۰۰	
۲۰	اندوخته پیش پرداخت و علی الحساب سنواتی		۶۴۵/۰۰۰
	جمع	۹/۲۷۰/۰۰۰	۹/۲۷۰/۰۰۰

سایر اطلاعات:

- آخرین درخواست وجه به مبلغ ۲۳۰/۰۰۰ ریال صادر و از خزانه درخواست گردید به پای تنخواه گردان حسابداری منظور گردد.
 مطلوبست: انجام کلیه ثبت‌های اصلاحات، بستن حسابهای موقتی با فرض اینکه مؤسسه دولتي فاقد انتقال وجوه مصرف نشده به سال بعد می‌باشد. (۴ نمره)

نام درس: حسابرسی (۲)

رشته تحصیلی / گد درس: حسابداری (۱۲۱۴۰۳۳)

تعداد سوالات: تستی: ۴۰ تشریحی: --

زمان آزمون (دقیقه): تستی: ۵۵ تشریحی: --

گد سری سؤال: یک (۱)

استفاده از: --

مجاز است.

امام خمینی^(ع): این محرم و صفر است که اسلام را زنده نگه داشته است.

۱. کدامیک از موارد زیر از ارکان اصلی شرکت سهامی نیست؟

الف. بازرس ب. هیئت مدیره ج. عامل اجرایی د. مدیر مالی

۲. استانداردهای عمومی اجرای عملیات و گزارشگری به ترتیب مربوط به کدامیک از موارد زیر می باشد؟

الف. قضاوت آگاهانه حسابرس در اجرای عملیات - صلاحیت تخصصی حسابرس - ارائه گزارش
 ب. صلاحیت تخصصی حسابدار - قضاوت آگاهانه حسابدار در اجرای عملیات با ارائه گزارش حسابرس
 ج. صلاحیت تخصصی حسابرس - قضاوت آگاهانه حسابرس در اجرای عملیات ارائه گزارش
 د. صلاحیت تخصصی حسابرس - ارائه گزارش قضاوت آگاهانه حسابرس در اجرای عملیات

۳. کدامیک از عوامل زیر از موارد کاربرد در استانداردهای اجرای عملیات حسابرسی و گزارشگری می باشد؟

الف. عینیت - اهمیت ب. عینیت - تطابق
 ج. ریسک نسبی - اهمیت د. ریسک نسبی - تطابق

۴. آخرین یادداشت توضیحی صورتهای مالی کدام است؟

الف. رویدادهای بعد از تاریخ ترانامه ب. تشریح اقلام مندرج در ترانامه
 ج. خلاصه تاریخچه شرکت د. اهم رویه های مالی

۵. کدام مورد از محورهای اثبات ادعاهای منعکس در صورت سود و زیان نمی باشد؟

الف. تحقق ب. مالکیت ج. کامل بودن د. مرتبط بودن

۶. کدامیک از موارد زیر از وقایع تعدیلی است؟

الف. افزایش میزان مزایای بازنشستگی کارکنان ب. تغییر در نرخ تسعیر ارز
 ج. صدور سهام یا اوراق قرضه د. تغییر در نرخ مالیات بر درآمد

۷. دوره مالی دو جنبه دارد: جنبه که معادل مبلغ فروش است و جنبه که معادل بهای تمام شده کلای فروش رفته است.

الف. سود - زیان ب. سود - هزینه
 ج. درآمد - هزینه د. درآمد - زیان

۸. بررسی نتایج عملکرد به چه مفهومی می باشد؟

الف. بررسی حسابهای دائمی ب. اثبات حسابهای موقت
 ج. اثبات داراییها و بدهیها د. اثبات وجه نقد پایان دوره

۹. کدامیک از موارد زیر به معنی موثر بودن اطلاعات حسابرس در تصمیمگیری می باشد؟

الف. به موقع بودن ب. مربوط بودن
 ج. قابل مقایسه بودن د. صحیح بودن

تعداد سوالات: تستی: ۴۰ تشریحی: --

زمان آزمون (دقیقه): تستی: ۵۵ تشریحی: --

نام درس: حسابرسي (۲)

رشته تحصیلی / گد درس: حسابداری (۱۲۱۴۰۳۳)

مجاز است.

استفاده از: --

گد سری سؤال: یک (۱)

۱۰. ثبت کردن خرید یک مداد تراش رومیزی به مبلغ ۵۰۰ ریال به عنوان هزینه بر مبنای کدام اصل حسابرسي می باشد؟

الف. اصل مقایسه هزینه با درآمد

ب. اصل تحقق درآمد

ج. اصل بهای تمام شده

د. اصل اهمیت

۱۱. بخش عمده ای از موجودیهای نقدی یک شرکت در قالب کدامیک از موارد زیر است و روش حسابرسي مورد استفاده برای تأیید آن از طریق بررسی کدام صورت می گیرد؟

الف. سپرده دیداری - صورت مغایرت بانکی

ب. سپرده دیداری - دفتر کل

ج. سپرده نقدی - دفتر کل

د. سپرده نقدی - صورت مغایرت بانکی

۱۲. منظور از جزئیات سوابق اوراق بهادار در حسابداری شرکت کدام گزینه نمی باشد؟

الف. ثبت خرید و فروش اوراق با نرخ و تعداد و بهای تمام شده هر یک از اوراق

ب. درآمدهای حاصل از خرید و فروش

ج. درآمدهای سود سهام یا بهره اوراق قرضه

د. مالکین و دارندگان اوراق بهادار

۱۳. در مورد دسترسی به اوراق بهادار رعایت کدام موارد زیر الزامی نیست؟

الف. اوراق باید با نام شرکت باشد.

ب. دسترسی به اوراق با مجوز مدیر عامل شرکت ممکن باشد.

ج. دسترسی به اوراق باید با دو امضاء مجاز شرکت امکان پذیر باشد.

د. در گاو صندوق نگهداری شود.

۱۴. کدامیک از حسابهای زیر نشانگر عدم رضایت از کالا و خدمات ارائه شده یا قیمت ها می باشد؟

الف. حساب های راکد

ب. حساب برگشت خرید

ج. حساب پرداختنی

د. حساب دریافتنی

۱۵. حسابرسي با بررسی حسابهای دریافتنی در مورد نحوه کار مدیریت کدام قسمت نکات با اهمیت را می تواند کشف کند؟

الف. مدیریت فروش کالا

ب. مدیریت خرید

ج. مدیر اداری

د. مدیر مالی

۱۶. در مورد جداسازی وظایف برای کنترل داخلی اسناد دریافتنی کدام گزینه صحیح است؟

الف. حوزه اعتبارات (صادر کنندگان مجوز) کالا را تحویل خواهند داد.

ب. تحویل دهندگان کالا وظیفه ثبت حسابهای دریافتنی را بر عهده دارند.

ج. کسانی که مجوز را صادر می کنند مستقل از تحویل دهندگان کالا خواهند بود.

د. تحویل دهندگان کالا مجوز را صادر خواهند کرد.

نام درس: حسابرسي (۲)

رشته تحصيلي / گد درس: حسابداری (۱۲۱۴۰۳۳)

تعداد سوالات: تستي: ۴۰ تشریحي: --

زمان آزمون (دقیقه): تستي: ۵۵ تشریحي: --

گد سری سؤال: یک (۱)

استفاده از: --

مجاز است.

۱۷. دامنه انجام روشهای تأییدیه که حسابرسي مسئول انجام آن است ناشی از کدام عوامل می باشد؟

الف. ارزشیابی ساختار کنترل داخلی ، میزان مبلغ و تعداد حسابها

ب. ارزشیابی ساختار کنترل مالی، میزان مبلغ و تعداد حسابها

ج. ارزشیابی ساختار کنترل داخلی، میزان مبلغ و تعداد دفاتر

د. ارزشیابی ساختار کنترل مالی، میزان مبلغ و تعداد دفاتر

۱۸. برای اثبات کامل بودن ماشین آلات کدام تکنیک حسابرسي به کار نمی رود؟

الف. کنترل دفتر ماشین آلات

ب. مشاهده عینی

ج. محاسبات مجدد حسابرسي

د. کنترل حساب استهلاك انباشته

۱۹. از کدام اشخاص زیر تأییدیه اخذ نمی شود؟

الف. مدیران شرکت

ب. حسابداران شرکت

ج. وکیل شرکت

د. بانک شرکت

۲۰. در این روش از شمارش موجودیها، موجودیها تحت یک برنامه معین طی دوره هایی شمارش می شوند؟

الف. روش شمارش فیزیکی

ب. روش شمارش ماهانه

ج. روش شمارش مقطعی

د. روش شمارش دائمی

۲۱. در رابطه با مواردی که باید طی شمارش انبارگردانی مورد توجه قرار گیرد کدامیک نادرست است؟

الف. ترجیحاً موجودیها دو بار و هر بار به وسیله یک گروه سه نفری متفاوت شمارش گردد.

ب. امضاء تمام برگهای شمارش و هر گونه اصلاح در آنها به وسیله دو گروه شمارش کننده ضروری است.

ج. موجودیهای معیوب و غیر استاندارد باید با ذکر مورد در برگه ثبت گردد.

د. به طور نمونه باید محتویات تعدادی از موجودیهای سربسته توسط گروه های شمارش کننده مورد شمارش قرار گیرد.

۲۲. کدامیک از موارد زیر برای اثبات مالکیت موجودی جنسی به کار نمی رود؟

الف. فاکتور خرید

ب. مشاهده عینی

ج. قرارداد خرید

د. تأییدیه

۲۳. بخش عمده از مخارج سرمایه گذاری در اموال و ماشین آلات باید بر چه اساسی صورت گیرد؟

الف. کنترل سرمایه ای

ب. کنترل داخلی

ج. کنترل بودجه ای

د. کنترل انضباطی

۲۴. هزینه های مشخصی که عمر مفید دارایی ثابت را بالا برده یا ظرفیت تولیدی آن را افزایش می دهند را:

الف. هزینه های جاری می گوئیم و به هزینه دوره منظور می شود.

ب. هزینه های اساسی می گوئیم و به هزینه دوره منظور می شود.

ج. هزینه های جاری می گوئیم و به قیمت تمام شده دارایی منظور می شوند.

د. هزینه های اساسی می گوئیم و به قیمت تمام شده دارایی منظور می شوند.

تعداد سوالات: تستی: ۴۰ تشریحی: --

زمان آزمون (دقیقه): تستی: ۵۵ تشریحی: --

نام درس: حسابداری (۲)

رشته تحصیلی / کد درس: حسابداری (۱۲۱۴۰۳۳)

مجاز است.

استفاده از: --

کد سری سؤال: یک (۱)

۲۵. ساختار کنترل داخلی حساب پرداختنی با ساختار داخلی کدام یک از موارد زیر ارتباط مستقیم دارد؟

الف. پرداخت نقدی - فروش

ب. دریافت نقدی - خرید

ج. پرداخت نقدی - خرید

د. دریافت نقدی - فروش

۲۶. عدم ثبت کامل بدهی ها ناشی از کدام مورد است؟

الف. غفلت

ب. تحریف حقایق

ج. پوشاندن ضعفها

د. همه موارد

۲۷. کدامیک از موارد زیر درباره هزینه های پرداختنی صحیح نمی باشد؟

الف. این دسته از بدهیها مربوط به طلبکارانی است که جنبه خرید کالا و خدمت ندارند و اغلب موارد صورت حسابداری برای این نوع هزینه ها از بستانکاران دریافت نمی گردد.

ب. این دسته از بدهیها مربوط به طلبکارانی است که جنبه خرید کالا و خدمت دارند و اغلب موارد صورت حسابداری برای این نوع هزینه ها از بستانکاران دریافت می گردد.

ج. این دسته از بدهیها مربوط به طلبکارانی است که جنبه خرید کالا و خدمت ندارند و اغلب موارد صورت حسابداری برای این نوع هزینه ها از بستانکاران دریافت می گردد.

د. این دسته از بدهیها مربوط به بستانکارانی است که جنبه خرید کالا و خدمت دارند و اغلب موارد صورت حسابداری برای این نوع هزینه ها از طلبکاران دریافت نمی گردد.

۲۸. کدامیک از موارد زیر برای اثبات ارزش اسناد پرداختنی به کار نمی رود؟

الف. محاسبات حسابر

ب. تأییدیه

ج. مدارک حسابداری

د. رویدادهای پیش از تاریخ ترانزاکشن

۲۹. کدامیک از موارد زیر در مورد افزایش سرمایه شرکت های سهامی صحیح است؟

الف. افزایش سرمایه نیاز به تشریفات خاص و قانونی دارند.

ب. افزایش سرمایه نیاز به تشریفات خاص ندارد.

ج. در مورد اقدام برای تغییر سرمایه الزامی به مراعات حقوق صاحبان سهام به میزان یکنواخت نمی باشد.

د. افزایش سرمایه نیازی به تصویب مجمع عمومی صاحبان سهام ندارد.

۳۰. حسابر باید ضمن مطالعه مصوبات مجمع عمومی و هیئت مدیره در مورد اندوخته ها و تقسیم سود در کدام مورد اطمینان حاصل نماید؟

الف. تصمیم در مورد صورتهای مالی نیازی به گزارش بازرس قانونی ندارد.

ب. تقسیم هر گونه اندوخته صرفاً با اجازه بازرس قانونی مقدور می باشد.

ج. در صورتی که شرکت سود قابل تقسیم داشته باشد حداقل بایستی ۱۰٪ از سود قابل تقسیم را بین صاحبان سهام تقسیم کند.

د. سود سهام سهام داران حداکثر ظرف مدت ۸ ماه از تاریخ تأسیس می بایست در وجه آنها پرداخت شود.

تعداد سوالات: تستی: ۴۰ تشریحی: --

زمان آزمون (دقیقه): تستی: ۵۵ تشریحی: --

نام درس: حسابرسي (۲)

رشته تحصیلی / کد درس: حسابداری (۱۲۱۴۰۳۳)

مجاز است.

استفاده از: --

کد سری سؤال: یک (۱)

۳۱. کدامیک از مدارک زیر در مورد اثبات وجود و مالکیت رسیدگی به حساب سرمایه قابل اطمینان می باشد؟

الف. مبلغ مندرج در اساسنامه، تأییدیه هیئت مدیره

ب. تأییدیه هیئت مدیره، صورتجلسات مجامع صاحبان سهام

ج. فهرست سهامداران، صورتجلسات مجامع صاحبان سهام، مبلغ مندرج در اساسنامه

د. فهرست سهامداران، تأییدیه هیئت مدیره

۳۲. در مورد کنترل داخلی فروش کدام مورد صحیح نیست؟

الف. فروش نشیء صرفاً به مشتریان که اعتبار آن تأیید شده انجام پذیرد.

ب. فاکتورهای فروش باید توسط دریافت کنندگان سفارش کنترل شود.

ج. کلیه فروشها باید به بهای مصوب یا مناسبترین قیمت باشد.

د. سیستم کنترل داخلی باید به نحوی طراحی گردد که تمامی فروشها در دفاتر منعکس گردد.

۳۳. در مورد کنترل داخلی خرید کدام مورد صحیح است؟

الف. انجام عملیات خرید باید توسط درخواست کنندگان کالا صورت گیرد.

ب. تعداد و کیفیت کالای خریداری شده در بدو ورود به شرکت می بایست مورد بازرسی قرار گیرد.

ج. وظیفه دستور و اجازه خرید باید بر عهده مسئول ثبت معاملات باشد.

د. درخواست خرید کالا باید از طرف مسئول انجام خرید صورت گیرد.

۳۴. در ارتباط با هزینه های سربار کدام اصول عمومی به عنوان مبانی تحقق هزینه در نظر گرفته می شود؟

الف. اصل تسریع در شناخت هزینه ها، اصل ارتباط علت و معلولی

ب. اصل واقعی بودن هزینه ها، اصل سرشکن کردن منطقی هزینه ها

ج. اصل واقعی بودن هزینه ها، اصل کامل بودن مجوز و مستندات مربوط به هزینه ها

د. اصل ارتباط علت و معلولی، اصل سرشکن کردن منطقی و سیستماتیک هزینه ها

۳۵. در گزارش حسابرسي کدامیک از موارد زیر وجود ندارد؟

الف. عنوان گزارش

ب. فعالیت شرکت

ج. بند حدود رسیدگی

د. سایر بندهای توضیحی

۳۶. مسئول ارائه مدارک در حسابرسي به عهده کیست؟

الف. هیئت مدیره شرکت

ب. حسابرسي داخلی

ج. حسابدار

د. حسابرسي مستقل

۳۷. مسئولیت حسابرسي مستقل نسبت به گزارش حسابرسي کدام است؟

الف. تضمین صورتهای مالی شرکت

ب. گواهی صورتهای مالی شرکت

ج. اظهار نظر درباره صورتهای مالی

د. تهیه صورتهای مالی

نام درس: حسابرسی (۲)

رشته تحصیلی / کد درس: حسابداری (۱۲۱۴۰۳۳)

تعداد سوالات: تستی: ۴۰ تشریحی: --

زمان آزمون (دقیقه): تستی: ۵۵ تشریحی: --

کد سری سؤال: یک (۱)

استفاده از: --

مجاز است.

۳۸. کدام مورد به عنوان معیارهای رسیدگی در بند حدود رسیدگی بیان می‌شود؟

- الف. استانداردهای حسابداری
- ب. اصول حسابداری
- ج. استانداردهای حسابرسی
- د. موازن حریفای حسابرسی

۳۹. عدم توافق یعنی:

- الف. عدم رعایت اصول حسابداری
- ب. عدم رعایت استانداردهای حسابرسی
- ج. عدم رعایت اصول حسابرسی
- د. عدم توافق در مورد اصول حسابداری

۴۰. کدامیک از گزینه‌های زیر می‌تواند بند اظهارنظر یک گزارش مقبول باشد؟

- الف. به نظر اینجانب صورت‌های مالی فوق‌الذکر وضعیت مالی شرکت ... را در تاریخ ... و نتایج عملیات و تغییرات وضعیت مالی آن برای سال مالی منتهی به تاریخ مذکور را بر طبق اصول متداول حسابداری به نحو مطلوب منعکس می‌کند.
- ب. به نظر اینجانب صورت‌های مالی فوق‌الذکر وضعیت مالی شرکت ... را در تاریخ ... و نتایج عملیات و تغییرات وضعیت مالی آن برای سال مالی منتهی به تاریخ مذکور را بر طبق اصول متداول حسابداری به نحو مطلوب منعکس می‌کند.
- ج. به دلیل محدودیت اساسی مندرج در بند الف این گزارش اظهارنظر نسبت به صورتهای مالی فوق‌الذکر امکان‌پذیر نمی‌باشد.
- د. به نظر اینجانب صورت‌های مالی فوق‌الذکر وضعیت مالی شرکت ... را در تاریخ ... و نتایج عملیات و تغییرات وضعیت مالی آن برای سال مالی منتهی به تاریخ مذکور را بر طبق استانداردهای حسابرسی به نحو مطلوب منعکس می‌کند.

تعداد سوالات: تستی: — تشریحی: ۶
 زمان آزمون (دقیقه): تستی: — تشریحی: ۱۲۰

نام درس: حسابداری صنعتی ۳
 رشته تحصیلی / کد درس: حسابداری ۱۲۱۴۰۳۴

کد سری سؤال: یک (۱) استفاده از: ماشین حساب مجاز است.

امام خمینی^(ع): این محرم و صفر است که اسلام را زنده نگه داشته است.

۱. بودجه فروش پنج ماهه اول سال ۱۳۸۸ شرکت تولیدی آرش به شرح زیر می باشد:

فروش بودجه شده - واحد

فروردین	۱۲/۰۰۰
اردیبهشت	۱۸/۰۰۰
خرداد	۱۴/۰۰۰
تیر	۱۱/۵۰۰
مهر	۱۱/۰۰۰

موجودی کالای ساخته شده در پایان هر ماه ۲۵٪ فروش برآوردی ماه بعد می باشد. موجودی مواد اولیه معادل ۲۵٪ مصرف ماه آتی در پایان هر ماه مورد نیاز می باشد. برای هر واحد محصول دو نوع مواد اولیه به شرح زیر مورد نیاز می باشد:
 ماده الف ۴ واحد به مبلغ هر واحد ۵۰ ریال
 ماده ب ۵ واحد به مبلغ هر واحد ۸۰ ریال

مطلوبست:

- تهیه بودجه مقداری تولید برای سه ماهه اول سال ۱۳۸۸

- تهیه بودجه مقداری و ریالی مواد مصرفی برای سه ماهه اول سال ۱۳۸۸. (۲/۲۵ نمره)

۲. اطلاعات زیر از دفاتر شرکت تولیدی سامان در دست می باشد:

اطلاعات بودجه شده:

محصول	قیمت فروش	هزینه متغیر	تعداد فروش
الف.	۱/۵۰۰	۱/۰۰۰	۵۰۰
ب.	۲/۰۰۰	۱/۲۰۰	۳۰۰

اطلاعات واقعی:

محصول	قیمت فروش	هزینه متغیر	تعداد فروش
الف	۱/۳۵۰	۹۵۰	۶۰۰
ب	۲/۲۰۰	۱/۵۰۰	۴۰۰

تعداد سوالات: تستی: — تشریحی: ۶
 زمان آزمون (دقیقه): تستی: — تشریحی: ۱۲۰

نام درس: حسابداری صنعتی ۳
 رشته تحصیلی / کد درس: حسابداری ۱۲۱۴۰۳۴

مجاز است.

ماشین حساب

استفاده از:

کد سری سؤال: یک (۱)

کل فروش بودجه شده صنعت ۱۰/۰۰۰ واحد و کل فروش واقعی صنعت ۱۲/۰۰۰ واحد می باشد.

مطلوبست:

محاسبه انحرافات قیمت فروش، مقدار فروش ترکیب فروش، اندازه فروش و سهم بازار (۳/۵ نمره)

۳. شرکت تولیدی پارسیا برای فعالیت خود از بودجه قابل انعطاف استفاده می نماید. اطلاعات بودجه قابل انعطاف برای اسفند ماه ۱۳۸۸ به شرح زیر می باشد.

درصد ظرفیت	۸۰٪	۱۰۰٪
ساعات کار مستقیم - ساعت	۸۰/۰۰۰	۱۰/۰۰۰
دستمزد غیر مستقیم - ریال	۷۵۰/۰۰۰	۹۳۷/۵۰۰
مواد غیر مستقیم - ریال	۶۰۰/۰۰۰	۷۵۰/۰۰۰
سوخت مصرفی - ریال	۴۲۰/۰۰۰	۴۵۱/۰۰۰
حقوق کارکنان دفتری - ریال	۷۸۰/۰۰۰	۹۰۰/۰۰۰
هزینه استهلاک - ریال	۷۰۵/۰۰۰	۷۰۵/۰۰۰
هزینه تعمیر و نگهداری - ریال	۱/۲۰۰/۰۰۰	۱/۳۵۰/۰۰۰
بیمه - ریال	۷۵۰/۰۰۰	۷۵۰/۰۰۰
جمع	۵/۵۰۵/۰۰۰	۶/۱۸۰/۰۰۰

مطلوبست:

تهیه بودجه قابل انعطاف در سطح ۹۰٪ برای تفکیک هزینه های نیمه متغیر از روش بالاترین و پایین ترین سطح فعالیت استفاده نمائید. (۲/۵ نمره)

۴. شرکت خرمشهر درصدد خرید یک دستگاه ماشین برش فلزات است. ماشین پیشنهاد شده به این شرکت به مبلغ ۱۱ میلیون ریال بوده و عمر مفید آن ۸ سال و ارزش اسقاط آن مبلغ ۳ میلیون ریال در پایان سال هشتم برآورد می گردد. انتظار می رود با خرید این ماشین در هزینه های نقدی سالانه مبلغ ۲/۵۰۰/۰۰۰ ریال صرفه جویی گردد. برای انجام فعالیت بی وقفه این ماشین نیاز به سرمایه در گردش اضافی به مبلغ ۸۰۰/۰۰۰ ریال می باشد که به مصرف قطعات مانند فیلتر، لوله اگزوز و تسمه می رسد. این اقلام تا پایان عمر ماشین موجود بوده و به محض استفاده جایگزین گردد. اما در پایان پروژه این مبلغ نقداً قابل وصول است. نرخ بازده سرمایه گذاری در این شرکت ۱۴٪ می باشد.

تعداد سوالات: تستی: — تشریحی: ۶
 زمان آزمون (دقیقه): تستی: — تشریحی: ۱۲۰

نام درس: حسابداری صنعتی ۳
 رشته تحصیلی / کد درس: حسابداری ۱۲۱۴۰۳۴

مجاز است.

ماشین حساب

استفاده از:

کد سری سؤال: یک (۱)

مطلوبست: محاسبه ارزش خالص فعلی، نرخ بازده داخلی (۲نمره)

ارزش فعلی اقساط مساوی برای ۸ سال به شرح زیر می باشد:

۵/۳۳۵	%۱۰
۴/۹۶۸	%۱۲
۴/۶۳۹	%۱۴
۴/۳۴۴	%۱۶
۴/۰۷۸	%۱۸
۳/۸۳۷	%۲۰

ارزش فعلی یک ریال بعد از ۸ سال به شرح زیر می باشد:

۰/۳۵۱	%۱۴
۰/۳۰۵	%۱۶
۰/۲۶۶	%۱۸

۵. شرکت تولیدی امیر دارای دو قسمت تولیدی است. اطلاعات زیر از دو قسمت مذکور تهیه گردیده است: (۷۵/نمره)

قسمت الف	قسمت ب	
۴/۵۰۰/۰۰۰	۱۳/۵۰۰/۰۰۰	فروش
۳۶۰/۰۰۰	۱/۰۸۰/۰۰۰	سود خالص عملیاتی
۱/۵۰۰/۰۰۰	۳/۶۰۰/۰۰۰	میانگین دارائی های عملیاتی

مطلوبست:

- محاسبه نرخ بازده سرمایه هر قسمت (ROI)

- ارزیابی عملکرد قسمت ها به روش سود اضافی. (حداقل بازده مطلوب ۲۵٪ می باشد).

- اگر رقم سود اضافی قسمت ب بزرگتر باشد، آیا می توان استنباط کرد که عملکرد مدیر آن بهتر بوده است؟ توضیح دهید.

تعداد سوالات: تستی: — تشریحی: ۶
زمان آزمون (دقیقه): تستی: — تشریحی: ۱۲۰

نام درس: حسابداری صنعتی ۳
رشته تحصیلی / گد درس: حسابداری ۱۲۱۴۰۳۴

مجاز است.

ماشین حساب

استفاده از:

گد سری سؤال: یک (۱)

۶. اطلاعات زیر از دفاتر شرکت آرمان در سال ۱۳۸۸ استخراج شده است:

فروش	خرید	
۱/۰۸۰/۰۰۰	۶۳۰/۰۰۰	فروردین
۹۹۰/۰۰۰	۷۲۰/۰۰۰	اردیبهشت
۹۰۰/۰۰۰	۵۴۰/۰۰۰	خرداد
۱/۱۷۰/۰۰۰	۸۱۰/۰۰۰	تیر

۷۰٪ مطالبات در ماه فروش، ۲۰٪ در اولین ماه بعد از فروش، ۹٪ در دومین ماه بعد از فروش و مابقی غیر قابل وصول می باشد.
تمامی خرید در ماه بعد با ۳٪ تخفیف نقدی پرداخت می شود. خرید و فروش پیش بینی شده در مرداد ماه به ترتیب ۸۵۰/۰۰۰ ریال و ۱/۰۰۰/۰۰۰ ریال می باشد. مانده وجود نقد بر اول مرداد ماه ۳۰۰/۰۰۰ ریال و هزینه های نقدی پرداختی در مرداد ماه ۱۷۵/۰۰۰ ریال می باشد.

مطلوبست: (۲ نمره)

محاسبه بودجه نقدی در مرداد ماه

نام درس: مدیریت مالی ۲
 رشته تحصیلی / کد درس: حسابداری (ستتی، تجمیع ۱۲۱۴۰۳۵)
 مدیریت بازرگانی (ستتی - جبرانی ارشد ۱۲۱۴۰۷۲)
 کد سری سؤال: یک (۱)
 استفاده از: ماشین حساب
 مجاز است.

امام خمینی (ره). این محرم و صفر است که اسلام را زنده نگه داشته است.

- حسابهای پرداختی شرکت بهین در سال ۸۴ مبلغ ۲۴ میلیون ریال، خرید نسیه آن ۹۰ میلیون ریال و فروش نسیه آن نیز ۷۲ میلیون ریال بود متوسط دوره پرداخت این شرکت چقدر است؟
 الف. ۹۶ روز ب. ۱۲۰ روز ج. ۹/۶ روز د. ۴۸ روز
- نرخ بهره ۱۴ درصد و مانده جبرانی ۲۰ درصد است، در صورتیکه مبلغ وام ۲/۵ میلیون ریال باشد، نرخ بهره موثر چقدر است؟
 الف. ۱۵/۴ درصد ب. ۲۳ درصد ج. ۱۶/۲۵ درصد د. ۱۵ درصد
- شرکت آسیا دارای ۴۵۰۰ سهم عامی ۱/۰۰۰ که قیمت بازار هر سهم آن ۴/۰۰۰ است می باشد، اگر میزان افزایش سرمایه ۲۰ درصد ارزش اسمی سرمایه جاری از طریق حق تقدم و قیمت پذیره نویسی ۳/۶۰۰ ریال باشد؛ قیمت هر سهم شرکت بعد از انتشار سهامی جدید چند ریال است؟
 الف. ۴۹۸۷ ریال ب. ۳۹۷۸ ریال ج. ۳۸۱۱ ریال د. ۴۸۰۰ ریال
- با توجه به اطلاعات سوال ۳، تعداد سهام منتشره جدید چقدر است؟
 الف. ۴۵۰ ب. ۱۵۰ ج. ۲۵۰ د. ۲۵۰
- با توجه به اطلاعات سوال ۳، تعداد حق تقدم مورد نیاز برای خرید یک سهم چقدر است؟
 الف. ۱۸ ب. ۲۸ ج. ۱۴ د. ۲۴
- با توجه به اطلاعات سوال ۳، ارزش هر برگ گواهینامه حق تقدم خرید چند ریال است؟
 الف. ۵۵ ریال ب. ۴۵ ریال ج. ۲۱ ریال د. ۳۱ ریال
- متوسط سرمایه گذاری در موجودی کالا ۱۲۰۰ ریال و نرخ تنزیل ۱۲ درصد است، هزینه سرمایه را محاسبه کنید؟
 الف. ۱۰۰۰۰ ب. ۷۲ ج. ۴۴۱ د. ۱۴۴
- در مورد دارائی های جاری کدام گزینه درست است؟
 الف. افزایش آن باعث کاهش مخاطره شرکت است.
 ب. افزایش آن باعث افزایش بازدهی شرکت است.
 ج. کاهش آن باعث کاهش مخاطره شرکت است.
 د. کاهش یا افزایش دارائی جاری تأثیری بر مخاطره ندارد
- ارزش ذاتی اوراق قرضه ای به قیمت اسمی ۵/۰۰۰ ریال با نرخ ۱۴ درصد و ۵ ساله که ۳ سال از انتشار آن گذشته است با نرخ بازده مورد توقع ۱۶ درصد چقدر است؟
 الف. ۵۱۶۴ ب. ۴۰۴۸ ج. ۵۰۰۰ د. ۴۸۴۰

نام درس: مدیریت مالی ۲
 رشته تحصیلی/گد درس: حسابداری (ستتی، تجمیع ۱۲۱۴۰۳۵)
 مدیریت بازرگانی (ستتی-جبرانی ارشد ۱۲۱۴۰۷۲)
 گد سری سؤال: یک (۱)
 استفاده از: ماشین حساب
 مجاز است.

۱۰. هزینه عدم استفاده از تخفیف برای دوره پرداخت ۹۰ روزه، دوره تخفیف ۱۰ روز و نرخ تخفیف ۴ درصد چقدر است؟
 الف. ۳۲٪ ب. ۳۸٪ ج. ۱۹٪ د. ۲۱٪

۱۱. کدام یک، از منابع تأمین مالی کوتاه مدت نیست؟

الف. اعتبار تجاری
 ب. واگذاری حق تقدم
 ج. وام بانکی
 د. اسناد تجاری

۱۲. کدام یک از موارد زیر در مورد خصوصیات حق تقدم و حق خرید سهام صحیح است؟

الف. حق خرید سهام رایگان است.
 ب. حق تقدم سهام رایگان است.
 ج. حق تقدم سهام در اختیار سهامداران قبلی نیست.
 د. حق خرید سهام در اختیار سهامداران قبلی است.

۱۳. "حق باقی مانده" مربوط به کدام یک از موارد زیر است؟

الف. سهام عادی ب. سهام ممتاز ج. حق تقدم د. حق خرید

۱۴. با فرض اینکه نسبت ذخیره قانونی ۲۰٪، کارمزد ماهانه بانک ۵۰٪ و نرخ بهره اسمی ۱۵٪ باشد، مانده لازم برای پرداخت خدمات ماهانه چقدر خواهد بود؟

الف. ۲۴/۰۰۰ ب. ۱/۲۵۰ ج. ۵۴/۵۰۰ د. ۱۵/۰۰۰

۱۵. شرکت سهامی البرز ۵۰/۰۰۰ سهم عادی دارد و اعضای هیات مدیره شرکت ۷ نفر است. اگر رای گیری بصورت رای انباشته باشد، برای انتخاب ۲ عضو چند سهم لازم است؟

الف. ۱۴۲۸۵ ب. ۱۲۵۰۱ ج. ۱۵۲۰۱ د. ۴۵۷۰

۱۶. دارایی های جاری دائمی به چه معنی است؟

الف. دارایی های جاری که در روند عادی فعالیت شرکت، همواره خریداری شده و به فروش می رسند.
 ب. همان دارایی های بلندمدت هستند که برای تولید جاری شرکت مورد استفاده قرار می گیرند.
 ج. حداقل سرمایه گذاری در دارایی های جاری که برای حمایت از سطح فروش جاری شرکت مناسب هستند.
 د. دارایی های جاری که به قصد فروش مجدد خریداری نشده اند.

۱۷. در کدام یک از انواع اجاره ممکن است مالکیت دارایی به مستاجر منتقل می شود؟

الف. اجاره سرمایه ای
 ب. اجاره عملیاتی
 ج. اجاره مالی
 د. اجاره با خدمات کامل

۱۸. وامی بمبلغ ۱/۰۰۰/۰۰۰ ریال با کارمزد ۱۵٪ مستلزم افتتاح حساب سپرده غیرقابل برداشت به مبلغ ۵۰/۰۰۰ ریال است اگر کارمزد نیز در ابتدا کسر شود نرخ بهره موثر تقریباً چقدر می شود؟

الف. ۱۸/۷۵٪ ب. ۱۷/۶٪ ج. ۱۵/۷٪ د. ۱۵٪

نام درس: مدیریت مالی ۲

رشته تحصیلی / کد درس: حسابداری (ستتی، تجميع ۱۲۱۴۰۳۵)

مدیریت بازرگانی (ستتی - جبرانی ارشد ۱۲۱۴۰۷۲)

کد سری سؤال: یک (۱)

استفاده از:

ماشین حساب

مجاز است.

تعداد سؤالات: تستی: ۲۵ تشریحی: ۵

زمان آزمون (دقیقه): تستی: ۴۵ تشریحی: ۴۵

۱۹. کدام جمله در مورد بازار سرمایه و پول صدق نمی کند؟

الف. بازار پول و سرمایه باهم در ارتباطند. ب. اوراق بهادار بلندمدت در بازار سرمایه معامله می شوند.

ج. اوراق قرضه از ابزارهای بازار پول است. د. بازار پول در برگیرنده اعتبارات کوتاه مدت است.

۲۰. دوره وصول مطالبات ۲۴ روز، متوسط دوره موجودی ۴۲ روز و متوسط دوره پرداخت ۱۴ روز است، متوسط دوره چرخه وجه نقد چقدر است؟

الف. ۳۲ ب. ۸۰ ج. ۵۲ د. ۳۸

۲۱. میزان سرمایه در گردش کدام یک از عوامل زیر تعیین می کند؟

الف. مبلغ حقوق صاحبان سهام ب. میزان بدهی های جاری

ج. میزان دارایی های جاری د. دارایی و بدهی جاری

۲۲. شرکت نوید روزانه ۲/۰۰۰/۰۰۰ ریال از طریق چک دریافت می کند. زمان پست ۳ روز، زمان پردازش ۲ روز و دسترسی ۴ روز است. شنواری پست چقدر است؟

الف. ۲۷ میلیون ریال ب. ۱۲ میلیون ریال ج. ۶ میلیون ریال د. ۹ میلیون ریال

۲۳. با توجه به اطلاعات سوالات قبل، شنواری وصولی چقدر است؟

الف. ۹ میلیون ریال ب. ۱۲ میلیون ریال

ج. ۲۷ میلیون ریال د. ۶ میلیون ریال

۲۴. کدام یک از موارد زیر در تحلیل اجاره/خرید بی تاثیر است؟

الف. ارزش اسقاط دارایی ب. نرخ بهره

ج. تاثیر مخاطره بی ارزش شدن پول د. ملاحظات مالیاتی

۲۵. اوراق قرضه قابل تبدیل به ارزش اسمی ۵/۰۰۰ ریال می تواند به ۱۷ سهم عادی که با ارزش اسمی ۵۰ ریال بازار ۵۵ ریال است تبدیل شود. ارزش تبدیل چقدر است؟

الف. ۹۳۵ ریال ب. ۹۱ ریال ج. ۲۹۴ ریال د. ۱۵۴۵ ریال

نام درس: مدیریت مالی ۲

رشته تحصیلی / کد درس: حسابداری (ستتی، تجمیع ۱۲۱۴۰۳۵)

مدیریت بازرگانی (ستتی - جبرانی ارشد ۱۲۱۴۰۷۲)

کد سری سؤال: یک (۱)

استفاده از:

ماشین حساب

مجاز است.

تعداد سؤالات: تستی: ۲۵ تشریحی: ۵

زمان آزمون (دقیقه): تستی: ۴۵ تشریحی: ۴۵

سؤالات تشریحی

۱. مفهوم سیاست محافظه کارانه چیست؟ کاربرد آن در کجاست؟ (۱/۵ نمره)

۲. شرکت سرما آفرین قصد دارد جهت توسعه فعالیت‌های خود خط جدید تولیدی را خریداری یا اجاره کند که در هر دو صورت سالانه مبلغ ۱۷۰۰۰ ریال به درآمد شرکت اضافه خواهد شد. خرید این خط هزینه‌های سالانه شرکت را ۳/۰۰۰ ریال افزایش و اجاره آن، هزینه‌ها را ۲/۰۰۰ ریال کاهش خواهد داد. عمر مفید دارائی ۵ سال، نرخ مالیات ۳۰٪ و نرخ تنزیل ۱۵٪ می باشد، اگر قیمت خرید ۳۰/۰۰۰ ریال و هزینه اجاره سالانه ۱۶/۰۰۰ ریال و ارزش اسقاط دارایی ۸/۰۰۰ ریال باشد به نظر شما گزینه خرید مناسبتر است یا اجاره؟ (۲/۵ نمره)

۳. ۴ مورد از اطلاعاتی را که لازم است در هنگام پذیرش نویسی سهام در اختیار عموم قرار گیرد را ذکر کنید. (۲ نمره)

۴. ارزش سهام شرکتی که در سال جاری ۷۵/۰۰۰ ریال سود داشته و ۶۰٪ آنرا توزیع کرده است، در صورتیکه نرخ رشد سود سهام ۷٪ برآورد شود، را با نرخ بازده مورد توقع ۱۲٪ محاسبه کنید. (نرخ بازده مورد توقع ۱۲٪ است). (۱ نمره)

۵. آقای محمدی قصد دارد مبلغ ۲/۰۰۰/۰۰۰ ریال وام یکساله با کارمزد ۱۷٪ دریافت کند. برای دریافت این وام باید حساب سپرده غیر قابل برداشت تا زمان سررسید به مبلغ ۵۰۰/۰۰۰ ریال نیز افتتاح شود. نرخ بهره موثر این وام را محاسبه کنید. (۱ نمره)

تعداد سوالات: تستی: ۲۵ تشریحی: ۵

نام درس: مدیریت مالی ۲

زمان آزمون (دقیقه): تستی: ۴۵ تشریحی: ۴۵

رشته تحصیلی/ گد درس: حسابداری (ستى، تجميع ۱۲۱۴۰۳۵)

مدیریت بازرگانی (ستى جبرانى ارشد ۱۲۱۴۰۷۲)

مجاز است.

ماشین حساب

استفاده از:

گد سرى سؤال: يك (۱)

جدول شماره (۴): ارزش فعلی n قسط يك ريالى

دوره	4%	5%	6%	7%	8%	9%	10%	11%	12%	13%	14%	15%	16%	17%	18%	19%	20%
2	1.8861	1.8594	1.8334	1.8080	1.7833	1.7591	1.7355	1.7125	1.6901	1.6681	1.6467	1.6257	1.6052	1.5852	1.5656	1.5465	1.5278
3	2.7751	2.7232	2.6730	2.6243	2.5771	2.5313	2.4889	2.4437	2.4018	2.3612	2.3216	2.2832	2.2459	2.2098	2.1743	2.1399	2.1066
4	3.6289	3.5460	3.4651	3.3872	3.3121	3.2397	3.1699	3.1024	3.0373	2.9745	2.9137	2.8550	2.7982	2.7432	2.6901	2.6386	2.5887
5	4.4518	4.3295	4.2124	4.1002	3.9927	3.8897	3.7908	3.6959	3.6048	3.5172	3.4331	3.3522	3.2743	3.1993	3.1272	3.0576	2.9906
6	5.2421	5.0767	4.9173	4.7635	4.6150	4.4715	4.3328	4.1987	4.0691	3.9439	3.8231	3.7057	3.5917	3.4809	3.3732	3.2685	3.1666
7	6.0021	5.7864	5.5824	5.3893	5.2064	5.0330	4.8684	4.7122	4.5638	4.4226	4.2883	4.1604	4.0386	3.9224	3.8115	3.7057	3.6046
8	6.7327	6.4632	6.2098	5.9713	5.7466	5.5348	5.3348	5.1461	4.9676	4.7988	4.6389	4.4873	4.3436	4.2072	4.0776	3.9544	3.8372
9	7.4353	7.1078	6.8017	6.5152	6.2469	5.9952	5.7590	5.5370	5.3282	5.1317	4.9464	4.7716	4.6065	4.4506	4.3030	4.1633	4.0310
10	8.1109	7.7217	7.3601	7.0238	6.7101	6.4177	6.1446	5.8892	5.6502	5.4282	5.2161	5.0188	4.8332	4.6586	4.4941	4.3369	4.1925
11	8.760	8.305	7.887	7.498	7.139	6.8052	6.4951	6.2085	5.9377	5.6869	5.4527	5.2337	5.0286	4.8364	4.6560	4.4865	4.3271
12	9.388	8.863	8.384	7.943	7.536	7.161	6.814	6.492	6.1944	5.9175	5.6603	5.4206	5.1971	4.9884	4.7932	4.6105	4.4392
13	9.986	9.394	8.853	8.358	7.904	7.487	7.103	6.750	6.4235	6.1218	5.8424	5.5831	5.3423	5.1183	4.9095	4.7147	4.5321
14	10.563	9.899	9.295	8.745	8.244	7.786	7.367	6.982	6.6282	6.3025	6.0021	5.7245	5.4675	5.2293	5.0081	4.8020	4.6106
15	11.118	10.380	9.712	9.108	8.559	8.061	7.608	7.191	6.8109	6.4624	6.1422	5.8474	5.5755	5.3242	5.0918	4.8759	4.6755
16	11.652	10.838	10.106	9.447	8.851	8.313	7.824	7.378	6.9740	6.6039	6.2651	5.9542	5.6685	5.4053	5.1624	4.9377	4.7296
17	12.166	11.274	10.477	9.783	9.122	8.544	8.022	7.549	7.120	6.729	6.373	6.0472	5.7481	5.4748	5.2223	4.9899	4.7746
19	13.134	12.085	11.158	10.336	9.604	8.950	8.365	7.839	7.368	6.938	6.550	6.1982	5.8775	5.5845	5.3162	5.0700	4.8435

جدول شماره (۳): ارزش آتی n قسط يك ريالى

دوره	4%	5%	6%	7%	8%	9%	10%	11%	12%	13%	14%	15%	16%	17%	18%	19%	20%
2	2.0400	2.0508	2.0600	2.0700	2.0800	2.0900	2.1000	2.1100	2.1200	2.1300	2.1400	2.1500	2.1600	2.1700	2.1800	2.1900	2.2000
3	3.1216	3.1628	3.1836	3.2146	3.2464	3.2791	3.3130	3.3421	3.3744	3.4089	3.4396	3.4725	3.5056	3.5389	3.5724	3.6061	3.6400
4	4.2465	4.3101	4.3746	4.4399	4.5051	4.5731	4.6410	4.7097	4.7793	4.8498	4.9211	4.9934	5.0665	5.1405	5.2154	5.2913	5.3680
5	5.4163	5.5256	5.6371	5.7507	5.8666	5.9847	6.1051	6.2278	6.3528	6.4803	6.6101	6.7424	6.8771	7.0144	7.1542	7.2965	7.4416
6	6.6330	6.8019	6.9753	7.1533	7.3359	7.5233	7.7156	7.9129	8.1152	8.3227	8.5355	8.7537	8.9771	9.2066	9.4420	9.6830	9.9298
7	7.8983	8.1420	8.3938	8.6540	8.9228	9.2004	9.4872	9.7833	10.0880	10.4015	10.7300	11.0634	11.4019	11.7720	12.1415	12.5227	12.916
8	9.2142	9.5491	9.897	10.260	10.637	11.028	11.436	11.859	12.300	12.757	13.233	13.718	14.240	14.7733	15.3270	15.9020	16.499
9	10.583	11.027	11.491	11.978	12.488	13.021	13.579	14.164	14.776	15.416	16.085	16.788	17.5185	18.2847	19.0859	19.9234	20.799
10	12.006	12.570	13.161	13.781	14.437	15.133	15.871	16.652	17.476	18.344	19.257	20.204	21.321	22.393	23.521	24.709	25.959
11	13.486	14.207	14.972	15.784	16.645	17.560	18.531	19.561	20.655	21.814	23.048	24.349	25.733	27.200	28.755	30.404	32.150
12	15.028	15.917	16.870	17.883	18.977	20.141	21.384	22.713	24.139	25.660	27.271	29.002	30.850	32.824	34.931	37.180	39.581
13	16.627	17.713	18.882	20.141	21.495	22.953	24.523	26.212	28.029	29.985	32.089	34.352	36.788	39.404	42.218	45.244	48.497
14	18.292	19.599	21.015	22.550	24.215	25.919	27.765	29.755	31.899	34.203	36.688	40.505	43.672	47.103	50.818	54.841	59.166
15	20.024	21.579	23.276	25.129	27.152	29.363	31.772	34.405	37.280	40.412	43.842	47.580	51.660	56.110	60.965	66.261	72.035
16	21.825	23.657	25.673	27.886	30.324	33.003	35.950	39.189	42.753	46.672	50.960	55.717	60.925	66.649	72.939	79.850	87.442
17	23.698	25.840	28.213	30.840	33.750	36.974	40.545	44.594	49.053	53.939	59.118	64.705	71.673	79.079	87.068	95.022	105.93
19	27.871	30.539	33.760	37.379	41.448	46.018	51.133	56.939	63.440	70.740	78.969	88.212	98.603	110.235	123.414	138.166	154.74

جدول شماره (۲): ارزش آتی n قسط يك ريالى

دوره	4%	5%	6%	7%	8%	9%	10%	11%	12%	13%	14%	15%	16%	17%	18%	19%	20%
1	0.9615	0.9524	0.9434	0.9346	0.9259	0.9174	0.9091	0.9009	0.8929	0.8850	0.8772	0.8696	0.8621	0.8547	0.8475	0.8403	0.8333
2	0.9246	0.9070	0.8900	0.8734	0.8573	0.8417	0.8264	0.8116	0.7972	0.7831	0.7695	0.7561	0.7432	0.7305	0.7182	0.7062	0.6944
3	0.8890	0.8638	0.8398	0.8163	0.7934	0.7722	0.7513	0.7312	0.7118	0.6931	0.6750	0.6575	0.6407	0.6244	0.6086	0.5934	0.5787
4	0.8548	0.8227	0.7921	0.7630	0.7350	0.7084	0.6830	0.6587	0.6355	0.6133	0.5921	0.5718	0.5523	0.5337	0.5158	0.4987	0.4823
5	0.8219	0.7835	0.7473	0.7130	0.6808	0.6499	0.6208	0.5935	0.5674	0.5428	0.5194	0.4972	0.4761	0.4561	0.4371	0.4190	0.4019
6	0.7903	0.7462	0.7050	0.6664	0.6302	0.5963	0.5645	0.5346	0.5068	0.4803	0.4556	0.4323	0.4104	0.3898	0.3704	0.3521	0.3349
7	0.7599	0.7107	0.6653	0.6227	0.5835	0.5470	0.5132	0.4817	0.4523	0.4251	0.3996	0.3759	0.3538	0.3332	0.3139	0.2959	0.2791
8	0.7307	0.6769	0.6274	0.5820	0.5403	0.5019	0.4665	0.4339	0.4039	0.3762	0.3506	0.3269	0.3050	0.2848	0.2660	0.2487	0.2326
9	0.7028	0.6446	0.5919	0.5439	0.5002	0.4604	0.4241	0.3909	0.3608	0.3329	0.3075	0.2843	0.2630	0.2434	0.2260	0.2101	0.1956
10	0.6766	0.6139	0.5584	0.5083	0.4632	0.4224	0.3855	0.3522	0.3220	0.2946	0.2697	0.2472	0.2267	0.2080	0.1911	0.1756	0.1615
11	0.6520	0.5847	0.5268	0.4751	0.4289	0.3875	0.3505	0.3173	0.2875	0.2607	0.2368	0.2149	0.1954	0.1778	0.1619	0.1476	0.1346
12	0.6288	0.5566	0.4970	0.4440	0.3971	0.3555	0.3186	0.2856	0.2567	0.2307	0.2076	0.1869	0.1685	0.1520	0.1372	0.1240	0.1122
13	0.6060	0.5303	0.4688	0.4150	0.3677	0.3262	0.2897	0.2575	0.2292	0.2042	0.1821	0.1625	0.1452	0.1299	0.1163	0.1042	0.0935
14	0.5846	0.5051	0.4423	0.3878	0.3405	0.2992	0.2633	0.2320	0.2046	0.1807	0.1597	0.1413	0.1252	0.1110	0.0985	0.0876	0.0779
15	0.5633	0.4810	0.4173	0.3624	0.3152	0.2745	0.2394	0.2090	0.1827	0.1599	0.1401	0.1229	0.1079	0.0949	0.0835	0.0736	0.0649
16	0.5439	0.4581	0.3936	0.3387	0.2919	0.2519	0.2176	0.1883	0.1631	0.1415	0.1226	0.1069	0.0930	0.0811	0.0708	0.0618	0.0541
18	0.4936	0.4155	0.3503	0.2958	0.2502	0.2120	0.1799	0.1526	0.1300	0.1108	0.0946	0.0808	0.0691	0.0592	0.0508	0.0437	0.0376

جدول شماره (۱): ارزش آتی یک قسط یک ریالی																	
دوره	۴%	۵%	۶%	۷%	۸%	۹%	۱۰%	۱۱%	۱۲%	۱۳%	۱۴%	۱۵%	۱۶%	۱۷%	۱۸%	۱۹%	۲۰%
۲	۱.۰۸۱۶	۱.۱۰۲۵	۱.۱۲۳۸	۱.۱۴۴۹	۱.۱۶۶۴	۱.۱۸۸۱	۱.۲۱۰۰	۱.۲۳۲۱	۱.۲۵۴۴	۱.۲۷۶۹	۱.۲۹۹۸	۱.۳۲۲۵	۱.۳۴۵۶	۱.۳۶۸۹	۱.۳۹۲۴	۱.۴۱۶۱	۱.۴۴۰۰
۳	۱.۱۲۴۹	۱.۱۵۷۶	۱.۱۹۱۰	۱.۲۲۵۰	۱.۲۵۹۷	۱.۲۹۵۰	۱.۳۳۱۰	۱.۳۶۷۶	۱.۴۰۴۹	۱.۴۴۲۹	۱.۴۸۱۵	۱.۵۲۰۸	۱.۵۶۰۹	۱.۶۰۱۸	۱.۶۴۳۰	۱.۶۸۵۲	۱.۷۲۸۰
۴	۱.۱۶۹۹	۱.۲۱۵۵	۱.۲۶۲۵	۱.۳۱۰۸	۱.۳۶۰۵	۱.۴۱۱۶	۱.۴۶۴۱	۱.۵۱۸۱	۱.۵۷۳۵	۱.۶۳۰۵	۱.۶۸۹۰	۱.۷۴۹۰	۱.۸۱۰۶	۱.۸۷۳۹	۱.۹۳۸۸	۲.۰۰۵۳	۲.۰۷۳۶
۵	۱.۲۱۶۷	۱.۲۷۶۳	۱.۳۳۸۲	۱.۴۰۲۶	۱.۴۶۹۳	۱.۵۳۸۶	۱.۶۱۰۵	۱.۶۸۵۱	۱.۷۶۲۳	۱.۸۴۲۴	۱.۹۲۵۴	۲.۰۱۱۴	۲.۱۰۰۳	۲.۱۹۲۴	۲.۲۸۷۸	۲.۳۸۶۴	۲.۴۸۸۳
۶	۱.۲۶۵۳	۱.۳۴۰۱	۱.۴۱۸۵	۱.۵۰۰۷	۱.۵۸۵۹	۱.۶۷۱۹	۱.۷۶۱۶	۱.۸۵۴۰	۱.۹۴۸۸	۲.۰۴۶۰	۲.۱۴۵۰	۲.۲۴۶۱	۲.۳۴۹۴	۲.۴۵۵۲	۲.۵۶۳۶	۲.۶۷۴۶	۲.۷۸۸۳
۷	۱.۳۱۵۹	۱.۴۰۷۱	۱.۵۰۳۶	۱.۶۰۵۸	۱.۷۱۳۹	۱.۸۲۸۰	۱.۹۴۸۷	۲.۰۷۶۲	۲.۲۱۰۷	۲.۳۵۲۶	۲.۵۰۲۳	۲.۶۵۰۰	۲.۸۰۲۲	۳.۰۰۱۲	۳.۱۸۵۵	۳.۳۷۹۳	۳.۵۸۳۳
۸	۱.۳۶۸۶	۱.۴۷۷۵	۱.۵۹۳۸	۱.۷۱۸۲	۱.۸۵۰۹	۱.۹۹۲۶	۲.۱۴۳۶	۲.۳۰۴۵	۲.۴۷۶۰	۲.۶۵۵۴	۲.۸۵۲۸	۳.۰۵۸۰	۳.۲۷۸۴	۳.۵۱۱۵	۳.۷۵۸۹	۴.۰۲۱۴	۴.۲۹۳۹
۹	۱.۴۲۳۳	۱.۵۵۱۳	۱.۶۸۹۵	۱.۸۳۸۵	۱.۹۹۹۰	۲.۱۷۱۹	۲.۳۵۷۹	۲.۵۵۶۰	۲.۷۷۳۱	۳.۰۰۴۰	۳.۲۵۱۹	۳.۵۱۷۹	۳.۸۰۳۰	۴.۱۰۵۴	۴.۴۳۵۵	۴.۷۸۵۴	۵.۱۵۹۹
۱۰	۱.۴۸۰۲	۱.۶۲۸۹	۱.۷۹۰۶	۱.۹۶۷۲	۲.۱۵۶۹	۲.۳۶۷۴	۲.۵۹۳۷	۲.۸۳۹۴	۳.۱۰۵۸	۳.۳۹۹۶	۳.۷۰۷۲	۴.۰۴۵۸	۴.۴۱۱۴	۴.۸۰۶۸	۵.۲۳۳۶	۵.۶۹۴۷	۶.۱۹۱۹
۱۱	۱.۵۳۹۵	۱.۷۱۰۳	۱.۸۹۸۳	۲.۱۰۴۹	۲.۳۳۱۶	۲.۵۸۰۴	۲.۸۵۳۱	۳.۱۵۱۸	۳.۴۷۸۵	۳.۸۳۵۹	۴.۲۲۶۲	۴.۶۵۲۴	۵.۱۱۷۳	۵.۶۲۴۰	۶.۱۷۵۹	۶.۷۶۷۷	۷.۴۳۰۰
۱۲	۱.۶۰۱۰	۱.۷۹۵۹	۲.۰۱۲۲	۲.۲۵۵۲	۲.۵۱۹۲	۲.۸۱۲۷	۳.۱۳۸۴	۳.۴۹۸۵	۳.۸۹۶۰	۴.۳۳۴۵	۴.۸۱۷۹	۵.۳۵۰۳	۵.۹۳۸۰	۶.۵۸۰۱	۷.۲۸۷۶	۸.۰۵۴۲	۸.۹۱۶۰
۱۳	۱.۶۶۵۱	۱.۸۸۵۵	۲.۱۳۲۹	۲.۴۰۹۸	۲.۷۱۹۶	۳.۰۶۵۸	۳.۴۵۲۳	۳.۸۸۳۳	۴.۳۶۳۵	۴.۸۹۸۰	۵.۴۹۲۴	۶.۱۵۲۶	۶.۸۵۵۹	۷.۶۹۸۷	۸.۵۹۹۴	۹.۵۹۶۴	۱۰.۶۹۹۰
۱۴	۱.۷۳۱۷	۱.۹۷۹۹	۲.۲۶۰۹	۲.۵۷۸۵	۲.۹۳۷۲	۳.۳۴۱۷	۳.۷۹۷۴	۴.۳۱۰۴	۴.۸۸۷۱	۵.۵۳۴۸	۶.۲۶۱۳	۷.۰۷۵۷	۷.۹۸۷۵	۹.۰۰۷۵	۱۰.۱۴۷۲	۱۱.۴۱۹۶	۱۲.۸۳۰۰
۱۵	۱.۸۰۰۹	۲.۰۷۸۸	۲.۳۹۶۶	۲.۷۵۹۰	۳.۱۷۲۲	۳.۶۴۲۵	۴.۱۷۷۲	۴.۷۸۴۶	۵.۴۷۳۶	۶.۲۵۶۳	۷.۱۳۷۹	۸.۱۳۷۱	۹.۲۶۵۵	۱۰.۵۳۶۷	۱۱.۹۷۳۷	۱۳.۵۸۹۵	۱۵.۴۰۰۰
۱۶	۱.۸۷۳۰	۲.۱۸۲۶	۲.۵۴۰۴	۲.۹۵۲۲	۳.۴۲۵۹	۳.۹۷۰۳	۴.۵۹۵۰	۵.۳۱۰۹	۶.۱۳۰۴	۷.۰۶۷۳	۸.۱۳۷۲	۹.۳۶۷۶	۱۰.۷۴۸۰	۱۲.۳۳۰۳	۱۴.۱۲۹۰	۱۶.۱۷۱۵	۱۸.۴۰۰۰
۱۷	۱.۹۵۲۵	۲.۴۰۶۶	۲.۸۶۴۳	۳.۳۷۹۹	۳.۹۹۶۰	۴.۷۱۷۱	۵.۵۵۹۶	۶.۵۴۳۶	۷.۶۸۹۰	۹.۰۲۴۳	۱۰.۵۷۵	۱۲.۳۷۵۵	۱۴.۴۸۲۶	۱۶.۸۷۹۰	۱۹.۶۷۳۳	۲۲.۹۰۰۵	۲۶.۶۰۰۰

نام درس: مباحث جاری در حسابداری
 رشته تحصیلی / کد درس: حسابداری (۱۲۱۴۰۳۶)
 تعداد سوالات: تستی: ۶ تشریحی: ۶
 زمان آزمون (دقیقه): تستی: ۱۲۰ تشریحی: ۱۲۰
 استفاده از: ماشین حساب مجاز است.

کد سری سؤال: یک (۱)

امام خمینی (ع): این محرم و صفر است که اسلام را زنده نگه داشته است.

۱. انواع قرار دادهای پیمانکاری را توضیح دهید. (۱/۵ نمره)

۲. روشهای حسابداری قرار دادهای پیمانکاری را بنویسید و شرایط بکارگیری هر روش را تشریح نمایید. (۱/۵ نمره)

۳. شرکت نما پیشه اطلاعات زیر را در مورد پیمان شماره ۳ در سال ۸۷ ارائه نموده است: (۳ نمره)

- مواد و مصالح مصرفی ۵۰۰/۰۰۰ ریال
 - دستمزد کارگران ۴۰۰/۰۰۰ ریال
 - سایر هزینههای پیمانکاری ۶۰۰/۰۰۰ ریال
 - موجودی مواد و مصالح در پایان دوره ۱۰۰/۰۰۰ ریال
- در پایان دوره $\frac{۲}{۳}$ از پیمان تکمیل گردیده است. کار گواهی شده ۲/۰۰۰/۰۰ ریال که ۹۰٪ وجه آن دریافت شده است. بهای اولیه پیمان ۴/۰۰۰/۰۰۰ ریال می باشد.

مطلوبست: تهیه حساب پیمان شماره ۳ و محاسبه سود تعدیل شده پیمان

۴. تراز نامه شرکت پارسا در پایان سال ۱۳۸۷ به شرح زیر می باشد: (۳/۵ نمره)

بانک	۶۰/۰۰۰	حسابهای پرداختی	۸۰/۰۰۰
حسابهای دریافتنی	۱۱۰/۰۰۰	وام پرداختی بلند مدت	۱۴۳/۰۰۰
موجودی کالا	۴۰/۰۰۰	سهام عادی	۳۰۰/۰۰۰
ساختمان	۴۲۰/۰۰۰	سود انباشته	۸۳/۰۰۰
استهلاک انباشته	(۸۴/۰۰۰)		
	۳۳۶/۰۰۰		
ماشین آلات	۱۲۰/۰۰۰		
استهلاک انباشته	(۶۰/۰۰۰)		
	۶۰/۰۰۰		
جمع	۶۰۶/۰۰۰		۶۰۶/۰۰۰

نام درس: مباحث جاری در حسابداری	تعداد سوالات: تستی:	تشریحی: ۶
رشته تحصیلی: / گد درس: حسابداری (۱۲۱۴۰۳۶)	زمان آزمون (دقیقه): تستی:	تشریحی: ۱۲۰
گد سری سؤال: یک (۱)	استفاده از:	ماشین حساب
	مجاز است:	

سایر اطلاعات :

- ماشین آلات به مبلغ ۳۰/۰۰۰ ریال در اول فروردین ۸۷ خریداری شده که عمر مفید آن ۵ سال بوده و مابقی ماشین آلات زمانی که شاخص ۱۰۰ بوده تحصیل گردیده است.

- ساختمان زمانی تحصیل شده که شاخص ۱۰۰ بوده و عمر مفید آن ۲۵ سال به روش خط مستقیم می باشد. موجودی کالای اول نیز از شاخص ۱۲۰ بوده و کلیه موجودی کالای پایان دوره از محل اول دوره می باشد. روش قیمت گذاری موجودی کالا *lifo* بوده است.

- شاخص سهام عادی ۱۰۰ (موجوده و شاخص ابتدا و پایان دوره به ترتیب ۱۳۰ و ۱۴۰ می باشد).
مطلوبست: تهیه تراز نامه به روش واحد پول ثابت.

۵. اطلاعات زیر از دفاتر شرکت پیمانکاری پیام در سال ۸۷ استخراج شده است: (۲ نمره)

- مبلغ اولیه پیمان ۱۰/۰۰۰/۰۰۰ ریال

- مخارج واقعی ۵/۰۰۰/۰۰۰ ریال

- کار اضافی ارجاعی ۲/۰۰۰/۰۰۰ ریال

- مخارج برآوردی جهت تکمیل پیمان ۳/۰۰۰/۰۰۰ ریال

- ارزش کار گواهی شده ۸/۰۰۰/۰۰۰ ریال که ۹۰٪ وجه آن دریافت شده است.

مطلوبست: محاسبه سود پیمان نا تمام در سال ۸۷ بر اساس مخارج برآوردی به روش.

۶. شرکت دستجرد اقدام به خرید ساختمان به صورت اجاره به شرط تملیک نمود. در تاریخ ۸۷/۶/۵ مبلغ ۳۰/۰۰۰/۰۰۰ ریال پیش پرداخت به بانک صورت گرفت و مبلغ ۷۰/۰۰۰/۰۰۰ ریال تسهیلات بانکی با نرخ ۱۲٪ در مورخ ۸۷/۶/۳۱ دریافت گردید. تسهیلات ۱۵ ساله با اقساط ماهیانه به مبلغ ۷۴۰/۸۵۰ ریال که اولین قسط آن در ۸۸/۷/۳۰ می باشد. عمر مفید ساختمان ۴۰ سال و به روش خط مستقیم مستهلک می گردد.

مطلوبست: انجام کلیه ثبت های سال ۸۷. (۲/۵ نمره)

نام درس: حسابداری صنعتی ۱
 رشته تحصیلی / کد درس: حسابداری (ستتی ۱۲۱۴۰۲۱) - بازرگانی (ستتی ۱۲۱۴۰۶۹) - صنعتی (ستتی ۱۲۱۴۰۱۲) زمان آزمون (دقیقه): تستی: — تشریحی: ۱۵۰
 تجمیع (حسابداری، بازرگانی، صنعتی، دولتی، جهانگردی، اقتصاد) ۱۲۱۴۰۳۸
 کد سری سؤال: یک (۱)
 استفاده از ماشین حساب مجاز است.

امام خمینی (ره): این محرم و صفر است که اسلام را زنده نگه داشته است.

۱. اطلاعات زیر در ارتباط با عملیات سال مالی منتهی به ۸۷/۱۲/۲۹ شرکت تولیدی احسان در دست است:

مواد مستقیم مصرفی طی دوره ۳۰/۰۰۰ ریال
 دستمزد مستقیم ۸۰/۰۰۰ ریال
 مواد غیر مستقیم ۲۰/۰۰۰ ریال
 استهلاك ماشین آلات تولیدی ۱۰/۰۰۰ ریال
 دستمزد غیر مستقیم ۲۰/۰۰۰ ریال
 سایر هزینه های تولیدی ۶۰/۰۰۰ ریال
 در طی دوره مالی شرکت تولیدی احسان نصیبت به تولید ۴۰ واحد کالا اقدام نموده و کلیه کالاها به صورت ۱۰۰٪ تکمیل شده اند هیچ گونه کالای در جریان ساخت اول دوره نیز وجود نداشته است در طی دوره مالی ۳۰ واحد کالا به مبلغ ۲۴۰/۰۰۰ ریال به فروش رسیده است و همچنین ۴ واحد کالا در انبار شرکت بر اثر آب گرفتگی از بین رفته است و ما بقی در انبار محصول موجود است. مطلوب است محاسبه بهای اولیه، بهای تبدیل و بهای تمام شده محصول و همچنین محاسبه زیان و هزینه دوره مالی. (۱/۵ نمره)

۲. اطلاعات زیر در ارتباط با مانده بعضی از حسابهای سال مالی منتهی به ۸۷/۱۲/۲۹ شرکت تولیدی باران در دست است این شرکت از سیستم ادواری جهت محاسبه بهای تمام شده استفاده می نماید مطلوب است تهیه صورت حسابهای تمام شده کالای ساخته شده و فروش رفته. (۴ نمره)

موجودی مواد اول دوره ۲۰/۰۰۰ ریال
 موجودی کالای در جریان ساخت اول دوره ۱۵/۰۰۰ ریال
 موجودی کالای ساخته شده اول دوره ۲۰/۰۰۰ ریال
 خرید مواد ۴۰۰/۰۰۰ ریال
 هزینه حمل و عوارض مواد خریداری شده ۲۰/۰۰۰ ریال
 برگشت از خرید و تخفیفات ۱۵/۰۰۰ ریال
 هزینه دستمزد مستقیم ۵۰۰/۰۰۰ ریال
 کنترل سربار ۳۰۰/۰۰۰ ریال
 موجودی مواد آخر دوره ۳۰/۰۰۰ ریال
 موجودی کالای در جریان ساخت آخر دوره ۲۰/۰۰۰ ریال
 فروش ۸۰۰/۰۰۰ ریال
 هزینه های عمومی و اداری و فروش ۳۰۰/۰۰۰ ریال
 موجودی کالای ساخته شده آخر دوره ۱۰/۰۰۰ ریال

نام درس: حسابداری صنعتی ۱
 رشته تحصیلی / کد درس: حسابداری (ستى ۱۲۱۴۰۲۱) - بازرگانی (ستى ۱۲۱۴۰۶۹) - صنعتی (ستى ۱۲۱۴۰۱۲) زمان آزمون (دقیقه): ستى: — تشریحی: ۱۵۰
 تجميع (حسابداری، بازرگانی، صنعتی، دولتی، جهانگردی، اقتصاد) ۱۲۱۴۰۳۸
 کد سری سؤال: یک (۱) استفاده از: ماشین حساب مجاز است.

امام خمینی (ره): این محرم و صفر است که اسلام را زنده نگه داشته است.

۱. اطلاعات زیر در ارتباط با عملیات سال مالی منتهی به ۸۷/۱۲/۲۹ شرکت تولیدی احسان در دست است:

مواد مستقیم مصرفی طی دوره ۳۰/۰۰۰ ریال
 دستمزد مستقیم ۸۰/۰۰۰ ریال
 مواد غیر مستقیم ۲۰/۰۰۰ ریال
 استهلاك ماشین آلات تولیدی ۱۰/۰۰۰ ریال
 دستمزد غیر مستقیم ۲۰/۰۰۰ ریال
 سایر هزینه های تولیدی ۶۰/۰۰۰ ریال
 در طی دوره مالی شرکت تولیدی احسان نصیبت به تولید ۴۰ واحد کالا اقدام نموده و کلیه کالاها به صورت ۱۰۰٪ تکمیل شده‌اند هیچ‌گونه کالای در جریان ساخت اول دوره نیز وجود نداشته است در طی دوره مالی ۳۰ واحد کالا به مبلغ ۲۴۰/۰۰۰ ریال به فروش رسیده است و همچنین ۴ واحد کالا در انبار شرکت بر اثر آب گرفتگی از بین رفته است و ما بقی در انبار محصول موجود است. مطلوب است محاسبه بهای اولیه، بهای تبدیل و بهای تمام شده محصول و همچنین محاسبه زیان و هزینه دوره مالی. (۱/۵ نمره)

۲. اطلاعات زیر در ارتباط با مانده بعضی از حسابهای سال مالی منتهی به ۸۷/۱۲/۲۹ شرکت تولیدی باران در دست است این شرکت از سیستم ادواری جهت محاسبه بهای تمام شده استفاده می نماید مطلوب است تهیه صورت حسابهای تمام شده کالای ساخته شده و فروش رفته. (۴ نمره)

موجودی مواد اول دوره ۲۰/۰۰۰ ریال
 موجودی کالای در جریان ساخت اول دوره ۱۵/۰۰۰ ریال
 موجودی کالای ساخته شده اول دوره ۲۰/۰۰۰ ریال
 خرید مواد ۴۰۰/۰۰۰ ریال
 هزینه حمل و عوارض مواد خریداری شده ۲۰/۰۰۰ ریال
 برگشت از خرید و تخفیفات ۱۵/۰۰۰ ریال
 هزینه دستمزد مستقیم ۵۰۰/۰۰۰ ریال
 کنترل سربار ۳۰۰/۰۰۰ ریال
 موجودی مواد آخر دوره ۳۰/۰۰۰ ریال
 موجودی کالای در جریان ساخت آخر دوره ۲۰/۰۰۰ ریال
 فروش ۸۰۰/۰۰۰ ریال
 هزینه های عمومی و اداری و فروش ۳۰۰/۰۰۰ ریال
 موجودی کالای ساخته شده آخر دوره ۱۰/۰۰۰ ریال

نام درس: حسابداری صنعتی ۱
 رشته تحصیلی / کد درس: حسابداری (ستى ۱۲۱۴۰۲۱) - بازرگانی (ستى ۱۲۱۴۰۶۹) - صنعتی (ستى ۱۲۱۴۰۱۲) زمان آزمون (دقیقه): ستى: — تشریحی: ۱۵۰
 تجميع (حسابداری، بازرگانی، صنعتی، دولتی، جهانگردی، اقتصاد) ۱۲۱۴۰۳۸
 کد سري سؤال: یک (۱) استفاده از: ماشین حساب مجاز است.

۳. اطلاعات زیر در ارتباط با عملیات مالی مربوط به یک شرکت تولیدی در دست است:

شرح	تعداد	بهای تمام شده
موجودی مواد اول دوره	۵۰۰	۵۰/۰۰۰
خرید مواد نقدی ۲/۸	۲۰۰۰	۲۴۰/۰۰۰
فروش نقدی مواد ۲/۱۰ به مبلغ ۸۰/۰۰۰ ریال	۵۰۰	؟
فاسد شدن مواد ۲/۱۵	۲۵۰	؟
خرید نسبه مواد ۲/۱۸	۱۰۰۰	۱۵۰/۰۰۰
ارسال به خط تولید ۲/۱۹	۱۰۰۰	؟
خرید مواد نسبه ۲/۲۵	۱۰۰۰	۱۶۰/۰۰۰
برگشت از خرید از محل خرید ۲/۲۵	۱۰۰	؟
ارسال به خط تولید ۲/۳۰	۸۰۰	؟

مطلوبست: انجام ثبت‌های لازم حسابداری طبق روش LIFO (در صورتیکه شرکت فوق از سیستم دائمی جهت محاسبه بهای تمام شده استفاده نماید و همچنین موجودی مواد پایان دوره. (۲/۵ نمره)

نام درس: حسابداری صنعتی ۱
 رشته تحصیلی / کد درس: حسابداری (ستى ۱۲۱۴۰۲۱) - بازرگانی (ستى ۱۲۱۴۰۶۹) - صنعتی (ستى ۱۲۱۴۰۱۲) زمان آزمون (دقیقه): ستى: -- تشریحی: ۱۵۰
 تجميع (حسابداری، بازرگانی، صنعتی، دولتی، جهانگردی، اقتصاد) ۱۲۱۴۰۳۸
 کد سري سؤال: یک (۱) استفاده از: ماشین حساب مجاز است.

۴. شرکت آسانسور سازی الکتروآسانسور جهت محاسبه بهای تمام شده پروژه های خود از سیستم هزینه یابی سفارش کار استفاده می نماید مانده برخی از حسابها در رابطه با پروژه های این شرکت در اول سال ۸۷ به شرح ذیل است:

شرح	مانده - ریال
موجودی مواد مستقیم	۱/۰۰۰/۰۰۰
کار در جریان پروژه اصفهان	۱/۷۰۰/۰۰۰
کار در جریان پروژه شیراز	۲/۸۰۰/۰۰۰
رویدادهای زیر در سال مالی منتهی به ۸۷/۱۲/۲۹ جهت شرکت الکترو آسانسور به وقوع پیوسته است.	
خرید مصالح و مواد مستقیم به صورت نقد ۲/۵۰۰/۰۰۰ ریال.	
شرح	دستمزد مستقیم
کار در جریان پروژه - اصفهان	۳۰۰/۰۰۰
کار در جریان پروژه - شیراز	۳۵۰/۰۰۰
کار در جریان پروژه - مشهد	۳۵۰/۰۰۰
هزینه های سربار انجام شده عبارت است از:	
دستمزد غیر مستقیم	۱۵۰/۰۰۰ ریال
بیمه منقضى شده	۲۵۰/۰۰۰ ریال
استهلاک ماشین آلات	۴۰۰/۰۰۰ ریال

سربار بر اساس ۸۰٪ هزینه دستمزد مستقیم جذب می شود سفارشهای مربوط به اصفهان و مشهد تکمیل و به ترتیب به مبلغ ۳/۰۰۰/۰۰۰ ریال و ۴/۰۰۰/۰۰۰ ریال تحویل مشتری می گردند مطلوب است ثبت کلیه عملیات در دفتر روزنامه. (۳۵ نمره)

۵. اطلاعات زیر از دایره دوم خط تولید شرکت ایمن تک در دست است
 کالای در جریان ساخت اول دوره شامل ۱/۵۰۰ واحد ۶۰٪ تکمیل
 واحد های انتقالی از دایره اول ۸/۵۰۰ واحد
 کالای در جریان ساخت پایان دوره ۱/۰۰۰ واحد ۵۰٪ تکمیل
 در دایره دوم دو نوع مواد به محصول اضافه می شود مواد نوع الف در نقطه ۴۰٪ و مواد نوع ب در نقطه ۷۵٪ و هزینه تبدیل به طور یکنواخت به محصول اضافه می شوند
 مطلوب است تهیه جدول آحاد و مقداری تولید برای شرکت ایمن تک طبق روش fifo. (۲/۵ نمره)

نام درس: حسابداری صنعتی ۱
 رشته تحصیلی / کد درس: حسابداری (ستتی ۱۲۱۴۰۲۱) - بازرگانی (ستتی ۱۲۱۴۰۶۹) - صنعتی (ستتی ۱۲۱۴۰۱۲) زمان آزمون (دقیقه): ستتی: — تشریحی: ۱۵۰
 تجميع (حسابداری، بازرگانی، صنعتی، دولتی، جهانگردی، اقتصاد) ۱۲۱۴۰۳۸
 کد سری سؤال: یک (۱) استفاده از: ماشین حساب مجاز است.

۳. اطلاعات زیر در ارتباط با عملیات مالی مربوط به یک شرکت تولیدی در دست است:

شرح	تعداد	بهای تمام شده
موجودی مواد اول دوره	۵۰۰	۵۰/۰۰۰
خرید مواد نقدی ۲/۸	۲۰۰۰	۲۴۰/۰۰۰
فروش نقدی مواد ۲/۱۰ به مبلغ ۸۰/۰۰۰ ریال	۵۰۰	؟
فاسد شدن مواد ۲/۱۵	۲۵۰	؟
خرید نسبه مواد ۲/۱۸	۱۰۰۰	۱۵۰/۰۰۰
ارسال به خط تولید ۲/۱۹	۱۰۰۰	؟
خرید مواد نسبه ۲/۲۵	۱۰۰۰	۱۶۰/۰۰۰
برگشت از خرید از محل خرید ۲/۲۵	۱۰۰	؟
ارسال به خط تولید ۲/۳۰	۸۰۰	؟

مطلوبست: انجام ثبت‌های لازم حسابداری طبق روش LIFO (در صورتیکه شرکت فوق از سیستم دائمی جهت محاسبه بهای تمام شده استفاده نماید و همچنین موجودی مواد پایان دوره. (۲/۵ نمره)

نام درس: حسابداری صنعتی ۱
 رشته تحصیلی / کد درس: حسابداری (ستتی ۱۲۱۴۰۲۱) - بازرگانی (ستتی ۱۲۱۴۰۶۹) - صنعتی (ستتی ۱۲۱۴۰۱۲) زمان آزمون (دقیقه): تستی: -- تشریحی: ۱۵۰
 تجميع (حسابداری، بازرگانی، صنعتی، دولتی، جهانگردی، اقتصاد) ۱۲۱۴۰۳۸
 کد سری سؤال: یک (۱)
 استفاده از: ماشین حساب
 مجاز است.

۴. شرکت آسانسور سازی الکتروآسانسور جهت محاسبه بهای تمام شده پروژه های خود از سیستم هزینه یابی سفارش کار استفاده می نماید مانده برخی از حسابها در رابطه با پروژه های این شرکت در اول سال ۸۷ به شرح ذیل است:

شرح	مانده - ریال
موجودی مواد مستقیم	۱/۰۰۰/۰۰۰
کار در جریان پروژه اصفهان	۱/۷۰۰/۰۰۰
کار در جریان پروژه شیراز	۲/۸۰۰/۰۰۰
رویدادهای زیر در سال مالی منتهی به ۸۷/۱۲/۲۹ جهت شرکت الکترو آسانسور به وقوع پیوسته است.	
خرید مصالح و مواد مستقیم به صورت نقد ۲/۵۰۰/۰۰۰ ریال.	
شرح	دستمزد مستقیم
کار در جریان پروژه - اصفهان	۳۰۰/۰۰۰
کار در جریان پروژه - شیراز	۳۵۰/۰۰۰
کار در جریان پروژه - مشهد	۳۵۰/۰۰۰
هزینه های سربار انجام شده عبارت است از:	
دستمزد غیر مستقیم	۱۵۰/۰۰۰ ریال
بیمه منقضي شده	۲۵۰/۰۰۰ ریال
استهلاک ماشین آلات	۴۰۰/۰۰۰ ریال

سربار بر اساس ۸۰٪ هزینه دستمزد مستقیم جذب می شود سفارشهای مربوط به اصفهان و مشهد تکمیل و به ترتیب به مبلغ ۳/۰۰۰/۰۰۰ ریال و ۴/۰۰۰/۰۰۰ ریال تحویل مشتری می گردند مطلوب است ثبت کلیه عملیات در دفتر روزنامه. (۳۵ نمره)

۵. اطلاعات زیر از دایره دوم خط تولید شرکت ایمن تک در دست است
 کالای در جریان ساخت اول دوره شامل ۱/۵۰۰ واحد ۶۰٪ تکمیل
 واحد های انتقالی از دایره اول ۸/۵۰۰ واحد
 کالای در جریان ساخت پایان دوره ۱/۰۰۰ واحد ۵۰٪ تکمیل
 در دایره دوم دو نوع مواد به محصول اضافه می شود مواد نوع الف در نقطه ۴۰٪ و مواد نوع ب در نقطه ۷۵٪ و هزینه تبدیل به طور یکنواخت به محصول اضافه می شوند
 مطلوب است تهیه جدول آحاد و مقداری تولید برای شرکت ایمن تک طبق روش fifo. (۲/۵ نمره)

تعداد سوالات: تستی: ۴۰ تشریحی: --

زمان آزمون (دقیقه): تستی: ۶۰ تشریحی: --

نام درس: اصول تنظیم و کنترل بودجه دولتی

رشته تحصیلی / کد درس: حسابداری (استی ۱۲۱۴۰۳۱ - تجميع ۱۲۱۴۰۳۹)

مجاز است.

استفاده از: --

کد سری سؤال: یک (۱)

امام خمینی (ع): این محرم و صفر است که اسلام را زنده نگه داشته است.

- کتاب «تئوری عمومی اشتغال بهره و پول» اثر کدام اقتصاد دان است؟
 الف. کینز ب. اسمیت ج. لئون سه د. فریدمن
- فرآیندی که طی آن چگونگی استفاده از کلیه منابع و امکانات جهت تولید کالا تعیین می گردد مربوط به کدام وظیفه دولت است؟
 الف. توزیعی ب. تثبیتی ج. قانونی د. تخصیصی
- تدابیر مربوط به تدوین و حفظ مقررات اقتصادی کدام وظیفه دولت را نشان می دهد؟
 الف. توزیعی ب. تثبیتی ج. قانونی د. تخصیصی
- اولین بودجه از طرف سازمان برنامه در چه سالی در قوه مقننه تصویب شد؟
 الف. ۱۳۵۱ ب. ۱۳۴۴ ج. ۱۳۲۷ د. ۱۳۳۶
- ریشه اصلی تنظیم بودجه چه عاملی است؟
 الف. سیاسی ب. اقتصادی ج. اجتماعی د. فرهنگی
- اینکه درآمدها و هزینه ها نباید با یکدیگر تهاتر شوند بر کدام اصل بودجه ای تاکید دارد؟
 الف. وحدت ب. جامعیت ج. شمولیت د. انعطاف پذیری
- قاعده بودجه ناویژه و اصل عدم تخصیص درآمدها نتایج منطقی کدام اصل است؟
 الف. وحدت ب. انعطاف پذیری ج. جامعیت د. شمولیت
- کدام اصل به معنی اصلاح بودجه و استثناء بر اصل تخصیص می باشد؟
 الف. انعطاف پذیری ب. تعادل ج. سالیانه بودن د. جامعیت
- کدام هزینه از اصول بودجه نمی باشد؟
 الف. تعادل ب. سالیانه بودن ج. جامعیت د. تحدیدی بودن درآمدها
- فریدمن و آدام اسمیت از کدام نظریه حمایت می کردند؟
 الف. توازن ماهیانه بودجه ب. تعادل بلندمدت بودجه ج. عدم تعادل بودجه د. توازن سالیانه بودجه
- اعتبارات جاری و اعتبارات عمرانی (سرمایه گذاری ثابت) از محل کدام درآمدها تأمین می شود؟
 الف. درآمد اختصاصی ب. درآمد عمومی ج. درآمد شرکتهای دولتی د. درآمد مالیاتی
- قدیمی ترین و متداول ترین طبقه بندی بودجه ای کدامست؟
 الف. سازمانی ب. عملیاتی ج. هزینه ای د. درآمدی
- مجموعه ای از کوشش های سازمان یافته که بخش عمده و قابل ملاحظه ای از وظایف دولت را در برمی گیرد چه نامیده می شود؟
 الف. امور ب. فصل ج. طرح د. فعالیت

تعداد سوالات: تستی: ۴۰ تشریحی: --
 زمان آزمون (دقیقه): تستی: ۶۰ تشریحی: --

نام درس: اصول تنظیم و کنترل بودجه دولتی
 رشته تحصیلی / گد درس: حسابداری (ستتی ۱۲۱۴۰۳۱ - تجميع ۱۲۱۴۰۳۹)

مجاز است.

استفاده از: --

گد سری سؤال: یک (۱)

۱۴. انواع طرح‌های عمرانی کدامند؟
- الف. انتفاعی و غیر انتفاعی
ج. غیرانتفاعی و مطالعاتی
ب. انتفاعی و مطالعاتی
د. انتفاعی ، غیرانتفاعی و مطالعاتی
۱۵. عالی‌ترین ارگان اجرائی کشور که با قصد تحقق یک یا چند هدف دولت به وجود می‌آید کدامست؟
- الف. مؤسسات دولتی
ب. وزارتخانه
ج. شرکتهای دولتی
د. نهادهای عمومی غیردولتی
۱۶. سازمان انرژی اتمی در کدام دسته از سازمانها قرار می‌گیرد؟
- الف. نهاد عمومی غیردولتی
ج. موسسه دولتی مستقل
ب. شرکت دولتی
د. موسسه دولتی وابسته
۱۷. سازمان تأمین اجتماعی از کلمه سازمانهای محسوب می‌شود؟
- الف. نهادهای عمومی غیردولتی
ج. شرکتهای دولتی
ب. مؤسسات دولتی
د. مؤسسات انتفاعی
۱۸. در طبقه‌بندی‌های بودجه‌ای کدام یک در ایران انجام نمی‌شود؟
- الف. سازمانی
ب. اقتصادی
ج. عملیاتی
د. هزینه‌ای
۱۹. ریاست شورای اقتصاد به عهده کیست؟
- الف. رئیس سازمان مدیریت و برنامه ریزی
ج. رئیس بانک مرکزی
ب. وزیر دارایی
د. رئیس جمهور
۲۰. آخرین مرحله از مراحل بودجه کدامست؟
- الف. تهیه و تنظیم بودجه
ج. کنترل بودجه
ب. اجرای بودجه
د. تصویب بودجه
۲۱. تهیه برنامه عمرانی ۵ ساله، تهیه و تنظیم بودجه کشور را کدام نهاد انجام می‌دهد؟
- الف. وزارت دارایی
ج. دیوان محاسبات
ب. سازمان مدیریت و برنامه ریزی
د. خزانه داری کل
۲۲. سازمان بازرسی کشور زیر نظر کدام قوه یا قوا فعالیت می‌کند؟
- الف. قوه مجریه و مقننه
ج. قوه مقننه
ب. قوه مجریه
د. قوه قضائیه
۲۳. پیش نویس بخش نامه بودجه توسط کدام نهاد تهیه می‌شود؟
- الف. سازمان مدیریت و برنامه ریزی
ج. وزارت دارایی
ب. خزانه داری کل
د. شورای اقتصاد
۲۴. بررسی برنامه‌ها و بهبود مدیریت به کدام بُعد توجه دارند؟
- الف. کارایی - کارایی
ج. اثربخشی - کارایی
ب. کارایی - اثربخشی
د. اثر بخشی - اثربخشی

تعداد سوالات: تستی: ۴۰ تشریحی: --

زمان آزمون (دقیقه): تستی: ۶۰ تشریحی: --

نام درس: اصول تنظیم و کنترل بودجه دولتی

رشته تحصیلی / کد درس: حسابداری (استی ۱۲۱۴۰۳۱ - تجميع ۱۲۱۴۰۳۹)

مجاز است.

استفاده از: --

کد سری سؤال: یک (۱)

۲۵. کدام مورد در لایحه بودجه قرار ندارد؟

الف. پیام بودجه ب. بخشنامه بودجه ج. متن لایحه بودجه د. پیوستهای بودجه

۲۶. جهت تصویب نهائی بودجه کدام مرجع نظر می‌دهد؟

الف. مجلس ب. دیوان محاسبات ج. شورای اقتصاد د. شورای نگهبان

۲۷. اختصاص دادن تمام یا قسمتی از اعتبارات مصوب برای هزینه معین چه نامیده می‌شود؟

الف. تأمین اعتبار ب. تخصیص اعتبار ج. درخواست وجه د. تعهد

۲۸. آخرین مرحله از مراحل اجرای بودجه کدامست؟

الف. درخواست وجه ب. تأمین اعتبار ج. هزینه د. تسجیل

۲۹. منظور از پرداخت‌های قطعی چیست؟

الف. تنخواه پرداخت ب. علی الحساب‌ها ج. پیش پرداخت‌ها د. هزینه‌ها

۳۰. ساخت یک بیمارستان در ناحیه مورد نیاز به هزینه قابل قبول مربوط به کدام شاخص است؟

الف. غیراثربخش و ناکارآمد ب. اثربخش و ناکارآمد

ج. غیراثربخش و کارآمد د. اثربخش و کارآمد

۳۱. جهت جلوگیری از اسراف از دیدگاه کلان در کدام مرحله از بودجه قابل اجراست؟

الف. تصویب بودجه ب. نظارت بودجه ج. تنظیم بودجه د. اجرای بودجه

۳۲. مسئولیت تأمین اعتبار و تطبیق پرداخت با قوانین و مقررات به عهده چه کسی است؟

الف. ذیحساب ب. عامل ذیحساب

ج. وزیر یا رئیس موسسه د. رئیس جمهور

۳۳. وظیفه نظارت عملیاتی برعهده چه نهادی است؟

الف. وزارت دارائی ب. سازمان مدیریت ج. دیوان محاسبات د. خزانه داری کل

۳۴. وظیفه نظارت قضایی برعهده چه نهادی است؟

الف. وزارت دارائی ب. دیوان محاسبات ج. سازمان مدیریت د. خزانه داری کل

۳۵. در چه روشی پیش بینی درآمدها بر اساس تجزیه و تحلیل همبستگی‌ها و جمع‌آوری پرسش نامه‌های نمونه انجام می‌شود؟

الف. روش سال ماقبل آخر ب. روش حد متوسط‌ها

ج. روش پیش بینی مستقیم د. روش سنجیده منظم

۳۶. در کدام روش بودجه بندی، هزینه‌های آینده به هزینه‌های گذشته بستگی ندارد؟

الف. بودجه افزایشی ب. بودجه عملیاتی ج. بودجه بندی بر مبنای صفر د. بودجه برنامه‌ای

۳۷. اخذ مالیات تصاعدی و پرداخت یارانه به طبقات ضعیف جهت اجرای کدام قدرت است؟

الف. تعدیلی ب. تصحیحی ج. تشویقی د. تعدیلی و تشویقی

تعداد سوالات: تستی: ۴۰ تشریحی: —

زمان آزمون (دقیقه): تستی: ۶۰ تشریحی: —

نام درس: اصول تنظیم و کنترل بودجه دولتی

رشته تحصیلی / کد درس: حسابداری (استی ۱۲۱۴۰۳۱ - تجميع ۱۲۱۴۰۳۹)

مجاز است.

استفاده از: —

کد سری سؤال: یک (۱)

۲۸. انتخاب غلط سیستم مالیاتی و سازمان غلط وصول درآمدها باعث کدام کسری می‌شود؟

الف. کسر بودجه اداری

ج. کسر مربوط به ساختمان اقتصادی

د. کسر بودجه سیاسی

۳۹. ارزشیابی فعالیت‌ها و طرح‌های عمرانی از نظر مطابقت عملیات و نتایج با اهداف و سیاستهای تعیین شده کدام نظارت است؟

الف. نظارت مالی

ب. نظارت عملیاتی

ج. نظارت بعد از خرج

د. نظارت قبل از خرج

۴۰. مقایسه بودجه مصوب تخصیص شده (برنامه) با تفریغ بودجه (عملکرد) را چه می‌گویند؟

الف. نظارت پالایشی

ب. نظارت قضائی

ج. نظارت مالی

د. نظارت عملیاتی

www.Sanjesh3.com

نام درس: اصول حسابداری ۲

تعداد سوالات: تستی: — تشریحی: ۷

رشته تحصیلی / کد درس: حسابداری ۱۲۱۴۰۱۸ - اقتصاد ۱۲۲۱۰۹۲ - جهانگردی ۱۲۱۴۰۰۳ - صنعتی ۱۲۱۴۰۱۱ زمان آزمون (دقیقه): تستی: — تشریحی: ۱۲۰

دولتی ۱۲۱۴۰۰۵ - بازرگانی ۱۲۱۴۰۶۸ - تجميع: کليه گرايشهاي مدیریت، اقتصاد حسابداری (۱۲۱۴۰۴۵)

مجاز است.

استفاده از: ماشین حساب

کد سری سؤال: یک (۱)

امام خمینی (ره): این محرم و صفر است که اسلام را زنده نگه داشته است.

۱. مانده حساب جاری شماره ۱۲۴ شرکت خزر نزد بانک ملی در تاریخ ۱۳/۶/۳۱ طبق دفاتر شرکت مبلغ ۳۱۸/۰۰۰ ریال و طبق صورت حساب ارسالی بانک مبلغ ۵۴۸/۰۰۰ ریال است.

پس از مطابقت صورت حساب بانک با دفاتر شرکت مغایرات زیر مشخص شده است:

۱. بانک مبلغ ۷۰۰/۰۰۰ ریال از یکی از بدهکاران شرکت وصول نموده ولی شرکت از آن بی اطلاع است.
 ۲. مبلغ ۵۰/۰۰۰ ریال توسط یکی از مشتریان به حساب جاری شرکت حواله شده که در صورت حساب بانک منعکس نیست.
 ۳. بانک مبلغ ۴۸/۰۰۰ ریال واریزی به حساب جاری یک شرکت دیگر را اشتباهاً به حساب شرکت خزر منظور کرده است.
 ۴. مبلغ ۹۰/۰۰۰ ریال سود بابت سرمایه گذاری در سهام به حساب جاری شرکت واریز شده که شرکت از آن بی اطلاع است.
 ۵. مبلغ ۴/۰۰۰ ریال بابت هزینه های بانکی از حساب جاری برداشت شده که در دفاتر شرکت منعکس نیست.
 ۶. دو از فقره چک های صادره شرکت جمعاً به مبلغ ۴۰/۰۰۰ ریال جهت وصول به بانک ارائه نشده است.
 ۷. چک صادره به مبلغ ۴۸/۰۰۰ ریال بابت خرید کالا اشتباهاً به مبلغ ۸۴/۰۰۰ ریال در دفاتر شرکت ثبت شده است.
- مطلوبست تهیه صورت مغایرت بانکی شرکت خزر در تاریخ ۱۳/۶/۳۱. (۳/۵ نمره)

۲. نرخ هر ساعت دستمزد عادی آقای بهاری، یکی از کارکنان شرکت پارس ۲۰/۰۰۰ ریال است. ساعات کار عادی ماهانه شرکت ۱۷۶ ساعت بوده و آقای بهاری در آبان ماه ۱۳۸۰، ۲۲۵ ساعت کار کرده است.

با توجه به اینکه نرخ مالیات ۱۰٪ و نرخ حق بیمه سهم کارگر و کارفرما به ترتیب ۷٪ و ۲۳٪ و قسط ماهانه وام مسکن آقای بهاری ۳۰۰/۰۰۰ ریال است،

مطلوبست: محاسبه حقوق و دستمزد آقای بهاری و ثبت حقوق و دستمزد در دفتر روزنامه شرکت. (۴ نمره)

۳. فروشگاه لوازم اداری سپید در ۱۳۸۰/۶/۱ یک دستگاه کامپیوتر را که بهای تمام شده آن ۶/۰۰۰/۰۰۰ ریال بود به قیمت ۱۰/۰۰۰/۰۰۰ ریال به اقساط مساوی ۱۰ ماهه فروخته است. درآمد (سود ناویژه) سال های ۸۰ و ۸۱ فروشگاه سپید را طبق روش فروش اقساطی تعیین کنید. (۱/۵ نمره)

۴. رستم و سهراب و اسفندیار شرکای یک شرکت تضامنی هستند که به ترتیب به نسبت ۲ و ۲ و ۳ در سود و زیان سهیم اند و سرمایه هر یک به ترتیب ۴/۰۰۰/۰۰۰ و ۵/۰۰۰/۰۰۰ و ۶/۰۰۰/۰۰۰ ریال می باشد. با موافقت شرکاء، اسفندیار با دریافت مبلغ ۶/۸۰۰/۰۰۰ ریال وجه نقد از شرکت خارج گردید.

مطلوبست: ثبت رویداد مالی فوق در دفتر روزنامه شرکت و تعیین مانده حساب سرمایه رستم و سهراب. (۱/۵ نمره)

نام درس: اصول حسابداری ۲

تعداد سوالات: تستی: — تشریحی: ۷

رشته تحصیلی / کد درس: حسابداری ۱۲۱۴۰۱۸ - اقتصاد ۱۲۲۱۰۹۲ - جهانگردی ۱۲۱۴۰۰۳ - صنعتی ۱۲۱۴۰۱۱ زمان آزمون (دقیقه): تستی: — تشریحی: ۱۲۰

دولتی ۱۲۱۴۰۰۵ - بازرگانی ۱۲۱۴۰۶۸ - تجميع: کليه گرايشهاي مدیریت، اقتصاد حسابداری (۱۲۱۴۰۴۵)

مجاز است.

استفاده از: ماشین حساب

کد سری سؤال: یک (۱)

امام خمینی (ع): این محرم و صفر است که اسلام را زنده نگه داشته است.

۱. مانده حساب جاری شماره ۱۲۴ شرکت خزر نزد بانک ملی در تاریخ ۱۳/۶/۳۱ طبق دفاتر شرکت مبلغ ۳۱۸/۰۰۰ ریال و طبق صورت حساب ارسالی بانک مبلغ ۵۴۸/۰۰۰ ریال است.

پس از مطابقت صورت حساب بانک با دفاتر شرکت مغایرات زیر مشخص شده است:

۱. بانک مبلغ ۷۰۰/۰۰۰ ریال از یکی از بدهکاران شرکت وصول نموده ولی شرکت از آن بی اطلاع است.
 ۲. مبلغ ۵۰/۰۰۰ ریال توسط یکی از مشتریان به حساب جاری شرکت حواله شده که در صورت حساب بانک منعکس نیست.
 ۳. بانک مبلغ ۴۸/۰۰۰ ریال واریزی به حساب جاری یک شرکت دیگر را اشتباهاً به حساب شرکت خزر منظور کرده است.
 ۴. مبلغ ۹۰/۰۰۰ ریال سود بابت سرمایه گذاری در سهام به حساب جاری شرکت واریز شده که شرکت از آن بی اطلاع است.
 ۵. مبلغ ۴/۰۰۰ ریال بابت هزینه های بانکی از حساب جاری برداشت شده که در دفاتر شرکت منعکس نیست.
 ۶. دو از فقره چک های صادره شرکت جمعاً به مبلغ ۴۰/۰۰۰ ریال جهت وصول به بانک ارائه نشده است.
 ۷. چک صادره به مبلغ ۴۸/۰۰۰ ریال بابت خرید کالا اشتباهاً به مبلغ ۸۴/۰۰۰ ریال در دفاتر شرکت ثبت شده است.
- مطلوبست تهیه صورت مغایرت بانکی شرکت خزر در تاریخ ۱۳/۶/۳۱. (۳/۵ نمره)

۲. نرخ هر ساعت دستمزد عادی آقای بهاری، یکی از کارکنان شرکت پارس ۲۰/۰۰۰ ریال است. ساعات کار عادی ماهانه شرکت ۱۷۶ ساعت بوده و آقای بهاری در آبان ماه ۱۳۸۰، ۲۲۵ ساعت کار کرده است.

با توجه به اینکه نرخ مالیات ۱۰٪ و نرخ حق بیمه سهم کارگر و کارفرما به ترتیب ۷٪ و ۲۳٪ و قسط ماهانه وام مسکن آقای بهاری ۳۰۰/۰۰۰ ریال است،

مطلوبست: محاسبه حقوق و دستمزد آقای بهاری و ثبت حقوق و دستمزد در دفتر روزنامه شرکت. (۴ نمره)

۳. فروشگاه لوازم اداری سپید در ۱۳۸۰/۶/۱ یک دستگاه کامپیوتر را که بهای تمام شده آن ۶/۰۰۰/۰۰۰ ریال بود به قیمت ۱۰/۰۰۰/۰۰۰ ریال به اقساط مساوی ۱۰ ماهه فروخته است. درآمد (سود ناویژه) سال های ۸۰ و ۸۱ فروشگاه سپید را طبق روش فروش اقساطی تعیین کنید. (۱/۵ نمره)

۴. رستم و سهراب و اسفندیار شرکای یک شرکت تضامنی هستند که به ترتیب به نسبت ۲ و ۲ و ۳ در سود و زیان سهیم اند و سرمایه هر یک به ترتیب ۴/۰۰۰/۰۰۰ و ۵/۰۰۰/۰۰۰ و ۶/۰۰۰/۰۰۰ ریال می باشد. با موافقت شرکاء، اسفندیار با دریافت مبلغ ۶/۸۰۰/۰۰۰ ریال وجه نقد از شرکت خارج گردید.

مطلوبست: ثبت رویداد مالی فوق در دفتر روزنامه شرکت و تعیین مانده حساب سرمایه رستم و سهراب. (۱/۵ نمره)

نام درس: اصول حسابداری ۲

تعداد سوالات: تستی: — تشریحی: ۷

رشته تحصیلی / کد درس: حسابداری ۱۲۱۴۰۱۸ - اقتصاد ۱۲۲۱۰۹۲ - جهانگردی ۱۲۱۴۰۰۳ - صنعتی ۱۲۱۴۰۱۱ زمان آزمون (دقیقه): تستی: — تشریحی: ۱۲۰

دولتی ۱۲۱۴۰۰۵ - بازرگانی ۱۲۱۴۰۶۸ - تجميع: کلیه گرایشهای مدیریت، اقتصاد حسابداری (۱۲۱۴۰۴۵)

مجاز است.

استفاده از: ماشین حساب

کد سری سؤال: یک (۱)

۵. نرگس و شقایق شرکای یک شرکت تضامنی به نسبت ۲ و ۳ در سود و زیان سهم بوده و سرمایه هر یک از آنها به ترتیب ۳/۰۰۰/۰۰۰ و ۵/۰۰۰/۰۰۰ ریال می باشد. شرکاء موافقت نمودند که نسترن با پرداخت مبلغ ۴/۰۰۰/۰۰۰ ریال به عنوان شریک جدید

وارد شرکت شده و در $\frac{1}{4}$ سرمایه شرکت سهم گردد. و سرقفلی نیز شناسایی گردید.

مطلوبست: انجام ثبت لازم در دفتر روزنامه شرکت. (۱/۵ نمره)

۶. شرکت نارنج در تاریخ ۱۳۸۰/۵/۳ تعداد ۲۰۰۰ سهم ممتاز به ارزش اسمی ۱/۰۰۰ ریالی خود را به ازای هر سهم ۱/۲۰۰ ریال و ۳۰۰۰ سهم عادی به ارزش اسمی ۱/۰۰۰ ریالی خود را به ازای هر سهم ۹۰۰ ریال به طور نقد به فروش رساند.

مطلوبست: الف. ثبت رویداد مالی فوق در دفتر روزنامه شرکت.

ب. تهیه بخش حقوق صاحبان سهام در ترازنامه. (۳ نمره)

۷. سرمایه شرکت دماوند متشکل از ۲۰۰۰ سهم عادی ۱۰۰۰ ریالی و ۱۰۰۰ سهام ممتاز ۱۰٪ ریالی است. شرکت دماوند در سالهای X۱ و X۲ سودی بین سهامداران تقسیم نکرده است.

اگر سود سهام اعلام شده برای سال X۳ مبلغ ۶۰۰/۰۰۰ ریال باشد و سهام ممتاز از مجموع بدون سود انباشته (غیر جمع شونده) و با حق مشارکت در کل سود باشد، سود متعلق به سهام ممتاز و عادی را به دست آورید. (۱ نمره)

نام درس: اصول حسابداری ۲

تعداد سوالات: تستی: — تشریحی: ۷

رشته تحصیلی / کد درس: حسابداری ۱۲۱۴۰۱۸ - اقتصاد ۱۲۲۱۰۹۲ - جهانگردی ۱۲۱۴۰۰۳ - صنعتی ۱۲۱۴۰۱۱ زمان آزمون (دقیقه): تستی: — تشریحی: ۱۲۰

دولتی ۱۲۱۴۰۰۵ - بازرگانی ۱۲۱۴۰۶۸ - تجميع: کلیه گرایشهای مدیریت، اقتصاد حسابداری (۱۲۱۴۰۴۵)

مجاز است.

استفاده از: ماشین حساب

کد سری سؤال: یک (۱)

۵. نرگس و شقایق شرکای یک شرکت تضامنی به نسبت ۲ و ۳ در سود و زیان سهم بوده و سرمایه هر یک از آنها به ترتیب ۳/۰۰۰/۰۰۰ و ۵/۰۰۰/۰۰۰ ریال می باشد. شرکاء موافقت نمودند که نسترن با پرداخت مبلغ ۴/۰۰۰/۰۰۰ ریال به عنوان شریک جدید

وارد شرکت شده و در $\frac{1}{4}$ سرمایه شرکت سهم گردد. و سرقفلی نیز شناسایی گردید.

مطلوبست: انجام ثبت لازم در دفتر روزنامه شرکت. (۱/۵ نمره)

۶. شرکت نارنج در تاریخ ۱۳۸۰/۵/۳ تعداد ۲۰۰۰ سهم ممتاز به ارزش اسمی ۱/۰۰۰ ریالی خود را به ازای هر سهم ۱/۲۰۰ ریال و ۳۰۰۰ سهم عادی به ارزش اسمی ۱/۰۰۰ ریالی خود را به ازای هر سهم ۹۰۰ ریال به طور نقد به فروش رساند.

مطلوبست: الف. ثبت رویداد مالی فوق در دفتر روزنامه شرکت.

ب. تهیه بخش حقوق صاحبان سهام در ترازنامه. (۳ نمره)

۷. سرمایه شرکت دماوند متشکل از ۲۰۰۰ سهم عادی ۱۰۰۰ ریالی و ۱۰۰۰ سهام ممتاز ۱۰٪ ریالی است. شرکت دماوند در سالهای X۱ و X۲ سودی بین سهامداران تقسیم نکرده است.

اگر سود سهام اعلام شده برای سال X۳ مبلغ ۶۰۰/۰۰۰ ریال باشد و سهام ممتاز از مجموع بدون سود انباشته (غیر جمع شونده) و با حق مشارکت در کل سود باشد، سود متعلق به سهام ممتاز و عادی را به دست آورید. (۱ نمره)

نام درس: اصول حسابداری ۲

تعداد سوالات: تستی: — تشریحی: ۷

رشته تحصیلی / کد درس: حسابداری ۱۲۱۴۰۱۸ - اقتصاد ۱۲۲۱۰۹۲ - جهانگردی ۱۲۱۴۰۰۳ - صنعتی ۱۲۱۴۰۱۱ زمان آزمون (دقیقه): تستی: — تشریحی: ۱۲۰

دولتی ۱۲۱۴۰۰۵ - بازرگانی ۱۲۱۴۰۶۸ - تجميع: کلیه گرایشهای مدیریت، اقتصاد حسابداری (۱۲۱۴۰۴۵)

مجاز است.

استفاده از: ماشین حساب

کد سری سؤال: یک (۱)

امام خمینی (ع): این محرم و صفر است که اسلام را زنده نگه داشته است.

۱. مانده حساب جاری شماره ۱۲۴ شرکت خزر نزد بانک ملی در تاریخ ۱۳/۶/۳۱ طبق دفاتر شرکت مبلغ ۳۱۸/۰۰۰ ریال و طبق صورت حساب ارسالی بانک مبلغ ۵۴۸/۰۰۰ ریال است.

پس از مطابقت صورت حساب بانک با دفاتر شرکت مغایرات زیر مشخص شده است:

۱. بانک مبلغ ۷۰۰/۰۰۰ ریال از یکی از بدهکاران شرکت وصول نموده ولی شرکت از آن بی اطلاع است.
 ۲. مبلغ ۵۰/۰۰۰ ریال توسط یکی از مشتریان به حساب جاری شرکت حواله شده که در صورت حساب بانک منعکس نیست.
 ۳. بانک مبلغ ۴۸/۰۰۰ ریال واریزی به حساب جاری یک شرکت دیگر را اشتبهاً به حساب شرکت خزر منظور کرده است.
 ۴. مبلغ ۹۰/۰۰۰ ریال سود بابت سرمایه گذاری در سهام به حساب جاری شرکت واریز شده که شرکت از آن بی اطلاع است.
 ۵. مبلغ ۴/۰۰۰ ریال بابت هزینه های بانکی از حساب جاری برداشت شده که در دفاتر شرکت منعکس نیست.
 ۶. دو از فقره چک های صادره شرکت جمعاً به مبلغ ۴۰/۰۰۰ ریال جهت وصول به بانک ارائه نشده است.
 ۷. چک صادره به مبلغ ۴۸/۰۰۰ ریال بابت خرید کالا اشتبهاً به مبلغ ۸۴/۰۰۰ ریال در دفاتر شرکت ثبت شده است.
- مطلوبست تهیه صورت مغایرت بانکی شرکت خزر در تاریخ ۱۳/۶/۳۱. (۳/۵ نمره)

۲. نرخ هر ساعت دستمزد عادی آقای بهاری، یکی از کارکنان شرکت پارس ۲۰/۰۰۰ ریال است. ساعات کار عادی ماهانه شرکت ۱۷۶ ساعت بوده و آقای بهاری در آبان ماه ۱۳۸۰، ۲۲۵ ساعت کار کرده است.

با توجه به اینکه نرخ مالیات ۱۰٪ و نرخ حق بیمه سهم کارگر و کارفرما به ترتیب ۷٪ و ۲۳٪ و قسط ماهانه وام مسکن آقای بهاری ۳۰۰/۰۰۰ ریال است،

مطلوبست: محاسبه حقوق و دستمزد آقای بهاری و ثبت حقوق و دستمزد در دفتر روزنامه شرکت. (۴ نمره)

۳. فروشگاه لوازم اداری سپید در ۱۳۸۰/۶/۱ یک دستگاه کامپیوتر را که بهای تمام شده آن ۶/۰۰۰/۰۰۰ ریال بود به قیمت ۱۰/۰۰۰/۰۰۰ ریال به اقساط مساوی ۱۰ ماهه فروخته است. درآمد (سود ناویژه) سال های ۸۰ و ۸۱ فروشگاه سپید را طبق روش فروش اقساطی تعیین کنید. (۱/۵ نمره)

۴. رستم و سهراب و اسفندیار شرکای یک شرکت تضامنی هستند که به ترتیب به نسبت ۲ و ۲ و ۳ در سود و زیان سهامند و سرمایه هر یک به ترتیب ۴/۰۰۰/۰۰۰ و ۵/۰۰۰/۰۰۰ و ۶/۰۰۰/۰۰۰ ریال می باشد. با موافقت شرکاء، اسفندیار با دریافت مبلغ ۶/۸۰۰/۰۰۰ ریال وجه نقد از شرکت خارج گردید.

مطلوبست: ثبت رویداد مالی فوق در دفتر روزنامه شرکت و تعیین مانده حساب سرمایه رستم و سهراب. (۱/۵ نمره)

نام درس: اصول حسابداری ۲

تعداد سوالات: تستی: — تشریحی: ۷

رشته تحصیلی / کد درس: حسابداری ۱۲۱۴۰۱۸ - اقتصاد ۱۲۲۱۰۹۲ - جهانگردی ۱۲۱۴۰۰۳ - صنعتی ۱۲۱۴۰۱۱ زمان آزمون (دقیقه): تستی: — تشریحی: ۱۲۰

دولتی ۱۲۱۴۰۰۵ - بازرگانی ۱۲۱۴۰۶۸ - تجميع: کلیه گرایشهای مدیریت، اقتصاد حسابداری (۱۲۱۴۰۴۵)

مجاز است.

استفاده از: ماشین حساب

کد سری سؤال: یک (۱)

۵. نرگس و شقایق شرکای یک شرکت تضامنی به نسبت ۲ و ۳ در سود و زیان سهم بوده و سرمایه هر یک از آنها به ترتیب ۳/۰۰۰/۰۰۰ و ۵/۰۰۰/۰۰۰ ریال می باشد. شرکاء موافقت نمودند که نسترن با پرداخت مبلغ ۴/۰۰۰/۰۰۰ ریال به عنوان شریک جدید

وارد شرکت شده و در $\frac{1}{4}$ سرمایه شرکت سهم گردد. و سرقفلی نیز شناسایی گردید.

مطلوبست: انجام ثبت لازم در دفتر روزنامه شرکت. (۱/۵ نمره)

۶. شرکت نارنج در تاریخ ۱۳۸۰/۵/۳ تعداد ۲۰۰۰ سهم ممتاز به ارزش اسمی ۱/۰۰۰ ریالی خود را به ازای هر سهم ۱/۲۰۰ ریال و ۳۰۰۰ سهم عادی به ارزش اسمی ۱/۰۰۰ ریالی خود را به ازای هر سهم ۹۰۰ ریال به طور نقد به فروش رساند.

مطلوبست: الف. ثبت رویداد مالی فوق در دفتر روزنامه شرکت.

ب. تهیه بخش حقوق صاحبان سهام در ترازنامه. (۳ نمره)

۷. سرمایه شرکت دماوند متشکل از ۲۰۰۰ سهم عادی ۱۰۰۰ ریالی و ۱۰۰۰ سهام ممتاز ۱۰٪ ریالی است. شرکت دماوند در سالهای X۱ و X۲ سودی بین سهامداران تقسیم نکرده است.

اگر سود سهام اعلام شده برای سال X۳ مبلغ ۶۰۰/۰۰۰ ریال باشد و سهام ممتاز از مجموع بدون سود انباشته (غیر جمع شونده) و با حق مشارکت در کل سود باشد، سود متعلق به سهام ممتاز و عادی را به دست آورید. (۱ نمره)

نام درس: حسابداری صنعتی ۱
 رشته تحصیلی / کد درس: حسابداری (ستتی ۱۲۱۴۰۲۱) - بازرگانی (ستتی ۱۲۱۴۰۶۹) - صنعتی (ستتی ۱۲۱۴۰۱۲) زمان آزمون (دقیقه): ستتی: — تشریحی: ۱۵۰
 تجميع (حسابداری، بازرگانی، صنعتی، دولتی، جهانگردی، اقتصاد) ۱۲۱۴۰۳۸
 کد سری سؤال: یک (۱)
 استفاده از ماشین حساب مجاز است.

امام خمینی (ره): این محرم و صفر است که اسلام را زنده نگه داشته است.

۱. اطلاعات زیر در ارتباط با عملیات سال مالی منتهی به ۸۷/۱۲/۲۹ شرکت تولیدی احسان در دست است:

مواد مستقیم مصرفی طی دوره ۳۰/۰۰۰ ریال
 دستمزد مستقیم ۸۰/۰۰۰ ریال
 مواد غیر مستقیم ۲۰/۰۰۰ ریال
 استهلاك ماشین آلات تولیدی ۱۰/۰۰۰ ریال
 دستمزد غیر مستقیم ۲۰/۰۰۰ ریال
 سایر هزینه های تولیدی ۶۰/۰۰۰ ریال
 در طی دوره مالی شرکت تولیدی احسان نصیبت به تولید ۴۰ واحد کالا اقدام نموده و کلیه کالاها به صورت ۱۰۰٪ تکمیل شده‌اند هیچ‌گونه کالای در جریان ساخت اول دوره نیز وجود نداشته است در طی دوره مالی ۳۰ واحد کالا به مبلغ ۲۴۰/۰۰۰ ریال به فروش رسیده است و همچنین ۴ واحد کالا در انبار شرکت بر اثر آب گرفتگی از بین رفته است و ما بقی در انبار محصول موجود است. مطلوب است محاسبه بهای اولیه، بهای تبدیل و بهای تمام شده محصول و همچنین محاسبه زیان و هزینه دوره مالی. (۱/۵ نمره)

۲. اطلاعات زیر در ارتباط با مانده بعضی از حسابهای سال مالی منتهی به ۸۷/۱۲/۲۹ شرکت تولیدی باران در دست است این شرکت از سیستم ادواری جهت محاسبه بهای تمام شده استفاده می نماید مطلوب است تهیه صورت حسابهای تمام شده کالای ساخته شده و فروش رفته. (۴ نمره)

موجودی مواد اول دوره ۲۰/۰۰۰ ریال
 موجودی کالای در جریان ساخت اول دوره ۱۵/۰۰۰ ریال
 موجودی کالای ساخته شده اول دوره ۲۰/۰۰۰ ریال
 خرید مواد ۴۰۰/۰۰۰ ریال
 هزینه حمل و عوارض مواد خریداری شده ۲۰/۰۰۰ ریال
 برگشت از خرید و تخفیفات ۱۵/۰۰۰ ریال
 هزینه دستمزد مستقیم ۵۰۰/۰۰۰ ریال
 کنترل سربار ۳۰۰/۰۰۰ ریال
 موجودی مواد آخر دوره ۳۰/۰۰۰ ریال
 موجودی کالای در جریان ساخت آخر دوره ۲۰/۰۰۰ ریال
 فروش ۸۰۰/۰۰۰ ریال
 هزینه های عمومی و اداری و فروش ۳۰۰/۰۰۰ ریال
 موجودی کالای ساخته شده آخر دوره ۱۰/۰۰۰ ریال

نام درس: حسابداری صنعتی ۱
 رشته تحصیلی / کد درس: حسابداری (ستتی ۱۲۱۴۰۲۱) - بازرگانی (ستتی ۱۲۱۴۰۶۹) - صنعتی (ستتی ۱۲۱۴۰۱۲) زمان آزمون (دقیقه): تستی: — تشریحی: ۱۵۰
 تجميع (حسابداری، بازرگانی، صنعتی، دولتی، جهانگردی، اقتصاد) ۱۲۱۴۰۳۸
 کد سری سؤال: یک (۱)
 استفاده از ماشین حساب مجاز است.

۳. اطلاعات زیر در ارتباط با عملیات مالی مربوط به یک شرکت تولیدی در دست است:

شرح	تعداد	بهای تمام شده
موجودی مواد اول دوره	۵۰۰	۵۰/۰۰۰
خرید مواد نقدی ۲/۸	۲۰۰۰	۲۴۰/۰۰۰
فروش نقدی مواد ۲/۱۰ به مبلغ ۸۰/۰۰۰ ریال	۵۰۰	؟
فاسد شدن مواد ۲/۱۵	۲۵۰	؟
خرید نسبه مواد ۲/۱۸	۱۰۰۰	۱۵۰/۰۰۰
ارسال به خط تولید ۲/۱۹	۱۰۰۰	؟
خرید مواد نسبه ۲/۲۵	۱۰۰۰	۱۶۰/۰۰۰
برگشت از خرید از محل خرید ۲/۲۵	۱۰۰	؟
ارسال به خط تولید ۲/۳۰	۸۰۰	؟

مطلوبست: انجام ثبت‌های لازم حسابداری طبق روش LIFO (در صورتیکه شرکت فوق از سیستم دائمی جهت محاسبه بهای تمام شده استفاده نماید و همچنین موجودی مواد پایان دوره. (۲/۵ نمره)

نام درس: حسابداری صنعتی ۱
 رشته تحصیلی / کد درس: حسابداری (ستتی ۱۲۱۴۰۲۱) - بازرگانی (ستتی ۱۲۱۴۰۶۹) - صنعتی (ستتی ۱۲۱۴۰۱۲) زمان آزمون (دقیقه): تستی: -- تشریحی: ۱۵۰
 تجميع (حسابداری، بازرگانی، صنعتی، دولتی، جهانگردی، اقتصاد) ۱۲۱۴۰۳۸
 کد سری سؤال: یک (۱)
 استفاده از: ماشین حساب
 مجاز است.

۴. شرکت آسانسور سازی الکتروآسانسور جهت محاسبه بهای تمام شده پروژه های خود از سیستم هزینه یابی سفارش کار استفاده می نماید مانده برخی از حسابها در رابطه با پروژه های این شرکت در اول سال ۸۷ به شرح ذیل است:

شرح	مانده - ریال
موجودی مواد مستقیم	۱/۰۰۰/۰۰۰
کار در جریان پروژه اصفهان	۱/۷۰۰/۰۰۰
کار در جریان پروژه شیراز	۲/۸۰۰/۰۰۰
رویدادهای زیر در سال مالی منتهی به ۸۷/۱۲/۲۹ جهت شرکت الکترو آسانسور به وقوع پیوسته است.	
خرید مصالح و مواد مستقیم به صورت نقد ۲/۵۰۰/۰۰۰ ریال.	
شرح	دستمزد مستقیم
کار در جریان پروژه - اصفهان	۳۰۰/۰۰۰
کار در جریان پروژه - شیراز	۳۵۰/۰۰۰
کار در جریان پروژه - مشهد	۳۵۰/۰۰۰
هزینه های سربار انجام شده عبارت است از:	
دستمزد غیر مستقیم	۱۵۰/۰۰۰ ریال
بیمه منقضي شده	۲۵۰/۰۰۰ ریال
استهلاک ماشین آلات	۴۰۰/۰۰۰ ریال

سربار بر اساس ۸۰٪ هزینه دستمزد مستقیم جذب می شود سفارشهای مربوط به اصفهان و مشهد تکمیل و به ترتیب به مبلغ ۳/۰۰۰/۰۰۰ ریال و ۴/۰۰۰/۰۰۰ ریال تحویل مشتری می گردند مطلوب است ثبت کلیه عملیات در دفتر روزنامه. (۳۵ نمره)

۵. اطلاعات زیر از دایره دوم خط تولید شرکت ایمن تک در دست است
 کالای در جریان ساخت اول دوره شامل ۱/۵۰۰ واحد ۶۰٪ تکمیل
 واحد های انتقالی از دایره اول ۸/۵۰۰ واحد
 کالای در جریان ساخت پایان دوره ۱/۰۰۰ واحد ۵۰٪ تکمیل
 در دایره دوم دو نوع مواد به محصول اضافه می شود مواد نوع الف در نقطه ۴۰٪ و مواد نوع ب در نقطه ۷۵٪ و هزینه تبدیل به طور یکنواخت به محصول اضافه می شوند
 مطلوب است تهیه جدول آحاد و مقداری تولید برای شرکت ایمن تک طبق روش FIFO. (۲/۵ نمره)

نام درس: مدیریت مالی ۱
 رشته تحصیلی / کد درس: مدیریت بازرگانی (ستى، جبرانى ارشد ۱۲۱۴۰۷۰ - تجميع ۱۲۳۵۰۰۴)
 مدیریت صنعتی (ستى ۱۲۱۸۰۶۹)
 کد سري سؤال: یک (۱)
 استفاده از: ماشین حساب مجاز است.

امام خمینی^(ع): این محرم و صفر است که اسلام را زنده نگه داشته است.

۱. با افزایش دوره زمانی ارزش آتی و ارزش فعلی به ترتیب:

- الف. افزایش و کاهش می یابد.
 ب. کاهش و کاهش می یابد.
 ج. کاهش و افزایش می یابد.
 د. افزایش و افزایش می یابد.

۲. ارزش سرمایه گذاری که سالیانه ۱۰۰ ریال مادام العمر پرداخت می کند با نرخ سود ۱۰٪ چند ریال است؟

- الف. $1000/1000$ ریال
 ب. 1000 ریال
 ج. 100
 د. $\frac{100}{(1+10\%)}$

۳. کدام روش ارزیابی پروژه های سرمایه ای به ارزش زمانی پول توجه می کند؟

- الف. دوره بازگشت سرمایه
 ب. نرخ بازده حسابداری براساس متوسط سرمایه گذاری
 ج. نرخ بازده حسابداری بر اساس سرمایه گذاری اولیه
 د. نرخ بازده داخلی

۴. فردی ۲۰۰ ریال در سهام الف، ۴۰۰ ریال در سهام ب و ۴۰۰ ریال در سهام ج، سرمایه گذاری نموده است. بتای سهام الف

۸۰٪، سهام ب ۱/۲ و سهام ج ۱ می باشد. بتای مجموعه سهام چند است؟

- الف. ۸۰٪
 ب. ۱۲۰٪
 ج. ۱۰۴٪
 د. ۱۰۰٪

۵. اگر ارزش فعلی خالص مثبت باشد می توان نتیجه گرفت:

- الف. نرخ بازده مورد انتظار کمتر از نرخ هزینه سرمایه است.
 ب. نرخ بازده مورد انتظار بیشتر از نرخ هزینه سرمایه است.
 ج. نرخ بازده مورد انتظار برابر با نرخ هزینه سرمایه است.
 د. شاخص سودآوری کوچکتر از ۱ می باشد.

نام درس: مدیریت مالی ۱
 رشته تحصیلی / گد درس: مدیریت بازرگانی (ستى، جبرانى ارشد ۱۳۱۴۰۷۰ - تجميع ۱۳۳۵۰۰۴)
 مدیریت صنعتی (ستى ۱۳۱۸۰۶۹)
 کد سري سؤال: یک (۱)
 استفاده از: ماشین حساب مجاز است.

امام خمینی^(ع): این محرم و صفر است که اسلام را زنده نگه داشته است.

۱. با افزایش دوره زمانی ارزش آتی و ارزش فعلی به ترتیب:

- الف. افزایش و کاهش می یابد.
 ب. کاهش و کاهش می یابد.
 ج. کاهش و افزایش می یابد.
 د. افزایش و افزایش می یابد.

۲. ارزش سرمایه گذاری که سالیانه ۱۰۰ ریال مادام العمر پرداخت می کند با نرخ سود ۱۰٪ چند ریال است؟

- الف. $1000/1000$ ریال
 ب. 1000 ریال
 ج. 100
 د. $\frac{100}{(1+10\%)}$

۳. کدام روش ارزیابی پروژه های سرمایه ای به ارزش زمانی پول توجه می کند؟

- الف. دوره بازگشت سرمایه
 ب. نرخ بازده حسابداری براساس متوسط سرمایه گذاری
 ج. نرخ بازده حسابداری بر اساس سرمایه گذاری اولیه
 د. نرخ بازده داخلی

۴. فردی ۲۰۰ ریال در سهام الف، ۴۰۰ ریال در سهام ب و ۴۰۰ ریال در سهام ج، سرمایه گذاری نموده است. بتای سهام الف

۸۰٪، سهام ب ۱/۲ و سهام ج ۱ می باشد. بتای مجموعه سهام چند است؟

- الف. ۸۰٪
 ب. ۱۲۰٪
 ج. ۱۰۴٪
 د. ۱۰۰٪

۵. اگر ارزش فعلی خالص مثبت باشد می توان نتیجه گرفت:

- الف. نرخ بازده مورد انتظار کمتر از نرخ هزینه سرمایه است.
 ب. نرخ بازده مورد انتظار بیشتر از نرخ هزینه سرمایه است.
 ج. نرخ بازده مورد انتظار برابر با نرخ هزینه سرمایه است.
 د. شاخص سودآوری کوچکتر از ۱ می باشد.

نام درس: مدیریت مالی ۱
 رشته تحصیلی / کد درس: مدیریت بازرگانی (ستى، جبرانى ارشد ۱۲۱۴۰۷۰ - تجميع ۱۲۳۵۰۰۴)
 مدیریت صنعتی (ستى ۱۲۱۸۰۶۹)
 کد سري سؤال: یک (۱)
 استفاده از: ماشین حساب مجاز است.
 تعداد سوالات: تستی: ۲۰ تشریحی: ۵
 زمان آزمون (دقیقه): تستی: ۶۰ تشریحی: ۶۰

۶. جایزه پذیرش مخاطره بازار ۶٪، نرخ بازده بدون ریسک ۸٪ و بتای سهام ۱۲۰٪ است نرخ بازده موردانتظار چقدر است؟

الف. ۱۵/۲٪ ب. ۱۴٪ ج. ۱۵/۶٪ د. ۸٪

۷. سهامی به ارزش ۱۰۰۰ ریال خریداری شد. ارزش بازار سهام در سال آینده ۹۵۰ ریال و سود نقدی هر سهم ۱۰۰ ریال پیش بینی می شود بازده سهام چند درصد است؟

الف. ۲/۵٪ ب. ۱۵٪ ج. ۵٪ د. ۱۰٪

۸. خط بازار سرمایه (SML) رابطه بین چه عواملی را مشخص می کند؟

الف. بازده و قیمت ب. سود و قیمت ج. سود و ارزش د. ریسک و بازده

۹. مهمترین هدف مدیران مالی چیست؟

الف. بالا بردن ارزش سهام شرکت ج. بالا بردن سود نقدی هر سهم

ب. بالا بردن سود هر سهم د. کاهش ریسک نقدینگی

۱۰. در کدام بازار قیمت ها منعکس کننده تمامی اطلاعات می باشد؟

الف. کارائی قوی ب. کارائی ضعیف ج. کارائی نیمه قوی د. نیمه کارا

۱۱. بابت طرحی ۱۰۰۰ ریال سرمایه گذاری شده است. جریان نقدی ورودی این طرح طی ۴ سال به ترتیب ۴۰۰ ریال، ۴۰۰ ریال، ۴۰۰ ریال، ۵۰۰ ریال می باشد. دوره بازگشت سرمایه چند سال است؟

الف. ۳ سال ب. ۲/۵ سال ج. ۲ سال د. ۴ سال

۱۲. ارزش بازار سهام عادی ۱۰/۰۰۰ ریال، نرخ بازده مورد انتظار ۱۵٪ و سود سهام در سال آینده ۵۰۰ ریال می باشد. نرخ رشد چند درصد است؟

الف. ۱۵٪ ب. ۲۰٪ ج. ۱۰٪ د. ۵٪

نام درس: مدیریت مالی ۱
 رشته تحصیلی / کد درس: مدیریت بازرگانی (ستى، جبرانى ارشد ۱۲۱۴۰۷۰ - تجميع ۱۲۳۵۰۰۴)
 مدیریت صنعتی (ستى ۱۲۱۸۰۶۹)
 کد سرى سؤال: یک (۱)
 استفاده از: ماشین حساب مجاز است.

۱۳. بهای فروش ۱۰۰۰ ریال، هزینه‌های متغیر ۸۰۰ ریال و هزینه‌های ثابت ۴/۰۰۰/۰۰۰ ریال می‌باشد اگر شرکت انتظار داشته باشد ۱/۰۰۰/۰۰۰ ریال سود کسب نماید مبلغ فروش چند ریال است؟

الف. ۲۲/۵۰۰/۰۰۰ ریال ب. ۵۰۰۰/۰۰۰ ریال ج. ۲۰/۰۰۰/۰۰۰ ریال د. ۲۵/۰۰۰/۰۰۰ ریال

۱۴. اگر فروش ۲۰٪ افزایش یابد و درجه اهرم عملیاتی ۴ باشد تغییرات سود قبل از مالیات با درجه مرکب ۳ چقدر است؟

الف. ۸۰٪ ب. ۶۰٪ ج. ۲۰٪ د. ۲۴۰٪

* جمع دارایی جاری ۱۰۰۰ ریال است که ۴۰٪ آن موجودی کالا می‌باشد. بدهی‌های جاری ۴۰۰ ریال می‌باشد.

۱۵. نسبت جاری چقدر است؟

الف. ۱/۵ ب. ۲/۵ ج. ۳/۵ د. ۳/۵

۱۶. نسبت آنی چقدر است؟

الف. ۳/۵ ب. ۱ ج. ۱/۵ د. ۲/۵

۱۷. موجودی کالا در اول دوره ۴۰۰ ریال و در پایان دوره ۶۰۰ ریال است. اگر خرید ۳/۲۰۰ ریال باشد. نسبت گردش موجودی

کالا چقدر است؟

الف. ۵/۳ ب. ۸ ج. ۶ د. ۶/۸

۱۸. اگر بهای فروش و هزینه‌های متغیر هر کدام ۲۰ ریال افزایش یابند نقطه سربه سر از نظر تعداد:

الف. کاهش می‌یابد ب. تغییری نمی‌کند ج. افزایش می‌یابد د. اطلاعات کافی نیست

۱۹. درصد تغییر سود هر سهم با درصد تغییرات فروش با کدام معیار سنجیده می‌شود؟

الف. نقطه سربه سر ب. اهرم عملیاتی ج. اهرم مالی د. اهرم مرکب

۲۰. اگر شاخص سودآوری بزرگتر از ۱ باشد می‌توان نتیجه گرفت:

الف. پروژه سودآور نیست ب. نرخ بازده کمتر از نرخ هزینه سرمایه است

ج. ارزش فعلی خالص منفی است د. نرخ بازده بیش از نرخ هزینه سرمایه است

نام درس: مدیریت مالی ۱

تعداد سوالات: تستی: ۲۰ تشریحی: ۵
 زمان آزمون (دقیقه): تستی: ۶۰ تشریحی: ۶۰

رشته تحصیلی/ کد درس: مدیریت بازرگانی (ستى، جبرانى ارشد ۱۲۱۴۰۷۰ - تجميع ۱۲۳۵۰۰۴)

مدیریت صنعتی (ستى ۱۲۱۸۰۶۹)

مجاز است.

استفاده از: ماشین حساب

کد سری سؤال: یک (۱)

سوالات تشریحی

۱. ارزش فعلی اقساط $1/000/000$ ریالی سالیانه بانرخ سود مورد انتظار 12% طی 4 سال چند ریال می باشد: (۱ نمره)

$$PVIFA_{12\%,4} = 3/0373$$

$$PVIF_{12\%,4} = 0/6355$$

۲. نرخ بازده مورد انتظار 20% ، نرخ بازده بدون ریسک 8% و نرخ بازده بازار 16% می باشد بتای سهام مزبور چند است؟ (۱ نمره)

۳. شرکت تهران با خرید ماشین آلاتی به مبلغ $7/000/000$ ریال باعث صرفه جویی نقدی در هزینه های عملیاتی شرکت به میزان $3/000/000$ ریال در سال شده است. با خرید این ماشین آلات هزینه های نقدی عملیاتی $500/000$ ریال و هزینه استهلاک $1/750/000$ ریال افزایش یافته است. عمر ماشین آلات 4 سال و نرخ هزینه سرمایه 12% و نرخ مالیات 25% است. بر اساس روش NPV آیا خرید به صرفه است یا خیر؟ (۳ نمره)

$$PVIFA_{12\%,4} = 3/0373$$

$$PVIF_{12\%,4} = 0/6355$$

۴. باتوجه به اطلاعات مسأله قبل دوره بازگشت سرمایه چند سال است؟ (۱ نمره)

۵. ساختار سرمایه شرکت چالوس شامل $10/000/000$ سهام ممتاز 18% ، $20/000/000$ سهام عادی با نرخ مورد انتظار 25% و اوراق مشارکت $20/000/000$ ریال بانرخ 16% می باشد. متوسط نرخ هزینه سرمایه بدون در نظر گرفتن مالیات چند درصد است؟ (۱ نمره)

نام درس: مدیریت مالی ۱
 رشته تحصیلی / گد درس: مدیریت بازرگانی (ستى، جبرانى ارشد ۱۲۱۴۰۷۰ - تجميع ۱۲۳۵۰۰۴)
 مدیریت صنعتی (ستى ۱۲۱۸۰۶۹)
 گد سرى سؤال: يك (۱)
 استفاده از: ماشین حساب مجاز است.
 تعداد سوالات: تستى: ۲۰ تشریحى: ۵
 زمان آزمون (دقیقه): تستى: ۶۰ تشریحى: ۶۰

۶. جایزه پذیرش مخاطره بازار ۶٪، نرخ بازده بدون ريسک ۸٪ و بتای سهام ۱۲٪ است نرخ بازده موردانتظار چقدر است؟

الف. ۱۵/۲٪ ب. ۱۴٪ ج. ۱۵/۶٪ د. ۸٪

۷. سهامی به ارزش ۱۰۰۰ ریال خریداری شد. ارزش بازار سهام در سال آینده ۹۵۰ ریال و سود نقدی هر سهم ۱۰۰ ریال پیش بینی می شود بازده سهام چند درصد است؟

الف. ۲/۵٪ ب. ۱۵٪ ج. ۵٪ د. ۱۰٪

۸. خط بازار سرمایه (SML) رابطه بین چه عواملی را مشخص می کند؟

الف. بازده و قیمت ب. سود و قیمت ج. سود و ارزش د. ريسک و بازده

۹. مهمترین هدف مدیران مالی چیست؟

الف. بالا بردن ارزش سهام شرکت ج. بالا بردن سود نقدی هر سهم

ب. بالا بردن سود هر سهم د. کاهش ريسک نقدینگی

۱۰. در کدام بازار قیمت ها منعکس کننده تمامی اطلاعات می باشد؟

الف. کارائی قوی ب. کارائی ضعیف ج. کارائی نیمه قوی د. نیمه کارا

۱۱. بابت طرحی ۱۰۰۰ ریال سرمایه گذاری شده است. جریان نقدی ورودی این طرح طی ۴ سال به ترتیب ۴۰۰ ریال، ۴۰۰ ریال، ۴۰۰ ریال، ۵۰۰ ریال می باشد. دوره بازگشت سرمایه چند سال است؟

الف. ۳ سال ب. ۲/۵ سال ج. ۲ سال د. ۴ سال

۱۲. ارزش بازار سهام عادی ۱۰/۰۰۰ ریال، نرخ بازده مورد انتظار ۱۵٪ و سود سهام در سال آینده ۵۰۰ ریال می باشد. نرخ رشد چند درصد است؟

الف. ۱۵٪ ب. ۲۰٪ ج. ۱۰٪ د. ۵٪

نام درس: مدیریت مالی ۱
 رشته تحصیلی / کد درس: مدیریت بازرگانی (ستى، جبرانى ارشد ۱۲۱۴۰۷۰ - تجميع ۱۲۳۵۰۰۴)
 مدیریت صنعتی (ستى ۱۲۱۸۰۶۹)
 کد سرى سؤال: یک (۱)
 استفاده از: ماشین حساب مجاز است.

۱۳. بهای فروش ۱۰۰۰ ریال، هزینه‌های متغیر ۸۰۰ ریال و هزینه‌های ثابت ۴/۰۰۰/۰۰۰ ریال می‌باشد اگر شرکت انتظار داشته باشد ۱/۰۰۰/۰۰۰ ریال سود کسب نماید مبلغ فروش چند ریال است؟

الف. ۲۲/۵۰۰/۰۰۰ ریال ب. ۵۰۰۰/۰۰۰ ریال ج. ۲۰/۰۰۰/۰۰۰ ریال د. ۲۵/۰۰۰/۰۰۰ ریال

۱۴. اگر فروش ۲۰٪ افزایش یابد و درجه اهرم عملیاتی ۴ باشد تغییرات سود قبل از مالیات با درجه مرکب ۳ چقدر است؟

الف. ۸۰٪ ب. ۶۰٪ ج. ۲۰٪ د. ۲۴۰٪

* جمع دارایی جاری ۱۰۰۰ ریال است که ۴۰٪ آن موجودی کالا می‌باشد. بدهی‌های جاری ۴۰۰ ریال می‌باشد.

۱۵. نسبت جاری چقدر است؟

الف. ۱/۵ ب. ۲/۵ ج. ۳/۵ د. ۴/۵

۱۶. نسبت آنی چقدر است؟

الف. ۳/۵ ب. ۱ ج. ۱/۵ د. ۲/۵

۱۷. موجودی کالا در اول دوره ۴۰۰ ریال و در پایان دوره ۶۰۰ ریال است. اگر خرید ۳/۲۰۰ ریال باشد. نسبت گردش موجودی کالا چقدر است؟

الف. ۵/۳ ب. ۸ ج. ۶ د. ۶/۸

۱۸. اگر بهای فروش و هزینه‌های متغیر هر کدام ۲۰ ریال افزایش یابند نقطه سربه سر از نظر تعداد:

الف. کاهش می‌یابد ب. تغییری نمی‌کند ج. افزایش می‌یابد د. اطلاعات کافی نیست

۱۹. درصد تغییر سود هر سهم با درصد تغییرات فروش با کدام معیار سنجیده می‌شود؟

الف. نقطه سربه سر ب. اهرم عملیاتی ج. اهرم مالی د. اهرم مرکب

۲۰. اگر شاخص سودآوری بزرگتر از ۱ باشد می‌توان نتیجه گرفت:

الف. پروژه سودآور نیست ب. نرخ بازده کمتر از نرخ هزینه سرمایه است

ج. ارزش فعلی خالص منفی است د. نرخ بازده بیش از نرخ هزینه سرمایه است

نام درس: مدیریت مالی ۱

تعداد سوالات: تستی: ۲۰ تشریحی: ۵
زمان آزمون (دقیقه): تستی: ۶۰ تشریحی: ۶۰

رشته تحصیلی/ کد درس: مدیریت بازرگانی (ستى، جبرانى ارشد ۱۲۱۴۰۷۰ - تجميع ۱۲۳۵۰۰۴)

مدیریت صنعتی (ستى ۱۲۱۸۰۶۹)

مجاز است.

استفاده از: ماشین حساب

کد سری سؤال: یک (۱)

سوالات تشریحی

۱. ارزش فعلی اقساط ۱/۰۰۰/۰۰۰ ریالی سالیانه بانرخ سود مورد انتظار ۱۲٪ طی ۴ سال چند ریال می باشد: (۱ نمره)

$$PVIFA_{12\%,4} = 3.0373$$

$$PVIF_{12\%,4} = 0.6355$$

۲. نرخ بازده مورد انتظار ۲۰٪، نرخ بازده بدون ریسک ۸٪ و نرخ بازده بازار ۱۶٪ می باشد بتای سهام مزبور چند است؟ (۱ نمره)

۳. شرکت تهران با خرید ماشین آلاتی به مبلغ ۷/۰۰۰/۰۰۰ ریال باعث صرفه جویی نقدی در هزینه های عملیاتی شرکت به میزان ۳/۰۰۰/۰۰۰ ریال در سال شده است. با خرید این ماشین آلات هزینه های نقدی عملیاتی ۵۰۰/۰۰۰ ریال و هزینه استهلاک ۱/۷۵۰/۰۰۰ ریال افزایش یافته است. عمر ماشین آلات ۴ سال و نرخ هزینه سرمایه ۱۲٪ و نرخ مالیات ۲۵٪ است. بر اساس روش NPV آیا خرید به صرفه است یا خیر؟ (۳ نمره)

$$PVIFA_{12\%,4} = 3.0373$$

$$PVIF_{12\%,4} = 0.6355$$

۴. باتوجه به اطلاعات مسأله قبل دوره بازگشت سرمایه چند سال است؟ (۱ نمره)

۵. ساختار سرمایه شرکت چالوس شامل ۱۰/۰۰۰/۰۰۰ سهام ممتاز ۱۸٪، ۲۰/۰۰۰/۰۰۰ سهام عادی با نرخ مورد انتظار ۲۵٪ و اوراق مشارکت ۲۰/۰۰۰/۰۰۰ ریال بانرخ ۱۶٪ می باشد. متوسط نرخ هزینه سرمایه بدون در نظر گرفتن مالیات چند درصد است؟ (۱ نمره)

نام درس: پول و بانکداری - پول و ارز و بانکداری
 رشته تحصیلی / گد درس: ستى : اقتصاد (۱۳۲۱۰۹۲) - حسابدارى (۱۳۲۱۰۲۰)
 تجميع : اقتصاد - حسابدارى - مدیریتها (۱۳۱۴۰۷۱)
 گد سرى سؤال: يك (۱)
 استفاده از: ماشین حساب
 مجاز است.

امام خمينى (ره). اين محرم و صفر است كه اسلام را زنده نگه داشته است.

۱. اولين بانک ايرانى چه نام داشت و در چه سالى تأسيس شد؟
 - الف. بانک جديد شرق - ۱۳۰۶
 - ب. بانک ملی - ۱۳۳۲
 - ج. بانک شاهنشاهی - ۱۳۲۰
 - د. بانک سپه - ۱۳۰۴
۲. کدامیک از گربيه‌هاى زیر بيانگر ارزش پول در اقتصادهاى امروزی است؟
 - الف. تغييرات حجم پول
 - ب. تغييرات در شاخص قيمتها
 - ج. تغييرات در نقدینگی
 - د. تغييرات در اعتبارات بانكى
۳. کدامیک از موارد زیر از دلائل عدم توسعه بانکها در گذشته است؟
 - الف. عدم قوانين لازم جهت اعتماد سطرى
 - ب. عدم وجود بانک مرکزی
 - ج. دولتى بودن تجارت و مبادله
 - د. عدم کنترل بازارها توسط دولت
۴. صدور رسیده‌هاى توسط زرگرا مقدمه پیدایش چه پدیده‌اى در اقتصاد شد؟
 - الف. پول آفرینى بانکها
 - ب. گالای پولی فلزى
 - ج. پول کالایى
 - د. بانک مرکزی
۵. بانکهاى بازرگانى از چه طریقى به خلق پول مى‌پردازند؟
 - الف. توسعه تجارت
 - ب. چاپ اسکناس
 - ج. ایجاد اعتبارات
 - د. تغییر در نرخ تنزیل مجبور
۶. چه تفاوتی بین بدهی بانکهاى بازرگانى و ساير بنگاههاى اقتصادى است؟
 - الف. نا مشخص بودن سررسید بدهی بانکها
 - ب. زیاد بودن بدهی بانکها
 - ج. نامشخص بودن مبلغ بدهی بانکها
 - د. بدهی بانک به علت فعالیتهاى اقتصادى نیست
۷. اگر بانكى نزد صندوق تصفيه تراز منفى داشته باشد، بانک مرکزی چه تغییری در حساب ذخیره این بانک ایجاد مى‌کند؟
 - الف. نامشخص
 - ب. افزایش مى‌دهد
 - ج. کاهش مى‌دهد
 - د. به ذخیره بانک بستگی دارد
۸. اگر میزان تغییر در ذخایر بانکهاى بازرگانى ۲۰۰ میلیون ریال و نرخ ذخیره قانونى ۲۵ درصد باشد میزان تغییر در سپرده‌ها و وام به ترتیب چند میلیون ریال است؟
 - الف. ۸۰۰، ۶۰۰
 - ب. ۱۰۰، ۸۰۰
 - ج. ۵۰۰، ۴۰۰
 - د. ۸۰، ۶۰
۹. تفاوت بین ذخیره احتیاطی و قرض از بانک مرکزی چه نامیده مى‌شود؟
 - الف. وام حداکثر کننده سود
 - ب. ذخیره مورد تمایل
 - ج. ذخیره قانونى
 - د. ذخیره آزاد

نام درس: پول و بانکداری - پول و ارز و بانکداری
 رشته تحصیلی: گد درس: ستتی: اقتصاد (۱۲۲۱۰۹۲) - حسابداری (۱۲۲۱۰۲۰)
 تجميع: اقتصاد - حسابداری - مدیریتها (۱۲۱۴۰۷۱)
 گد سری سؤال: یک (۱)
 استفاده از: ماشین حساب
 مجاز است.

۱۰. نقدینگی که بانکهای بازرگانی برای پاسخگویی به مشتریان در فرایند حداکثر سازی سود خود نگهداری می کنند چه نام دارد؟

الف. ذخیره مورد تمایل

ب. ذخیره قانونی

ج. ذخیره آزاد

د. ذخیره احتیاطی

۱۱. در نظریه کالای پولی اگر رابطه $5x = 2y = z$ برقرار باشد و z کالای پولی باشد، در صورت کاهش عرضه z کدام یک از روابط زیر می تواند صحیح باشد؟

الف. $5x = 2y = z$

ب. $7/5x = 3y = z$

ج. $10x = 2y = z$

د. $2/5x = y = 2z$

۱۲. در دیدگاه ویکسل اگر نرخ بهره طبیعی جزو گز از نرخ بهره بازار باشد کدام گزینه صحیح است؟

الف. کاهش قیمت ها

ب. افزایش حجم پول

ج. افزایش قیمت ها

د. کاهش نقدینگی

۱۳. براساس نظریه مقداری پول اگر مقدار کالا و خدمات تولید شده برابر ۲۰۰ میلیون واحد و سرعت گردش پول برابر ۷ و حجم پول در اقتصاد برابر ۱۰۰۰۰ واحد باشد - سطح عمومی قیمت چند است؟

الف. ۳۵

ب. ۳۵۰

ج. ۱۴۰

د. ۱۴

۱۴. در دیدگاه کینز تقاضای نقدینگی پول تحت تأثیر چه انگیزه ای است و به چه عاملی بستگی دارد؟

الف. سوداگری و با نرخ بهره رابطه معکوس دارد

ب. سوداگری و با نرخ بهره رابطه مستقیم دارد

ج. احتیاطی و با درآمد و نرخ بهره رابطه معکوس دارد

د. بورس بازی و با درآمد رابطه معکوس و با نرخ بهره رابطه مستقیم دارد

۱۵. کدامیک از گزینه های زیر در خصوص تله نقدینگی صحیح است؟

الف. در شرایط تله نقدینگی، سیاست پولی خنثی است

ب. در شرایط تله نقدینگی، سیاست پولی باعث افزایش نرخ بهره است

ج. تله نقدینگی، حجم پول را افزایش می دهد

د. تله نقدینگی، سیاست مالی را خنثی می کند

۱۶. کدامیک از عبارات زیر در مورد فرضیات مدل کلاسیکها صحیح است؟

الف. توهم پولی

ب. تعیین نرخ بهره در بازار پول

ج. وجود بیکاری غیر ارادی

د. انعطاف پذیری دستمزدها و قیمت ها

۱۷. در دیدگاه کینز در چه صورتی سرمایه گذاری افزایش می یابد؟

الف. افزایش درآمد و کاهش سود انتظاری

ب. کاهش عرضه پول و افزایش سود انتظاری

ج. افزایش تقاضای پول و افزایش پس انداز

د. کاهش نرخ بهره و افزایش سود انتظاری

نام درس: پول و بانکداری - پول و ارز و بانکداری
 رشته تحصیلی: گد درس: ستتی: اقتصاد (۱۲۲۱۰۹۲) - حسابداری (۱۲۲۱۰۲۰)
 تجميع: اقتصاد - حسابداری - مدیریتها (۱۲۱۴۰۷۱)
 گد سری سؤال: یک (۱)
 استفاده از: ماشین حساب
 مجاز است.

۱۸. کدامیک از روابط زیر در دیدگاه فریدمن صحيح است؟

الف. بین نرخ بهره اوراق قرضه و تقاضای پول رابطه مستقیم وجود دارد

ب. بین نرخ بازده سهام و تقاضای پول رابطه معکوس وجود دارد

ج. بین نرخ تورم و تقاضای پول رابطه مستقیم وجود دارد

د. بین ثروت انسانی و تقاضای پول رابطه ای وجود ندارد

۱۹. کدامیک از عبارات زیر در خصوص پول پایه صحيح است؟

الف. $B = C + R$

ب. $B = C + G$

ج. $B = R + S$

د. $B = B + D$

۲۰. کدامیک از فعالیت های زیر توسط بانک مرکزی یا مقامات پولی، سیاست انبساطی محسوب می شود؟

الف. افزایش نرخ ذخیره قانونی

ب. افزایش بهره

ج. کاهش نرخ تنزیل مجدد

د. فروش اوراق قرضه

۲۱. اگر نسبت $\frac{C}{D}$ واقعی مردم بیشتر از نسبت مورد تمایل آنها باشد عکس العمل مردم چه خواهد بود؟

الف. کاهش سپرده و اسکناس و مسکوک در دست خود

ب. کاهش اسکناس و مسکوک در دست خود و افزایش سپرده ها

ج. افزایش اسکناس و مسکوک در دست خود و کاهش سپرده ها

د. افزایش نرخ ذخیره قانونی و کاهش سپرده ها

۲۲. اگر نسبت مورد تمایل مردم $\frac{1}{4}$ و نرخ ذخیره قانونی برابر ۲۵ درصد باشد، ضریب فزاینده پولی چقدر است؟

الف. ۲/۵

ب. ۴

ج. ۰/۲۵

د. ۰/۵

۲۳. در صورتیکه میزان سپرده های مردم نزد بانک های بازگانی ۱/۰۰۰/۰۰۰ واحد و اسکناس و مسکوک در دست مردم برابر ۲۰۰/۰۰۰ واحد و نرخ ذخیره قانونی ده درصد باشد، پول پایه چقدر است؟

الف. ۱/۰۲۰/۰۰۰

ب. ۳۰۰/۰۰۰

ج. ۱۲۰/۰۰۰

د. ۳/۰۰۰/۰۰۰

۲۴. اعمال سیاست پولی انبساطی از طریق عملیات بازار باز چگونه و از چه طریق بر عرضه پول اثر می گذارد؟

الف. فروش اوراق قرضه و از طریق پایه پولی

ب. خرید اوراق قرضه از طریق تغییر نرخ ذخیره قانونی

ج. فروش اوراق از طریق تغییر نسبت k

د. خرید اوراق از طریق ایجاد ذخایر اضافی برای بانکها

۲۵. افزایش نرخ ذخیره قانونی و کاهش نرخ تنزیل مجدد چه اثری بر عرضه پول می گذارد

الف. افزایش

ب. کاهش

ج. نامشخص

د. هیچ اثری ندارد

نام درس: پول و بانکداری - پول و ارز و بانکداری
 رشته تحصیلی / گد درس: ستى : اقتصاد (۱۲۲۱۰۹۲) - حسابداری (۱۲۲۱۰۲۰)
 تجميع : اقتصاد - حسابداری - مدیریتها (۱۲۱۴۰۷۱)
 گد سرى سؤال: يك (۱)
 استفاده از: ماشین حساب
 مجاز است.

۲۶. مکان هندسی نقاطی که تعادل در بازار پول را نشان می دهد نشان دهنده چه منحنی است؟

الف. IS ب. تقاضای پول ج. LM د. عرضه پول

۲۷. سیاست پولی انقباضی چه اثری بر منحنی LM دارد؟

الف. انتقال منحنی به سمت بالا و چپ ب. حرکت از یک نقطه منحنی به نقطه دیگر
ج. افزایش شیب منحنی د. انتقال منحنی به سمت پائین و چپ

۲۸. در یک اقتصاد بسته کدامیک از عوامل زیر منجر به تورم ناشی از فشار هزینه می شود؟

الف. کاهش بهره وری نیروی کار ب. افزایش مخارج دولت
ج. افزایش عرضه پول د. کاهش دستمزدها

۲۹. در یک اقتصاد باز کدامیک از عوامل زیر می تواند منجر به تورم شود؟

الف. کاهش صادرات ب. افزایش واردات
ج. کاهش قیمت کالاهای صادراتی د. کاهش قیمت کالاهای وارداتی

۳۰. منحنی فیلیپس نشان دهنده چه چیزی است؟

الف. رابطه معکوس بین تورم و دستمزد اسمی
ب. رابطه معکوس بین بیکاری و نرخ بهره
ج. رابطه مستقیم بین تورم و اشتغال
د. رابطه مستقیم بین عدم اشتغال و دستمزد

۳۱. در سیستم ارز شناور، اگر کشوری دچار کسری تراز پرداختها شود چه اتفاقی می افتد؟

الف. کاهش نرخ ارز ب. افزایش ارزش پول ملی
ج. افزایش نرخ ارز د. کاهش صادرات

۳۲. براساس سیستم برتون وودز، کشورهای عضو موظف شدند که برابری پول خود را با چه چیزی تعیین کنند؟

الف. طلا یا دلار ب. طلا
ج. دلار د. مجموعه چند ارز معتبر

۳۳. هر چقدر تفاوت بین نرخ عدم اشتغال واقعی و طبیعی بیشتر باشد کدام گزینه صحیح تر است؟

الف. نرخ واقعی تورم کمتر است ب. نرخ واقعی تورم بیشتر است
ج. نرخ بیکاری طبیعی کمتر است د. نرخ بیکاری بیشتر است

۳۴. در صورتی که نسبت k افزایش یابد چه تاثیری در ضریب عرضه پول دارد؟

الف. افزایش مقدار آن ب. تغییر علامت ضریب
ج. کاهش مقدار آن د. به نرخ ذخیره قانونی بستگی دارد

نام درس: پول و بانکداری - پول و ارز و بانکداری
 رشته تحصیلی / کد درس: ستی : اقتصاد (۱۲۲۱۰۹۲) - حسابداری (۱۲۲۱۰۲۰)
 تجميع : اقتصاد - حسابداری - مدیریتها (۱۲۱۴۰۷۱)
 کد سري سؤال: یک (۱)
 استفاده از: ماشین حساب
 مجاز است.

۳۵. هر گاه ذخیره واقعی کمتر از ذخیره مورد تمایل بانکهای بازرگانی باشد، آن بانکها از چه طریقی به سمت تعادل خود حرکت می کنند؟

الف. افزایش اعتبارات

ب. افزایش در سپرده ها

ج. کاهش نرخ ذخیره قانونی

د. محدود کردن اعتبارات

۳۶. در توان بانکهای بازرگانی، کدامیک از عبارات زیر دارائیه را نشان می دهد؟

الف. $R + L$

ب. $R + C + L$

ج. $R + E$

د. $C + D + S$

۳۷. در دیدگاه کینز افزایش سود انتظاری سرمایه گذار، چه تأثیری بر تقاضای سرمایه گذاری و منحنی آن دارد؟

الف. افزایش و انتقال به سمت پایین و چپ

ب. افزایش و انتقال به سمت بالا

ج. کاهش مقدار آن و حرکت از یک نقطه به نقطه دیگر روی منحنی

د. عدم تغییر تقاضا و عمودی شدن منحنی

۳۸. اگر درصد بهره در بازار ۱۰ بوده و خریدار اوراق قرضه انتظار بهره ۸ درصد را در آینده داشته باشد انتظار او از سود حاصل از فروش اوراق چقدر است؟

الف. ۲۵ درصد

ب. ۲ درصد

ج. ۱۸ درصد

د. منفی ۲ درصد

۳۹. کدامیک از عبارات زیر در خصوص شاخص لاسپیرز صحیح است؟

الف. تغییرات در مقادیر معرفی کالاها در سال مورد مطالعه، مورد تجزیه و تحلیل قرار می گیرد.

ب. بهبود در ترکیب کالاها و خدمات مورد استفاده را مد نظر قرار می دهد.

ج. تورش این شاخص به سمت بالا است.

د. وزن اهمیتی به طور سالیانه تغییر می کند.

۴۰. از نظر کینز، کلاسیک ها چه متغیری را که در تعیین پس انداز نقش اساسی دارد نادیده گرفته اند؟

الف. نرخ بهره

ب. درآمد واقعی

ج. سود انتظاری

د. نرخ تنزیل

نام درس: حسابرسي (۱) تعداد سوالات: تستي: ۳۵ تشریحي: --
 رشته تحصيلي / گد درس: حسابداری (ستى) ۱۲۱۴۰۲۷ - بازرگانی (ستى) ۱۲۱۴۰۷۳ زمان آزمون (دقیقه): تستي: ۶۰ تشریحي: --
 تجميع (حسابداری، بازرگانی، صنعتی، دولتی - جهانگردی - اقتصاد) ۱۲۱۴۰۷۷
 گد سري سؤال: يك (۱) استفاده از: --
 مجاز است.

امام خمینی (ع): این محرم و صفر است که اسلام را زنده نگه داشته است.

۱. کدام گزینه طبق قانون تجارت ملزم به تعیین بازرس قانونی است ؟

- الف. شرکت سهامی عام و خاص
 ب. شرکت سهامی با مسئولیت محدود
 ج. شرکت تضامنی
 د. شرکت تعاونی

۲. اگر حسابرسي انجام رسیدگی های خود را از مدارک اولیه آغاز و به صورتهای مالی ختم نماید ، کدام گزینه صحیح است ؟

- الف. حسابرسي به شیوه ترازنامه ای
 ب. حسابرسي به شیوه سند رسي
 ج. حسابرسي به شیوه اثباتی
 د. حسابرسي به شیوه الزامی

۳. کدام گزینه صحیح است ؟

- الف. گواهی و اظهار نظر حسابرسي نسبت به امر واقعی و مسلم است که هیچ گونه تردیدی درباره آن وجود ندارد .
 ب. مجاز بودن معامله یعنی رسیدگی به اینکه حاصل معامله عاید شرکت شده است .

ج. گزارش حسابرسي بیان عقیده است نه ذکر واقعیت .

د. مطابق قانون تجارت ایران شرکتهای سهامی خاص ملزم به انتخاب حسابرسي می باشند .

۴. دخالت ندادن عقاید و نظرات شخصی در وظیفه حرفه ای و خودباوری از اظهار نظر جز در مواردی که مستنداً قابل اثبات باشد مربوط به کدام اصل از اصول بنیادی حسابرسي است ؟

الف. کفایت دانش و تجربه

ب. دقت در کار

ج. حفظ اسرار

د. استقلال و بی طرفی

۵. نمونه گیری آزمایشی از اسناد و مدارک و حسابها و اعمال سایر روشهای حسابرسي نظیر حضور در انبارگردانی و درخواست تأییدیه از بدهکاران و بستانکاران جزء کدام گزینه محسوب می شود ؟

الف. اصول حسابرسي

ب. استاندارد عمومی

ج. استاندارد عملیاتی

د. برنامه حسابرسي

۶. حسابرسي در کدام حالت اقدام به امضاء ذیل صورتهای مالی می نماید ؟

الف. طبق روال متداول حرفه حسابرسي ، حسابرسي مجاز نیست ذیل صورتهای مالی را امضاء نماید

ب. فقط در حالیکه صد در صد عملیات مالی موضوع صورتهای مالی را رسیدگی کرده باشد

ج. در صورت درخواست مدیریت واحد مورد رسیدگی از حسابرسي در مجمع عمومی عادی سالیانه

د. اگر حسابرسي به صورت مداوم در شرکت حضور داشته باشد و بر کلیه امور نظارت کامل داشته باشد

۷. کدام گزینه اعمال نکردن مراقبت های حرفه ای توسط حسابرسي می باشد ؟

الف. تقلب

ب. قصور

ج. سهل انگاری

د. تبلیغات

نام درس: حسابرسى (۱) تعداد سوالات: تستى: ۳۵ تشریحى: --
 رشته تحصیلى / گد درس: حسابدارى (ستى) ۱۲۱۴۰۲۷ - بازرگانى (ستى) ۱۲۱۴۰۷۳ زمان آزمون (دقیقه): تستى: ۶۰ تشریحى: --
 تجميع (حسابدارى، بازرگانى، صنعتى، دولتى - جهانگردى - اقتصاد) ۱۲۱۴۰۷۷
 گد سرى سؤال: يك (۱) استفاده از: --
 مجاز است.

امام خمينى (ع): اين محرم و صفر است كه اسلام را زنده نگه داشته است.

۱. کدام گزینه طبق قانون تجارت ملزم به تعيين بازررس قانونى است ؟

- الف. شركت سهامى عام وخاص
 ب. شركت سهامى با مسئوليت محدود
 ج. شركت تضامنى
 د. شركت تعاونى

۲. اگر حسابرس انجام رسيدگى هاى خود را از مدارك اوليه آغاز و به صورتهائى مالى ختم نمايد ،كدام گزینه صحيح است ؟

- الف. حسابرسى به شيوه ترازنامه اى
 ب. حسابرسى به شيوه سند رسى
 ج. حسابرسى به شيوه اثباتى
 د. حسابرسى به شيوه الزامى

۳. کدام گزینه صحيح است ؟

- الف. گواهى و اظهار نظر حسابرس نسبت به امر واقعى و مسلم است كه هيچ گونه ترديدى درباره آن وجود ندارد .
 ب. مجاز بودن معامله يعنى رسيدگى به اينكه حاصل معامله عايد شركت شده است .

ج. گزارش حسابرس بيان عقيدة است نه ذكر واقعيت .

د. مطابق قانون تجارت ايران شرکتهائى سهامى خاص ملزم به انتخاب حسابرس مى باشند .

۴. دخالت ندادن عقايد و نظرات شخصى در وظيفه حرفه اى و خوددارى از اظهار نظر جز در مواردى كه مستنداً قابل اثبات باشد مربوط به کدام اصل از اصول بنيادى حسابرسى است ؟

- الف. كفايت دانش و تجربه
 ب. دقت در كار
 ج. حفظ اسرار
 د. استقلال و بى طرفى

۵. نمونه گيرى آزمائشى از اسناد و مدارك و حسابها و اعمال ساير روشهاى حسابرسى نظير حضور در انبارگردانى و درخواست تأييدى از بدهكاران و بستانكاران جزء کدام گزینه محسوب مى شود ؟

- الف. اصول حسابرسى
 ب. استاندارد عمومى
 ج. استاندارد عملياتى
 د. برنامه حسابرسى

۶. حسابرس در کدام حالت اقدام به امضاء ذيل صورتهائى مالى مى نمايد ؟

الف. طبق روال متداول حرفه حسابرسى ، حسابرس مجاز نيست ذيل صورتهائى مالى را امضاء نمايد

ب. فقط در حاليكه صد در صد عمليات مالى موضوع صورتهائى مالى را رسيدگى کرده باشد

ج. در صورت درخواست مديريت واحد مورد رسيدگى از حسابرس در مجمع عمومى عادى ساليانه

د. اگر حسابرس به صورت مداوم در شركت حضور داشته باشد و بركلييه امور نظارت كامل داشته باشد

۷. کدام گزینه اعمال نكردن مراقبت هاى حرفه اى توسط حسابرس مى باشد ؟

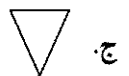

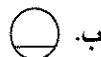
- الف. تقلب
 ب. قصور
 ج. سهل انگارى
 د. تبليغات

نام درس: حسابرسي (۱)
 رشته تحصيلي / گد درس: حسابداری (ستى) ۱۲۱۴۰۲۷ - بازرگانی (ستى) ۱۲۱۴۰۷۳
 تجميع (حسابداری، بازرگانی، صنعتی، دولتی - جهانگردی - اقتصاد) ۱۲۱۴۰۷۷
 گد سري سؤال: يك (۱)
 استفاده از: --
 مجاز است.

۸. کدام گزینه از موارد مسئولیت حاصل از قصور و اهمال در حسابرسي به شمار می رود ؟
- الف. در صورتیکه حسابرسي بر عدم صحت صورتهای مالی واقف باشد و این موضوع را به مجمع عمومی صاحبان سهام اطلاع ندهد
- ب. در صورتیکه مدیران شرکت، عملیاتی خارج از حدود اختیارات شرکت انجام دهند و حسابرسي این موضوع را افشاء ننمایند
- ج. حسابرسي نمى تواند به عذر اینکه کشف اختلاس و تقلب مشکل بود از خود سلب مسئولیت کند
- د. تحریف حقایق با اهمیت توسط حسابرسي با کمال بی توجهی نسبت صحت و سقم آن
۹. کدام گزینه صحیح است ؟
- الف. گزارش جامع بازرسان راجع به وضع شرکت باید حداکثر ۱۰ روز قبل از تشکیل مجمع عمومی عادی در مرکز شرکت آماده باشد
- ب. مطابق قانون تجارت ایران تعیین حق الزحمه بازرسي با مجمع عمومی عادی است
- ج. بازرسي باید هر گونه تخلف مشاهده شده در امور شرکت از ناحیه مدیران و مدیر عامل را به رئیس دادگاه شهرستان اطلاع دهد
- د. بازرسي نمى تواند هر موقع هر گونه رسیدگی و بازرسي لازم را انجام بدهد و اسناد و مدارک و اطلاعات مربوط را مطالبه کند
۱۰. کدام گزینه از وظایف و مسئولیتهای شرکاء در یک مؤسسه حسابرسي محسوب می شود ؟
- الف. حدود و زمان لازم برای رسیدگی های حسابرسان
- ب. تهیه برنامه رسیدگی و رویه های حسابرسي
- ج. تهیه گزارش حسابرسي
- د. بررسی فرمها و کاربرگهای رسیدگی
۱۱. کاربرگهای تهیه شده توسط حسابرسان و کمک حسابرسان بطور دائم و در پایان هر مرحله از رسیدگی توسط کدام گزینه مورد بررسی و کنترل قرار می گیرد ؟
- الف. شرکاء
- ب. حسابرسي ارشد
- ج. سرپرست حسابرسي
- د. مدیریت صاحبکار
۱۲. کدام گزینه صحیح است ؟
- الف. برنامه ریزی حسابرسي بعد از انعقاد قرارداد و شروع کار حسابرسي انجام می شود
- ب. مسئولیت طرح و تنظیم برنامه رسیدگی و رویه های حسابرسي بر عهده سرپرستان حسابرسي است
- ج. مؤسسات حسابرسي می توانند بصورت شرکتهای سهامی تأسیس شوند
- د. در بند رسیدگی گزارش حسابرسي اصل اهمیت مورد تأکید قرار می گیرد

نام درس: حسابرسي (۱)
 رشته تحصيلي / گد درس: حسابداری (ستتی) ۱۲۱۴۰۲۷ - بازرگانی (ستتی) ۱۲۱۴۰۷۳
 تجميع (حسابداری، بازرگانی، صنعتی، دولتی - جهانگردی - اقتصاد) ۱۲۱۴۰۷۷
 گد سري سؤال: يك (۱)
 استفاده از: --
 مجاز است.

۱۳. کدام گزینه از ارکان تصميم گيري در يك شركت تجاری محسوب می شود ؟
- الف. شوراهای عالی
ب. مدیران اجرایی و کارکنان
ج. مجمع عمومی صاحبان سهام و هیأت مدیره
د. هیأت امناء
۱۴. در کدام گزینه حسابرسي اقدام به تهیه گزارش حسابرسي مقبول با عبارت توضیحي می نماید ؟
- الف. مشکلات با اهمیت مربوط به افشاء یا اصول پذیرفته شده حسابداری
ب. محدودیت اساسی در رسیدگی به صورتهای مالی
ج. محدودیت ناچیز در رسیدگی به صورتهای مالی
د. انحراف با اهمیت توجه شده از اصول پذیرفته شده حسابداری
۱۵. الزام قانونی واحد های اقتصادی به ارائه اظهار نامه مالیاتی در موعد مقرر مربوط به کدام دسته از کنترلها می باشد ؟
- الف. کنترلهای داخلی
ب. کنترلهای مالی
ج. کنترلهای انضباطی
د. کنترلهای از خارج
۱۶. کدام گزینه صحیح است ؟
- الف. کنترلهای عملیاتی تأثیر مستقیم در صورتهای مالی دارند
ب. حداقل کنترلهای لازم جهت فعالیتهای مالی یک واحد اقتصادی را کنترل داخلی مالی پایه می نامند
ج. کنترلهایی که به خودی خود وجود آنها در یک واحد اقتصادی لازم نیست کنترلهای سرپرستی می نامند
د. مشاهده عینی داراییهای ثبت شده در دفاتر ، در فواصل زمانی مناسب ، کنترل داخلی عملیاتی پایه محسوب می شود
۱۷. کدام گزینه مربوط به خرید های خارجی است که فاکتور بر مبنای قیمت کالا روی عریضه کشتی در نظر گرفته می شود
- الف. C & D
ب. CIF
ج. FOB
د. EX - Factory
۱۸. در کدام مرحله از بررسی سیستم کنترل داخلی حسابرسي از طریق تماس با مسئولان مختلف قسمتها روشهای کنترلی مستقر در واحد را سؤال کرده و با جزئیات آن آشنایی کامل پیدا می کند ؟
- الف. آزمایش صحت ثبت سیستم
ب. ارزیابی سیستم
ج. درک و ثبت سیستم
د. قبل از انجام رسیدگیها و تهیه گزارش
۱۹. برای ثبت سیستم کنترل داخلی از طریق رسم نمودار ، کدام گزینه به منزله بایگانی نسخ مختلف مدارک موجود در سیستم می باشد ؟



نام درس: حسابرسي (۱)
 رشته تحصيلي / گد درس: حسابداری (ستى) ۱۲۱۴۰۲۷ - بازرگانی (ستى) ۱۲۱۴۰۷۳
 تجميع (حسابداری، بازرگانی، صنعتی، دولتی - جهانگردی - اقتصاد) ۱۲۱۴۰۷۷
 گد سري سؤال: يك (۱)
 استفاده از: --
 مجاز است.

۲۰. هنگام رسیدگی به صورتهای مالی یک شرکت، تحصیل مدارک از منابع مستقل، روی کدام گزینه اهمیت مؤثر دارد؟
- الف. نوع گزارش حسابرسي
ج. کمیت مدارک مستند
ب. کیفیت و اعتبار مدارک مستند
د. نحوه تنظیم نامه مدیریت
۲۱. کدام گزینه از انواع اطلاعات و مدارک حسابرسي به شمار می رود؟
- الف. رویدادهای بعد از تاریخ ترازنامه
ج. مذاقه
ب. ردیابی
د. پی گیری
۲۲. ماهیت معامله و معقول بودن معاملات در مورد کدامیک از روشهای حسابرسي مورد توجه قرار می گیرد؟
- الف. دریافت تأییدیه از اشخاص ثالث
ج. پرس و جو
ب. محاسبه مجدد
د. سند رسي
۲۳. کدام گزینه به رسیدگی به عملیاتی که بعد از ثبت یک معامله در دفاتر حسابداری اتفاق است، اشاره دارد؟
- الف. ردیابی
ج. میان بر
ب. پی گیری
د. مذاقه
۲۴. کدام روش نمونه گیری می تواند در طراحی نمونه های مؤثر و مفید و اندازه گیری کفایت و قابلیت اطمینان شواهد بدست آمده به حسابرسان کمک بیشتری کند؟
- الف. نمونه گیری تصادفی
ج. نمونه گیری آماری
ب. نمونه گیری تصادفی با طبقه بندی
د. نمونه گیری قطعه ای
۲۵. کدام طرح نمونه گیری برای آزمون رعایت روشهای کنترل داخلی مورد استفاده قرار می گیرد؟
- الف. طرح نمونه گیری بر اساس متغیر
ج. طرح نمونه گیری آزمون محتوا
ب. طرح نمونه گیری بر اساس صفت
د. طرح نمونه گیری تصادفی
۲۶. کدام گزینه "احتمال اینکه نتایج نمونه نشانگر تحریف عمده در جامعه باشد در حالیکه در واقعیت چنین نباشد" را بیان می دارد؟
- الف. احتمال خطر بتا
ج. احتمال خطر گاما
ب. احتمال خطر آلفا
د. احتمال خطر آزمون محتوا
۲۷. برآورد میانگین در هر واحد و برآورد نسبتي از متداولترین طرحهای نمونه گیری بر اساس کدام گزینه هستند؟
- الف. صفت
ج. آماری
ب. متغیر
د. تصادفی
۲۸. کدام گزینه تعریف صحیح تری برای مدارک حسابرس است، برای دفاع از حدود رسیدگی و دقت حرفه ای که در رسیدگی های خود بکار برده است،
- الف. پرونده دائمی
ج. اسناد و مدارک مثبت جمع آوری شده
ب. گزارش حسابرسي
د. فرمها و یادداشتهای حسابرس

نام درس: حسابرسي (۱)
 رشته تحصیلی / کد درس: حسابداری (ستتي) ۱۲۱۴۰۲۷ - بازرگانی (ستتي) ۱۲۱۴۰۷۳
 تجميع (حسابداری، بازرگانی، صنعتی، دولتی - جهانگردی - اقتصاد) ۱۲۱۴۰۷۷
 کد سری سؤال: یک (۱) استفاده از: -- مجاز است.

۲۹. کدام گزینه شامل طرحهای کلی و برنامه حسابرسي و پرسشنامه کنترل داخلی حسابرسي و برنامه زمانبندی می باشد ؟

- الف. کاربرد نهایی
 ب. کاربرد تعدیلات
 ج. کاربرد عمومی
 د. کاربرد فرعی
۳۰. کدام گزینه کاربرد کلیدی است که تمام کاربرگهای فرعی را کنترل و خلاصه می کند ؟
 الف. کاربرد تراز آزمایشی
 ب. کاربرد نهایی
 ج. کاربرد فرعی
 د. کاربرد مدارک تأیید کننده

۳۱. کدام گزینه از معایب برنامه حسابرسي به شمار می رود ؟

- الف. دشواری در تقسیم کار بین کارمندان حسابرسي
 ب. از بین رفتن امکان فراموش شدن بعضی رسیدگیها
 ج. از بین رفتن ابتکار در کارمندان حسابرسي
 د. امکان انجام کار توسط کارمندان با حداقل نظارت کارمندان ارشد

۳۲. آزمون اعتبار و آزمون دامنه جزء کنترلهای متداول برنامه ای کامپیوتر کدام گزینه هستند ؟

- الف. کنترلهای اطلاعات ورودی
 ب. کنترلهای اطلاعات پردازش اطلاعات
 ج. کنترلهای اطلاعات خروجی
 د. کنترلهای سخت افزار

۳۳. کدام گزینه را نمی توان از اهداف تدوین آیین رفتار حرفه ای بر شمرد ؟

- الف. ارائه رهنمود لازم به اعضا برای حفظ بهبود موازین اخلاقی و الزام به رعایت آنها از طرف اعضا
 ب. بکار گرفتن استانداردهای قابل قبول
 ج. جلوگیری از تخلفات و الزام توجه به اجرای مقررات اساسی و ضوابط حرفه ای
 د. دخالت ندادن عقاید و نظرات شخصی در وظیفه حرفه ای و خودداری از اظهار نظر جز در مواردی که مستنداً قابل اثبات باشد

۳۴. عبارت " حسابرسي باید در حفظ اسرار مؤسسه مورد رسیدگی مراقبت های کافی بعمل آورد و مراسلات و اسناد محرمانه مؤسسه را حفظ کند " مربوط به کدام گزینه است ؟

- الف. مسئولیت گزارش خلاف واقع ناشی از سوء نیت ب. مسئولیت حسابرسي در قبال اشخاص ثالث
 ج. مسئولیت حاصل از قصور و اهما د. مسئولیت حسابرسي در مقابل صاحبکار

۳۵. کدام گزینه به عنوان یک مدرک در پرونده دائمی نگهداری می شود ؟

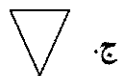

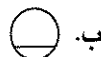
- الف. وضعیت حقوق صاحبان سهام و رسیدگیهای مرتبط
 ب. خلاصه نقاط ضعف کنترلهای داخلی و نامه مدیریت
 ج. صورت حسابهای انتظامی
 د. کاربرگهای مربوط به کنترل صحت ثبت سیستم

نام درس: حسابرسي (۱)
 رشته تحصيلي / گد درس: حسابداری (ستتی) ۱۲۱۴۰۲۷ - بازرگانی (ستتی) ۱۲۱۴۰۷۳
 تجميع (حسابداری، بازرگانی، صنعتی، دولتی - جهانگردی - اقتصاد) ۱۲۱۴۰۷۷
 گد سري سؤال: يك (۱)
 استفاده از: --
 مجاز است.

۸. کدام گزینه از موارد مسئولیت حاصل از قصور و اهمال در حسابرسي به شمار می رود ؟
- الف. در صورتیکه حسابرسي بر عدم صحت صورتهای مالی واقف باشد و این موضوع را به مجمع عمومی صاحبان سهام اطلاع ندهد
- ب. در صورتیکه مدیران شرکت، عملیاتی خارج از حدود اختیارات شرکت انجام دهند و حسابرسي این موضوع را افشاء ننمایند
- ج. حسابرسي نمی تواند به عذر اینکه کشف اختلاس و تقلب مشکل بود از خود سلب مسئولیت کند
- د. تحریف حقایق با اهمیت توسط حسابرسي با کمال بی توجهی نسبت صحت و سقم آن
۹. کدام گزینه صحیح است ؟
- الف. گزارش جامع بازرسان راجع به وضع شرکت باید حداکثر ۱۰ روز قبل از تشکیل مجمع عمومی عادی در مرکز شرکت آماده باشد
- ب. مطابق قانون تجارت ایران تعیین حق الزحمه بازرسي با مجمع عمومی عادی است
- ج. بازرسي باید هر گونه تخلف مشاهده شده در امور شرکت از ناحیه مدیران و مدیر عامل را به رئیس دادگاه شهرستان اطلاع دهد
- د. بازرسي نمی تواند هر موقع هر گونه رسیدگی و بازرسي لازم را انجام دهد و اسناد و مدارک و اطلاعات مربوط را مطالبه کند
۱۰. کدام گزینه از وظایف و مسئولیتهای شرکاء در یک مؤسسه حسابرسي محسوب می شود ؟
- الف. حدود و زمان لازم برای رسیدگی های حسابرسان
- ب. تهیه برنامه رسیدگی و رویه های حسابرسي
- ج. تهیه گزارش حسابرسي
- د. بررسی فرمها و کاربرگهای رسیدگی
۱۱. کاربرگهای تهیه شده توسط حسابرسان و کمک حسابرسان بطور دائم و در پایان هر مرحله از رسیدگی توسط کدام گزینه مورد بررسی و کنترل قرار می گیرد ؟
- الف. شرکاء
- ب. حسابرسي ارشد
- ج. سرپرست حسابرسي
- د. مدیریت صاحبکار
۱۲. کدام گزینه صحیح است ؟
- الف. برنامه ریزی حسابرسي بعد از انعقاد قرارداد و شروع کار حسابرسي انجام می شود
- ب. مسئولیت طرح و تنظیم برنامه رسیدگی و رویه های حسابرسي بر عهده سرپرستان حسابرسي است
- ج. مؤسسات حسابرسي می توانند بصورت شرکتهای سهامی تأسیس شوند
- د. در بند رسیدگی گزارش حسابرسي اصل اهمیت مورد تأکید قرار می گیرد

نام درس: حسابرسي (۱)
 رشته تحصيلي / گد درس: حسابداری (ستتی) ۱۲۱۴۰۲۷ - بازرگانی (ستتی) ۱۲۱۴۰۷۳
 تجميع (حسابداری، بازرگانی، صنعتی، دولتی - جهانگردی - اقتصاد) ۱۲۱۴۰۷۷
 گد سري سؤال: يك (۱)
 استفاده از: --
 مجاز است.

۱۳. کدام گزینه از ارکان تصميم گيري در يك شركت تجاری محسوب می شود ؟
- الف. شوراهای عالی
ب. مدیران اجرایی و کارکنان
ج. مجمع عمومی صاحبان سهام و هیأت مدیره
د. هیأت امناء
۱۴. در کدام گزینه حسابرسي اقدام به تهیه گزارش حسابرسي مقبول با عبارت توضیحي می نماید ؟
- الف. مشکلات با اهمیت مربوط به افشاء یا اصول پذیرفته شده حسابداری
ب. محدودیت اساسی در رسیدگی به صورتهای مالی
ج. محدودیت ناچیز در رسیدگی به صورتهای مالی
د. انحراف با اهمیت توجه شده از اصول پذیرفته شده حسابداری
۱۵. الزام قانونی واحد های اقتصادی به ارائه اظهار نامه مالیاتی در موعد مقرر مربوط به کدام دسته از کنترلها می باشد ؟
- الف. کنترلهای داخلی
ب. کنترلهای مالی
ج. کنترلهای انضباطی
د. کنترلهای از خارج
۱۶. کدام گزینه صحیح است ؟
- الف. کنترلهای عملیاتی تأثیر مستقیم در صورتهای مالی دارند
ب. حداقل کنترلهای لازم جهت فعالیتهای مالی یک واحد اقتصادی را کنترل داخلی مالی پایه می نامند
ج. کنترلهایی که به خودی خود وجود آنها در یک واحد اقتصادی لازم نیست کنترلهای سرپرستی می نامند
د. مشاهده عینی داراییهای ثبت شده در دفاتر ، در فواصل زمانی مناسب ، کنترل داخلی عملیاتی پایه محسوب می شود
۱۷. کدام گزینه مربوط به خرید های خارجی است که فاکتور بر مبنای قیمت کالا روی عریضه کشتی در نظر گرفته می شود
- الف. C & D
ب. CIF
ج. FOB
د. EX - Factory
۱۸. در کدام مرحله از بررسی سیستم کنترل داخلی حسابرسي از طریق تماس با مسئولان مختلف قسمتها روشهای کنترلی مستقر در واحد را سؤال کرده و با جزئیات آن آشنایی کامل پیدا می کند ؟
- الف. آزمایش صحت ثبت سیستم
ب. ارزیابی سیستم
ج. درک و ثبت سیستم
د. قبل از انجام رسیدگیها و تهیه گزارش
۱۹. برای ثبت سیستم کنترل داخلی از طریق رسم نمودار ، کدام گزینه به منزله بایگانی نسخ مختلف مدارک موجود در سیستم می باشد ؟



نام درس: حسابرسي (۱)
 رشته تحصيلي / گد درس: حسابداری (ستى) ۱۲۱۴۰۲۷ - بازرگانی (ستى) ۱۲۱۴۰۷۳
 تجميع (حسابداری، بازرگانی، صنعتی، دولتی - جهانگردی - اقتصاد) ۱۲۱۴۰۷۷
 گد سري سؤال: يك (۱)
 استفاده از: --
 مجاز است.

۲۰. هنگام رسیدگی به صورتهای مالی یک شرکت، تحصیل مدارک از منابع مستقل، روی کدام گزینه اهمیت مؤثر دارد؟
- الف. نوع گزارش حسابرسي
ج. کمیت مدارک مستند
ب. کیفیت و اعتبار مدارک مستند
د. نحوه تنظیم نامه مدیریت
۲۱. کدام گزینه از انواع اطلاعات و مدارک حسابرسي به شمار می رود؟
- الف. رویدادهای بعد از تاریخ ترازنامه
ج. مذاقه
ب. ردیابی
د. پی گیری
۲۲. ماهیت معامله و معقول بودن معاملات در مورد کدامیک از روشهای حسابرسي مورد توجه قرار می گیرد؟
- الف. دریافت تأییدیه از اشخاص ثالث
ج. پرس و جو
ب. محاسبه مجدد
د. سند رسي
۲۳. کدام گزینه به رسیدگی به عملیاتی که بعد از ثبت یک معامله در دفاتر حسابداری اتفاق است، اشاره دارد؟
- الف. ردیابی
ج. میانه بر
ب. پی گیری
د. مذاقه
۲۴. کدام روش نمونه گیری می تواند در طراحی نمونه های مؤثر و مفید و اندازه گیری کفایت و قابلیت اطمینان شواهد بدست آمده به حسابرسان کمک بیشتری کند؟
- الف. نمونه گیری تصادفی
ج. نمونه گیری آماری
ب. نمونه گیری تصادفی با طبقه بندی
د. نمونه گیری قطعه ای
۲۵. کدام طرح نمونه گیری برای آزمون رعایت روشهای کنترل داخلی مورد استفاده قرار می گیرد؟
- الف. طرح نمونه گیری بر اساس متغیر
ج. طرح نمونه گیری آزمون محتوا
ب. طرح نمونه گیری بر اساس صفت
د. طرح نمونه گیری تصادفی
۲۶. کدام گزینه "احتمال اینکه نتایج نمونه نشانگر تحریف عمده در جامعه باشد در حالیکه در واقعیت چنین نباشد" را بیان می دارد؟
- الف. احتمال خطر بتا
ج. احتمال خطر گاما
ب. احتمال خطر آلفا
د. احتمال خطر آزمون محتوا
۲۷. برآورد میانگین در هر واحد و برآورد نسبتي از متداولترین طرحهای نمونه گیری بر اساس کدام گزینه هستند؟
- الف. صفت
ج. آماری
ب. متغیر
د. تصادفی
۲۸. کدام گزینه تعریف صحیح تری برای مدارک حسابرس است، برای دفاع از حدود رسیدگی و دقت حرفه ای که در رسیدگی های خود بکار برده است،
- الف. پرونده دائمی
ج. اسناد و مدارک مثبت جمع آوری شده
ب. گزارش حسابرسي
د. فرمها و یادداشتهای حسابرس

نام درس: حسابرسي (۱)
 رشته تحصیلی / گد درس: حسابداری (ستتي) ۱۲۱۴۰۲۷ - بازرگانی (ستتي) ۱۲۱۴۰۷۳
 تجميع (حسابداری، بازرگانی، صنعتی، دولتي - جهانگردی - اقتصاد) ۱۲۱۴۰۷۷
 گد سري سؤال: يك (۱)
 استفاده از: --
 مجاز است.

۲۹. کدام گزینه شامل طرحهای کلی و برنامه حسابرسي و پرسشنامه کنترل داخلی حسابرسي و برنامه زمانبندی می باشد ؟

- الف. کاربرد نهایی
 ب. کاربرد تعدیلات
 ج. کاربرد عمومی
 د. کاربرد فرعی
 ۳۰. کدام گزینه کاربرد کلیدی است که تمام کاربرگهای فرعی را کنترل و خلاصه می کند ؟
 الف. کاربرد تراز آزمایشی
 ب. کاربرد نهایی
 ج. کاربرد فرعی
 د. کاربرد مدارک تأیید کننده

۳۱. کدام گزینه از معایب برنامه حسابرسي به شمار می رود ؟

- الف. دشواری در تقسیم کار بین کارمندان حسابرسي
 ب. از بین رفتن امکان فراموش شدن بعضی رسیدگیها
 ج. از بین رفتن ابتکار در کارمندان حسابرسي
 د. امکان انجام کار توسط کارمندان با حداقل نظارت کارمندان ارشد

۳۲. آزمون اعتبار و آزمون دامنه جزء کنترلهای متداول برنامه ای کامپیوتر کدام گزینه هستند ؟

- الف. کنترلهای اطلاعات ورودی
 ب. کنترلهای اطلاعات پردازش اطلاعات
 ج. کنترلهای اطلاعات خروجی
 د. کنترلهای سخت افزار

۳۳. کدام گزینه را نمی توان از اهداف تدوین آیین رفتار حرفه ای بر شمرد ؟

- الف. ارائه رهنمود لازم به اعضاء برای حفظ بهبود موازین اخلاقی و الزام به رعایت آنها از طرف اعضاء
 ب. بکار گرفتن استانداردهای قابل قبول
 ج. جلوگیری از تخلفات و الزام توجه به اجرای مقررات اساسی و ضوابط حرفه ای
 د. دخالت ندادن عقاید و نظرات شخصی در وظیفه حرفه ای و خودداری از اظهار نظر جز در مواردی که مستنداً قابل اثبات باشد

۳۴. عبارت " حسابرسي باید در حفظ اسرار مؤسسه مورد رسیدگی مراقبت های کافی بعمل آورد و مراسلات و اسناد محرمانه مؤسسه را حفظ کند " مربوط به کدام گزینه است ؟

- الف. مسئولیت گزارش خلاف واقع ناشی از سوء نیت ب. مسئولیت حسابرسي در قبال اشخاص ثالث
 ج. مسئولیت حاصل از قصور و اهماال د. مسئولیت حسابرسي در مقابل صاحبکار

۳۵. کدام گزینه به عنوان یک مدرک در پرونده دائمی نگهداری می شود ؟

- الف. وضعیت حقوق صاحبان سهام و رسیدگیهای مرتبط
 ب. خلاصه نقاط ضعف کنترلهای داخلی و نامه مدیریت
 ج. صورت حسابهای انتظامی
 د. کاربرگهای مربوط به کنترل صحت ثبت سیستم

نام درس: حسابرسي (۱) تعداد سوالات: تستي: ۳۵ تشریحي: --
 رشته تحصيلي / گد درس: حسابداری (ستى) ۱۲۱۴۰۲۷ - بازرگانی (ستى) ۱۲۱۴۰۷۳ زمان آزمون (دقیقه): تستي: ۶۰ تشریحي: --
 تجميع (حسابداری، بازرگانی، صنعتی، دولتی - جهانگردی - اقتصاد) ۱۲۱۴۰۷۷
 گد سري سوال: يك (۱) استفاده از: --
 مجاز است.

امام خمینی (ع): این محرم و صفر است که اسلام را زنده نگه داشته است.

۱. کدام گزینه طبق قانون تجارت ملزم به تعیین بازرس قانونی است ؟

- الف. شرکت سهامی عام و خاص
 ب. شرکت سهامی با مسئولیت محدود
 ج. شرکت تضامنی
 د. شرکت تعاونی

۲. اگر حسابرسي انجام رسیدگی های خود را از مدارک اولیه آغاز و به صورتهای مالی ختم نماید، کدام گزینه صحیح است ؟

- الف. حسابرسي به شیوه ترازنامه ای
 ب. حسابرسي به شیوه سند رسي
 ج. حسابرسي به شیوه اثباتی
 د. حسابرسي به شیوه الزامی

۳. کدام گزینه صحیح است ؟

- الف. گواهی و اظهار نظر حسابرسي نسبت به امر واقعی و مسلم است که هیچ گونه تردیدی درباره آن وجود ندارد .
 ب. مجاز بودن معامله یعنی رسیدگی به اینکه حاصل معامله عاید شرکت شده است .

ج. گزارش حسابرسي بیان عقیده است نه ذکر واقعیت.

د. مطابق قانون تجارت ایران شرکتهای سهامی خاص ملزم به انتخاب حسابرسي می باشند .

۴. دخالت ندادن عقاید و نظرات شخصی در وظیفه حرفه ای و خودباوری از اظهار نظر جز در مواردی که مستنداً قابل اثبات باشد مربوط به کدام اصل از اصول بنیادی حسابرسي است ؟

الف. کفایت دانش و تجربه

ب. دقت در کار

ج. حفظ اسرار

د. استقلال و بی طرفی

۵. نمونه گیری آزمایشی از اسناد و مدارک و حسابها و اعمال سایر روشهای حسابرسي نظیر حضور در انبارگردانی و درخواست تأییدیه از بدهکاران و بستانکاران جزء کدام گزینه محسوب می شود ؟

الف. اصول حسابرسي

ب. استاندارد عمومی

ج. استاندارد عملیاتی

د. برنامه حسابرسي

۶. حسابرسي در کدام حالت اقدام به امضاء ذیل صورتهای مالی می نماید ؟

الف. طبق روال متداول حرفه حسابرسي ، حسابرسي مجاز نیست ذیل صورتهای مالی را امضاء نماید

ب. فقط در حالیکه صد در صد عملیات مالی موضوع صورتهای مالی را رسیدگی کرده باشد

ج. در صورت درخواست مدیریت واحد مورد رسیدگی از حسابرسي در مجمع عمومی عادی سالیانه

د. اگر حسابرسي به صورت مداوم در شرکت حضور داشته باشد و بر کلیه امور نظارت کامل داشته باشد

۷. کدام گزینه اعمال نکردن مراقبت های حرفه ای توسط حسابرسي می باشد ؟

الف. تقلب

ب. قصور

ج. سهل انگاری

د. تبلیغات

نام درس: حسابرسي (۱)
 رشته تحصيلي / گد درس: حسابداری (ستتی) ۱۲۱۴۰۲۷ - بازرگانی (ستتی) ۱۲۱۴۰۷۳
 تجميع (حسابداری، بازرگانی، صنعتی، دولتی - جهانگردی - اقتصاد) ۱۲۱۴۰۷۷
 گد سري سؤال: يك (۱)
 استفاده از: --
 مجاز است.

۸. کدام گزینه از موارد مسئولیت حاصل از قصور و اهمال در حسابرسي به شمار می رود ؟
- الف. در صورتیکه حسابرسي بر عدم صحت صورتهای مالی واقف باشد و این موضوع را به مجمع عمومی صاحبان سهام اطلاع ندهد
- ب. در صورتیکه مدیران شرکت، عملیاتی خارج از حدود اختیارات شرکت انجام دهند و حسابرسي این موضوع را افشاء ننمایند
- ج. حسابرسي نمی تواند به عذر اینکه کشف اختلاس و تقلب مشکل بود از خود سلب مسئولیت کند
- د. تحریف حقایق با اهمیت توسط حسابرسي با کمال بی توجهی نسبت صحت و سقم آن
۹. کدام گزینه صحیح است ؟
- الف. گزارش جامع بازرسان راجع به وضع شرکت باید حداکثر ۱۰ روز قبل از تشکیل مجمع عمومی عادی در مرکز شرکت آماده باشد
- ب. مطابق قانون تجارت ایران تعیین حق الزحمه بازرسي با مجمع عمومی عادی است
- ج. بازرسي باید هر گونه تخلف مشاهده شده در امور شرکت از ناحیه مدیران و مدیر عامل را به رئیس دادگاه شهرستان اطلاع دهد
- د. بازرسي نمی تواند هر موقع هر گونه رسیدگی و بازرسي لازم را انجام دهد و اسناد و مدارک و اطلاعات مربوط را مطالبه کند
۱۰. کدام گزینه از وظایف و مسئولیتهای شرکاء در یک مؤسسه حسابرسي محسوب می شود ؟
- الف. حدود و زمان لازم برای رسیدگی های حسابرسان
- ب. تهیه برنامه رسیدگی و رویه های حسابرسي
- ج. تهیه گزارش حسابرسي
- د. بررسی فرمها و کاربرگهای رسیدگی
۱۱. کاربرگهای تهیه شده توسط حسابرسان و کمک حسابرسان بطور دائم و در پایان هر مرحله از رسیدگی توسط کدام گزینه مورد بررسی و کنترل قرار می گیرد ؟
- الف. شرکاء
- ب. حسابرسي ارشد
- ج. سرپرست حسابرسي
- د. مدیریت صاحبکار
۱۲. کدام گزینه صحیح است ؟
- الف. برنامه ریزی حسابرسي بعد از انعقاد قرارداد و شروع کار حسابرسي انجام می شود
- ب. مسئولیت طرح و تنظیم برنامه رسیدگی و رویه های حسابرسي بر عهده سرپرستان حسابرسي است
- ج. مؤسسات حسابرسي می توانند بصورت شرکتهای سهامی تأسیس شوند
- د. در بند رسیدگی گزارش حسابرسي اصل اهمیت مورد تأکید قرار می گیرد

نام درس: حسابرسي (۱)
 رشته تحصيلي / گد درس: حسابداري (ستتي) ۱۲۱۴۰۲۷ - بازرگاني (ستتي) ۱۲۱۴۰۷۳
 تجميع (حسابداری، بازرگانی، صنعتی، دولتی - جهانگردی - اقتصاد) ۱۲۱۴۰۷۷
 تعداد سوالات: تستی: ۳۵ تشریحي: --
 زمان آزمون (دقیقه): تستی: ۶۰ تشریحي: --
 کد سری سؤال: یک (۱)
 استفاده از: --
 مجاز است.

۱۳. کدام گزینه از ارکان تصمیم‌گیری در یک شرکت تجاری محسوب می‌شود؟

الف. شوراهای عالی

ب. مدیران اجرایی و کارکنان

ج. مجمع عمومی صاحبان سهام و هیأت مدیره

د. هیأت امناء

۱۴. در کدام گزینه حسابرسي اقدام به تهیه گزارش حسابرسي مقبول با عبارت توضیحي می‌نماید؟

الف. مشکلات با اهمیت مربوط به افشاء یا اصول پذیرفته شده حسابداری

ب. محدودیت اساسی در رسیدگی به صورتهای مالی

ج. محدودیت ناچیز در رسیدگی به صورتهای مالی

د. انحراف با اهمیت توجه شده از اصول پذیرفته شده حسابداری

۱۵. الزام قانونی واحد های اقتصادی به ارائه اظهار نامه مالیاتی در موعد مقرر مربوط به کدام دسته از کنترلها می‌باشد؟

الف. کنترلهای داخلی

ب. کنترلهای مالی

ج. کنترلهای انضباطی

د. کنترلهای از خارج

۱۶. کدام گزینه صحیح است؟

الف. کنترلهای عملیاتی تأثیر مستقیم در صورتهای مالی دارند

ب. حداقل کنترلهای لازم جهت فعالیتهای مالی یک واحد اقتصادی را کنترل داخلی مالی پایه می‌نامند

ج. کنترلهایی که به خودی خود وجود آنها در یک واحد اقتصادی لازم نیست کنترلهای سرپرستی می‌نامند

د. مشاهده عینی داراییهای ثبت شده در دفاتر، در فواصل زمانی مناسب، کنترل داخلی عملیاتی پایه محسوب می‌شود

۱۷. کدام گزینه مربوط به خرید های خارجی است که فاکتور بر مبنای قیمت کالا روی عرضه کشتی در نظر گرفته می‌شود

الف. C & D

ب. CIF

ج. FOB

د. EX - Factory

۱۸. در کدام مرحله از بررسی سیستم کنترل داخلی حسابرسي از طریق تماس با مسئولان مختلف قسمت‌ها روشهای کنترلی

مستقر در واحد را سؤال کرده و با جزئیات آن آشنایی کامل پیدا می‌کند؟


الف. آزمایش صحت ثبت سیستم

ب. ارزیابی سیستم

ج. درک و ثبت سیستم

د. قبل از انجام رسیدگیها و تهیه گزارش

۱۹. برای ثبت سیستم کنترل داخلی از طریق رسم نمودار، کدام گزینه به منزله بایگانی نسخ مختلف مدارک موجود در سیستم می‌باشد؟

الف. 

ب. 

ج.

د.

نام درس: حسابرسي (۱) تعداد سوالات: تستي: ۳۵ تشریحي: --
 رشته تحصیلی / گد درس: حسابداری (ستي) ۱۲۱۴۰۲۷ - بازرگانی (ستي) ۱۲۱۴۰۷۳ زمان آزمون (دقیقه): تستي: ۶۰ تشریحي: --
 تجميع (حسابداری، بازرگانی، صنعتی، دولتی - جهانگردی - اقتصاد) ۱۲۱۴۰۷۷
 گد سری سؤال: یک (۱) استفاده از: --
 مجاز است.

۲۰. هنگام رسیدگی به صورتهای مالی یک شرکت، تحصیل مدارک از منابع مستقل، روی کدام گزینه اهمیت مؤثر دارد؟
- الف. نوع گزارش حسابرسي
ج. کمیت مدارک مستند
ب. کیفیت و اعتبار مدارک مستند
د. نحوه تنظیم نامه مدیریت
۲۱. کدام گزینه از انواع اطلاعات و مدارک حسابرسي به شمار می رود؟
- الف. رویدادهای بعد از تاریخ ترازنامه
ج. مذاقه
ب. ردیابی
د. پی گیری
۲۲. ماهیت معامله و معقول بودن معاملات در مورد کدامیک از روشهای حسابرسي مورد توجه قرار می گیرد؟
- الف. دریافت تأییدیه از اشخاص ثالث
ج. پرس و جو
ب. محاسبه مجدد
د. سند رسي
۲۳. کدام گزینه به رسیدگی به عملیاتی که بعد از ثبت یک معامله در دفاتر حسابداری اتفاق است، اشاره دارد؟
- الف. ردیابی
ج. میانه بر
ب. پی گیری
د. مذاقه
۲۴. کدام روش نمونه گیری می تواند در طراحی نمونه های مؤثر و مفید و اندازه گیری کفایت و قابلیت اطمینان شواهد بدست آمده به حسابرسان کمک بیشتری کند؟
- الف. نمونه گیری تصادفی
ج. نمونه گیری آماری
ب. نمونه گیری تصادفی با طبقه بندی
د. نمونه گیری قطعه ای
۲۵. کدام طرح نمونه گیری برای آزمون رعایت روشهای کنترل داخلی مورد استفاده قرار می گیرد؟
- الف. طرح نمونه گیری بر اساس متغیر
ج. طرح نمونه گیری آزمون محتوا
ب. طرح نمونه گیری بر اساس صفت
د. طرح نمونه گیری تصادفی
۲۶. کدام گزینه "احتمال اینکه نتایج نمونه نشانگر تحریف عمده در جامعه باشد در حالیکه در واقعیت چنین نباشد" را بیان می دارد؟
- الف. احتمال خطر بتا
ج. احتمال خطر گاما
ب. احتمال خطر آلفا
د. احتمال خطر آزمون محتوا
۲۷. برآورد میانگین در هر واحد و برآورد نسبتي از متداولترین طرحهای نمونه گیری بر اساس کدام گزینه هستند؟
- الف. صفت
ج. آماری
ب. متغیر
د. تصادفی
۲۸. کدام گزینه تعریف صحیح تری برای مدارک حسابرسي است، برای دفاع از حدود رسیدگی و دقت حرفه ای که در رسیدگی های خود بکار برده است،
- الف. پرونده دائمی
ج. اسناد و مدارک مثبت جمع آوری شده
ب. گزارش حسابرسي
د. فرمها و یادداشتهای حسابرسي

نام درس: حسابرسي (۱)
 رشته تحصیلی / کد درس: حسابداری (ستتي) ۱۲۱۴۰۲۷ - بازرگانی (ستتي) ۱۲۱۴۰۷۳
 تجميع (حسابداری، بازرگانی، صنعتی، دولتی - جهانگردی - اقتصاد) ۱۲۱۴۰۷۷
 کد سری سؤال: یک (۱)
 استفاده از: --
 مجاز است.

۲۹. کدام گزینه شامل طرحهای کلی و برنامه حسابرسي و پرسشنامه کنترل داخلی حسابرسي و برنامه زمانبندی می باشد ؟

- الف. کاربرد نهایی
 ب. کاربرد تعدیلات
 ج. کاربرد عمومی
 د. کاربرد فرعی
 ۳۰. کدام گزینه کاربرد کلیدی است که تمام کاربرگهای فرعی را کنترل و خلاصه می کند ؟
 الف. کاربرد تراز آزمایشی
 ب. کاربرد نهایی
 ج. کاربرد فرعی
 د. کاربرد مدارک تأیید کننده

۳۱. کدام گزینه از معایب برنامه حسابرسي به شمار می رود ؟

- الف. دشواری در تقسیم کار بین کارمندان حسابرسي
 ب. از بین رفتن امکان فراموش شدن بعضی رسیدگیها
 ج. از بین رفتن ابتکار در کارمندان حسابرسي
 د. امکان انجام کار توسط کارمندان با حداقل نظارت کارمندان ارشد

۳۲. آزمون اعتبار و آزمون دامنه جزء کنترلهای متداول برنامه ای کامپیوتر کدام گزینه هستند ؟

- الف. کنترلهای اطلاعات ورودی
 ب. کنترلهای اطلاعات پردازش اطلاعات
 ج. کنترلهای اطلاعات خروجی
 د. کنترلهای سخت افزار

۳۳. کدام گزینه را نمی توان از اهداف تدوین آیین رفتار حرفه ای بر شمرد ؟

- الف. ارائه رهنمود لازم به اعضا برای حفظ بهبود موازین اخلاقی و الزام به رعایت آنها از طرف اعضا
 ب. بکار گرفتن استانداردهای قابل قبول
 ج. جلوگیری از تخلفات و الزام توجه به اجرای مقررات اساسی و ضوابط حرفه ای
 د. دخالت ندادن عقاید و نظرات شخصی در وظیفه حرفه ای و خودداری از اظهار نظر جز در مواردی که مستنداً قابل اثبات باشد

۳۴. عبارت " حسابرسي باید در حفظ اسرار مؤسسه مورد رسیدگی مراقبت های کافی بعمل آورد و مراسلات و اسناد محرمانه مؤسسه را حفظ کند " مربوط به کدام گزینه است ؟

- الف. مسئولیت گزارش خلاف واقع ناشی از سوء نیت ب. مسئولیت حسابرسي در قبال اشخاص ثالث
 ج. مسئولیت حاصل از قصور و اهماال د. مسئولیت حسابرسي در مقابل صاحبکار

۳۵. کدام گزینه به عنوان یک مدرک در پرونده دائمی نگهداری می شود ؟

- الف. وضعیت حقوق صاحبان سهام و رسیدگیهای مرتبط
 ب. خلاصه نقاط ضعف کنترلهای داخلی و نامه مدیریت
 ج. صورت حسابهای انتظامی
 د. کاربرگهای مربوط به کنترل صحت ثبت سیستم

تعداد سوالات: تستی: ۴۰ تشریحی: —
 زمان آزمون (دقیقه): تستی: ۵۵ تشریحی: —

نام درس: نحوه تنظیم و کنترل بودجه ریزی
 رشته تحصیلی / کد درس: مدیریت بازرگانی - ۱۲۱۴۰۷۹

مجاز است.

استفاده از: —

کد سری سؤال: یک (۱)

امام خمینی^(ع): این محرم و صفر است که اسلام را زنده نگه داشته است.

۱. در اجرای سیاستگذاری‌های اقتصادی، کدامیک از عوامل ذیل به طور مشخص ضد رشد قلمداد می‌شود؟
 - الف. پاسخگویی مدیریت به نحوه آشکار
 - ب. اطمینان‌یابی مستقل از یکپارچگی
 - ج. گستردگی فعالیت‌های دولت در امور اقتصادی
 - د. غیررقابت‌پذیری محیط فعالیت‌های اجتماعی
۲. یکی از عناصر ضروری شفافیت، دسترسی عام به کدامیک از اطلاعات زیر می‌باشد؟
 - الف. اطلاعات منابع انسانی
 - ب. اطلاعات مالی
 - ج. اطلاعات رقبا
 - د. اطلاعات درون سازمانی
۳. بودجه‌ریزی در ایران به رغم جایگاه ممتاز برنامه‌ریزی و اهمیتی که بودجه در تهیه و اجرای برنامه‌های عمرانی دارد، ابزاری است؟
 - الف. کارآمد
 - ب. ضروری و لازم
 - ج. جایگزین
 - د. ناکارآمد
۴. هر بودجه حاصل ترکیب مجموعه‌ای از گزینه‌های منتخب است، به کدامیک از موارد ذیل اشاره دارد؟
 - الف. زمینه‌های سیاسی
 - ب. ابعاد فنی
 - ج. اصول ایجاد تمرکز
 - د. مبنای مالیات
۵. منظور از عبارت است از گنجانیدن بودجه هزینه و درآمد دولت در حساب‌های ملی و فراهم آوردن چارچوب تهیه بودجه مالی عمومي دولت می‌باشد.
 - الف. بودجه سالیانه
 - ب. بودجه نظامی
 - ج. بودجه اقتصادی
 - د. بودجه عملیاتی
۶. کدامیک از موارد ذیل جزء تقسیمات عملیات روی کالاها و خدمات می‌باشد؟
 - الف. طلا و ارز
 - ب. مصرف نهایی
 - ج. پول
 - د. عملیات مالی
۷. مشکل اساسی در تهیه بودجه اقتصادی، فقدان آمارهای حساب‌های ملی است.
 - الف. سالانه
 - ب. ماهانه
 - ج. سه ماهه
 - د. پنج ساله
۸. در SNA93 مالیات‌ها به چند گونه طبقه بندی شده اند؟
 - الف. شش طبقه
 - ب. دو طبقه
 - ج. هشت طبقه
 - د. سه طبقه
۹. الگویی با هدف غیرانتفاعی، جزء کدامیک از قالب‌های رفتار دولت‌ها می‌توان دانست؟
 - الف. یک الگوی مشترک برای دولت و بخش خصوصی
 - ب. یک الگوی خاص دولت برای رفتارهای بین نسلی
 - ج. دو الگوی خاص برای دولت و بخش تعاونی
 - د. دو الگوی بخش خصوصی
۱۰. دوره تداوم منابع، یکی از ویژگی‌هایی است که دولت باید به آن عنایت بسیار داشته باشد.
 - الف. کوتاه مدت بودن
 - ب. دراز مدت بودن
 - ج. سری بودن
 - د. متوسط بودن
۱۱. کدامیک از ویژگی‌های زیر سبب می‌شود تخصیص منابع برای مدت طولانی محدود بماند؟
 - الف. پایایی مصارف
 - ب. دوره تداوم مصارف
 - ج. مصارف جاری
 - د. کم هزینه بودن آن

تعداد سوالات: تستی: ۴۰ تشریحی: --
 زمان آزمون (دقیقه): تستی: ۵۵ تشریحی: --

نام درس: نحوه تنظیم و کنترل بودجه ریزی
 رشته تحصیلی / گد درس: مدیریت بازرگانی - ۱۲۱۴۰۷۹

مجاز است.

استفاده از: --

گد سری سؤال: یک (۱)

۱۲. در حالت کلی نوع نظر حسابرسی درباره معیارهای عملکرد بودجه‌ای بیان شده است؟
 الف. چهار نوع ب. پنج نوع ج. شش نوع د. سه نوع
۱۳. تأمین و حفظ امنیت، جزء کدامیک از فعالیت‌های دولت می‌باشد؟
 الف. هدف‌ها و فعالیت‌های اجرایی ب. هدف‌ها و فعالیت‌های شخصی
 ج. هدف‌ها و فعالیت‌های عملیاتی د. هدف‌ها و فعالیت‌های حاکمیتی
۱۴. یکی از مهمترین مؤلفه‌های هر سازمان، بویژه نظام‌های اداری، در دولت کدامیک از گزینه‌های زیر می‌باشد؟
 الف. سرمایه ب. تکنولوژی روز ج. آموزش د. نیروی انسانی
۱۵. مهمترین مشغله قانون‌گذاران کدام است؟
 الف. بودجه بندی ب. برنامه ریزی ج. شفافیت د. وصول مالیات
۱۶. مهمترین راه نظارت دولت بر بودجه، است؟
 الف. قانون محاسبات عمومی ب. قانون اساسی
 ج. قوانین اداری، نظامی د. مجلس شورای اسلامی
۱۷. تهیه و پیشنهاد سند بودجه، چندمین مرحله از مراحل فرایند بودجه‌ای کشور دانست؟
 الف. دومین مرحله ب. اولین مرحله ج. سومین مرحله د. مرحله اول و سوم
۱۸. کدامیک از موارد ذیل جزء انواع دریافت‌های دولت می‌باشد؟
 الف. هدایا ب. خریده‌ها ج. درآمد شهرداریها د. درآمد شرکتهای تعاونی
۱۹. کدامیک از موارد زیر جزء وظایف نظارتی سازمان مدیریت و برنامه ریزی کشور می‌باشد؟
 الف. تخصیص اعتبارات ب. تهیه صورتحساب عملکرد سالانه دولت
 ج. حسابرسی صورتهای مالی شرکت‌های دولتی د. نظارت بعد از خرج
۲۰. بودجه عمومی دولت از کدام بخش تشکیل می‌شود؟
 الف. درآمدهای عمومی ب. درآمدهای عمومی و درآمدهای اختصاصی
 ج. درآمدهای اختصاصی د. مالیاتها و تعرفه‌های گمرکی
۲۱. بودجه، طی فرآیندی امکان مقایسه ادواری هم خوانی هزینه‌ها با ترجیحات جامعه را فراهم می‌آورد. به کدامیک از اهداف بودجه‌ریزی عمومی اشاره دارد؟
 الف. اهداف اقتصادی ب. اهداف مدیریتی
 ج. اهداف پاسخ‌گویی مالی د. اهداف سیاسی
۲۲. در یک نظام مردم سالار، مقامات در مقایسه با مقامات ، با مجموعه متفاوتی از ارزیابی‌های عملکرد روبرو هستند.
 الف. اجرایی - مالی ب. اقتصادی - مدیریتی
 ج. اهداف پاسخ‌گویی مالی د. اهداف سیاسی
۲۳. از دیدگاه اقتصادی، بودجه کدامیک از اهداف زیر را دنبال می‌کند؟
 الف. کمک به باز توزیع ثروت در میان شهروندان ب. حسابرسی‌های پس از هزینه در انتهای چرخه بودجه
 ج. حمایت از حقوق مالکیت خصوصی د. ایجاد تعادل میان بودجه پیشنهادی دولت و بودجه مصوب مجلس

تعداد سوالات: تستی: ۴۰ تشریحی: --
 زمان آزمون (دقیقه): تستی: ۵۵ تشریحی: --

نام درس: نحوه تنظیم و کنترل بودجه ریزی
 رشته تحصیلی / گد درس: مدیریت بازرگانی - ۱۲۱۴۰۷۹

مجاز است.

استفاده از: --

گد سری سؤال: یک (۱)

۲۴. کدامیک از موارد ذیل به بودجه ریزی خطی معروف است؟

- الف. بودجه ریزی در ایران
 ب. بودجه ریزی افزایش
 ج. بودجه ریزی عملیاتی
 د. بودجه ریزی آبشاری

۲۵. یکی از معایب جدی برای مدیران این است که انعطاف پذیری آنان برای انتقال اعتبار از یک برنامه به برنامه دیگر را محدود می کند.

- الف. بودجه ریزی بر مبنای صفر
 ب. بودجه ریزی عملیاتی
 ج. بودجه ریزی برنامه ای
 د. بودجه ریزی بر افزایشی

۲۶. عبارت است از برنامه عملکرد سالانه به همراه بودجه سالانه که رابطه میان میزان وجوه تخصص یافته به هر برنامه با نتایج بدست آمده از اجراء آن برنامه را نشان می دهد.

- الف. بودجه ریزی افزایشی
 ب. بودجه ریزی برنامه ای
 ج. بودجه ریزی عملیاتی
 د. بودجه ریزی بر مبنای صفر

۲۷. کدامیک از موارد زیر جزء سؤالات مطرح شده در بررسی تأثیرات بودجه ریزی عملیاتی می باشد؟

- الف. افراد نمونه از چه سطح درآمدی باید برخوردار باشند.
 ب. از کدام قسمتهای بودجه ریزی بایستی سوال شود.
 ج. زمان انجام تحقیق در چه ماهی باشد.
 د. از کدام روشهای پژوهشی دیگر باید بهره جست.

۲۸. کدامیک از موارد ذیل در اجراء فرآیند بودجه ریزی عملیاتی نیاز می باشد؟

- الف. سنجش عملکرد
 ب. پیوند اطلاعات برنامه ریزی راهبردی با بودجه
 ج. بهبود ارزیابی برنامه ها
 د. بهبود ارتباط سازمان ها با شهروندان

۲۹. محرک های انگیزشی (پاداش ها و تنبیه ها) جزء کدامیک از مراحل بودجه ریزی عملیاتی زیر می باشد؟

- الف. اقدامات نهایی
 ب. فراهم کردن زمینه های مدیریتی
 ج. تأمین آموزشهای لازم
 د. جلب موافقت و تعهد نقش آفرینان اصلی

۳۰. بطور کلی ، حداقل چند نوع شاخص عملکرد وجود دارد؟

- الف. دو شاخص
 ب. سه شاخص
 ج. چهار شاخص
 د. پنج شاخص

۳۱. تعداد ساعات کار انجام شده، کل هزینه های عملیاتی، جزء کدامیک از شاخص های زیر می باشد؟

- الف. شاخص های اثربخشی
 ب. شاخص های خروجی
 ج. شاخص های ورودی
 د. شاخص های نتایج

۳۲. آخرین مرحله ایجاد یک سیستم جامع سنجش عملکرد کدام است؟

- الف. گزارش عملکرد
 ب. تعیین اهداف عملکرد
 ج. تحلیل داده ها و ارزیابی عملکرد
 د. ارزیابی شاخص ها

تعداد سوالات: تستی: ۴۰ تشریحی: —
 زمان آزمون (دقیقه): تستی: ۵۵ تشریحی: —

نام درس: نحوه تنظیم و کنترل بودجه ریزی
 رشته تحصیلی / کد درس: مدیریت بازرگانی - ۱۲۱۴۰۷۹

مجاز است.

استفاده از: —

کد سری سؤال: یک (۱)

۳۳. کدامیک از موارد ذیل جزء ابزارهای گردآوری داده‌ها می‌باشد؟

الف. گزارشات سالیانه ب. سوابق سازمانی ج. پرونده ثبت فعالیت‌ها د. سیستم‌های مدیریت اطلاعات

۳۴. یکی از شیوه‌های مقبول برای محاسبه هزینه‌های فعالیت‌های برنامه و ساعات کاری است؟

الف. مشخص کردن نرخ اضافه کاری ب. تعیین هزینه مبتنی بر فعالیت

ج. استخدام نیروهای فعال و متخصص د. استفاده از برنامه تقسیم وظایف

۳۵. کدام مورد ذیل جزء عناصر تشکیل دهنده استراتژی استقرار بودجه عملیاتی می‌باشد؟

الف. روش‌های گزارش مدیریت فرآیند ب. مدیریت فرآیند تدارکات و دارایی‌ها

ج. تأکید بر اهداف و مقاصد د. تشخیص ضرورت و لزوم ایجاد تغییر

۳۶. کدامیک از کشورهای زیر به تصویب قانون مسئولیت بودجه‌ای در سال ۱۹۹۴، پیش‌تاز بوده است؟

الف. آمریکا ب. استرالیا ج. ژلاندنو د. انگلستان

۳۷. دومین سطح سلسله مراتب ساختار فعالیت‌ها کدام است؟

الف. از سلسله مراتب برنامه‌ها تشکیل شده است. ب. ساختار فعالیت که به زیر برنامه‌ها تعلق دارد.

ج. حوزه‌های سیاست‌گذاری است. د. اطلاعات بودجه‌ای عملیاتی است.

۳۸. کدامیک از موارد زیر جزء قالب‌های اطلاعاتی بودجه می‌باشد؟

الف. ترانزنامه بودجه ب. اجراء بودجه

ج. تصویب بودجه در مجلس د. نظارت و کنتر

۳۹. میزان اتکاء به استخدام و ترفیع مبتنی بر شایسته سالاری و سطح توسعه‌یافته‌ی ادارات دولتی را تعیین می‌کند.

الف. اثر بخشی تخصیصی ب. انضباط مالی

ج. آموزشی د. کارایی فنی

۴۰. جمله زیر به کدامیک از ویژگیهای شاخص‌های عملکرد اشاره دارد؟

« شاخص باید همواره اطلاعات دقیق و صحیحی ارائه دهد »

الف. مقایسه پذیری ب. وضوح ج. قابل اتکاء د. اعتبار

نام درس: مبانی جامعه شناسی مفاهیم اساسی ۱
 رشته تحصیلی / کد درس: علوم اجتماعی (کلیه گرایشها ۱۲۲۲۰۰۱) - آمار ۱۲۲۲۰۷۶ - آمار و کاربردها ۱۲۲۲۲۲۳ - اقتصاد (ستی ۱۲۲۲۱۳۹) زمان آزمون (دقیقه): تستی: ۶۵ تشریحی: --
 کتابداری (کارهانی ۱۲۲۲۰۷۱) - حسابداری (ستی ۱۲۲۲۰۷۰) - تجميع ۱۲۲۲۰۵ - روانشناسی (ستی - تجميع ۱۲۲۲۰۶۲) - علوم تربیتی (تجميع مشاوره ۱۲۱۱۳۵۹) - ریاضیات و کاربردها ۱۲۲۲۲۲۳
 کد سری سؤال: یک (۱) استفاده از: -- مجاز است

امام خمینی (ره): این محرم و صفر است که اسلام را زنده نگه داشته است.

- چرا جامعه‌شناسی در مقایسه با علوم دیگر از دقت علمی کمتری برخوردار است؟
 الف. زیرا به تازگی روشهای علمی در مطالعه رفتارهای اجتماعی به کار گرفته شده است
 ب. به دلیل این که موضوعات انسانی تغییرات اندکی دارد و روش علمی از دقت علمی کمتری برخوردار است
 ج. به دلیل پیچیدگی موضوعات انسانی با مسائل فراوان و تازگی استفاده از روشهای علمی در جامعه شناسی
 د. به دلیل این که روشهای علمی به کار گرفته شده در علم جامعه شناسی از قدمت طولانی برخوردار است.
- کدام جامعه شناس معتقد است که دانشمندان علوم اجتماعی تا حدودی برداشتهای ذهنی آنان بر پژوهش‌هایشان اثر می‌گذارد؟
 الف. امیل دورکیم ب. ماکس وبر ج. کارل مارکس د. هربرت اسپنسر
- در کدام شیوه گزینش، آزمایش‌کننده گروهها را به گونه‌ای نظم می‌دهد که در برابر هر شخص از گروه کنترل، یک فرد همانند او در هر کدام از گروههای آزمایش قرار گیرد؟
 الف. گزینش تصادفی ب. روش آزمایش
 ج. گزینش زوجهای همانند د. روش مشاهده
- وقتی گفته می‌شود جامعه شناس باید حقوق انسان مورد مطالعه اش را رعایت کرده به علایق و شایستگی‌هایش توجه کند، به کدام مشکل پژوهشی اشاره می‌شود؟
 الف. پیش بینی ناپذیری رفتار انسان ب. تغییر اوضاع اجتماعی
 ج. محدودیت‌های اخلاقی د. محدودیت آزمایشها
- کدام فرهنگ، دلالت بر الگوهای رفتاری آشکار و رسماً تایید شده دارد و کدام فرهنگ دلالت بر چیزهایی می‌کند که عملاً بر جامعه حاکم است؟ (ترتیب مهم است)
 الف. آرمانی - واقعی ب. واقعی - آرمانی ج. کلان - خرد د. خرد - کلان
- دانشمندان اجتماعی، ناهماهنگی در دگرگونی در حوزه مادی فرهنگ و حوزه ارزشها و باورهای فرهنگی را چه می‌نامند؟
 الف. ضربه فرهنگی ب. نسبیت فرهنگی ج. تأخر فرهنگی د. فرهنگ پذیری
- کدام پایگاه از آغاز تولد به فرد محول شده و عمدتاً بر زمینه‌های خانوادگی نوزاد استوار است؟
 الف. اکتسابی ب. انتسابی ج. محقق د. محول
- در کدام یک از حالت‌های نقش، فرد دچار اختلال فکری و بی‌نظمی می‌شود؟
 الف. تعارض نقش ب. فشار نقش ج. دلسردی از نقش د. شکست در ایفای نقش
- نظریه‌ی «خودآیین سانه» از کدام جامعه شناس می‌باشد؟
 الف. جورج مید هربرت ب. ماکس وبر
 ج. چارلز هارتون کولی د. کارل مارکس
- برای همه خصلتها و ویژگی‌هایی که معرف رفتار یک شخص است، چه اصطلاحی به کار برده می‌شود؟
 الف. شخصیت ب. خود ج. پویایی خود د. منش ملی

نام درس: مبانی جامعه شناسی مفاهیم اساسی ۱
 رشته تحصیلی / کد درس: علوم اجتماعی (کلیه گرایشها ۱۲۲۲۰۰۱) - آمار ۱۲۲۲۰۷۶ - آمار و کاربردها ۱۲۲۲۲۲۳ - اقتصاد (ستی ۱۲۲۲۱۳۹) زمان آزمون (دقیقه): تستی: ۶۵ تشریحی: --
 کتابداری (کارهانی ۱۲۲۲۰۷۱) - حسابداری (ستی ۱۲۲۲۰۷۰) - تجميع ۱۲۲۲۰۵۵ - روانشناسی (ستی - تجميع ۱۲۲۲۰۶۲) - علوم تربیتی (تجميع مشاوره ۱۲۱۱۳۵۹) - ریاضیات و کاربردها ۱۲۲۲۲۲۳
 کد سری سؤال: یک (۱) استفاده از: -- مجاز است.

۱۱. کدام گروه است که فرد انتخاب می‌کند و شخصاً به عضویت در آن علاقه مند است؟
 الف. مرجع ب. اختیاری ج. همدرد د. نخستین
۱۲. کدامیک از مسائل زیر، جزء مسائلی نیست که گروهها با آن روبه‌رو می‌شوند؟
 الف. انطباق ب. نظارت ج. گسستگی د. حفاظت
۱۳. به فرایند توسعه نظامی از هنجارها و پایگاهها و نقشهای مشخص و به هم پیوسته که جامعه آن را پذیرا شده، چه عنوانی اطلاق می‌گردد؟
 الف. نهاد ب. سازمان ج. انجمن د. نهادی شدن
۱۴. چرا میان نهادهای مختلف، روحیه‌ی رقابت وجود دارد؟
 الف. به دلیل اشتراک در کارکردهای اساسی ب. به دلیل اشتراک در قواعد رفتار
 ج. به دلیل اشتراک در مقوله نمادهای فرهنگی د. به دلیل اشتراک در اصول اعتقادی
۱۵. به شبکه نسبتاً وسیعی از روابط بین افراد که از طریق نسبی یا سببی و از طریق فرزند پذیری به یکدیگر مرتبط می‌شوند چه عنوانی اطلاق می‌شود؟
 الف. ساخت خانواده ب. جایگاه خانواده ج. خویشاوندی د. کارکرد خانواده
۱۶. دگرگونی در کدام بخش ساخت خانواده صنعتی، موجب شده تا فرزندان، هم‌یار اقتصادی محسوب شوند؟
 الف. بالا رفتن مستمر سطح آموزش و پرورش ب. دگرگونی در نقش فرزندان
 ج. وسایل جلوگیری از بارداری و مشاوره خانوادگی د. توقعاتی که هر یک از طرفین ازدواج از دیگری دارد
۱۷. آموزش و پرورش با چه روشی، به تداوم فرهنگ یک جامعه کمک می‌کند؟
 الف. همبستگی اجتماعی ب. انتقال فرهنگی
 ج. جامعه پذیری د. برجسب زنی
۱۸. وقتی معلمی، دانش آموزان را ملزم می‌کند که قسمتی از یک کتاب درسی را بخوانند و روز بعد آن را برای معلم بازگو کنند، از چه سبک آموزشی استفاده کرده است؟
 الف. رهنمودی ب. مشاوره‌ای ج. دستوری د. اختیاری
۱۹. کدام عبارت درباره تفاوت بین باورهای مربوط به سحر و جادو و مذهب درباره تندرستی، صحیح‌تر می‌باشد؟
 الف. جادو را انسانها کنترل می‌کنند و مذهب نیز تحت نظارت انسانها می‌باشد
 ب. جادو را انسانها کنترل می‌کنند اما مذهب تحت نظارت خداوند است
 ج. جادو تحت نظارت خداوند و ارواح است اما مذهب را انسانها کنترل می‌کنند
 د. جادو تحت نظارت خداوند و ارواح است و مذهب نیز تحت کنترل خداوند است

تعداد سوالات: تستی: ۴۰ تشریحی: --

رشته تحصیلی / کد درس: علوم اجتماعی (کلیه گرایشها ۱۲۲۲۰۰۱) - آمار ۱۲۲۲۰۷۶ - آمار و کاربردها ۱۲۲۲۲۲۳ - اقتصاد (ستتی ۱۲۲۲۱۳۹) زمان آزمون (دقیقه): تستی: ۶۵ تشریحی: --

کتابداری (کارهانی ۱۲۲۲۰۷۱) - حسابداری (ستتی ۱۲۲۲۰۷۰) - تجميع ۱۲۱۴۱۰۵ - روانشناسی (ستتی - تجميع ۱۲۲۲۰۶۲) - علوم تربیتی (تجميع مشاوره ۱۲۱۱۳۵۹) - ریاضیات و کاربردها ۱۲۲۲۲۲۳

مجاز است.

استفاده از: --

کد سری سؤال: یک (۱)

۲۰. پارسنز بیماری را، چگونه تعریف می‌کند؟

الف. بیماری عامل توجیه درآمد و موقعیت بالای پزشکان و نابرابری مراقبت بهداشتی است.

ب. نیروهای سیاسی و اقتصادی، ماهیت بیماری را در نظام سرمایه داری تعیین می‌کنند

ج. بیماری شکلی از رفتار انحرافی است که مانند جرم نیاز به پاسخ اجتماعی دارد

د. مشکلات حرفه‌ای و اقتصادی پرستاران، عامل عمده در تعریف بیماری می‌باشد.

۲۱. کدام یک از عبارتهای زیر درباره هنجارهای ممنوع و تجویز شده درست می‌باشد؟

الف. هنجارهای تجویز شده چیزهایی را مشخص می‌کنند که فرد مجاز به انجام ندادن آنهاست.

ب. هنجارهای ممنوع چیزهایی را مشخص می‌کنند که فرد مجاز به انجام دادن آنهاست.

ج. هنجارهای تجویز شده چیزهایی را مشخص می‌کنند که فرد مجاز به انجام دادن آنهاست.

د. هنجارهای تجویز شده و ممنوع چیزهایی را مشخص می‌کنند که فرد مجاز به انجام آنها نیست.

۲۲. نظارت اجتماعی غیررسمی در چه گروههای آشکار می‌شود و موثرترین عامل آن کدام است؟

الف. گروههای ثانویه - زخم زبان زدن

ب. گروههای نخستین - شایعه پراکنی

ج. گروههای ثانویه - تمسخر

د. گروههای نخستین - انحراف فردی

۲۳. رفتار دزدان و تبهکاران حرفه‌ای، جزء کدام یک از انواع انحراف به شمار می‌رود؟

الف. انحراف نخستین

ب. انحراف ثانوی

ج. انحراف فردی

د. انحراف گذرا

۲۴. چه نظامی افراد را با توجه به امتیازاتشان رتبه بندی می‌کند؟

الف. طبقه اجتماعی

ب. پایگاه اجتماعی

ج. قشر بندی اجتماعی

د. نمادهای منزلتی

۲۵. کدام طبقه اجتماعی، به جای برنامه ریزی برای آینده، نیازهای آتی خود را برطرف می‌کنند و سطح تحصیلاتشان پایین است؟

الف. متوسط

ب. پایین

ج. بالا

د. کاست

۲۶. چه تفاوتی در تعریف مارکس از طبقه اجتماعی با تعریف وبر از طبقه اجتماعی، وجود دارد؟

الف. مارکس صرفاً با ملاک منزلت تعریف می‌کند.

ب. وبر صرفاً با عنصر اقتصادی تعریف می‌کند.

ج. مارکس با عنصر قدرت و منزلت و ثروت تعریف می‌کند.

د. وبر با سه عنصر قدرت، ثروت و منزلت تعریف می‌کند.

۲۷. فردی که تغییر شغل می‌دهد بدون این که پایگاه اجتماعی او تغییر کند، دارای چه نوع تحرکی است؟

الف. عمودی

ب. افقی

ج. نزولی

د. صعودی

۲۸. در جامعه صنعتی، کدام پایگاه برای اکثریت جمعیت، بسیار مهم می‌باشد؟

الف. محول

ب. انتسابی

ج. محقق

د. خویشاوندی

نام درس: مبانی جامعه شناسی مفاهیم اساسی ۱
 رشته تحصیلی / کد درس: علوم اجتماعی (کلیه گرایشها ۱۲۲۲۰۰۱) - آمار ۱۲۲۲۰۷۶ - آمار و کاربردها ۱۲۲۲۲۲۳ - اقتصاد (ستی ۱۲۲۲۱۳۹) زمان آزمون (دقیقه): تستی: ۶۵ تشریحی: --
 کتابداری (کارهانی ۱۲۲۲۰۷۱) - حسابداری (ستی ۱۲۲۲۰۷۰) - تجميع ۱۲۲۲۰۵۵ - روانشناسی (ستی - تجميع ۱۲۲۲۰۶۲) - علوم تربیتی (تجميع مشاوره ۱۲۱۱۳۵۹) - ریاضیات و کاربردها ۱۲۲۲۲۲۳
 کد سری سؤال: یک (۱) استفاده از: -- مجاز است

۲۹. به نظر شما، حداکثر مدت حیات یک انسان چه نام دارد؟
- الف. امید به زندگی ب. باروری طبیعی ج. نسبت جنسی د. پهنه عمر
۳۰. کدام نظریه معتقد است که جمعیت به صورت تصاعد هندسی و مواد غذایی به صورت تصاعد حسابی افزایش می یابد؟
- الف. نظریه مرحله انتقالی ب. نظریه مالتوس ج. نظریه ثبات جمعیت د. نظریه افزایش جمعیت
۳۱. کدام یک از موارد زیر از ویژگی جامعه روستایی می باشد؟
- الف. ناهمگنی در افکار و امیال آداب و رسوم ب. تحرک طبقه ای بسیار شدید ج. جامعه ای آرام با تراکم جمعیت اندک د. شمار بالای نوآوری های فنی
۳۲. در نظریه بورگس، کارگران هر کدام منطقه ای شهر سکونت دارد؟
- الف. منطقه ۱ ب. منطقه ۲ ج. منطقه ۳ د. منطقه ۴
۳۳. عبارت زیر، جزء کدامیک از عوامل تعیین کننده رفتار جمعی محسوب می شود؟
- « هنگامی که فشاری بر جامعه تحمیل می شود، مردم اغلب برای یافتن راه حلی پذیرفتنی، به همکاری با یکدیگر ترغیب می شوند.»
- الف. زمینه ساختاری ب. فشار ساختاری ج. بسیج برای اقدام د. عوامل شتاب دهنده
۳۴. در چه زمانی، سرایت اجتماعی پدیدار می شود؟
- الف. هنگامی که جماعت در حالت برانگیختگی و هیجان است و واکنشها از یک شخص به شخص دیگر راه می یابد. ب. زمانی که جماعتها دارای رهبری تثبیت شده و الگوهای رفتاری مقبول بوده و به مسئولیت فردی عمل نمی کنند. ج. زمانی که افراد در میان جمع دچار هیجان می شوند و متوجه عواقب اعمال و رفتارشان هستند. د. زمانی که افراد جامعه به طور وسیعی، پیامی را در میان افراد رد و بدل می کنند و به واقعیت نزدیک می باشد.
۳۵. جماعتی که برای رسیدن به هدف خود خشونت به خرج می دهد و اموال عمومی را نابود می کند، جزء کدامیک از انواع جماعتها می باشد؟
- الف. هراسان ب. فعال ج. آشوبگر د. شورشی
۳۶. کدامیک از موارد زیر به تفاوت اصلی میان سازمان به شدت ساختمند و سازمان کمتر ساختمند، مربوط می شود؟
- الف. میزان خودمختاری در این دو نوع سازمان ب. سلسله مراتب کسب قدرت و مسئولیت ج. تخصصی شدن کارها در نظام دیوانسالاری د. رفتار غیرشخصی در نظام دیوانسالاری
۳۷. در کدام رهبری، تصمیم گیری سریع و کارآمد در آن، غالباً دشوار است؟
- الف. دموکراتیک ب. آمرانه ج. الیگارشسی د. مقتصدان

نام درس: مبانی جامعه شناسی مفاهیم اساسی ۱
 رشته تحصیلی / کد درس: علوم اجتماعی (کلیه گرایشها ۱۲۲۲۰۰۱) - آمار ۱۲۲۲۰۷۶ - آمار و کاربردها ۱۲۲۲۲۲۳ - اقتصاد (ستى ۱۲۲۲۱۳۹) زمان آزمون (دقیقه): ۶۵ تشریحی: ۶۵
 کتابداری (کارهانی ۱۲۲۲۰۷۱) - حسابداری (ستى ۱۲۲۲۰۷۰) - تجميع ۱۲۲۲۰۵ - روانشناسی (ستى - تجميع ۱۲۲۲۰۶۲) - علوم تربیتی (تجميع مشاوره ۱۲۲۱۳۵۹) - ریاضیات و کاربردها ۱۲۲۲۲۲۳
 کد سری سؤال: یک (۱) استفاده از: مجاز است.

۳۸. به نظر شما کدام یک از انواع اقتدار بر کیفیت‌های شخصی افراد مبتنی است؟

الف. قانونی ب. سنتی ج. رسمی د. فرهمندانه

۳۹. چه افرادی در زمینه رشد، برنامه ریزی و توسعه در اجتماع، بیشترین نفوذ را اعمال می‌کنند؟

الف. گروههای ذینفع ب. گروههای فشار ج. گروههای متنفذ د. گروههای نخبه

۴۰. کدام جنبش تلاش می‌کند که برخی از شئون جامعه را تغییر دهد، بدون این که قصد دگرگون کردن کامل جامعه را داشته باشد؟

الف. محافظه کار ب. اصلاح طلب ج. انقلابی د. واپس‌گرا

www.Sanjesh3.com

تعداد سوالات: تستی: ۴۰ تشریحی: --

نام درس: زبان تخصصی (۱)

زمان آزمون (دقیقه): تستی: ۶۰ تشریحی: --

رشته تحصیلی / گد درس: حسابداری (تجميع): ۱۲۱۴۱۰۷

مجاز است.

استفاده از:

خُد سری سوال: یک (۱)

امام خمینی^(ره): این محرم و صفر است که اسلام را زنده نگه داشته است.

1. The primary means of communicating important accounting information to users is called financial
 - a. conventions
 - b. copyrights
 - c. liabilities
 - d. statements
2. An economic entity is a unit that exists – for example a business, a hospital or a government body.
 - a. unusually
 - b. dependently
 - c. independently
 - d. invisibly
3. Accounting provides a vital service by supplying some information. "Vital" means
 - a. usual
 - b. consistent
 - c. important
 - d. balanced
4. Financial accounting generates report. "Generates" means
 - a. rejects
 - b. deletes
 - c. prevents
 - d. produces
5. A code of conduct that addresses whether everyday actions are right or wrong is called
 - a. ethics
 - b. principles
 - c. auditing
 - d. equities
6. Financial accounting uses measures to gauge the impact of business transactions on separate business entities.
 - a. estimated
 - b. credit
 - c. money
 - d. income
7. The process of recording financial transactions and keeping financial records is called
 - a. liquidity
 - b. book keeping
 - c. profitability
 - d. partnership
8. Having enough funds on hand to pay debts when they are due is called
 - a. partnership
 - b. liquidity
 - c. bookkeeping
 - d. profitability
9. A business owned by two or more people is called
 - a. venture
 - b. operation
 - c. profitability
 - d. partnership
10. Every company has two types of equities: creditor's equities and equities.
 - a. owner's
 - b. debtor's
 - c. seller's
 - d. buyer's

تعداد سوالات: تستی: ۴۰ تشریحی: --

نام درس: زبان تخصصی (۱)

زمان آزمون (دقیقه): تستی: ۶۰ تشریحی: --

رشته تحصیلی / کد درس: حسابداری (تجميع): ۱۲۱۴۱۰۷

مجاز است.

استفاده از: --

کد سری سؤال: یک (۱)

11. When revenues exceed expenses, the difference is called
 a. net loss b. net income c. net expenses d. net cost
12. The word refers to honesty candidness and the subordination of personal gain to service and the public trust.
 a. integrity b. enterprise
 c. profession d. component
13. The general is the file that contains all of a company's accounts arranged in order.
 a. ledger b. credit c. issue d. care
14. The financial statement that shows the assets, liabilities, and owner's equity of a business at a point in time is called
 a. ethics b. cash flow c. expenses d. balance sheet
15. The avoidance of all relationships that impair or appear to impair an accountant's objectivity is called
 a. revenues b. liabilities c. dependence d. independence
16. The assets that the owner takes out of business are called
 a. net losses b. net assets
 c. owner's withdrawals d. owner's investments
17. The system which is the backbone of accounting evolved during the renaissance.
 a. no - entry b. any - entry
 c. one - entry d. double - entry
18. An account has three parts: a title, a left side, and a right side which is called the side.
 a. credit b. loss c. cost d. debit
19. The general journal is used to record the details of each
 a. purchase b. transaction
 c. translation d. transportation
20. The word "profit" means the in owner's equity that results from business operations.
 a. losses b. increases c. decreases d. debts

تعداد سوالات: تستی: ۴۰ تشریحی: --

نام درس: زبان تخصصی (۱)

زمان آزمون (دقیقه): تستی: ۶۰ تشریحی: --

رشته تحصیلی / کد درس: حسابداری (تجميع): ۱۲۱۴۱۰۷

مجاز است.

استفاده از: --

کد سری سؤال: یک (۱)

21. The nominal accounts, oraccounts, show the accumulation of revenues and expenses over one accounting period.

- a. natural b. tangible c. temporary d. total

22. The place where transactions first enter the accounting records is journal which is also called the book of entry.

- a. late b. unusual c. original d. foreign

23. Many businesses last less than five years. "Last" means

- a. continue b. stop c. reduce d. finish

24. The process of determining when a sale takes place is called revenue recognition. "Takes place" means

- a. gives b. happens c. controls d. adjusts

25. Deferrals are used in two instances. "Instances" means

- a. cases b. firms c. losses d. receipts

26. In this company cash payments are likely to be less than the expenses. "likely" means

- a. real b. invisible c. probable d. impossible

27. There are two general ways of accomplishing accrual accounting. "Accomplishing" means

- a. doing b. avoiding c. cancelling d. preventing

28. "Carrying value" is the unexpired portion of the cost of an asset which is also called value.

- a. record b. written c. proper d. book

29. The decreases in owner's equity resulting from the costs of goods and services used up in the course of earning revenues are called

- a. losses b. expenses b. profits d. values

30. The difficulty associated with not knowing how long a business entity will survive is called.....

- a. contra account b. carrying value
c. adjusting entry d. continuity issue

تعداد سوالات: تستی: ۴۰ تشریحی: —

زمان آزمون (دقیقه): تستی: ۶۰ تشریحی: —

نام درس: زبان تخصصی (۱)

رشته تحصیلی / کد درس: حسابداری (تجميع): ۱۲۱۴۱۰۷

مجاز است.

استفاده از: —

کد سری سؤال: یک (۱)

39. Condensed income statements for external reporting can be in multi step or single – step form.

"Single – step" means

ب. چند مرحله‌ای

الف. بدون مرحله

د. دو مرحله‌ای

ج. یک مرحله‌ای

40. A measure of profitability that shows how efficiently a company uses its assets to produce income is called return on assets. "Return on assets" means

ب. بازده دارایی

الف. آینده دارایی

د. انسداد دارایی

ج. دارائی آتی

تعداد سوالات: نستی: ۴۰ تشریحی: --

زمان آزمون (دقیقه): نستی: ۸۰ تشریحی: --

نام درس: زبان تخصصی ۲

رشته تحصیلی / کد درس: حسابداری-۱۲۱۴۱۰۸

مجاز است.

استفاده از: --

کد سری سؤال: یک (۱)

امام خمینی^(ره): این محرم و صفر است که اسلام را زنده نگه داشته است.

Find the correct answers (a, b, c, or d) and mark them on your answer sheets.

- 1- The function of accounting is to provide useful.....information about economic entities.
 - a. social
 - b. biological
 - c. illegal
 - d. financial
- 2- Accounting theory has developed to.....changing demands and influences.
 - a. ignore
 - b. meet
 - c. divide
 - d. reject
- 3- occurrences of this sort are sometimes referred to as the economic consequences of accounting. "Sort" means.....
 - a. kind
 - b. supply
 - c. budget
 - d. variable
- 4- GAAP require many estimates, assumptions, and professional judgments by management and by.....
 - a. clerks
 - b. students
 - c. accountants
 - d. laborers
- 5- Financial statements must have credibility tousers.
 - a. no
 - b. few
 - c. external
 - d. only internal
- 6- Ethical behavior requires an assessment of whether a decision or action is "right or.....".
 - a. true
 - b. correct
 - c. left
 - d. wrong
- 7- Financial statements display either the financial position of the entity or one kind of changes in financial position of entity during a period of time. "Display" means.....
 - a. join
 - b. show
 - c. play
 - d. separat
- 8- In accounting, as in other areas of business, ethical dilemmas are encountered
 - a. never
 - b. seldom
 - c. frequently
 - d. not at any time
- 9- Accounting theory has been defined as a coherent set of..... principles.
 - a. logical
 - b. illogical
 - c. pure
 - d. public
- 10- over the years numerous organizations, committees, and interested individuals developed and published their frameworks. "Individuals" means.....
 - a. firms
 - b. companies
 - c. offices
 - d. persons

تعداد سوالات: نستی: ۴۰ تشریحی: --

نام درس: زبان تخصصی ۲

زمان آزمون (دقیقه): نستی: ۸۰ تشریحی: --

رشته تحصیلی / کد درس: حسابداری-۱۲۱۴۱۰۸

مجاز است.

استفاده از: --

کد سری سؤال: یک (۱)

11-The two primary qualities that make accounting information useful for decision making are.....and reliability.

- a. rejection b. relevance c. irrelevance d. irregularity

12- Investors and creditors can use the information on the income statement to..... the past performance of the enterprise.

- a. change b. vary c. increase d. evaluate

13-Economist J.R Hicks defined income as thevalue an entity can consume during a period and still be as well-off at the end as at the beginning.

- a. maximum b. little c. minimum d. slight

14-Assuming all other factors are equal, the income of the first company will be lower than **that** of the second. "That" refers to.....

- a. the income b. factors c. company d. other factors

15- Expenses take many forms, such asof goods sold, rent, and taxes.

- a. size b. cost c. price d. value

16-In the single-step statement, just two groupings exist:.....and expenses.

- a. losses b. events c. avenues d. revenues

17-The capital maintenance approach takes the net assets or capital values. "assets" means.....

- a.informations b. properties c. balances d. skeletons

18- A subsection reporting expenses of general administration is called "administrative or general.....".

- a. losses b. prices c. expenses d. profits

19-Decrease in equity from peripheral or incidental transactions of an entity is called.....

- a. gains b. taxes c. losses d. profits

20-Do not assume that management accounting focuses **exclusively** on internal parties.

"Exclusively" means.....

- a. only b. rapidly c. slowly d. quickly

تعداد سوالات: نستی: ۴۰ تشریحی: --

نام درس: زبان تخصصی ۲

زمان آزمون (دقیقه): نستی: ۸۰ تشریحی: --

رشته تحصیلی / کد درس: حسابداری-۱۲۱۴۱۰۸

مجاز است.

استفاده از: --

کد سری سؤال: یک (۱)

21-The manner by which individuals or groups learn about and value the attributes of products or services and purchase them is called.....

- a. operating b. production c. Distribution d. Marketing

22-The detailed planning and engineering of products, services or processes is called".....of products, services or processes".

- a. design b. control c. cost d. loss

23- What measures and reports financial information and other types of information that assist managers in fulfilling the goals of the organization is called.....

- a. production b. value chain c. marketing d. management accounting

24-This chapter explains several widely recognized cost concepts and terms. "Terms" means.....

- a. worlds b. words c. sales d. sentences

25-The timemust be specified in major assumptions.

- a. Piece b. span c. area d. rent

26- The assigning of indirect costs to the chosen cost object is called.....

- a. cost driver b. cost object c. cost allocation d. cost assignment

27- Those activities that customers perceive as adding value to the products or services they purchase are called.....activities.

- a. fixed b. variable c. value-added d. work-in-process

28-Operating income = Total revenues-Total.....

- a. losses b. costs c. profits d. interests

29- The abbreviation of USP in accounting stands for "unit selling....."

- a. price b. piece c. product d. person

30- The operating income plus nonoperating revenues minus nonoperating cost minus income taxes is called.....

- a. CVP b. FC c. net loss d. net income

31-R&D stands for Research and Development. "Research and Development" means.....

- الف. جستجو و کاوش ب. پژوهش و ارتباط ج. توصیه و تحقیق د. تحقیق و توسعه

تعداد سوالات: نستی: ۴۰ تشریحی: --

نام درس: زبان تخصصی ۲

زمان آزمون (دقیقه): نستی: ۸۰ تشریحی: --

رشته تحصیلی / کد درس: حسابداری-۱۲۱۴۱۰۸

مجاز است.

استفاده از: --

کد سری سؤال: یک (۱)

32-Customer satisfaction is priority one. "Satisfaction" means.....

- الف. رضایت ب. منفعت ج. خیانت د. وجاهت

33-Management accountants and controllers are staff management in most organizations.

Accountants means.....

- الف. کامپان ب. حسابرسان ج. حسابداران د. ناظران

34-Probable future economic benefits obtained or controlled by a particular entity as a result of past transactions are called assets. "Benefits" means.....

- الف. دارایی ها ب. بدهی ها ج. هزینه ها د. سودها

35-Increases in equity from peripheral transactions of an entity are called gains. "Gains" means.....

- الف. منافع تخیلی ب. ضرر آنی ج. سود عملیاتی د. سود غیر عملیاتی

36-Managers prefer to make decisions on the basis of direct costs rather than indirect costs.

"Rather than " means.....

- الف. در خلال ب. بجای ج. کمتر از د. هنگامی که

37-If Iran Khodro Co buys a steering wheel at \$60 for each of Samand cars, then the total cost of steering wheels should be \$60 times the number of cars assembled. "Assembled" means.....

- الف. فروخته شده ب. تولید شده ج. مونتاژ شده د. خراب شده

38- A relevant range is the range of the cost driver in which a specific relationship between cost and driver is valid. "Valid" means.....

- الف. معتبر ب. نا معتبر ج. متغیر د. ثابت

39- Noncapitalized costs are recorded as expenses of the accounting period when they are incurred. "Noncapitalized" means.....

- الف. سود ده ب. غیر سودمند ج. سرمایه ای نشده د. سرمایه ای شده

نام درس: زبان تخصصی ۲

رشته تحصیلی / کد درس: حسابداری-۱۲۱۴۱۰۸

تعداد سوالات: تستی: ۴۰ تشریحی: --

زمان آزمون (دقیقه): تستی: ۸۰ تشریحی: --

کد سری سؤال: یک (۱)

استفاده از: --

مجاز است.

40-The **breakeven point** is where the total revenues line and total costs line intersect. "Breakeven point" means..... .

د. سرتاسر نقطه ها

ج. نقطه سرتاسری

ب. نقطه سربه سر

الف. نقطه سراسری

www.Sanjesh3.com

نام درس: مبانی و اصول سازمان و مدیریت (مبانی مدیریت و سازماندهی - اصول مدیریت و سازماندهی)
رشته تحصیلی / گد درس: مدیریت بازرگانی (ستتی)، جبرانی ارشد (MBA، اجرایی) ۱۲۱۸۱۱۸
مدیریت صنعتی (ستتی) ۱۲۱۸۰۶۴ - کتابداری ۱۲۱۸۰۹۶ - مدیریت دولتی (ستتی، جبرانی ارشد) ۱۲۱۸۰۲۶ - مدیریت جهانگردی ۱۲۱۸۰۰۷
حسابداری (ستتی) ۱۲۱۸۰۹۱ - مهندسی صنایع (ستتی، تجمیع) ۱۲۱۸۱۰۲ - علوم اجتماعی (مددکاری اجتماعی) ۱۲۲۲۱۴۵ - اقتصاد (ستتی) ۱۲۱۸۱۸۲
علوم اجتماعی (برنامه ریزی اجتماعی تعاون و رفاه) ۱۲۲۲۱۸۷
گد سری سؤال: یک (۱)
استفاده از:
مجاز است.

امام خمینی^(ره): این محرم و صفر است که اسلام را زنده نگه داشته است.

۱. کدام یک از گزینه های زیر در برگیرنده احساسات، عواطف، ارزشها، اعتقادات و منافع کارکنان است؟
الف. محیط داخلی سازمان
ب. محیط خارجی سازمان با تأثیر مستقیم
ج. محیط خارجی سازمان با تأثیر غیرمستقیم
د. دینفعان سازمان
۲. توسط کدامیک از گزینه های زیر می توانند نیازها و انگیزه های افراد را درک و آنان را به مشارکت در تصمیم گیری تشویق نمایند؟
الف. مهارت های انگیزشی
ب. مهارت های فنی
ج. مهارت های ادراکی
د. مهارت های انسانی
۳. کدامیک از گزینه های زیر از مشخصه های مدیریت بوروکراتیک می باشد؟
الف. شخصی بودن
ب. تمرکز
ج. تقسیم کار
د. وحدت فرماندهی
۴. عبارت «الگوهای رفتاری مورد انتظار از هر فرد در یکسازمان» بیانگر تعریف کدامیک از گزینه های زیر است؟
الف. مدل
ب. نقش
ج. مهارت
د. یادگیری
۵. کدامیک از گزینه های زیر تعریف صحیح ارزش مورد انتظار می باشد؟
الف. ارزش مورد انتظار عبارت است از مجموع حاصلضرب احتمال وقوع شرایط محیطی در نتیجه پیش بینی شده در راه حل.
ب. ارزش مورد انتظار عبارت است از مجموع حاصلضرب احتمال وقوع شرایط محیطی در میزان زیان دهی.
ج. ارزش مورد انتظار عبارت است از مجموع حاصلضرب احتمال وقوع شرایط مخاطره در حداکثر سوددهی.
د. ارزش مورد انتظار عبارت است از مجموع حاصلضرب احتمال وقوع شرایط مخاطره در حداکثر زیان دهی.
۶. عدم رعایت کدامیک از اصول مدیریت موجب تضاد، کشمکش، ضعف انضباط و به خطر افتادن اصل اختیار در سازمان می شود؟
الف. تقسیم کار
ب. انضباط
ج. وحدت جهت
د. وحدت فرماندهی
۷. کدامیک از ویژگی های مدیریت بوروکراتیک موجب می شود که مدیران زیردستان خود را بطور عینی و بر اساس عملکرد تخصص آنان ارزشیابی کنند؟
الف. قوانین و مقررات
ب. غیرشخصی بودن
ج. ساختار سلسله مراتبی
د. ساختار اختیار
۸. کدامیک از گزینه های زیر به مفهوم کاربرد یک نگرش علمی برای حل مسایل مدیریتی است؟
الف. سیستم های اطلاعات مدیریت
ب. مدیریت عملیاتی
ج. علم مدیریت
د. نگرش سیستمی
۹. هرگاه مدیری مسئله ای را بشناسد و برای شناخت راه حل های ممکن به اندازه ای اطلاعات داشته باشد که بتواند احتمال کسب نتیجه مطلوب از هر راه حل را تخمین بزند در کدامیک از شرایط تصمیم گیری قرار دارد؟
الف. اطمینان
ب. عدم اطمینان
ج. مخاطره
د. ابهام

نام درس: مبانی و اصول سازمان و مدیریت (مبانی مدیریت و سازماندهی - اصول مدیریت و سازماندهی)
 رشته تحصیلی / کد درس: مدیریت بازرگانی (ستتی)، جبرانی ارشد (MBA، اجرایی) ۱۲۱۸۱۱۸
 مدیریت صنعتی (ستتی) ۱۲۱۸۰۶۴ - کتابداری ۱۲۱۸۰۹۶ - مدیریت دولتی (ستتی، جبرانی ارشد) ۱۲۱۸۰۲۶ - مدیریت جهانگردی ۱۲۱۸۰۰۷
 حسابداری (ستتی) ۱۲۱۸۰۹۱ - مهندسی صنایع (ستتی، تجمیع) ۱۲۱۸۱۰۲ - علوم اجتماعی (مددکاری اجتماعی) ۱۲۲۲۱۴۵ - اقتصاد (ستتی) ۱۲۱۸۱۸۲
 علوم اجتماعی (برنامه ریزی اجتماعی تعاون و رفاه) ۱۲۲۲۱۸۷
 کد سری سؤال: یک (۱)
 استفاده از:
 مجاز است.

۱۰. متغیرهای روش تحلیل نقطه سربه سر کدامند؟
 الف. تولید سود، هزینه
 ب. تولید، درآمد، هزینه
 ج. درآمد، سود، هزینه
 د. هزینه ثابت، هزینه متغیر، هزینه کل
۱۱. کدامیک از گزینه‌های زیر از مزایای تصمیم‌گیری گروهی است؟
 الف. افزایش مشروعیت
 ب. صرف وقت بیشتر
 ج. تسلط اقلیت
 د. مسئولیت مبهم
۱۲. کدامیک از گزینه‌های زیر بهترین تصمیم‌گیرنده را ایجاد می‌کند تا مدیران در محدوده آنها تصمیم‌های آتی را اتخاذ کنند؟
 الف. خط مشیها
 ب. روشها
 ج. قوانین
 د. پروژهها
۱۳. کدامیک از گزینه‌های زیر گروهی موقت از مدیران هستند که از قسمتهای مختلف سازمان گرد هم جمع می‌شوند و مسئولیت تنظیم برنامه را بر عهده دارند؟
 الف. مدیران سازمان
 ب. گروه ضربت برنامه ریزی
 ج. متخصصان برنامه ریزی
 د. گروه ستاد برنامه ریزی
۱۴. در کدامیک از گزینه‌های زیر مدیران فرض می‌کنند که روندهای گذشته بدون تغییر در آینده ادامه می‌یابد؟
 الف. شیوه نظرات هیئت مدیران اجرایی
 ب. شیوه برآورد نیروی فروش
 ج. شیوه تحلیل توالی زمانی
 د. پیش‌بینی فروش
۱۵. در کدام فرآیند سازماندهی وظایف بطور منطقی و کارآمد تفکیک می‌شوند؟
 الف. تقسیم کار
 ب. واحد سازی
 ج. هماهنگی
 د. فرماندهی
۱۶. ساختار ماتریسی در چه سازمانهایی کاربرد دارد؟
 الف. سازمانهایی با برنامه‌های کوتاه مدت
 ب. سازمانهایی با برنامه‌های بلند مدت
 ج. سازمانهایی با ساختار بلند
 د. سازمانهایی با ساختار پهن
۱۷. کدامیک از منابع قدرت بر اجبار نفوذپذیر به پذیرش قدرت دلالت دارد؟
 الف. قدرت پاداش
 ب. قدرت اجبار
 ج. قدرت قانونی
 د. قدرت تخصص
۱۸. کدامیک از گزینه‌های زیر بین فعالیتهای مدیر و زیردستان هماهنگی ایجاد می‌کند؟
 الف. هماهنگی افقی
 ب. هماهنگی عمودی
 ج. هماهنگی مورب
 د. هماهنگی زیاد
۱۹. چارچوب نظریه دو عاملی انگیزش با کدامیک از گزینه‌های زیر مطابقت می‌کند؟
 الف. سلسله مراتب نیازهای مازلو
 ب. نظریه رشدیافتگی و رشد نیافتگی
 ج. نظریه ای.آر.جی
 د. نظریه نیازهای اکتسابی

نام درس: مباني و اصول سازمان و مديريت (مباني مديريت و سازماندهي - اصول مديريت و سازماندهي)
 رشته تحصيلي / گد درس: مديريت بازرگاني (ستى)، جبراني ارشد (MBA، اجرايي) ۱۲۱۸۱۱۸
 مديريت صنعتي (ستى) ۱۲۱۸۰۶۴ - كتابداري ۱۲۱۸۰۹۶ - مديريت دولتي (ستى، جبراني ارشد) ۱۲۱۸۰۲۶ - مديريت جهانگردى ۱۲۱۸۰۰۷
 حسابداري (ستى) ۱۲۱۸۰۹۱ - مهندسي صنايع (ستى، تجميع) ۱۲۱۸۱۰۲ - علوم اجتماعي (مددكاري اجتماعي) ۱۲۲۲۱۴۵ - اقتصاد (ستى) ۱۲۱۸۱۸۲
 علوم اجتماعي (برنامه ريزي اجتماعي تعاون و رفاه) ۱۲۲۲۱۸۷
 گد سري سوال: يك (۱)
 استفاده از:
 مجاز است.

۲۰. کداميك از گزينه‌هاى زير به معناى اقدامات و فعاليتهايى است كه رهبر براى هماهنگ كردن كار اعضاى گروه (سازمان) انجام مى‌دهد؟

الف. نقش رهبرى ب. سبك رهبرى ج. رفتار رهبرى د. وظيفه رهبرى

۲۱. کداميك از گزينه‌هاى زير در مورد هدفهاى ساختار سازمانى صحيح است؟

الف. توزيع اطلاعات به مديران مربوطه تا ميزان آگاهي آنان هنگام تصميم‌گيري افزايش يابد.

ب. جهت دادن اطلاعات به سوي مديران مربوطه تا ميزان عدم اطمينان آنان هنگام تصميم‌گيري کاهش يابد.

ج. تعيين و كنترل اختيار براى تصميم‌گيري به طور موثر به صورتى كه اعضاى سازمان بتوانند بدون دردسر و با انسجام در هر سطحى برنامه‌هاى خود را اجراء كنند.

د. توزيع روابط ميان واحدهاى كارى به طوري كه اطمينان حاصل شود كه كليها كارها به شيوه‌اى منظم و مرتب واگذار و اجرا شده است.

۲۲. کداميك از گزينه‌هاى زير بيانگر غايت اساسى سازمان براى موجوديت آن مى‌باشد؟

الف. اهداف سازمانى ب. خط‌مشی سازمانى ج. بيان مأموريت سازمانى د. مأموريت سازمانى

۲۳. وسيع‌تر يا محدودتر بودن حيطه نظارت به کداميك از عوامل زير بستگى دارد؟

الف. تمرکز و عدم‌تمرکز ب. وحدت فرماندهي ج. پيچيدگي كار د. سلسله مراتب

۲۴. زنجيره فرماندهي بر کدام دو اصل استوار است؟

الف. وحدت فرماندهي، حيطه نظارت

ج. وحدت فرماندهي، سلسله مراتب

۲۵. وقتى سازمان از پيچيدگي خاص و كثرت وظيفاى برخوردار باشد کدام ستاد ضرورت پيدا مى‌كند؟

الف. ستاد عمومى ب. ستاد شخصى ج. ستاد تخصصى د. ستاد مشورتى

۲۶. کداميك از گزينه‌هاى زير بر نيازهاى درونى كه موجب برانگيختن رفتار مى‌شود، تأكيد دارد؟

الف. نظريه‌هاى ابتدائى

ج. نظريه‌هاى فرايندى

۲۷. اين عبارت تعريف کدام گزينه زير است؟

«افراد به نوبت در مشاغل مختلف مى‌گردند و ضرورى نيست كه فقط يك كار آسان و تخصصى شده را در مدت طولانى انجام دهند.»

الف. چرخش كار ب. توسعه شغل ج. غنى‌سازى شغل د. دقت كارى

۲۸. طبق نظر فيدلر در صورتى كه موقعيت بسيار مطلوب و بسيار نامطلوب باشد کدام سبك رهبرى موثر خواهد بود ؟

الف. آمرانه ب. رابطه مدار ج. وظيفه مدار د. انسان گرا

۲۹. در نظريه چرخه زندگى وقتى سبك رهبرى هم رفتار آمرانه و هم رفتار حمايت كننده دارد نمايانگر کدام سبك رهبرى است؟

الف. آمرانه ب. متقاعد كننده ج. مشاركتى د. تفويضى

نام درس: مبانی و اصول سازمان و مدیریت (مبانی مدیریت و سازماندهی - اصول مدیریت و سازماندهی)
رشته تحصیلی / گد درس: مدیریت بازرگانی (ستتی)، جبرانی ارشد (MBA، اجرایی) ۱۲۱۸۱۱۸
مدیریت صنعتی (ستتی) ۱۲۱۸۰۶۴ - کتابداری ۱۲۱۸۰۹۶ - مدیریت دولتی (ستتی، جبرانی ارشد) ۱۲۱۸۰۲۶ - مدیریت جهانگردی ۱۲۱۸۰۰۷
حسابداری (ستتی) ۱۲۱۸۰۹۱ - مهندسی صنایع (ستتی، تجميع) ۱۲۱۸۱۰۲ - علوم اجتماعی (مددکاری اجتماعی) ۱۲۲۲۱۴۵ - اقتصاد (ستتی) ۱۲۱۸۱۸۲
علوم اجتماعی (برنامه ریزی اجتماعی تعاون و رفاه) ۱۲۲۲۱۸۷
گد سری سؤال: یک (۱)
استفاده از:
مجاز است.

۳۰. کدام یک از انواع ارتباطات به افراد اجازه می دهد که با سرعت دلخواه از اطلاعات استفاده کنند و هر قسمت از آن را که دشوار است دوباره تکرار کنند؟

الف. کتبی ب. غیرکلامی ج. شفاهی د. الکترونیکی

۳۱. فرآیندی که در آن اطلاعات را به شکلی در می آورند تا سایرین بتوانند آن را دریافت و درک کنند، چه نامیده می شود؟

الف. رمزگذاری ب. رمزگشایی ج. بازخورد د. پارازیت

۳۲. در کدام شبکه از الگوهای ارتباط غیررسمی احتمال تحریف پیام ها بیشتر است؟

الف. شبکه خوشه ای ب. شبکه رشته ای ج. شبکه تصادفی د. شبکه تابشی

۳۳. هدایت سرپرست چه نوع نظارتی است؟

الف. نظارت آینده نگر ب. نظارت همزمان ج. نظارت راهکاری د. نظارت گذشته نگر

۳۴. کدامیک از موارد زیر جزء موانع فردی خلاقیت است؟

الف. قوانین ب. آداب و رسوم ج. مطابقت د. عدم انعطاف پذیری

۳۵. کدامیک از گزینه های زیر «فرآیندی است که اجرای موفقیت آمیز برنامه ها را در سطح واحدها، با توجه به عوامل ویژه داخلی و خارجی که بر چنین برنامه هایی تاثیر دارند، تضمین می کند» می باشد؟

الف. نظارت گذشته نگر ب. نظارت راهبردی ج. نظارت راهکاری د. نظارت عملیاتی

۳۶. در فرآیند نظارت کارآمد، زمانی که مغایرتی بین عملکرد و استاندارد مشاهده شود و بخواهند عملکرد سازمانی را در جهت استانداردها پیش ببرند، چه اقدامی صورت می گیرد؟

الف. تأیید عملکرد ب. تغییر سازمانها ج. سنجش عملکرد د. اقدام اصلاحی

۳۷. کدامیک از گزینه های زیر جزء شیوه های همکاری خلاق گروهی محسوب می شود؟

الف. فن دلفی ب. ملاقاتهای الکترونیکی

ج. تلفیق متجانسها د. توفان مغزی

۳۸. اولین مرحله فرآیند نظارت کدامیک از گزینه های زیر می باشد؟

الف. مقایسه عملکرد با استاندارد ب. تعیین استانداردها

ج. سنجش عملکرد د. اقدام کردن

۳۹. کدامیک از گزینه های زیر نشان دهنده مراحل رمزگشایی است؟

الف. درک پیام، تفسیر پیام ب. دریافت پیام، تفسیر پیام

ج. تفسیر پیام، دریافت پیام د. دریافت پیام، درک پیام

۴۰. روانشناسان اعتقاد دارند که در کدام مرحله فرآیند خلاقیت ذهن ناخودآگاه شروع به فعالیت می کند؟

الف. اشراق ب. اثبات ج. نهفتگی د. آمادگی

تعداد سوالات: تستی: ۳۰ تشریحی: --

زمان آزمون (دقیقه): تستی: ۴۵ تشریحی: --

نام درس: مبانی مدیریت دولتی ۱

رشته تحصیلی / کد درس: مدیریت دولتی (۱۲۱۸۰۲۷)

مجاز است.

استفاده از: --

کد سری سؤال: یک (۱)

امام خمینی (ع): این محرم و صفر است که اسلام را زنده نگه داشته است.

۱. کدامیک از تعاریف زیر درباره اداره صحیح است؟

الف. اقدامی دسته جمعی و گروهی و مبتنی بر همکاری است.

ب. فقط یک هدف باید در آن در نظر گرفته شود.

ج. هدف‌ها می‌توانند مشخص و معین نباشند.

د. تصمیمات نمی‌توانند هم جنبه اجرایی و هم جنبه سیاسی را در برگیرند.

۲. فیلیپ سلز نیک با اتکا به هر دو جنبه رسمی و غیر رسمی سازمان اعتقاد داشت که سازمان با ترکیب معتقدات و ارزشهای فردی و اجتماعی تبدیل به کدامیک از گزینه‌های زیر می‌شود؟

الف. مؤسسه اجتماعی

ب. یک سلسله وسایل و ابزار فنی

ج. سازمان رسمی

د. دیوان سالاری

۳. کدامیک از گزینه‌های زیر از ویژگی‌های علوم اجتماعی است؟

الف. استمرار قانون مندی‌های حاکم بر واقعیت‌های اجتماعی

ب. یک بعدی بودن واقعیت‌ها

ج. قرار گرفتن محقق در زیر بار ارزش‌ها

د. کمی بودن واقعیت‌ها

۴. مجموع اعمال و مداخلاتی که انسان در واقعیت‌های مورد نظر خود می‌کند و شامل فعالیت‌هایی چون مشاهده تجزیه و ترکیب و اندازه‌گیری، ثبت و ... است چه نام دارد؟

الف. فرضیه

ب. نظریه

ج. تجربه

د. قانون عملی

۵. در دوره قبل از ۱۹۴۰ (معتقدان به جدایی اداره از سیاست)، هدف اصلی علم اداره را چه می‌دانستند؟

الف. رفتار سازمانی

ب. کارآیی

ج. اثربخشی

د. هنر مدیریت

۶. وجود کدامیک از گزینه‌های زیر از نشان دهنده عدم وجود جدایی بین سیاست و اداره در ایران است؟

الف. وجود قوای مجریه - مقننه و قضائیه

ب. تقدیم لایحه از طرف دولت به مجلس

ج. نظارت شورای نگهبان بر مصوبات مجلس

د. ابلاغ تصمیمات هیأت دولت به سازمان‌های اجرایی

۷. کدامیک از گزینه‌های زیر از انتقادهای وارد بر نظریه‌های کلاسیک است؟

الف. توجه به عوامل محیطی

ب. توجه به اثربخشی بیشتر از کارآیی

ج. توجه به روابط غیر رسمی افراد در سازمان

د. توجه به اجزای سازمان به طور جداگانه و عدم تصور سازمان به صورت یک کل

تعداد سوالات: تستی: ۳۰ تشریحی: --
 زمان آزمون (دقیقه): تستی: ۴۵ تشریحی: --

نام درس: مبانی مدیریت دولتی ۱
 رشته تحصیلی / کد درس: مدیریت دولتی (۱۲۱۸۰۲۷)

مجاز است.

استفاده از: --

کد سری سؤال: یک (۱)

۸. این جمله که در یک سازمان زمانی کارآو پویاست که کار دسته جمعی همه اعضای آن در راستای دستیابی به هدف مشخص سازمان انجام پذیرد " ناظر بر کدامیک از اصول فایده است؟

الف. تمرکز ب. تقدم منافع سازمان بر منافع فردی

ج. وحدت فرماندهی د. وحدت جهت

۹. تیلور استفاده از چه نوع سرپرستی را در سازمان توصیه می کرد؟

الف. سرپرستی غیر تخصصی با استفاده از سرپرستی یک جانبه

ب. سرپرستی غیر تخصصی با استفاده از سرپرستی چند جانبه

ج. سرپرستی تخصصی با استفاده از سرپرستی یک جانبه

د. سرپرستی تخصصی با استفاده از سرپرستی چند جانبه

۱۰. براساس اصول روابط انسانی حاصل از فلسفه التون مایو، اساس سرپرستی مؤثر کدامیک از گزینه های زیر است؟

الف. جایزه ها و جریمه ها ب. فراهم بودن شرایط فیزیکی

ج. مشارکت دادن کارکنان در تصمیم گیری د. توجه به کارآیی و اثربخشی

۱۱. بالاترین و والاترین نیاز انسان براساس سلسله مراتب نیازهای مازلو کدامیک از گزینه های زیر است؟

الف. نیاز به امنیت ب. نیاز به خودیابی

ج. نیاز به احترام د. نیازهای گروهی

۱۲. کدامیک از گزینه های زیر از فرضیه های تئوری Y است؟

الف. فرد در کار مناسب، خود کنترل و خود انگیزه است. ب. انسان هدایت شدن را بر قانع به ذات بودن ترجیح می دهد.

ج. بشر معمولی ذاتاً از کار بیزار است. د. انسان بیشتر خواهان تأمین است تا غرور

۱۳. براساس تئوری هرزبرگ، کدامیک از گزینه های زیر بر عوامل محرک دلالت دارد؟

الف. نارضایتی در ارتباط با این عوامل است.

ب. قدرت ایجاد انگیزه ندارند.

ج. در ایجاد رضایت سطح بالاتر نیازها دخالت دارند.

د. امنیت کاری، شرایط کاری و سطح حقوق و دستمزد از جمله موارد آن است.

۱۴. براساس کدامیک از گزینه های زیر «تنها یک بهترین راه» وجود ندارد؟

الف. کلاسیک ب. نئوکلاسیک

ج. سیستم ها د. اقتضایی

۱۵. کدامیک از گزینه های زیر از مشخصات نظام اداری دوران پهلوی است؟

الف. ثبات مقام های سازمانی ب. تغییر مکرر تشکیلات سازمان ها

ج. عدم وجود سازمان های متداخل د. عدم تمرکز اختیارات در سازمان مرکزی

۱۶. کدامیک از گزینه های زیر از مصادیق حکومت عده ای بی شمار است؟

الف. آنارشی ب. آریستوکراسی

ج. دیکتاتوری د. ملوک الطوائفی

تعداد سوالات: تستی: ۳۰ تشریحی: --

زمان آزمون (دقیقه): تستی: ۴۵ تشریحی: --

نام درس: مبانی مدیریت دولتی ۱

رشته تحصیلی / کد درس: مدیریت دولتی (۱۲۱۸۰۲۷)

مجاز است.

استفاده از: --

کد سری سؤال: یک (۱)

۱۷. ریاست شورای عالی امنیت ملی و عزل وزیران به ترتیب به عهده کدام مرجع زیر است؟
- الف. رئیس جمهور - رئیس مجلس
ب. رئیس مجلس - رئیس جمهور
ج. رئیس قوه قضائیه - رئیس جمهور
د. رئیس جمهور - رئیس مجلس
۱۸. انتخاب وزیر دادگستری در ایران چگونه است؟
- الف. انتخاب مستقیم رئیس جمهور
ب. پیشنهاد رئیس قوه قضائیه به رئیس جمهور
ج. پیشنهاد رئیس مجلس به رئیس جمهور
د. پیشنهاد شورای عالی قضایی به رئیس جمهور
۱۹. کدامیک از گزینه‌های زیر به نارسایی‌های ناشی از عدم سازماندهی صحیح در نظام اداری جمهوری اسلامی ایران دلالت دارد؟
- الف. عدم صراحت اهداف
ب. تعدد مراکز تصمیم‌گیری
ج. مشخص نبودن اولویت‌ها
د. آغاز تصمیمات یک جانبه
۲۰. در کدامیک از فرم‌های زیر، شرایط و خصوصیات لازم برای شاغل از جمله شرایط جسمانی، خصوصیات اجتماعی، روحی و توانایی فکری قید می‌شود؟
- الف. شرح شغل
ب. شرایط احراز مشاغل
ج. طبقه بندی مشاغل
د. کار شکافی
۲۱. کدامیک از گزینه‌های زیر درجه اهمیت نسبی مشاغل را نسبت به یکدیگر مشخص می‌کند؟
- الف. ارزشیابی مشاغل
ب. طبقه بندی مشاغل
ج. شرایط احراز مشاغل
د. شرح شغل
۲۲. در کدامیک از گزینه‌های زیر، در جلسات برنامه‌های آموزشی مدیران و سرپرستان مسایل عمده سازمان مطرح می‌شود و هر بار یکی از اعضا در نقش مسئول با مشکل مواجه و پس از اتهام هر جلسه، عملکرد افراد تحلیل می‌شود؟
- الف. روش تصمیم‌گیری
ب. آموزش گروهی
ج. ایفای نقش
د. گردش در مشاغل مختلف
۲۳. کدامیک از گزینه‌های زیر از نظر انضباطی شدت بیشتری دارا می‌باشد؟
- الف. انفصال دائم از خدمات دولتی
ب. اخراج از محل خدمت
ج. انفصال موقت
د. بازخرید خدمت
۲۴. براساس کدامیک از گزینه‌های زیر، ارقام منظور در بودجه باید به طور ناخالص قید گردد، یعنی درآمد وزارتخانه بدون کسر هزینه‌ها در بودجه منظور می‌شود؟
- الف. اصل وحدت
ب. اصل شمولیت
ج. اصل جامعیت
د. اصل تخصیص
۲۵. لایحه بودجه از چه بخش‌هایی تشکیل شده است؟
- الف. پیام - متن - پیوست‌ها
ب. متن - ماده واحده - تبصره‌ها
ج. متن - ضمایم
د. پیام - تبصره‌ها - پیوست‌ها
۲۶. اجازه‌ای که کتباً به وسیله مقامات مجاز وزارتخانه یا مؤسسه دولتی برای تأدیه تعهدات و بدهی‌ها از محل اعتبارات مربوط عهده ذی‌حساب در وجه ذی نفع صادر می‌شود، چه نام دارد؟
- الف. تأمین اعتبار
ب. تعهد
ج. تسجیل
د. حواله

تعداد سوالات: تستی: ۳۰ تشریحی: —

زمان آزمون (دقیقه): تستی: ۴۵ تشریحی: —

نام درس: مبنای مدیریت دولتی ۱

رشته تحصیلی / کد درس: مدیریت دولتی (۱۲۱۸۰۲۷)

مجاز است.

استفاده از: —

کد سری سؤال: یک (۱)

۲۷. مسئولیت تشخیص و تأمین اعتبار به ترتیب به عهده کدامیک از گزینه‌های زیر است؟

- الف. ذی حساب - رئیس مؤسسه
- ب. رئیس مؤسسه - ذی حساب
- ج. ذی حساب - ذی حساب
- د. رئیس مؤسسه - رئیس مؤسسه

۲۸. مسئولیت اعمال نظارت قضایی بر بودجه بر عهده کدامیک از گزینه‌های زیر است؟

- الف. وزارت امور اقتصادی و دارایی
- ب. خزانه
- ج. دیوان عدالت اداری
- د. دیوان محاسبات

۲۹. کدامیک از گزینه‌های زیر از خصوصیات مالیات‌های غیر مستقیم است؟

- الف. براساس درآمد و ثروت توسط شخص معینی پرداخت می‌شود.
- ب. بیشتر جنبه استمراری دارد.
- ج. قابلیت انتقال آنها بسیار محدود است.
- د. اشیاء و فعالیت‌ها مأخذ مالیات هستند.

۳۰. در کدامیک از گزینه‌های زیر، کلیه وظایف دولت به امور، فصل، برنامه و فعالیت و طرح تقسیم شده است؟

- الف. طبقه بندی هزینه‌ها
- ب. طبقه بندی سازمانی
- ج. طبقه بندی عملیات
- د. طبقه بندی اقتصادی

نام درس: روش تحقیق در مدیریت (مبانی روش تحقیق) (روشهای تحقیق و مآخذشناسی)
 رشته تحصیلی/کد درس: مدیریت بازرگانی (جبرانی ارشد ۱۲۱۸۱۲۱) - مدیریت صنعتی (۱۲۱۸۰۶۸) -
 مدیریت دولتی (جبرانی ارشد ۱۲۱۸۰۲۹) - مدیریت جهانگردی (۱۲۱۸۰۰۶)
 کلیه گرایشهای مدیریت، حسابداری، اقتصاد (تجمیع ۱۲۲۱۰۳۵) - حسابداری (سنتی ۱۲۱۸۰۹۲)
 کد سری سؤال: یک (۱) استفاده از: -- مجاز است.

امام خمینی (ره): این محرم و صفر است که اسلام را زنده نگه داشته است.

۱. کدام گزینه را می توان از ویژگی های قانون علمی بر شمرد؟
 - الف. بر اساس اطلاعات حدسی و آزمایشی پایه گذاری شود.
 - ب. غیرقابل اثبات باشد.
 - ج. بتوان با آزمایش های متفاوت نتایج متعددی از آن به دست آورد.
 - د. رابطه علت و معلولی بین هم متغیرها پدیده را بیان نماید.
۲. هنگامی که تحقیق نیاز کاوشگری انسان را برطرف می کند، بیانگر کدامیک از نیازهای بشر به تحقیق است؟
 - الف. پاسخگویی به نیازهای فطری انسان
 - ب. پاسخگویی به نیازهای حیاتی
 - ج. طرح نظریه جدید
 - د. برای حل مشکل
۳. مصادیق و واقعیت های متعلق به تعاریف عملیاتی را چه می گویند؟
 - الف. سازه یا معرف
 - ب. مدل یا شاخص
 - ج. نشانه یا سازه
 - د. معرف یا شاخص
۴. کدام یک از انواع مقیاس های اندازه گیری دارای نقطه صفر مطلق مبدأ سنجش است؟
 - الف. مقیاس ترتیبی
 - ب. مقیاس عددی یا اسمی
 - ج. مقیاس فاصله ای
 - د. مقیاس نسبی
۵. داده های ثانویه شامل کدام بخش از اطلاعات است؟
 - الف. داده های حاصل از جمع آوری پرسشنامه ها
 - ب. داده های موجود در اسناد، مدارک و بایگانی ها
 - ج. داده هایی که از مرحله دوم تحقیق جمع آوری می شوند.
 - د. داده هایی که اهمیت بیشتری ندارند.
۶. کدامیک از گزینه های زیر به مطالعات پژوهشگر جهت می دهد و در یک راستا کانالیزه می کند؟
 - الف. تجزیه و تحلیل داده ها
 - ب. گردآوری داده ها
 - ج. فرضیه های تحقیق
 - د. گزارش تحقیق
۷. چگونه برنامه ریزی اجرایی تحقیق تسهیل می شود؟
 - الف. با تهیه و تنظیم فرضیه ها
 - ب. با بررسی ادبیات و سوابق موضوع
 - ج. با تهیه و تنظیم طرح تحقیق
 - د. با تعریف مسئله تحقیق

نام درس: روش تحقیق در مدیریت (مبانی روش تحقیق) (روشهای تحقیق و مآخذشناسی)
 رشته تحصیلی/کد درس: مدیریت بازرگانی (جبرانی ارشد ۱۲۱۸۱۲۱) - مدیریت صنعتی (۱۲۱۸۰۶۸) -
 مدیریت دولتی (جبرانی ارشد ۱۲۱۸۰۲۹) - مدیریت جهانگردی (۱۲۱۸۰۰۶)
 کلیه گرایشهای مدیریت، حسابداری، اقتصاد (تجمیع ۱۲۲۱۰۳۵) - حسابداری (سنتی ۱۲۱۸۰۹۲)
 کد سری سؤال: یک (۱) استفاده از: -- مجاز است.

۸. منظور از تناظر صوری چیست؟
- الف. فرضیه به تعداد سؤالهای فرعی تدوین شود.
 ب. فرضیه به تعداد سؤالهای اصلی تدوین شود.
 ج. هر فرضیه ارتباط منطقی با سؤالهای داشته باشد.
 د. نظریه به تعداد سؤالهای فرعی تدوین شود.
۹. کدام گزینه از ویژگیهای فرضیه خوب است؟
- الف. در فرضیه باید از واژهها و مفاهیم ارزشی استفاده کرد.
 ب. فرضیهها باید به صورت سؤال نباشد.
 ج. فرضیهها حتماً نباید با حقایق و قوانین اصول مسلم علمی همسو باشند.
 د. فرضیهها باید آزمون پذیر باشند.
۱۰. در چه مرحله تحقیق، محقق آماده می شود تا مسئله را آن طور که یافته تعریف کند و اهداف تحقیق را بیان دارد؟
- الف. تشریح مسئله تحقیق و نگارش آن
 ب. شناسایی و تحلیل مسئله تحقیق
 ج. طراحی روش تحقیق
 د. مطالعه ادبیات و سوابق مسئله تحقیق
۱۱. کدام گزینه از مشخصات تحقیقات کاربردی است؟
- الف. از نظر زمانی بعدتر از تحقیقات بنیادی انجام می گیرد.
 ب. هزینه بر است و احتیاج به منابع مالی زیادی دارد.
 ج. در این تحقیقات عمدتاً از روش مطالعه کتابخانه ای و بررسی متون و محتوای مطالب استفاده می شود.
 د. عمدتاً سازمانهای دولتی و خصوصی و کارخانه ها و گاه دانشگاه ها و مراکز تحقیقاتی این تحقیقات را انجام می دهند.
۱۲. در کدام یک از تحقیقات طیف یا دامنه تغییرات ضریب همبستگی، از +۱ تا -۱ نوسان دارد؟
- الف. تحقیق پیمایشی
 ب. تحقیق همبستگی
 ج. تحقیق توصیفی تحلیل محتوا
 د. تحقیق کیفی رتبه ای
۱۳. تحقیقات توصیفی در چه بعدی به کشف حقایق و واقعیت های خلقت می انجامد؟
- الف. بعد کاربردی
 ب. بعد اجتماعی
 ج. بعد بنیادی
 د. بعد تاریخی
۱۴. پسوند com به چه معناست؟
- الف. پروتکل فرامتنی
 ب. شبکه گسترده جهانی
 ج. مراکز دانشگاهی
 د. سازمانی تجاری

نام درس: روش تحقیق در مدیریت (مبانی روش تحقیق) (روشهای تحقیق و مآخذشناسی)
 رشته تحصیلی/ کد درس: مدیریت بازرگانی (جبرانی ارشد ۱۲۱۸۱۲۱) - مدیریت صنعتی (۱۲۱۸۰۶۸) -
 مدیریت دولتی (جبرانی ارشد ۱۲۱۸۰۲۹) - مدیریت جهانگردی (۱۲۱۸۰۰۶)
 کلیه گرایشهای مدیریت، حسابداری، اقتصاد (تجمیع ۱۲۲۱۰۳۵) - حسابداری (سنتی ۱۲۱۸۰۹۲)
 کد سری سؤال: یک (۱) استفاده از: -- مجاز است.

۱۵. چه منابعی به صورت کتبی نوشته شده‌اند و با پدیده و واقعه مورد مطالعه رابطه مستقیم دارند؟
 الف. منابع شفاهی
 ب. منابع مکتوب
 ج. منابع ساختمانی
 د. اسناد الکترونیکی
۱۶. ابزار مکتوبی که با توجه به اقلام و اطلاعات خاصی تنظیم می‌شود و محقق از آن برای ثبت مشاهدات در پدیده مورد مطالعه استفاده می‌کند، چه نامیده می‌شود؟
 الف. کارت مشاهده
 ب. کارت مصاحبه
 ج. پرسشنامه
 د. نظر سنجی
۱۷. کدام گزینه معمولاً کمتر روش مستقل گردآوری اطلاعات محسوب می‌شود، ولی به عنوان روش‌های مکمل از آن‌ها استفاده می‌کنند و از اعتبار بسیار بالایی نیز برخوردارند؟
 الف. روش‌های صوتی و تصویری
 ب. روش آزمون
 ج. روش ترکیبی
 د. روش مصاحبه
۱۸. در چه روشی محقق یا مصاحبه‌گر هم می‌تواند از ابزار استاندارد استفاده کند و الویت را به این ابزارها بدهد، همچنین از ابزار خودساخته استفاده کند؟
 الف. مصاحبه منظم
 ب. مصاحبه نامنظم
 ج. مشاهده
 د. روش ترکیبی
۱۹. مشاهده‌ای که به روش سطحی یا ساده مشهور است جزء کدام دسته از روش‌های مشاهده است؟
 الف. کنترل شده
 ب. مشارکتی
 ج. کنترل نشده
 د. فردی
۲۰. کدام گزینه از محاسن روش مشاهده است؟
 الف. کسب حجم اطلاعات وسیع
 ب. عدم دخالت تعصبات مشاهده‌گر
 ج. اخذ مجوز از مقامات مسئول و هماهنگی بیشتر
 د. ثبت دقیق اطلاعات
۲۱. روش آزمون صوتی و تصویری جزو کدام یک از روش‌های گردآوری اطلاعات است؟
 الف. روش میدانی
 ب. روش کتابخانه‌ای
 ج. روش مشاهده
 د. روش پرسشنامه
۲۲. کدام دسته از سؤالات به سؤالات نگرش‌سنج یا گرایش‌سنج معروف‌اند؟
 الف. سؤالات وزنی
 ب. سؤالات مقایسه‌ای
 ج. سؤالات ترتیبی
 د. سؤالات طیفی

نام درس: روش تحقیق در مدیریت (مبانی روش تحقیق) (روشهای تحقیق و مآخذشناسی)
 رشته تحصیلی/ کد درس: مدیریت بازرگانی (جبرانی ارشد ۱۲۱۸۱۲۱) - مدیریت صنعتی (۱۲۱۸۰۶۸) -
 مدیریت دولتی (جبرانی ارشد ۱۲۱۸۰۲۹) - مدیریت جهانگردی (۱۲۱۸۰۰۶)
 کلیه گرایشهای مدیریت، حسابداری، اقتصاد (تجميع ۱۲۲۱۰۳۵) - حسابداری (ستتی ۱۲۱۸۰۹۲)
 کد سری سؤال: یک (۱) استفاده از: -- مجاز است.

۲۳. روش وضعی نام دیگر کدامیک از روشهای نمونه گیری است؟
 الف. روش احتمالی
 ب. روش تصادفی
 ج. روش غیراحتمالی
 د. روش قرعه کشی
۲۴. کدام گزینه از ویژگی های نمونه خوب است؟
 الف. برخورد در زمان وقت در انتخاب نمونه ها
 ب. ترجیحاً نمونه گیری خوشه ای
 ج. داشتن اعتبارات و کفایت وصول به مقصود
 د. داشتن پایایی
۲۵. کدامیک از آزمون های همبستگی در نمونه های کوچک کاربرد دارد و در مطالعه تفاوت و اثرگذاری در دو متغیر استفاده می شود؟
 الف. آزمون F
 ب. آزمون اسپیرمن
 ج. آزمون T
 د. آزمون خی دو

«سؤالات تشریحی»

۱. شش مورد از ویژگیها و قواعد تحقیق علمی را توضیح دهید. (۱/۵ نمره)

۲. دو معیار را برای طبقه بندی فرضیه ها تشریح کنید. (۱ نمره)

۳. دو نمونه برای نگارش پانوش و پی نوشت را ذکر کنید. (۱ نمره)

۴. مزایا و معایب روش مصاحبه را تشریح نمایید. (۱/۵ نمره)

۵. مصاحبه مبتنی بر پرسشنامه را شرح دهید. (۱ نمره)

نام درس: اصول حسابداری (۱) تعداد سوالات: تستی: — تشریحی: ۵
 رشته تحصیلی / کد درس: حسابداری (۱۲۱۴۰۱۷) بازرگانی (۱۲۱۴۰۶۶) صنعتی (۱۲۱۸۰۶۱) دولتی (۱۲۱۴۰۰۴) زمان آزمون (دقیقه): تستی: — تشریحی: ۱۵۰
 جهانگردی (۱۲۱۴۰۰۲) تجميع اقتصاد (۱۲۱۴۰۱۷) — تجميع کليه رشته ها ۱۲۱۴۰۱۷
 کد سري سؤال: یک (۱) استفاده از: ماشین حساب مجاز است.

امام خمینی (ره): این محرم و صفر است که اسلام را زنده نگه داشته است.

۱. مانده بعضی از حسابهای شرکت الف در پایان سال ۱۳۸۸ قبل از اصلاح حسابها به صورت زیر می باشد: (۳ نمره)

نام حساب	مانده بدهکار	مانده بستانکار
پیش دریافت در آمد		۲۸۰/۰۰۰/۰۰۰
پیش پرداخت بیمه	۲۴/۰۰۰/۰۰۰	
پیش پرداخت اجاره	۴۸/۰۰۰/۰۰۰	
پیش پرداخت	۱۲/۰۰۰/۰۰۰	
ساختن	۱۵/۰۰۰/۰۰۰	
استهلاک انباشته ساختمان		۵/۰۰۰/۰۰۰

اطلاعات زیر نیز در دسترس است:

الف. حقوق و دستمزد ثبت و پرداخت نشده کارکنان در پایان سال ۱۳۸۸ مبلغ ۵۴/۰۰۰/۰۰۰ ریال می باشد.

ب. عمر مفید ساختمان ۱۴ سال و ارزش اسقاط آن ۱/۰۰۰/۰۰۰ ریال می باشد.

ج. خدمات انجام شده برای مشتریان در پایان سال ۱۳۸۸ که تاکنون ثبت دفاتر نشده است بالغ بر ۸۴/۰۰۰/۰۰۰ ریال می باشد.

د. پیش دریافت درآمدها مربوط به خدمات یکساله از تاریخ ۸۸/۷/۱ لغایت ۸۹/۷/۱ می باشد.

هـ. بیمه منقضی شده تا پایان سال ۱۳۸۸ مبلغ ۶/۰۰۰/۰۰۰ ریال است.

و. هزینه های آب و برق بهمن و اسفند سال ۱۳۸۸ که صورتحساب آن در روزهای پایانی واصل شده ولی تا پایان سال در دفاتر ثبت نشده ۱۱/۰۰۰/۰۰۰ ریال است.

ز. پیش پرداخت اجاره برای یک سال از تاریخ ۸۸/۹/۱ لغایت ۸۹/۹/۱ می باشد.

مطلوبست:

ثبت های اصلاحی لازم در پایان سال ۱۳۸۸ در دفاتر روزنامه شرکت الف

نام درس: اصول حسابداری (۱)
 رشته تحصیلی / کد درس: حسابداری (۱۲۱۴۰۱۷) بازرگانی (۱۲۱۴۰۶۶) صنعتی (۱۲۱۸۰۶۱) دولتی (۱۲۱۴۰۰۴) زمان آزمون (دقیقه): تستی: — تشریحی: ۱۵۰
 جهانگردی (۱۲۱۴۰۰۲) تجميع اقتصاد (۱۲۱۴۰۱۷) — تجميع کليه رشته ها ۱۲۱۴۰۱۷
 کد سري سؤال: یک (۱) استفاده از: ماشین حساب مجاز است.

۲. اطلاعات زیر از تراز آزمایشی اصلاح شده شرکت ب در تاريخ ۸۸/۱۲/۲۹ استخراج گردیده است: (۳/۵ نمره)

نام حساب	مانده بدهکار	مانده بستانکار
موجودی کالای اول دوره	۲/۰۰۰/۰۰۰	
خرید	۹۷/۰۰۰/۰۰۰	
برگشت از خرید و تخفیفات		۲/۰۰۰/۰۰۰
تخفیفات نقدی خرید		۱۰/۰۰۰/۰۰۰
فروش		۱۳۵/۰۰۰/۰۰۰
برگشت از فروش و تخفیفات	۲/۰۰۰/۰۰۰	
تخفیفات نقدی فروش	۲/۰۰۰/۰۰۰	
هزینه حمل کالای خریداری شده	۵۰۰/۰۰۰	
هزینه حقوق	۱۱/۰۰۰/۰۰۰	
هزینه اجاره	۱۰/۰۰۰/۰۰۰	
هزینه آب و برق	۱/۵۰۰/۰۰۰	
برداشت	۳/۰۰۰/۰۰۰	

ضمناً موجودی کالای پایان دوره شرکت در تاريخ ۸۸/۱۲/۲۹ مبلغ ۲/۰۰۰/۰۰۰ ريال است و ۶۰ درصد هزینه های حقوق، اجاره و آب و برق جزء هزینه های عمومی و اداری و ۴۰ درصد آن جزء هزینه های فروش است.

مطلوبست:

الف. تهیه صورت سود و زیان شرکت ب برای سال مالی منتهی به ۸۸/۱۲/۲۹

ب. ثبت های روزنامه مربوط به بستن حساب های موقت در پایان سال ۱۳۸۸

نام درس: اصول حسابداری (۱)
 رشته تحصیلی / کد درس: حسابداری (۱۲۱۴۰۱۷) بازرگانی (۱۲۱۴۰۶۶) صنعتی (۱۲۱۸۰۶۱) دولتی (۱۲۱۴۰۰۴) زمان آزمون (دقیقه): تستی: — تشریحی: ۱۵۰
 جهانگردی (۱۲۱۴۰۰۲) تجميع اقتصاد (۱۲۱۴۰۱۷) — تجميع کليه رشته ها ۱۲۱۴۰۱۷
 کد سري سؤال: یک (۱) استفاده از: ماشین حساب مجاز است.

۳. تراز آزمایشی شرکت ج پس از بستن حسابهای موقت در پایان سال ۱۳۸۸ به صورت زیر است: (۲/۵ نمره)

شرکت ج
 تراز آزمایشی
 در تاریخ ۸۸/۱۲/۲۹

نام حساب	مانده بدهکار	مانده بستانکار
صندوق	۱۲/۳۰۰/۰۰۰	
بستانکاران تجاری		۴/۰۰۰/۰۰۰
حسابهای دریافتنی	۹۲/۰۰۰/۰۰۰	
پیش پرداخت اجاره	۱۴/۵۰۰/۰۰۰	
زمین	۱۱۰/۰۰۰/۰۰۰	
ساختمان	۴۰۰/۰۰۰/۰۰۰	
استهلاک انباشته ساختمان		۲۰/۰۰۰/۰۰۰
وسایل نقلیه	۱۴۰/۰۰۰/۰۰۰	
استهلاک انباشته وسایل نقلیه		۲/۰۰۰/۰۰۰
سرقفلی	۵۰/۰۰۰/۰۰۰	
اسناد دریافتنی کوتاه مدت	۹۰/۰۰۰/۰۰۰	
حسابهای پرداختنی		۸۴/۰۰۰/۰۰۰
پیش دریافت		۲۴/۰۰۰/۰۰۰
اسناد پرداختنی		۱۰۰/۰۰۰/۰۰۰
وام پرداختنی بلندمدت		۱۵۵/۸۰۰/۰۰۰
سرمایه		۴۰۰/۰۰۰/۰۰۰
جمع	۸۸۸/۸۰۰/۰۰۰	۸۸۸/۸۰۰/۰۰۰

مطلوبست:

تهیه ترازنامه طبقه بندی شده شرکت ج در تاریخ ۸۸/۱۲/۲۹

نام درس: اصول حسابداری (۱)
 رشته تحصيلی / کد درس: حسابداری (۱۲۱۴۰۱۷) بازرگانی (۱۲۱۴۰۶۶) صنعتی (۱۲۱۸۰۶۱) دولتی (۱۲۱۴۰۰۴) زمان آزمون (دقيقه): تستی: — تشریحی: ۱۵۰
 جهانگردی (۱۲۱۴۰۰۲) تجميع اقتصاد (۱۲۱۴۰۱۷) — تجميع کليه رشته ها ۱۲۱۴۰۱۷
 کد سري سؤال: یک (۱) استفاده از: ماشين حساب مجاز است.

۴. موسسه آذر در تاريخ ۸۸/۱/۱ تأسيس شد، که فعاليتهاى آن از تاريخ ۸۸/۲/۱۵ به شرح زير مى باشد. (۲/۵ نمره)
 ۸۸/۲/۱۵ کالایى که قيمت آن ۵/۰۰۰/۰۰۰ ريال بود را با دريافت تخفيف تجارى به مبلغ ۴/۸۰۰/۰۰۰ ريال به صورت نسيه خريدارى کرد.

۸۸/۱/۲۰ خريد ۵۴/۰۰۰/۰۰۰ ريال کالا به صورت نسيه از شرکت الف
 ۸۸/۱/۲۵ برگشت مبلغ ۲۰/۰۰۰/۰۰۰ ريال از کالای خريدارى شده از شرکت الف
 ۸۸/۱/۳۰ موسسه آذر متوجه شد که مقدارى از کالای خريدارى شده از شرکت الف معيوب است. لذا ضمن توافق با فروشنده مبلغ ۲/۰۰۰/۰۰۰ ريال از او تخفيف گرفت.
 ۸۸/۲/۲ خريد به مبلغ ۳۱/۰۰۰/۰۰۰ ريال با شرط ن ۶۰-۱۰/۳ از شرکت ب
 ۸۸/۲/۱۰ پرداخت وجه کالای خريدارى شده از شرکت ب
 ۸۸/۲/۲۰ فروش مبلغ ۳۲/۰۰۰/۰۰۰ ريال کالا به صورت نسيه با شرط ن ۶۰-۱۰/۲ به شرکت مهر
 ۸۸/۳/۱۰ دريافت وجه فروش از شرکت مهر
 مطلوب است:

الف. ثبت رويداهاى فوق در دفتر روزنامه موسسه آذر
 ب. نقل اقلام دفتر روزنامه به دفتر کل به شکل T

۵. اطلاعات زير در مورد شرکت ساسان در دسترس مى باشد: (۲/۵ نمره)
 موجودى اول دوره ۲۰۰ واحد از قرار هر واحد ۵۰۰ ريال
 خريد اول ۳۰۰ واحد از قرار هر واحد ۴۵۰ ريال
 خريد دوم ۳۵۰ واحد از قرار هر واحد ۵۵۰ ريال
 خريد سوم ۲۵۰ واحد از قرار هر واحد ۶۰۰ ريال
 تعداد کالای فروش رفته ۸۰۰ واحد

مطلوب است:

بهای تمام شده کالای فروش رفته به روش اولين صادره از اولين وارده $FIFO$ ، اولين صادره از آخرين وارده $LIFO$ و ميانگين موزون.

نام درس: حقوق اساسی
 رشته تحصیلی / کد درس: مدیریت صنعتی (سنتی) ۱۲۱۸۰۶۲ - مدیریت صنعتی (تجمع) ۱۲۱۸۲۷۳ -
 مدیریت جهانگردی (سنتی) ۱۲۲۳۰۰۴ - مدیریت دولتی (سنتی) ۱۲۲۳۰۰۵
 کد سری سؤال: یک (۱) استفاده از: -- مجاز است.

امام خمینی^(ع): این محرم و صفر است که اسلام را زنده نگه داشته است.

۱. حق به عنوان یک امتیاز اجتماعی چه اثری دارد؟
 الف. مطلق گرایی فردی
 ب. آزادی اراده نامحدود
 ج. خودمختاری کامل
 د. تکلیف دیگران به رعایت آن
۲. عبارت «حقوق کارگر یا کارمند» بیانگر کدام رشته از حقوق است؟
 الف. حقوق سازمان مالی
 ب. حقوق اداری
 ج. حقوق خصوصی
 د. حقوق تجارت
۳. نحوه رسیدگی به جرائم در دادگاهها مورد مطالعه کدام گرایش حقوق است؟
 الف. آیین دادرسی کیفری
 ب. آیین دادرسی مدنی
 ج. حقوق اساسی
 د. حقوق جزای عمومی
۴. تعارض قوانین محور مطالعه کدام گرایش حقوق است؟
 الف. حقوق بشر
 ب. حقوق بین الملل کیفری
 ج. حقوق بین الملل عمومی
 د. حقوق بین الملل خصوصی
۵. ذکر توضیحات و جزئیات اصول قانون اساسی در کدام یکی از قوانین بیان می شود؟
 الف. قوانین ماهوی
 ب. قوانین شکلی
 ج. قوانین عادی
 د. قوانین امری
۶. ایجاد وحدت رویه قضایی از وظائف چه نهادی است؟
 الف. قوه مقننه
 ب. عالی ترین دادگاه
 ج. دادگاههای تجدید نظر
 د. دادگاههای بدوی
۷. عرف جزو کدام منبع حقوق اساسی است؟
 الف. نوشته
 ب. مدون
 ج. موضوعه
 د. نانوشته
۸. قانون اساسی نظام جمهوری اسلامی ایران از چند متن تشکیل شده است؟
 الف. یک متن واحد
 ب. دو متن واحد
 ج. چند متن متعدد و متنوع
 د. دو متن چندگانه
۹. در دوره ابتدایی زندگی بشر، حکومت از چه خصلتی بر خوردار بود؟
 الف. محدود به ارزشها
 ب. بر مبنای زور
 ج. محدود گرایی
 د. بر مبنای شایسته سالاری
۱۰. مهمترین رکن تشکیل دهنده دولت چیست؟
 الف. جمعیت
 ب. سرزمین
 ج. قلمرو جغرافیایی
 د. قدرت عالی سیاسی
۱۱. سقراط، افلاطون و ارسطو از چه نوع حکومتی صحبت کرده اند؟
 الف. حکومت طبقات ممتاز
 ب. حکومت عامه مردم
 ج. حکومت شخص واحد عادل
 د. حکومت نخبه سالار

نام درس: حقوق اساسی
 رشته تحصیلی: گد درس: مدیریت صنعتی (سنتی) ۱۲۱۸۰۶۲ - مدیریت صنعتی (تجميع) ۱۲۱۸۲۷۳ -
 مدیریت جهانگردی (سنتی) ۱۲۲۳۰۰۴ - مدیریت دولتی (سنتی) ۱۲۲۳۰۰۵
 کد سری سؤال: یک (۱) استفاده از: -- مجاز است.

۱۲. از نظر منتسکیو قوه مقننه باید به کدام طبقه سپرده شود؟
- الف. عموم مردم ب. طبقه ممتاز ج. نظامیان د. زمین داران
۱۳. کدام گزینه از آثار حکومت‌های تحمیلی است؟
- الف. شکوفایی استعدادها ب. جاسوسی
ج. درک مصایب سیاسی د. توسعه اقتصادی و تامین رفاه مردم
۱۴. متن قانون اساسی جمهوری اسلامی ایران چه هنگام به تأیید ملت رسید؟
- الف. قبل از تشکیل شورای انقلاب ب. بعد از پیروزی انقلاب
ج. بعد از تشکیل مجلس ملی د. بعد از جنگ تحمیلی
۱۵. ماهیت نظام جمهوری اسلامی ایران در مقایسه با سایر نظام‌ها از چه جایگاهی برخوردار است؟
- الف. همچون سایر دموکراسی‌ها است. ب. همچون سایر جمهوری‌ها است.
ج. از نظر ماهوی با آنها متفاوت است. د. از نظر شکلی با آنها متفاوت است.
۱۶. در مسایل بسیار مهم قوه مقننه درخواست مراجعه به آراء عمومی چگونه است؟
- الف. با تصویب $\frac{1}{2}$ نمایندگان ب. با تصویب مجمع تشخیص مصلحت نظام
ج. با فرمان رهبری د. با تصویب $\frac{2}{3}$ مجروح نمایندگان
۱۷. براساس اصل ۵۶ قانون اساسی ایران، حاکمیت مطلق بر جهان از آن کیست؟
- الف. خلیفه الله ب. خداوند ج. انسان د. ملت
۱۸. ولی فقیه اعمال کننده چه نوعی حاکمیتی است؟
- الف. خداوند ب. مردم ج. ملت د. فقها
۱۹. انطباق قوانین با موازین شرع مطابق اصل چهارم قانون اساسی، در خصوص کدام قوانین است؟
- الف. مصوبات مجلس ب. مصوبات قوه مجریه
ج. قوانین عادی د. کلیه قوانین و مقررات
۲۰. دین رسمی نظام جمهوری اسلامی ایران چگونه قابل تغییر است؟
- الف. با پیشنهاد رهبری و تأیید ملت ب. با پیشنهاد مجلس و تأیید مقام رهبری
ج. در صورت تصویب مجلس د. غیر قابل تغییر است.
۲۱. تدریس زبان عربی تا کدام مقطع اجباری است؟
- الف. راهنمایی ب. پایان دوره متوسطه
ج. ابتدای دوره متوسطه د. اجباری نیست.

نام درس: حقوق اساسی
 رشته تحصیلی / کد درس: مدیریت صنعتی (ستتی) ۱۲۱۸۰۶۲ - مدیریت صنعتی (تجميع) ۱۲۱۸۲۷۳ -
 مدیریت جهانگردی (ستتی) ۱۲۲۳۰۰۴ - مدیریت دولتی (ستتی) ۱۲۲۳۰۰۵
 کد سری سؤال: یک (۱) استفاده از: -- مجاز است.

۲۲. مجلس در وضع قوانین از چه صلاحیتی برخوردار است؟

الف. اختصاصی ب. انحصاری ج. محدود د. عام

۲۳. در موارد اختلاف شورای نگهبان و مجلس، حل مسأله با کدام مرجع است؟

الف. شورای منتخب طرفین
ج. مجمع تشخیص مصلحت نظام
ب. شورای عالی قضایی
د. رهبری

۲۴. چنانچه مدت ۱۰ روز برای اظهار نظر شورای نگهبان راجع به مصوبات مجلس کافی نباشد، چه تصمیمی گرفته می شود؟

الف. با درخواست شورای نگهبان از مجلس ۱۰ روز دیگر تمدید می شود.
ب. مصوبه به مجلس برگشت داده می شود.
ج. بدون نظر شورای نگهبان قانون اجرا می شود.
د. مصوبه به مجمع تشخیص مصلحت نظام ارسال می شود.

۲۵. فقهای شورای نگهبان چند نفر می باشند؟

الف. ۱۲ نفر ب. ۶ نفر ج. ۴ نفر د. ۸ نفر

۲۶. نظام حاکم بر شوراهای محلی چه نام دارد؟

الف. عدم تراکم ب. اختیارات فوق العاده ج. عدم تمرکز د. فدرالیسم

۲۷. رئیس ستاد مشترک توسط چه مرجعی منصوب می شود؟

الف. مقام رهبری
ج. شورای عالی امنیت ملی
ب. رئیس جمهور
د. وزیر دفاع

۲۸. رئیس جمهور برای چند دوره می تواند انتخاب شود؟

الف. دو دوره متوالی ب. یک دوره ج. سه دوره متناوب د. سه دوره متوالی

۲۹. کدام دادگاه اختصاصی است؟

الف. دادگاه بدوی ب. دادگاه تجدیدنظر ج. دادگاه انقلاب د. دادسرای تهران

۳۰. مصوبات شورای بازنگری قانون اساسی در نهایت به تایید چه مرجعی می رسد؟

الف. مجمع تشخیص مصلحت نظام
ج. شورای بازنگری
ب. ملت
د. شورای عالی امنیت ملی

نام درس: ماليه عمومي و تعيين خط مشي مالي دولتها - اقتصاد بخش عمومي
 رشته تحصيلي / گد درس: ستتي: حسابداري (۱۲۱۸۰۹۰) - مديريت دولتي (۱۲۲۱۰۰۸)
 تجميع: (اقتصاد - حسابداري - مديريتها): ۱۲۲۱۰۳۴
 گد سري سوال: يك (۱)
 استفاده از: —
 مجاز است.

امام خميني (ره): اين محرم و صفر است كه اسلام را زنده نگه داشته است.

۱. کدام گزینه از اصول نظريه اقتصادي کلاسيکها مي باشد؟
 - الف. فعاليت آزاد بنگاههاي اقتصادي و بازارها
 - ب. تخصيص منابع در برخورد آزاد متقاضي و توليد کننده
 - ج. عدم دخالت دولت در اقتصاد
 - د. همه موارد فوق
۲. کلاسيکها معتقد هستند وظايف دولت عبارتست از:
 - الف. ايجاد نظم و اعمال قانون براي توزيع عادلانه درآمد
 - ب. تأسيس نيروهاي نظامي در شهرها
 - ج. توليد کالاهاي عمومي و خصوصي
 - د. توليد کالاهايي كه بخش خصوصي توان توليد آنها را ندارد.
۳. هزينههاي كه باعث جابهجايي منابع جامعه به بخش عمومي مي شود چه نام دارد؟
 - الف. هزينههاي انتقالي
 - ب. هزينههاي تمام شدي
 - ج. سوبسيدها (يارانهها)
 - د. هزينههاي مصرفي
۴. کداميك از گزينههاي زير از اهداف دخالت دولت در اقتصاد نمي باشد؟
 - الف. توزيع مناسب درآمد
 - ب. تخصيص موثر منابع
 - ج. حفظ اشتغال كامل
 - د. حفظ ثبات اقتصادي
۵. افزايش اختلاف طبقاتي در درآمد، ناشي از کداميك از مراحل زير است؟
 - الف. مرحله مصرف و توليد انبوه
 - ب. مرحله بلوغ اقتصادي
 - ج. مرحله سرمايهگذاري زيربنايي
 - د. مرحله اوليه رشد و توسعه
۶. بر اساس قانون واگنر با افزايش درآمد سرانه، اندازه بخش عمومي:
 - الف. افزايش مي يابد.
 - ب. کاهش مي يابد.
 - ج. ثابت باقي مي ماند.
 - د. مشخص نمي باشد.
۷. کداميك از موارد زير از شرايط بازار رقابت كامل نمي باشد؟
 - الف. وجود اطلاعات كامل از شرايط بازار
 - ب. يکسان نبودن کالاهای و خدمات
 - ج. وجود تعداد زياد خريدار و فروشنده
 - د. آزادي ورود و خروج
۸. در شرايط نبود پيامدهاي خارجي، قيمتگذاري بر اساس هزينه نهايي توليد باعث کداميك از موارد زير مي شود؟
 - الف. تعادل در بازار
 - ب. حداکثر رفاه
 - ج. حداقل رفاه
 - د. عدم رقابت

نام درس: ماليه عمومی و تعيين خط مشی مالی دولتها - اقتصاد بخش عمومی
 رشته تحصیلی / گد درس: استی: حسابداري (۱۲۱۸۰۹۰) - مدیریت دولتی (۱۲۲۱۰۰۸)
 تجميع: (اقتصاد - حسابداري - مدیریتها) : ۱۲۲۱۰۳۴
 گد سری سؤال: یک (۱) استفاده از: - مجاز است.

۹. کدامیک از گزینه های زیر از مشخصه های کالای عمومی محسوب می شود؟

- الف. عدم رقابت پذیری
ب. قابلیت تخصیص منابع
ج. رقابت پذیری
د. عدم رقابت پذیری به همراه کاهش قیمت ها
۱۰. کدامیک از کالاهای زیر در استفاده، رقابت نداشته و تخصیص منافع آنها با هزینه کم عملی نمی باشد؟

- الف. پارک محصور نشده در شرایط ازدحام
ب. پارک محصور شده در شرایط ازدحام
ج. بزرگراه محصور
د. دفاع ملی
۱۱. خرید یک کالا در قیمت اعلام شده به وسیله عرضه کننده، نشان می دهد که مصرف کننده:
- الف. مجبور به خرید آن است.
ب. حداقل فایده ای برابر آن قیمت خواهد برد.
ج. حداکثر فایده ای برابر آن قیمت خواهد برد.
د. در قیمت های بالاتر هم حاضر به خرید آن کالا هست.
۱۲. هزینه فرصت منابعی که از بخش های دیگر به تولید کالای عمومی منتقل می شوند برابر است با:

- الف. قیمت کالا
ب. فایده کالای عمومی
ج. فایده کالای خصوصی
د. درآمد مصرف کننده
۱۳. سیاست های حمایتی از صنایع داخلی که از طریق محدودیت واردات کالاهای مشابه صورت می گیرد بر کدامیک از موارد زیر تأثیر می گذارد؟

- الف. درآمدها را به طور برابر تغییر می دهد.
ب. درآمدها را به طور نابرابر تغییر می دهد.
ج. باعث کاهش عرضه پول می شود.
د. باعث افزایش عرضه پول می شود.
۱۴. هدف عمده دولت از پرداخت های انتقالی دولت چیست؟

- الف. کمک به افراد بی بضاعت
ب. کمک به تأمین اجتماعی
ج. برابر نمودن توزیع درآمد
د. هر سه مورد
۱۵. هر چقدر ضریب جینی کوچکتر باشد:
- الف. توزیع درآمد برابرتر است.
ب. توزیع درآمد مناسب تر است.
ج. توزیع درآمد نابرابر است.
د. الف و ب

۱۶. سالم ترین و مناسب ترین نوع درآمد برای دولت چیست؟

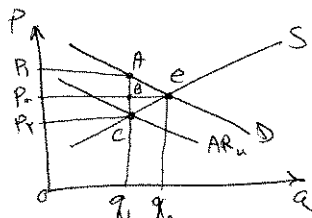
- الف. مالیات
ب. نفت
ج. صادرات
د. سرمایه گذاری
۱۷. کدامیک از موارد زیر از وظایف اساسی سازمان بازنشستگی نمی باشد؟

- الف. اداره امور بازنشستگی
ب. اجرای قوانین و مقررات
ج. عدم بهره برداری از وجوه صندوق
د. کوشش در ایجاد صندوق خودکفایی
۱۸. معیار یا ارزشی که مالیات بر آن برقرار می شود چیست؟

- الف. پایه مالیاتی
ب. نرخ مالیات
ج. دستمزد و حقوق
د. ثروت

نام درس: ماليه عمومى و تعيين خط مشى مالى دولتها - اقتصاد بخش عمومى
 رشته تحصيلى / گد درس: ستى: حسابدارى (۱۳۱۸۰۹۰) - مديريت دولتى (۱۳۲۱۰۰۸)
 تجميع: (اقتصاد - حسابدارى - مديريتها): ۱۳۲۱۰۳۴
 گد سرى سؤال: يك (۱)
 استفاده از: —
 مجاز است.

۱۹. از نقطه نظر تجزيه و تحليل رفتارى ماليات دهندگان کداميك از موارد زير مهم محسوب مى شود؟
- الف. ماليات تنازلى ب. ماليات نسبى ج. ماليات تصاعدى د. نرخ نهايى ماليات
۲۰. در صورتى كه منحنى عرضه كننده به صورت خط عمودى باشد در صورت وضع ماليات بر واحد،
- الف. پرداخت تمامى بار ماليات بر عهده عرضه كننده خواهد بود.
 ب. پرداخت تمامى بار ماليات بر عهده تقاضا كننده خواهد بود.
 ج. بار مالياتى به طور مساوى بين عرضه كننده و تقاضا كننده تقسيم خواهد شد.
 د. انتقال بار مالياتى بستگى به نوع کالا دارد.
۲۱. منظور از وقوع مالياتى چيست؟
- الف. نحوه توزيع ماليات در بين مصرف كنندگان
 ج. نحوه توزيع ماليات در بين گروههاى مختلف
 ب. نحوه توزيع ماليات در بين توليد كنندگان
 د. نحوه دريافت ماليات از پرداخت كنندگان ماليات
۲۲. با توجه به نمودار زير، سهم توليد كننده از ماليات چيست؟



- الف. P_2P_1AC
 ب. P_0P_1AB
 ج. P_2P_0BC
 د. OP_0Cq_1

۲۳. هر چقدر كاهش منحنى عرضه كمتر باشد سهم ماليات عرضه كنندگان و سهم ماليات مصرف كنندگان است.

- الف. بيشتر - بيشتر ب. بيشتر - كمتر
 ج. كمتر - بيشتر د. كمتر - كمتر

۲۴. اگر كاهش عرضه كمتر از تقاضا باشد، سوبسيد در بازار محصولات كشاورزى:

- الف. بيشتر نصيب كشاورزان مى شود.
 ج. تاثيرى بر رفاه كشاورزان ندارد.
 ب. كمتر نصيب كشاورزان مى شود.
 د. هيچكدام

۲۵. ماليات در بازار رقابت كامل همراه با كاهش:

- الف. رفاه مصرف كننده است.
 ج. خالص رفاه است.
 ب. رفاه توليد كننده است.
 د. همه موارد فوق

۲۶. سوبسيد بر قيمت فروش:

- الف. درآمد خالص عرضه كننده را تغيير مى دهد.
 ج. همانند تاثير سوبسيد بر واحد فروش مى باشد.
 ب. درآمد مصرف كننده را تغيير مى دهد.
 د. تاثير آن همانند ماليات مى باشد.

نام درس: ماليه عمومى و تعيين خط مشى مالى دولتها - اقتصاد بخش عمومى
 رشته تحصيلى / گد درس: ستى: حسابدارى (۱۲۱۸۰۹۰) - مديريت دولتى (۱۲۲۱۰۰۸)
 تجميع: (اقتصاد - حسابدارى - مديريتها) : ۱۲۲۱۰۳۴
 گد سرى سؤال: يك (۱)
 استفاده از: —
 مجاز است.

۲۷. يك انحصارگر برآى حداكثر نمودن سود در جايى توليد خواهد كرد كه:

- الف. هزينه نهايى = توليد نهايى
 ب. هزينه نهايى = قيمت
 ج. هزينه نهايى = هزينه متوسط
 د. قيمت = هزينه متوسط

۲۸. ماليات در بازار انحصار كامل:

- الف. تأثيرى بر كارايى ندارد.
 ب. كارايى را افزايش مى دهد.
 ج. توليد را كاهش مى دهد.
 د. توليد را افزايش مى دهد.

۲۹. ماليات بر درآمد مستمر اشخاص از کداميك از گزينه ها دريافت مى شود؟

- الف. دستمزد و حقوق و سود
 ب. ثروت و حقوق و دستمزد
 ج. درآمد و سود
 د. ثروت و سود

۳۰. اثر قطعى ماليات بر دستمزد و حقوق روى عرضه كار چيست؟

- الف. كاهش عرضه كار
 ب. افزايش عرضه كار
 ج. اثر قطعى آن مشخص نمى باشد.
 د. تأثير آن بر كاهش عرضه ناچيز است.

۳۱. کداميك از روابط زير صحيح است؟ (π سود مى باشد)

- الف. $\pi = R + WL + rK$
 ب. $\pi = R - WL + rK$
 ج. $\pi = R + WL - rK$
 د. $\pi = R - WL + rK$

۳۲. کداميك از روشهاى استهلاك زير بر اساس يك سرى نرخهاى متفاوت برآى سالهاى مختلف صورت مى گيرد؟

- الف. خط مستقيم
 ب. صد و پنجاه درصد
 ج. دويست درصد
 د. كسر جمع سالهاى عمر سرمايه

۳۳. برنامه مالى برآى عمليات آتى چيست؟

- الف. بودجه
 ب. طرح
 ج. پيش بينى
 د. لايحه

۳۴. کداميك از گزينه هاى زير از مراحل تشكيل بودجه دولت نمى باشد؟

- الف. تهيه و تنظيم
 ب. تصويب
 ج. اعلام
 د. نظارت

۳۵. کداميك از موارد زير از اقدام نظارتى بر بودجه نمى باشد؟

- الف. نظارت ادارى
 ب. نظارت قضايى
 ج. نظارت پارلمانى
 د. نظارت اجرايى

۳۶. بودجه سالانه كشور از طرف چه مقامى تهيه و تنظيم مى شود؟

- الف. شوراي اقتصاد
 ب. دولت
 ج. قوه قضائيه
 د. قوه مقننه

نام درس: ماليه عمومي و تعيين خط مشی مالی دولتها - اقتصاد بخش عمومي
 رشته تحصيلی / کد درس: استی: حسابداری (۱۲۱۸۰۹۰) - مدیریت دولتی (۱۲۲۱۰۰۸)
 تجميع: (اقتصاد - حسابداری - مدیریتها) : ۱۲۲۱۰۳۴
 کد سری سؤال: یک (۱)
 استفاده از: —
 مجاز است.

۳۷. کدامیک از متغیرهای زیر در کنترل مستقیم دولت نیست؟

- الف. نرخ مالیاتها
 ب. استخدام عامل کار
 ج. پرداختهای انتقالی
 د. فروش کالاها و خدمات

۳۸. اگر b میل نهایی به مصرف باشند، ضریب فزاینده مالیات عبارتست از:

- الف. $\frac{b}{1+b}$
 ب. $\frac{b}{1-b}$
 ج. $\frac{-b}{1+b}$
 د. $\frac{-b}{1-b}$

۳۹. اگر مخارج دولت و مالیاتها به طور همزمان به میزان ۵۰۰ واحد افزایش یابد در این صورت در آمد تعادلی به میزان واحد افزایش خواهد یافت.

- الف. ۵۰۰
 ب. ۴۰۰
 ج. ۱۰۰۰
 د. بستگی به میل نهایی به مصرف دارد.

۴۰. $c = a + by$ تابع مصرف است کدام گزینه میل نهایی به پس انداز می باشد؟

- الف. b
 ب. a
 ج. $1-b$
 د. by

نام درس: مبانی و اصول سازمان و مدیریت (مبانی مدیریت و سازماندهی - اصول مدیریت و سازماندهی)
رشته تحصیلی / گد درس: مدیریت بازرگانی (ستتی)، جبرانی ارشد (MBA، اجرایی) ۱۲۱۸۱۱۸
مدیریت صنعتی (ستتی) ۱۲۱۸۰۶۴ - کتابداری ۱۲۱۸۰۹۶ - مدیریت دولتی (ستتی، جبرانی ارشد) ۱۲۱۸۰۲۶ - مدیریت جهانگردی ۱۲۱۸۰۰۷
حسابداری (ستتی) ۱۲۱۸۰۹۱ - مهندسی صنایع (ستتی، تجمیع) ۱۲۱۸۱۰۲ - علوم اجتماعی (مددکاری اجتماعی) ۱۲۲۲۱۴۵ - اقتصاد (ستتی) ۱۲۱۸۱۸۲
علوم اجتماعی (برنامه ریزی اجتماعی تعاون و رفاه) ۱۲۲۲۱۸۷
گد سری سؤال: یک (۱)
استفاده از:
مجاز است.

امام خمینی^(ره): این محرم و صفر است که اسلام را زنده نگه داشته است.

۱. کدام یک از گزینه های زیر در برگیرنده احساسات، عواطف، ارزشها، اعتقادات و منافع کارکنان است؟
الف. محیط داخلی سازمان
ب. محیط خارجی سازمان با تأثیر مستقیم
ج. محیط خارجی سازمان با تأثیر غیرمستقیم
د. دینفعان سازمان
۲. توسط کدامیک از گزینه های زیر می توانند نیازها و انگیزه های افراد را درک و آنان را به مشارکت در تصمیم گیری تشویق نمایند؟
الف. مهارت های انگیزشی
ب. مهارت های فنی
ج. مهارت های ادراکی
د. مهارت های انسانی
۳. کدامیک از گزینه های زیر از مشخصه های مدیریت بوروکراتیک می باشد؟
الف. شخصی بودن
ب. تمرکز
ج. تقسیم کار
د. وحدت فرماندهی
۴. عبارت «الگوهای رفتاری مورد انتظار از هر فرد در یکسازمان» بیانگر تعریف کدامیک از گزینه های زیر است؟
الف. مدل
ب. نقش
ج. مهارت
د. یادگیری
۵. کدامیک از گزینه های زیر تعریف صحیح ارزش مورد انتظار می باشد؟
الف. ارزش مورد انتظار عبارت است از مجموع حاصلضرب احتمال وقوع شرایط محیطی در نتیجه پیش بینی شده در راه حل.
ب. ارزش مورد انتظار عبارت است از مجموع حاصلضرب احتمال وقوع شرایط محیطی در میزان زیان دهی.
ج. ارزش مورد انتظار عبارت است از مجموع حاصلضرب احتمال وقوع شرایط مخاطره در حداکثر سوددهی.
د. ارزش مورد انتظار عبارت است از مجموع حاصلضرب احتمال وقوع شرایط مخاطره در حداکثر زیان دهی.
۶. عدم رعایت کدامیک از اصول مدیریت موجب تضاد، کشمکش، ضعف انضباط و به خطر افتادن اصل اختیار در سازمان می شود؟
الف. تقسیم کار
ب. انضباط
ج. وحدت جهت
د. وحدت فرماندهی
۷. کدامیک از ویژگی های مدیریت بوروکراتیک موجب می شود که مدیران زیردستان خود را بطور عینی و بر اساس عملکرد تخصص آنان ارزشیابی کنند؟
الف. قوانین و مقررات
ب. غیرشخصی بودن
ج. ساختار سلسله مراتبی
د. ساختار اختیار
۸. کدامیک از گزینه های زیر به مفهوم کاربرد یک نگرش علمی برای حل مسایل مدیریتی است؟
الف. سیستم های اطلاعات مدیریت
ب. مدیریت عملیاتی
ج. علم مدیریت
د. نگرش سیستمی
۹. هرگاه مدیری مسئله ای را بشناسد و برای شناخت راه حل های ممکن به اندازه ای اطلاعات داشته باشد که بتواند احتمال کسب نتیجه مطلوب از هر راه حل را تخمین بزند در کدامیک از شرایط تصمیم گیری قرار دارد؟
الف. اطمینان
ب. عدم اطمینان
ج. مخاطره
د. ابهام

نام درس: مبانی و اصول سازمان و مدیریت (مبانی مدیریت و سازماندهی - اصول مدیریت و سازماندهی)
 رشته تحصیلی / کد درس: مدیریت بازرگانی (ستتی)، جبرانی ارشد (MBA، اجرایی) ۱۲۱۸۱۱۸
 مدیریت صنعتی (ستتی) ۱۲۱۸۰۶۴ - کتابداری ۱۲۱۸۰۹۶ - مدیریت دولتی (ستتی، جبرانی ارشد) ۱۲۱۸۰۲۶ - مدیریت جهانگردی ۱۲۱۸۰۰۷
 حسابداری (ستتی) ۱۲۱۸۰۹۱ - مهندسی صنایع (ستتی، تجمیع) ۱۲۱۸۱۰۲ - علوم اجتماعی (مددکاری اجتماعی) ۱۲۲۲۱۴۵ - اقتصاد (ستتی) ۱۲۱۸۱۸۲
 علوم اجتماعی (برنامه ریزی اجتماعی تعاون و رفاه) ۱۲۲۲۱۸۷
 کد سری سؤال: یک (۱)
 استفاده از: مجاز است.

۱۰. متغیرهای روش تحلیل نقطه سربه سر کدامند؟
 الف. تولید سود، هزینه
 ب. تولید، درآمد، هزینه
 ج. درآمد، سود، هزینه
 د. هزینه ثابت، هزینه متغیر، هزینه کل
۱۱. کدامیک از گزینه‌های زیر از مزایای تصمیم‌گیری گروهی است؟
 الف. افزایش مشروعیت
 ب. صرف وقت بیشتر
 ج. تسلط اقلیت
 د. مسئولیت مبهم
۱۲. کدامیک از گزینه‌های زیر بهترین تصمیم‌گیر را ایجاد می‌کند تا مدیران در محدوده آنها تصمیم‌های آتی را اتخاذ کنند؟
 الف. خط مشیها
 ب. روشها
 ج. قوانین
 د. پروژهها
۱۳. کدامیک از گزینه‌های زیر گروهی موقت از مدیران هستند که از قسمتهای مختلف سازمان گرد هم جمع می‌شوند و مسئولیت تنظیم برنامه را بر عهده دارند؟
 الف. مدیران سازمان
 ب. گروه ضربت برنامه ریزی
 ج. متخصصان برنامه ریزی
 د. گروه ستاد برنامه ریزی
۱۴. در کدامیک از گزینه‌های زیر مدیران فرض می‌کنند که روندهای گذشته بدون تغییر در آینده ادامه می‌یابد؟
 الف. شیوه نظرات هیئت مدیران اجرایی
 ب. شیوه برآورد نیروی فروش
 ج. شیوه تحلیل توالی زمانی
 د. پیش‌بینی فروش
۱۵. در کدام فرآیند سازماندهی وظایف بطور منطقی و کارآمد تفلیق می‌شوند؟
 الف. تقسیم کار
 ب. واحد سازی
 ج. هماهنگی
 د. فرماندهی
۱۶. ساختار ماتریسی در چه سازمانهایی کاربرد دارد؟
 الف. سازمانهایی با برنامه‌های کوتاه مدت
 ب. سازمانهایی با برنامه‌های بلند مدت
 ج. سازمانهایی با ساختار بلند
 د. سازمانهایی با ساختار پهن
۱۷. کدامیک از منابع قدرت بر اجبار نفوذپذیر به پذیرش قدرت دلالت دارد؟
 الف. قدرت پاداش
 ب. قدرت اجبار
 ج. قدرت قانونی
 د. قدرت تخصص
۱۸. کدامیک از گزینه‌های زیر بین فعالیتهای مدیر و زیردستان هماهنگی ایجاد می‌کند؟
 الف. هماهنگی افقی
 ب. هماهنگی عمودی
 ج. هماهنگی مورب
 د. هماهنگی زیاد
۱۹. چارچوب نظریه دو عاملی انگیزش با کدامیک از گزینه‌های زیر مطابقت می‌کند؟
 الف. سلسله مراتب نیازهای مازلو
 ب. نظریه رشدیافتگی و رشد نیافتگی
 ج. نظریه ای.آر.جی
 د. نظریه نیازهای اکتسابی

نام درس: مبانی و اصول سازمان و مدیریت (مبانی مدیریت و سازماندهی - اصول مدیریت و سازماندهی)
 رشته تحصیلی / کد درس: مدیریت بازرگانی (ستى)، جبرانى ارشد (MBA، اجرايى) ۱۲۱۸۱۱۸
 مدیریت صنعتی (ستى) ۱۲۱۸۰۶۴ - کتابداری ۱۲۱۸۰۹۶ - مدیریت دولتی (ستى، جبرانى ارشد) ۱۲۱۸۰۲۶ - مدیریت جهانگردی ۱۲۱۸۰۰۷
 حسابداری (ستى) ۱۲۱۸۰۹۱ - مهندسی صنایع (ستى، تجميع) ۱۲۱۸۱۰۲ - علوم اجتماعى (مددکاری اجتماعى) ۱۲۲۲۱۴۵ - اقتصاد (ستى) ۱۲۱۸۱۸۲
 علوم اجتماعى (برنامه ریزی اجتماعى تعاون و رفاه) ۱۲۲۲۱۸۷
 کد سري سؤال: یک (۱)
 استفاده از:
 مجاز است.

۲۰. کدامیک از گزینه‌های زیر به معنای اقدامات و فعالیتهایی است که رهبر برای هماهنگ کردن کار اعضای گروه (سازمان) انجام می‌دهد؟

الف. نقش رهبری ب. سبک رهبری ج. رفتار رهبری د. وظیفه رهبری

۲۱. کدامیک از گزینه‌های زیر در مورد هدفهای ساختار سازمانی صحیح است؟

الف. توزیع اطلاعات به مدیران مربوطه تا میزان آگاهی آنان هنگام تصمیم‌گیری افزایش یابد.

ب. جهت دادن اطلاعات به سوی مدیران مربوطه تا میزان عدم اطمینان آنان هنگام تصمیم‌گیری کاهش یابد.

ج. تعیین و کنترل اختیار برای تصمیم‌گیری به طور موثر به صورتی که اعضای سازمان بتوانند بدون دردسر و با انسجام در هر سطحی برنامه‌های خود را اجرا کنند.

د. توزیع روابط میان واحدهای کاری به طوری که اطمینان حاصل شود که کلیه کارها به شیوه‌ای منظم و مرتب واگذار و اجرا شده است.

۲۲. کدامیک از گزینه‌های زیر بیانگر غایت اساسی سازمان برای موجودیت آن می‌باشد؟

الف. اهداف سازمانی ب. خط‌مشی سازمانی ج. بیانیه سازمانی د. مأموریت سازمانی

۲۳. وسیع‌تر یا محدودتر بودن حیطه نظارت به کدامیک از عوامل زیر بستگی دارد؟

الف. تمرکز و عدم تمرکز ب. وحدت فرماندهی ج. پیچیدگی کار د. سلسله مراتب

۲۴. زنجیره فرماندهی بر کدام دو اصل استوار است؟

الف. وحدت فرماندهی، حیطه نظارت

ج. وحدت فرماندهی، سلسله مراتب

۲۵. وقتی سازمان از پیچیدگی خاص و کثرت وظایف برخوردار باشد کدام ستاد ضرورت پیدا می‌کند؟

الف. ستاد عمومی ب. ستاد شخصی ج. ستاد تخصصی د. ستاد مشورتی

۲۶. کدامیک از گزینه‌های زیر بر نیازهای درونی که موجب برانگیختن رفتار می‌شود، تأکید دارد؟

الف. نظریه‌های ابتدایی

ج. نظریه‌های فرایندی

۲۷. این عبارت تعریف کدام گزینه زیر است؟

«افراد به نوبت در مشاغل مختلف می‌گردند و ضروری نیست که فقط یک کار آسان و تخصصی شده را در مدت طولانی انجام دهند.»

الف. چرخش کار ب. توسعه شغل ج. غنی‌سازی شغل د. دقت کاری

۲۸. طبق نظر فیدلر در صورتی که موقعیت بسیار مطلوب و بسیار نامطلوب باشد کدام سبک رهبری موثر خواهد بود؟

الف. آمرانه ب. رابطه مدار ج. وظیفه مدار د. انسان گرا

۲۹. در نظریه چرخه زندگی وقتی سبک رهبری هم رفتار آمرانه و هم رفتار حمایت کننده دارد نمایانگر کدام سبک رهبری است؟

الف. آمرانه ب. متقاعد کننده ج. مشارکتی د. تفویضی

نام درس: مبانی و اصول سازمان و مدیریت (مبانی مدیریت و سازماندهی - اصول مدیریت و سازماندهی)
رشته تحصیلی / گد درس: مدیریت بازرگانی (ستتی)، جبرانی ارشد (MBA، اجرایی) ۱۲۱۸۱۱۸
مدیریت صنعتی (ستتی) ۱۲۱۸۰۶۴ - کتابداری ۱۲۱۸۰۹۶ - مدیریت دولتی (ستتی، جبرانی ارشد) ۱۲۱۸۰۲۶ - مدیریت جهانگردی ۱۲۱۸۰۰۷
حسابداری (ستتی) ۱۲۱۸۰۹۱ - مهندسی صنایع (ستتی، تجميع) ۱۲۱۸۱۰۲ - علوم اجتماعی (مددکاری اجتماعی) ۱۲۲۲۱۴۵ - اقتصاد (ستتی) ۱۲۱۸۱۸۲
علوم اجتماعی (برنامه ریزی اجتماعی تعاون و رفاه) ۱۲۲۲۱۸۷
گد سری سؤال: یک (۱)
استفاده از:
مجاز است.

۳۰. کدام یک از انواع ارتباطات به افراد اجازه می دهد که با سرعت دلخواه از اطلاعات استفاده کنند و هر قسمت از آن را که دشوار است دوباره تکرار کنند؟

الف. کتبی ب. غیرکلامی ج. شفاهی د. الکترونیکی

۳۱. فرآیندی که در آن اطلاعات را به شکلی در می آورند تا سایرین بتوانند آن را دریافت و درک کنند، چه نامیده می شود؟

الف. رمزگذاری ب. رمزگشایی ج. بازخورد د. پارازیت

۳۲. در کدام شبکه از الگوهای ارتباط غیررسمی احتمال تحریف پیام ها بیشتر است؟

الف. شبکه خوشه ای ب. شبکه رشته ای ج. شبکه تصادفی د. شبکه تابشی

۳۳. هدایت سرپرست چه نوع نظارتی است؟

الف. نظارت آینده نگر ب. نظارت همزمان ج. نظارت راهکاری د. نظارت گذشته نگر

۳۴. کدامیک از موارد زیر جزء موانع فردی خلاقیت است؟

الف. قوانین ب. آداب و رسوم ج. مطابقت د. عدم انعطاف پذیری

۳۵. کدامیک از گزینه های زیر «فرآیندی است که اجرای موفقیت آمیز برنامه ها را در سطح واحدها، با توجه به عوامل ویژه داخلی و خارجی که بر چنین برنامه هایی تاثیر دارند، تضمین می کند» می باشد؟

الف. نظارت گذشته نگر ب. نظارت راهبردی ج. نظارت راهکاری د. نظارت عملیاتی

۳۶. در فرآیند نظارت کارآمد، زمانی که مغایرتی بین عملکرد و استاندارد مشاهده شود و بخواهند عملکرد سازمانی را در جهت استانداردها پیش ببرند، چه اقدامی صورت می گیرد؟

الف. تأیید عملکرد ب. تغییر سازمانها ج. سنجش عملکرد د. اقدام اصلاحی

۳۷. کدامیک از گزینه های زیر جزء شیوه های همکاری خلاق گروهی محسوب می شود؟

الف. فن دلفی ب. ملاقاتهای الکترونیکی

ج. تلفیق متجانسها د. توفان مغزی

۳۸. اولین مرحله فرآیند نظارت کدامیک از گزینه های زیر می باشد؟

الف. مقایسه عملکرد با استاندارد ب. تعیین استانداردها

ج. سنجش عملکرد د. اقدام کردن

۳۹. کدامیک از گزینه های زیر نشان دهنده مراحل رمزگشایی است؟

الف. درک پیام، تفسیر پیام ب. دریافت پیام، تفسیر پیام

ج. تفسیر پیام، دریافت پیام د. دریافت پیام، درک پیام

۴۰. روانشناسان اعتقاد دارند که در کدام مرحله فرآیند خلاقیت ذهن ناخودآگاه شروع به فعالیت می کند؟

الف. اشراق ب. اثبات ج. نهفتگی د. آمادگی

نام درس: روش تحقیق در مدیریت (مبانی روش تحقیق) (روشهای تحقیق و مآخذشناسی)
 رشته تحصیلی/کد درس: مدیریت بازرگانی (جبرانی ارشد ۱۲۱۸۱۲۱) - مدیریت صنعتی (۱۲۱۸۰۶۸) -
 مدیریت دولتی (جبرانی ارشد ۱۲۱۸۰۲۹) - مدیریت جهانگردی (۱۲۱۸۰۰۶)
 کلیه گرایشهای مدیریت، حسابداری، اقتصاد (تجمیع ۱۲۲۱۰۳۵) - حسابداری (سنتی ۱۲۱۸۰۹۲)
 کد سری سؤال: یک (۱) استفاده از: -- مجاز است.

امام خمینی (ره): این محرم و صفر است که اسلام را زنده نگه داشته است.

۱. کدام گزینه را می توان از ویژگی های قانون علمی بر شمرد؟
 الف. بر اساس اطلاعات حدسی و آزمایشی پایه گذاری شود.
 ب. غیرقابل اثبات باشد.
 ج. بتوان با آزمایش های متفاوت نتایج متعددی از آن به دست آورد.
 د. رابطه علت و معلولی بین هم متغیرها پدیده را بیان نماید.
۲. هنگامی که تحقیق نیاز کاوشگری انسان را برطرف می کند، بیانگر کدامیک از نیازهای بشر به تحقیق است؟
 الف. پاسخگویی به نیازهای فطری انسان
 ب. پاسخگویی به نیازهای حیاتی
 ج. طرح نظریه جدید
 د. برای حل مشکل
۳. مصادیق و واقعیت های متعلق به تعاریف عملیاتی را چه می گویند؟
 الف. سازه یا معرف
 ب. مدل یا شاخص
 ج. نشانه یا سازه
 د. معرف یا شاخص
۴. کدام یک از انواع مقیاس های اندازه گیری دارای نقطه صفر مطلق مبدأ سنجش است؟
 الف. مقیاس ترتیبی
 ب. مقیاس عددی یا اسمی
 ج. مقیاس فاصله ای
 د. مقیاس نسبی
۵. داده های ثانویه شامل کدام بخش از اطلاعات است؟
 الف. داده های حاصل از جمع آوری پرسشنامه ها
 ب. داده های موجود در اسناد، مدارک و بایگانی ها
 ج. داده هایی که از مرحله دوم تحقیق جمع آوری می شوند.
 د. داده هایی که اهمیت بیشتری ندارند.
۶. کدامیک از گزینه های زیر به مطالعات پژوهشگر جهت می دهد و در یک راستا کانالیزه می کند؟
 الف. تجزیه و تحلیل داده ها
 ب. گردآوری داده ها
 ج. فرضیه های تحقیق
 د. گزارش تحقیق
۷. چگونه برنامه ریزی اجرایی تحقیق تسهیل می شود؟
 الف. با تهیه و تنظیم فرضیه ها
 ب. با بررسی ادبیات و سوابق موضوع
 ج. با تهیه و تنظیم طرح تحقیق
 د. با تعریف مسئله تحقیق

نام درس: روش تحقیق در مدیریت (مبانی روش تحقیق) (روشهای تحقیق و مآخذشناسی)
 رشته تحصیلی/کد درس: مدیریت بازرگانی (جبرانی ارشد ۱۲۱۸۱۲۱) - مدیریت صنعتی (۱۲۱۸۰۶۸) -
 مدیریت دولتی (جبرانی ارشد ۱۲۱۸۰۲۹) - مدیریت جهانگردی (۱۲۱۸۰۰۶)
 کلیه گرایشهای مدیریت، حسابداری، اقتصاد (تجمیع ۱۲۲۱۰۳۵) - حسابداری (سنتی ۱۲۱۸۰۹۲)
 کد سری سؤال: یک (۱) استفاده از: -- مجاز است.

۸. منظور از تناظر صوری چیست؟
 الف. فرضیه به تعداد سؤالهای فرعی تدوین شود.
 ب. فرضیه به تعداد سؤالهای اصلی تدوین شود.
 ج. هر فرضیه ارتباط منطقی با سؤالهای داشته باشد.
 د. نظریه به تعداد سؤالهای فرعی تدوین شود.
 ۹. کدام گزینه از ویژگیهای فرضیه خوب است؟
 الف. در فرضیه باید از واژهها و مفاهیم ارزشی استفاده کرد.
 ب. فرضیهها باید به صورت سؤال نباشد.
 ج. فرضیهها حتماً نباید با حقایق و قوانین و اصول مسلم علمی همسو باشند.
 د. فرضیهها باید آزمون پذیر باشند.
 ۱۰. در چه مرحله تحقیق، محقق آماده می شود تا مسئله را آن طور که یافته تعریف کند و اهداف تحقیق را بیان دارد؟
 الف. تشریح مسئله تحقیق و نگارش آن
 ب. شناسایی و تحلیل مسئله تحقیق
 ج. شناسایی و تحلیل مسئله تحقیق
 د. مطالعه ادبیات و سوابق مسئله تحقیق
 ۱۱. کدام گزینه از مشخصات تحقیقات کاربردی است؟
 الف. از نظر زمانی بعدتر از تحقیقات بنیادی انجام می گیرد.
 ب. هزینه بر است و احتیاج به منابع مالی زیادی دارد.
 ج. در این تحقیقات عمدتاً از روش مطالعه کتابخانه ای و بررسی متون و محتوای مطالب استفاده می شود.
 د. عمدتاً سازمانهای دولتی و خصوصی و کارخانه ها و گاه دانشگاه ها و مراکز تحقیقاتی این تحقیقات را انجام می دهند.
 ۱۲. در کدام یک از تحقیقات طیف یا دامنه تغییرات ضریب همبستگی، از +۱ تا -۱ نوسان دارد؟
 الف. تحقیق پیمایشی
 ب. تحقیق همبستگی
 ج. تحقیق توصیفی تحلیل محتوا
 د. تحقیق کیفی رتبه ای
 ۱۳. تحقیقات توصیفی در چه بعدی به کشف حقایق و واقعیت های خلقت می انجامد؟
 الف. بعد کاربردی
 ب. بعد اجتماعی
 ج. بعد بنیادی
 د. بعد تاریخی
 ۱۴. پسوند COM به چه معناست؟
 الف. پروتکل فرامتنی
 ب. شبکه گسترده جهانی
 ج. مراکز دانشگاهی
 د. سازمانی تجاری

نام درس: روش تحقیق در مدیریت (مبانی روش تحقیق) (روشهای تحقیق و مآخذشناسی)
 رشته تحصیلی/ کد درس: مدیریت بازرگانی (جبرانی ارشد ۱۲۱۸۱۲۱) - مدیریت صنعتی (۱۲۱۸۰۶۸) -
 مدیریت دولتی (جبرانی ارشد ۱۲۱۸۰۲۹) - مدیریت جهانگردی (۱۲۱۸۰۰۶)
 کلیه گرایشهای مدیریت، حسابداری، اقتصاد (تجمیع ۱۲۲۱۰۳۵) - حسابداری (سنتی ۱۲۱۸۰۹۲)
 کد سری سؤال: یک (۱) استفاده از: -- مجاز است.

۱۵. چه منابعی به صورت کتبی نوشته شده‌اند و با پدیده و واقعه مورد مطالعه رابطه مستقیم دارند؟
 الف. منابع شفاهی
 ب. منابع مکتوب
 ج. منابع ساختمانی
 د. اسناد الکترونیکی
۱۶. ابزار مکتوبی که با توجه به اقلام و اطلاعات خاصی تنظیم می‌شود و محقق از آن برای ثبت مشاهدات در پدیده مورد مطالعه استفاده می‌کند، چه نامیده می‌شود؟
 الف. کارت مشاهده
 ب. کارت مصاحبه
 ج. پرسشنامه
 د. نظر سنجی
۱۷. کدام گزینه معمولاً کمتر روش مستقل گردآوری اطلاعات محسوب می‌شود، ولی به عنوان روش‌های مکمل از آن‌ها استفاده می‌کنند و از اعتبار بسیار بالایی نیز برخوردارند؟
 الف. روش‌های صوتی و تصویری
 ب. روش آزمون
 ج. روش ترکیبی
 د. روش مصاحبه
۱۸. در چه روشی محقق یا مصاحبه‌گر هم می‌تواند از ابزار استاندارد استفاده کند و الویت را به این ابزارها بدهد، همچنین از ابزار خودساخته استفاده کند؟
 الف. مصاحبه منظم
 ب. مصاحبه نامنظم
 ج. مشاهده
 د. روش ترکیبی
۱۹. مشاهده‌ای که به روش سطحی یا ساده مشهور است جزء کدام دسته از روش‌های مشاهده است؟
 الف. کنترل شده
 ب. مشارکتی
 ج. کنترل نشده
 د. فردی
۲۰. کدام گزینه از محاسن روش مشاهده است؟
 الف. کسب حجم اطلاعات وسیع
 ب. عدم دخالت تعصبات مشاهده‌گر
 ج. اخذ مجوز از مقامات مسئول و هماهنگی بیشتر
 د. ثبت دقیق اطلاعات
۲۱. روش آزمون صوتی و تصویری جزو کدام یک از روش‌های گردآوری اطلاعات است؟
 الف. روش میدانی
 ب. روش کتابخانه‌ای
 ج. روش مشاهده
 د. روش پرسشنامه
۲۲. کدام دسته از سؤالات به سؤالات نگرش‌سنج یا گرایش‌سنج معروف‌اند؟
 الف. سؤالات وزنی
 ب. سؤالات مقایسه‌ای
 ج. سؤالات ترتیبی
 د. سؤالات طیفی

نام درس: روش تحقیق در مدیریت (مبانی روش تحقیق) (روشهای تحقیق و مآخذشناسی)
رشته تحصیلی/ کد درس: مدیریت بازرگانی (جبرانی ارشد ۱۲۱۸۱۲۱) - مدیریت صنعتی (۱۲۱۸۰۶۸) -
مدیریت دولتی (جبرانی ارشد ۱۲۱۸۰۲۹) - مدیریت جهانگردی (۱۲۱۸۰۰۶)
کلیه گرایشهای مدیریت، حسابداری، اقتصاد (تجميع ۱۲۲۱۰۳۵) - حسابداری (ستتی ۱۲۱۸۰۹۲)
کد سری سؤال: یک (۱) استفاده از: -- مجاز است.

۲۳. روش وضعی نام دیگر کدامیک از روشهای نمونه گیری است؟
الف. روش احتمالی
ب. روش تصادفی
ج. روش غیراحتمالی
د. روش قرعه کشی
۲۴. کدام گزینه از ویژگی های نمونه خوب است؟
الف. برخورد در زمان وقت در انتخاب نمونه ها
ب. ترجیحاً نمونه گیری خوشه ای
ج. داشتن اعتبارات و کفایت وصول به مقصود
د. داشتن پایایی
۲۵. کدامیک از آزمون های همبستگی در نمونه های کوچک کاربرد دارد و در مطالعه تفاوت و اثرگذاری در دو متغیر استفاده می شود؟
الف. آزمون F
ب. آزمون اسپیرمن
ج. آزمون T
د. آزمون خی دو

«سؤالات تشریحی»

۱. شش مورد از ویژگیها و قواعد تحقیق علمی را توضیح دهید. (۱/۵ نمره)

۲. دو معیار را برای طبقه بندی فرضیه ها تشریح کنید. (۱ نمره)

۳. دو نمونه برای نگارش پانویس و پی نوشت را ذکر کنید. (۱ نمره)

۴. مزایا و معایب روش مصاحبه را تشریح نمایید. (۱/۵ نمره)

۵. مصاحبه مبتنی بر پرسشنامه را شرح دهید. (۱ نمره)

تعداد سوالات: تستی: ۲۵ تشریحی: ۵
 زمان آزمون (دقیقه): تستی: ۷۰ تشریحی: ۷۰

نام درس: پژوهش عملیاتی ۱
 رشته تحصیلی / کد درس: حسابداری (۱۳۱۸۰۹۳)

مجاز است.

ماشین حساب

استفاده از:

کد سری سؤال: یک (۱)

امام خمینی (ره): این محرم و صفر است که اسلام را زنده نگه داشته است.

۱- کدامیک از مدل‌های زیر، انتزاعی‌ترین نوع مدل‌ها است؟

الف. شمایل‌یابی ب. قیاسی ج. ریاضی د. شمایل‌یابی و قیاسی

۲- کانون توجه OR یا چیست؟

الف. تصمیم‌گیری ب. حل مسئله ج. فرضیه‌سازی د. مدلسازی

۳- در یک مدل برنامه‌ریزی تولید برای شش ماه، امکان تولید در دو شیفت عادی و اضافه کاری وجود دارد تولید هر

ماه ممکن است در همان ماه یا در ماه‌های بعد به فروش برسد. متغیر x_{ijk} مقدار تولید را با توجه به $i = 1, 2, 3, 4, 5, 6$

ماه تولید $j = 1, 2$ شیفت تولید و $k = 1, 2, 3, 4, 5, 6$ ماه فروش نشان می‌دهد. کدام یک از متغیرهای تصمیم برای این

مدل معتبر نیست؟

الف. x_{134} ب. x_{211} ج. x_{344} د. x_{334}

۴- کدامیک از گزینه‌های زیر محدودیتی برای برنامه‌ریزی خطی می‌تواند مطرح شود؟

الف. $x_1 - 15 \leq \frac{x_p}{x_s}$ ب. $\frac{x_1 + x_p}{x_s} \leq 15$

ج. $x_1 x_p + x_p x_s \leq 15$ د. $\sqrt{x_1} + x_p + x_s \leq 15$

۵- ۱۰۰ نفر باید در چادرهای ۱۰ و ۱۵ نفره اسکان یابند. تعداد کل چادرهایی که این افراد می‌توانند با خود حمل نمایند

۱۲ چادر است. محدودیت‌های مربوطه کدام است:

الف. $x_1 + x_p \leq 12$ $10x_1 + 15x_p = 100$ ب. $x_1 + x_p \leq 12$ $10x_1 + 15x_p \geq 100$

ج. $x_1 + x_p \geq 12$ $15x_1 + 10x_p \geq 100$ د. $x_1 + x_p \leq 12$ $15x_1 + 10x_p \geq 100$

تعداد سوالات: تستی: ۲۵ تشریحی: ۵
 زمان آزمون (دقیقه): تستی: ۷۰ تشریحی: ۷۰

نام درس: پژوهش عملیاتی ۱
 رشته تحصیلی / کد درس: حسابداری (۱۳۱۸۰۹۳)

مجاز است.

ماشین حساب

استفاده از:

کد سری سؤال: یک (۱)

۶- در صورتیکه حداکثر اختلاف تولید دو محصول ۲۵۰ واحد باشد، محدودیت متناظر کدام گزینه زیر است؟

الف. $x_1 + x_2 = 250$

ب. $x_1 - x_2 \leq 250$

ج. $-250 \leq x_1 + x_2 \leq 250$

د. $x_2 - 250 \leq x_1 \leq x_2 + 250$

۷- در صورتیکه پیش بینی شود با احتمال ۵۰٪ سود هر واحد محصول ۸ ریال و با احتمال ۲۰٪ سود هر واحد محصول

۴ ریال باشد، کدامیک از مقروضات برنامه ریزی خطی نقض گردیده است؟

الف. فرض تناسب

ب. فرض جمع پذیری

ج. فرض بخش پذیری

د. فرض معین بودن

۸- در حل ترسیمی مدل برنامه ریزی خطی، نقطه ای که دو تقاطع فقط دو خط از خطوط مرزی قرار گیرد لزوماً یک نقطه

الف. بهینه است ب. تبهکن است ج. غیر موجه است د. گوشه است

۹- متغیرهای کمبود بیانگر کدامیک از گزینه های زیر هستند؟

الف. بیش از حد لازم مصرف شده

ب. منابع مصرف شده

ج. موجودی منابع

د. سهم سود

۱۰- در صورتی که در یک مدل ریاضی از چهار فرض برنامه ریزی خطی فرض تناسب حذف شود، مدل حاصل:

الف. مدلی خطی است

ب. مدلی غیر خطی است

ج. مدلی عدد صحیح است

د. مدلی از برنامه ریزی آرمانی است

تعداد سوالات: تستی: ۲۵ تشریحی: ۵
 زمان آزمون (دقیقه): تستی: ۷۰ تشریحی: ۷۰

نام درس: پژوهش عملیاتی ۱
 رشته تحصیلی / کد درس: حسابداری (۱۲۱۸۰۹۳)

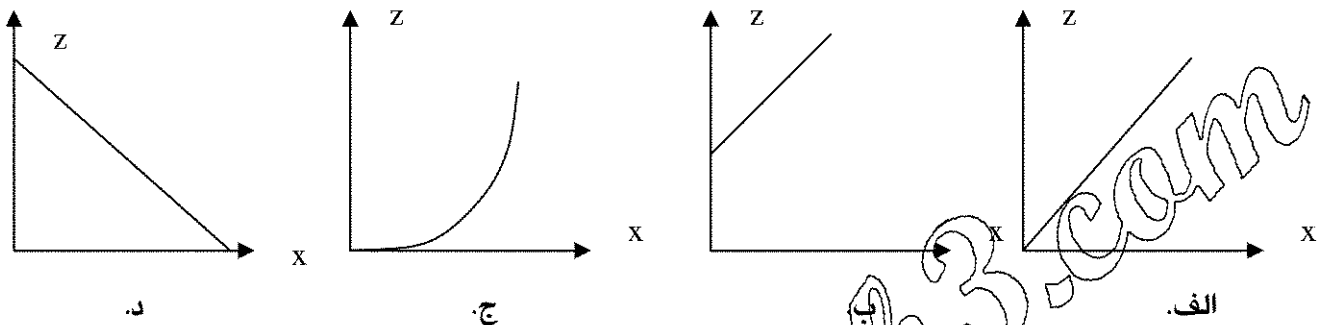
مجاز است.

ماشین حساب

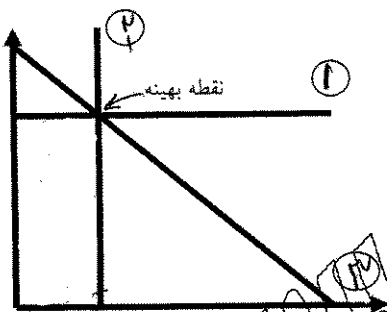
استفاده از:

کد سری سؤال: یک (۱)

۱۱- اگر X میزان تولید یک محصول و Z نشان دهنده سود ناشی از تولید آن باشد، کدام یک از اشکال زیر نشان دهنده ارتباط این دو متغیر در یک مدل برنامه ریزی خطی است؟



۱۲- شکل زیر نمایش ترسیمی یک مدل برنامه ریزی خطی را نشان می دهد کدام عبارت درست است؟



الف. محدودیت اول زائد و فعال است

ب. محدودیت دوم زائد و فعال است

ج. محدودیت سوم زائد و فعال است

د. محدودیت سوم زائد و غیر فعال است

۱۳- کدامیک از عبارت ها برای یک مدل $l.p$ صحیح است؟

الف. هر $l.p$ یک جواب بهینه دارد

ب. در جواب بهینه از همه منابع استفاده می شود

ج. جواب بهینه همیشه در دورترین نقطه قرار دارد.

د. اگر یک جواب بهینه وجود داشته باشد همیشه حداقل یک نقطه گوشه وجود دارد

تعداد سوالات: تستی: ۲۵ تشریحی: ۵
 زمان آزمون (دقیقه): تستی: ۷۰ تشریحی: ۷۰

نام درس: پژوهش عملیاتی ۱
 رشته تحصیلی / گد درس: حسابداری (۱۳۱۸۰۹۳)

مجاز است.

ماشین حساب

استفاده از:

گد سری سؤال: یک (۱)

۱۴- منطقه موجه برنامه ریزی خطی با دو متغیر و با دو محدودیت کوچکتر یا مساوی که تمام ضرایب متغیرهای تصمیم و اعداد سمت راست مثبت است. کدام است ؟

الف. چهار ضلعی ب. سه ضلعی ج. پنج ضلعی د. چهار و سه ضلعی

۱۵- مدل زیر مفروض است کدام گزینه صحیح است ؟

$$Max(z) = 15x_1 + 12x_2$$

$$5x_1 + 4x_2 \leq 20$$

$$x_1 + x_2 \geq 5$$

$$x_1, x_2 \geq 0$$

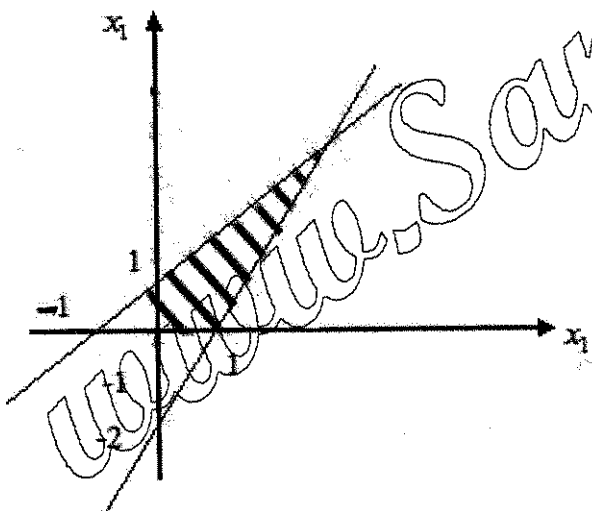
الف. بی نهایت جواب

ب. جوابهای بهینه چند گانه

ج. حالت تبهکن

د. جواب ندارد

۱۶- فضای هاشور خورده موجه زیر مفروض است معادلات مربوطه کدامند ؟



الف. $x_1 - 0.5x_2 \geq 1$ $-x_1 + x_2 \leq 1$

ب. $x_1 - 0.5x_2 \leq 1$ $-x_1 + x_2 \leq 1$

ج. $x_1 - 0.5x_2 \leq 1$ $-x_1 + x_2 \geq 1$

د. $x_1 - 0.5x_2 \geq 1$ $-x_1 + x_2 \geq 1$

تعداد سوالات: تستی: ۲۵ تشریحی: ۵
 زمان آزمون (دقیقه): تستی: ۷۰ تشریحی: ۷۰

نام درس: پژوهش عملیاتی ۱
 رشته تحصیلی / کد درس: حسابداری (۱۳۱۸۰۹۳)

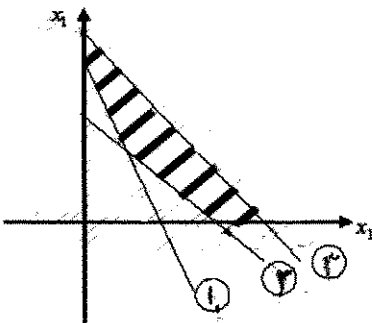
مجاز است.

ماشین حساب

استفاده از:

کد سری سؤال: یک (۱)

۱۷- تعداد متغیرهای لازم برای مساله شکل زیر به روش سیمپلکس چند تا است ؟



ب. ۷

الف. ۳

د. ۵

ج. ۶

۱۸- فضای جواب یک مدل برنامه ریزی خطی به صورت زیر است اگر بخواهیم این مساله دارای جواب بهینه متعدد

باشد باید تابع هدف آن بصورت کدامیک از موارد ذیل باشد ؟

$$x_1 \leq 4$$

$$x_p \leq 4$$

$$x_1 + x_p \geq 2$$

$$x_1, x_p \geq 0$$

$$\max(Z) = x_1$$

$$\max(Z) = x_1 + x_p$$

$$\min(Z) = x_1$$

$$\min(Z) = x_p$$

۱۹- در هر تکرار سیمپلکس از نوع max چنانچه یک متغیر جدید جایگزین متغیر دیگری در پایه قرار گیرد در آن صورت

آن متغیر ...

الف. سبب سود بیشتر بازای یک واحد می گردد

ب. دارای مثبت ترین ضریب در سطر تابع هدف می باشد

ج. دارای منفی ترین ضریب در سطر تابع هدف می گردد

د. دارای ارزش منفی می باشد

تعداد سوالات: تستی: ۲۵ تشریحی: ۵
 زمان آزمون (دقیقه): تستی: ۷۰ تشریحی: ۷۰

نام درس: پژوهش عملیاتی ۱
 رشته تحصیلی / کد درس: حسابداری (۱۲۱۸۰۹۳)

مجاز است.

ماشین حساب

استفاده از:

کد سری سؤال: یک (۱)

۲۰- اگر مدل روبرو از روش سیمپلکس حل گردد متغیر ورودی و خروجی اولین جدول کدام است ؟

$$\max(z) = 3x_1 + 2x_2$$

$$x_1 \geq 2x_2$$

$$x_1 - 2x_2 \leq -6$$

$$x_1 + 2x_2 = 10$$

$$x_1, x_2 \geq 0$$

الف. x_2 ورودی، R_2 خروجی

ب. x_2 ورودی، R_1 خروجی

ج. x_2 ورودی، R_1 خروجی

د. x_1 ورودی، R_2 خروجی

۲۱- در مدلی با n متغیر و m محدودیت تعداد متغیرهای غیر اساسی برابر است با :

د. $m-n$

ج. $n-m$

ب. m

الف. n

۲۲- مقدار بهینه جدول نهایی با مقدار جدول ما قبل یکسان می باشد این مساله کدام حالت را دارد؟

الف. بهینه چند گانه ب. بهینه تبهکن ج. بهینه نامحدود د. فاقد جواب بهینه

۲۳- متغیر ورودی کدام است ؟

الف. x_1

ب. S_p

ج. اگر تابع هدف \max باشد بهینه است

د. اگر تابع هدف \min باشد S_1 واحد پایه می شود

	Z	x_1	x_2	S_1	S_2	
Z	۱	۰	۲	۱	۰	۵۴
x_1	۰	۱	۴	۴	۰	۶
S_2	۰	۰	۲	۲	۱	۸

تعداد سوالات: تستی: ۲۵ تشریحی: ۵
 زمان آزمون (دقیقه): تستی: ۷۰ تشریحی: ۷۰

نام درس: پژوهش عملیاتی ۱
 رشته تحصیلی / گد درس: حسابداری (۱۳۱۸۰۹۳)

مجاز است.

ماشین حساب

استفاده از:

گد سری سؤال: یک (۱)

۲۴- با توجه به جدول بهینه زیر کدام گزینه صحیح است ؟

	Z	X_1	X_2	S_1	S_2	
Z	۱	۰	۰	۲	۰	۴۲
X_2	۰	۲	۱	۱	۰	۳
		۷	۷	۷		
S_2	۰	۴۵	۰	۲	۱	۱۵
		۷	۷	۷		

الف. مدل دارای بینهایت جواب بهینه گوشه است.

ب. مدل دارای دو جواب بهینه است.

ج. می توان با توجه به جدول جواب بهینه دیگر با سود ۴۲ مشخص است.

د. مدل دارای یک جواب بهینه با مقدار $x_1 = 3$ می باشد.

۲۵- دوگان مسئله زیر چند محدودیت دارد؟

$$\min z = x_1 + x_2 + x_3$$

$$2x_1 + x_3 \leq 4$$

$$x_1 + 3x_3 \geq 4$$

$$x_1 \leq 0, x_2 \geq 0, x_3$$

ازاد در علامت

ب. ۲

الف. ۱

د. ۴

ج. ۳

تعداد سوالات: تستی: ۲۵ تشریحی: ۵
 زمان آزمون (دقیقه): تستی: ۷۰ تشریحی: ۷۰

نام درس: پژوهش عملیاتی ۱
 رشته تحصیلی / کد درس: حسابداری (۱۳۱۸۰۹۳)

مجاز است.

ماشین حساب

استفاده از:

کد سری سؤال: یک (۱)

سئوالات تشریحی

۱- یک شرکت تولید کننده لوازم خانگی سه نوع وسیله آشپزخانه تولید می کند. نیروی کار مورد نیاز و هزینه هر واحد تولید آنها طبق جدول زیر تعریف شده است:

وسیله آشپزخانه	هزینه هر واحد تولید	نیروی کار مورد نیاز هر واحد
A	۷۰۰۰	۵
B	۱۰۰۰۰	۴
C	۵۰۰۰	۶

کل بودجه کارخانه ۲۰۰/۰۰۰ ریال است و کل ساعات کار کارخانه ۶۰۰ ساعت است. تقاضای وسیله آشپزخانه نوع A، ۲۰ واحد و نوع B، ۳۰ واحد و برای نوع C، ۱۵ واحد می باشد. قیمت هر واحد از وسایل آشپزخانه به ترتیب ۲۰/۰۰۰ و ۱۵۰/۰۰۰ و ۱۲۰/۰۰۰ ریال می باشد. مسئله را بگونه ای فرموله کنید که ضمن بر آورده ساختن تقاضای هر یک از وسایل آشپزخانه سود کل تولیدات حداکثر شود (۲نمره)

۲- با حل ترسیمی مسئله زیر معین نمایید چه حالت خاصی در آن وجود دارد. (۱ نمره)

$$Maxz = 2x_1 + x_2$$

$$x_1 - x_2 \leq 10$$

$$2x_1 - x_2 \leq 40$$

$$x_1, x_2 \geq 0$$

تعداد سوالات: تستی: ۲۵ تشریحی: ۵
 زمان آزمون (دقیقه): تستی: ۷۰ تشریحی: ۷۰

نام درس: پژوهش عملیاتی ۱
 رشته تحصیلی / گد درس: حسابداری (۱۳۱۸۰۹۳)

مجاز است.

ماشین حساب

استفاده از:

کد سری سؤال: یک (۱)

۳- مسئله زیر را حل نمایید و حالت خاص آنرا بیان کنید. (۱/۵ نمره)

$$MaxZ = x_p$$

$$x_1 + 2x_p \leq 4$$

$$x_1 + x_p \geq 2$$

$$x_1, x_p \geq 0$$

۴- در روش لاو مرحله ای: (نمره)

الف. معنی جواب بهینه برای مرحله اول چیست؟

ب. چرا باید تابع هدف در انتهای مرحله اول صفر باشد تا مسئله شدنی گردد؟

۵- دوگان مسئله زیر را بنویسید. (نمره)

$$Maxz = 3x_1 + 5x_p + x_m + 10x_f$$

$$x_1 + x_p - x_f \leq 100$$

$$x_p + x_m \geq 10$$

$$x_1 + x_p - 3x_m = 90$$

$$x_1, x_p, x_m, x_f \geq 0$$

نا مقید

تعداد سوالات: تستی: ۲۴ تشریحی: ۵
 زمان آزمون (دقیقه): تستی: ۷۵ تشریحی: ۸۰

نام درس: پژوهش عملیاتی ۲
 رشته تحصیلی / گد درس: حسابداری ۱۲۱۸۰۹۴

مجاز است.

ماشین حساب

استفاده از:

گد سری سؤال: یک (۱)

امام خمینی^(ره): این محرم و صفر است که اسلام را زنده نگه داشته است.

۱. مسئله برنامه ریزی خطی زیر و قسمتی از جدول نهایی آن را که به روش سیمپلکس حل شده است در نظر بگیرید.
 مقدار تابع هدف چقدر است؟

$$\text{Max } z = 8x_1 + 4x_2$$

$$x_1 + x_2 \leq 10$$

$$5x_1 + x_2 \leq 15$$

$$x_1, x_2 \geq 0$$

اساسی	Z	x_1	x_2	s_1	s_2	R.H.S
Z	۱	۰	۰	۳	۱	
x_2	۰	۰	۱	$\frac{5}{4}$	$-\frac{1}{4}$	
x_1	۰	۱	۰	$-\frac{1}{4}$	$\frac{1}{4}$	

۴۶.د

۴۵.ج

۴۲.ب

۴۳. الف

۲. با استفاده از جدول بهینه قبل مقادیر b_1, b_2 کدامند؟

ب. $b_1 = \frac{3}{4}, b_2 = \frac{25}{4}$

الف. $b_1 = 10, b_2 = \frac{20}{3}$

د. $b_1 = \frac{5}{4}, b_2 = \frac{35}{4}$

ج. $b_1 = \frac{5}{4}, b_2 = \frac{30}{4}$

۳. در تکرار آخر سیمپلکس تجدید نظر شده، یکی از عناصر \bar{b} صفر است. مدل دارای حالت خاص:

ب. فاقد ناحیه موجه است

الف. تبهگن است

د. ناحیه موجه بیکران است.

ج. بهینه چند گانه است

۴. یک مسئله برنامه ریزی خطی با ۴ محدودیت دارای ۳ متغیر تصمیم، و یک متغیر کمکی و ۳ متغیر مصنوعی است.
 تعداد نقاط گوشه این مسئله معادل است با:

د. ۳۵ گوشه

ج. ۲۰ گوشه

ب. ۱۵ گوشه

الف. ۱۰ گوشه

* مدل برنامه ریزی خطی زیر و جدول آخر آن داده شده است:

$$\text{max } z = 3x_1 + x_2$$

$$2x_1 + x_2 \geq 4$$

$$x_2 \geq 2$$

$$x_1, x_2 \geq 0$$

تعداد سوالات: تستی: ۲۴ تشریحی: ۵
 زمان آزمون (دقیقه): تستی: ۷۵ تشریحی: ۸۰

نام درس: پژوهش عملیاتی ۲
 رشته تحصیلی / کد درس: حسابداری ۱۲۱۸۰۹۴

مجاز است.

ماشین حساب

استفاده از:

کد سری سؤال: یک (۱)

اساسی	Z	X_1	X_2	S_1	S_2	R_1	R_2	R.H.S
Z	۱	۰	۰	a	$\frac{1}{2}$	$(m + \frac{3}{2})$	b	C
?	۰	۱	۰	$\frac{-1}{2}$	$\frac{1}{2}$	$\frac{1}{2}$	$\frac{-1}{2}$	d
?	۰	۰	۱	۰	f	۰	۱	e

۵. متغیرهای اساسی جدول سیتمیکس فوق به ترتیب کدام است؟

الف. S_2, S_1

ب. R_2, R_1

ج. X_2, X_1

د. X_1, X_2

۶. با توجه به اطلاعات سؤال ۵: مقدار a کدام است؟

الف. $\frac{-3}{2}$

ب. $\frac{-1}{2}$

ج. $\frac{1}{2}$

د. $\frac{1}{2}$

۷. با توجه به اطلاعات سؤال ۵، مقدار b کدام است؟

الف. M

ب. $M - \frac{1}{2}$

ج. $\frac{1}{2}$

د. $-M + \frac{1}{2}$

۸. مقادیر (e.d.c) در جدول سؤال ۵ کدامند؟

الف. (۲.۴.۵)

ب. (۲.۴.۳)

ج. (۱.۲.۳)

د. (۲.۱.۵)

۹. مقدار f در جدول سؤال ۵ کدام است؟

الف. صفر

ب. -۱

ج. $\frac{1}{2}$

د. $\frac{-1}{2}$

* مدل زیر و جدول بهینه آن را در

نظر بگیرید و به سؤالات ۱۰ تا ۱۴ پاسخ دهید.

اساسی	Z	X_1	X_2	S_1	S_2	R.H.S
Z	۱	۰	۰	$\frac{1}{4}$	$\frac{5}{4}$	$\frac{13}{2}$
X_2	۰	۰	۱	$\frac{1}{2}$	$\frac{-1}{2}$	\bar{b}_1
X_1	۰	۱	۰	$\frac{-1}{4}$	$\frac{3}{4}$	$\frac{3}{2}$

$$Maxz = 3x_1 + 2x_2$$

$$2x_1 + 3x_2 \leq 6$$

$$2x_1 + x_2 \leq 4$$

$$x_1, x_2 \geq 0$$

تعداد سوالات: تستی: ۲۴ تشریحی: ۵
 زمان آزمون (دقیقه): تستی: ۷۵ تشریحی: ۸۰

نام درس: پژوهش عملیاتی ۲
 رشته تحصیلی / کد درس: حسابداری ۱۲۱۸۰۹۴

مجاز است.

ماشین حساب

استفاده از:

کد سری سؤال: یک (۱)

۱۰. مقدار \bar{b}_1 عبارت است از:

- الف. ۱. ب. ۲. ج. ۳. د. ۴.

۱۱. حدود تغییرات منبع دوم چقدر باشد تا جدول همچنان شدنی بماند؟

- الف. $\begin{bmatrix} 1 \\ 3 \\ 3 \end{bmatrix}$. ب. $[4, 6]$. ج. $(-\infty, +\infty)$. د. $[0, 2]$.

۱۲. حدود مجاز ضریب x_2 در تابع هدف را تعیین کنید.

- الف. $2 \leq C_p \leq 3$. ب. $\frac{3}{2} \leq C_p \leq 2$. ج. $3 \leq C_p \leq \frac{9}{2}$. د. $\frac{3}{2} \leq C_p \leq \frac{9}{2}$.

۱۳. اضافه شدن کدام محدودیت موثر است؟

- الف. $x_1 + x_p = \frac{5}{2}$. ب. $x_1 + x_p \leq 4$. ج. $x_1 - x_p \geq 0$. د. $x_1 + x_p \leq 1$.

۱۴. اضافه شدن متغیر x_3 با کدام یک از مشخصات زیر بهینگی را مختل می کند؟

- الف. $A_3 = \begin{bmatrix} 3 \\ 1 \end{bmatrix}, C_3 = 1$. ب. $A_3 = \begin{bmatrix} 2 \\ 2 \end{bmatrix}, C_3 = 4$. ج. $A_3 = \begin{bmatrix} 1 \\ 1 \end{bmatrix}, C_3 = 1$. د. $A_3 = \begin{bmatrix} 1 \\ 3 \end{bmatrix}, C_3 = 3$.

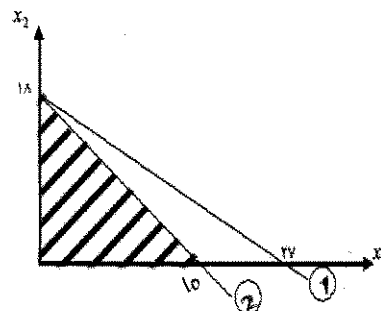
۱۵. ضریب x_1 در تابع هدف (C_1) در کدامیک از دامنه های زیر جواب بهینه فعلی را همچنان بهینه نگاه می دارد؟

$$\max z = 15x_1 + 5x_p$$

$$2x_1 + 3x_p \leq 54$$

$$4x_1 + 2x_p \leq 40$$

$$x_1, x_p \geq 0$$



- الف. $2 \leq C_1 \leq 7$. ب. $5 \leq C_1 \leq 12$.

- ج. $\frac{10}{3} \leq C_1 \leq 10$. د. $\frac{10}{3} \leq C_1 \leq 15$.

تعداد سوالات: تستی: ۲۴ تشریحی: ۵
 زمان آزمون (دقیقه): تستی: ۷۵ تشریحی: ۸۰

نام درس: پژوهش عملیاتی ۲
 رشته تحصیلی / کد درس: حسابداری ۱۲۱۸۰۹۴

مجاز است.

ماشین حساب

استفاده از:

کد سری سؤال: یک (۱)

* مسئله زیر را در نظر بگیرید:

$$\max z = x_1 + 3x_2$$

$$x_1 + x_2 \leq 6 - \Delta$$

$$-x_1 + 2x_2 \leq 6 + \Delta$$

$$x_1, x_2 \geq 0$$

$\Delta = 0$

جدولی
 دوم

م اساسی	Z	X_1	X_2	S_1	S_2	R.H.S
Z	۱			$\frac{5}{3}$	$\frac{2}{3}$?
X_1	۰			$\frac{2}{3}$	$-\frac{1}{3}$	۲
X_2	۰			$\frac{1}{3}$	$\frac{1}{3}$	۴
Z	۱			۳	۰	?
S_2	۰			-۲	۱	$-6 + 3\Delta$
X_2	۰			۱	۰	$6 - \Delta$

۱۶. مقدار $Z(\Delta)$ را در جدولی دوم محاسبه نمایید.

الف. $18 - 3\Delta$ ب. $6 - \Delta$ ج. $-6 + 3\Delta$ د. $-18 + 9\Delta$

۱۷. در سؤال ۱۶، به ازای چه دامنه ای از Δ ، جدولی دوم بهینه باقی می ماند؟

الف. $2 \leq \Delta \leq 6$ ب. $0 \leq \Delta \leq 6$ ج. $-2 \leq \Delta \leq 0$ د. $\Delta \geq 2$

در یک مرحله از حل مسئله به روش سیمپلکس اصلاح شده، ماتریس B^{-1} و ستون لولا به صورت زیر داده شده است.

عنصر لولا: $\frac{3}{2}$

$$A\bar{j} = \begin{bmatrix} 1 \\ 2 \\ 3 \\ 2 \end{bmatrix}$$

$$B^{-1} = \begin{bmatrix} 1 & 0 \\ 2 & 1 \\ -1 & 1 \\ 2 & 1 \end{bmatrix}$$

با اطلاعات فوق به سؤالات ۱۸ و ۱۹ پاسخ دهید.

تعداد سوالات: تستی: ۲۴ تشریحی: ۵
 زمان آزمون (دقیقه): تستی: ۷۵ تشریحی: ۸۰

نام درس: پژوهش عملیاتی ۲
 رشته تحصیلی / کد درس: حسابداری ۱۲۱۸۰۹۴

مجاز است.

ماشین حساب

استفاده از:

کد سری سؤال: یک (۱)

۱۸. ماتریس مقدماتی مرحله بعد عبارت است از:

$$E = \begin{bmatrix} 1 & -1 \\ 2 & 3 \\ -1 & 2 \\ 2 & 3 \end{bmatrix} \quad \text{ب.}$$

$$E = \begin{bmatrix} 1 & 0 \\ 2 & 3 \\ 3 & 1 \\ 2 & 3 \end{bmatrix} \quad \text{الف.}$$

$$E = \begin{bmatrix} 1 & 0 \\ 0 & 1 \end{bmatrix} \quad \text{د.}$$

$$E = \begin{bmatrix} 1 & 3 \\ 3 & 2 \\ 0 & 3 \end{bmatrix} \quad \text{ج.}$$

۱۹. ماتریس پایه ای جدید در مرحله بعد به صورت زیر است:

$$B_{new}^{-1} = \begin{bmatrix} 1 & 0 \\ 2 & 3 \\ 3 & 1 \end{bmatrix} \quad \text{ب.}$$

$$B_{new}^{-1} = \begin{bmatrix} 1 & -1 \\ 2 & 3 \\ 0 & 3 \end{bmatrix} \quad \text{الف.}$$

$$B_{new}^{-1} = \begin{bmatrix} 1 & -1 \\ 3 & 3 \\ -1 & 2 \\ 3 & 3 \end{bmatrix} \quad \text{د.}$$

$$B_{new}^{-1} = \begin{bmatrix} 2 & 1 \\ 3 & 3 \\ -1 & 2 \\ 3 & 3 \end{bmatrix} \quad \text{ج.}$$

۲۰. اگر $C_{ij} - U_i - V_j$ برای بعضی از متغیرهای غیر اساسی در مدل حمل و نقل دارای مقدار منفی باشد، مسئله کدام حالت را دارد؟

- الف. تبهگن
 ب. بهینه چندگانه
 ج. تبهگن و دارای جواب بهینه چندگانه
 د. بدون حالت خاص

۲۱. کدامیک از روشهای زیر برای یافتن جواب موجه اولیه در مدل حمل و نقل بکار می روند؟

- الف. تقریب و گل
 ب. MODI
 ج. پله سنگ
 د. تقریب و گل و حداقل هزینه

تعداد سوالات: تستی: ۲۴ تشریحی: ۵
 زمان آزمون (دقیقه): تستی: ۷۵ تشریحی: ۸۰

نام درس: پژوهش عملیاتی ۲
 رشته تحصیلی / کد درس: حسابداری ۱۲۱۸۰۹۴

مجاز است.

ماشین حساب

استفاده از:

کد سری سؤال: یک (۱)

۲۲. تعداد متغیرهای اساسی مدل حمل و نقل کدام است؟

ب. $m \times n$

الف. $m + n$

د. $(m \times n) - 1$

ج. $m + n - 1$

۲۳. حل مسئله تخصیص به روش مجارستانی وقتی به جواب نهایی رسیده است که حداقل تعداد خطوط پوشش

ب. مساوی $n-1$ باشد.

الف. بزرگتر از n باشد

د. مساوی n باشد

ج. کوچکتر از n باشد

۲۴. جواب بهینه مسئله تخصیص زیر برابر است با :

د. ۱۲

ج. ۱۱

ب. ۱۰

الف. ۸

شغل \ فرد	۱	۲
۱	۵	۴
۲	۴	۶
۳	۵	۶

تعداد سوالات: تستی: ۲۴ تشریحی: ۵
 زمان آزمون (دقیقه): تستی: ۷۵ تشریحی: ۸۰

نام درس: پژوهش عملیاتی ۲
 رشته تحصیلی / کد درس: حسابداری ۱۲۱۸۰۹۴

مجاز است.

ماشین حساب

استفاده از:

کد سری سؤال: یک (۱)

سئوالات تشریحی

۱. مسئله زیر را با استفاده از روش اصلاح شده حل کنید. (۵/۱ نمره)

$$MaxZ = 3x_1 + 2x_2$$

$$2x_1 + x_2 \leq 4$$

$$x_1 + 2x_2 \leq 6$$

$$x_1, x_2 \geq 0$$

۲. مسئله زیر و جدول بهینه آن را در نظر بگیرید. (۲ نمره)

$$MinZ = 36x_1 + 40x_2$$

$$3x_1 + 2x_2 \geq 7$$

$$2x_1 + 4x_2 \geq 10$$

$$x_1, x_2 \geq 0$$

	Z	x_1	x_2	S_1	S_2	R_1	R_2	R.H.S
Z	1	0	0	-8	-6	$-m+8$	$-m+6$	116
x_1	0	1	0	$\frac{1}{2}$	$\frac{1}{4}$	$\frac{1}{2}$	$\frac{1}{4}$	1
x_2	0	0	1	$\frac{1}{4}$	$\frac{3}{8}$	$\frac{1}{4}$	$\frac{3}{8}$	2

الف. تغییر A_1 به $\begin{bmatrix} 2 \\ 3 \end{bmatrix}$ چه تاثیری در جواب مسئله می گذرد؟

ب. اثر تغییر C_1 به ۴۲ چیست؟

ج. اثر محدودیت جدید $x_1 + x_2 \geq 4$ در مسئله چه می باشد؟

د. افزودن متغیر جدید با $A_3 = \begin{bmatrix} 4 \\ 6 \end{bmatrix}$ و $C_3 = ۲۴$ چه اثری بر جواب نهایی دارد؟

تعداد سوالات: تستی: ۲۴ تشریحی: ۵
 زمان آزمون (دقیقه): تستی: ۷۵ تشریحی: ۸۰

نام درس: پژوهش عملیاتی ۲
 رشته تحصیلی / کد درس: حسابداری ۱۲۱۸۰۹۴

مجاز است.

ماشین حساب

استفاده از:

کد سری سؤال: یک (۱)

۵. اثر متغیر b به $\begin{bmatrix} 8 \\ 8 \end{bmatrix}$ را بررسی کنید.

۳. یک جواب ابتدایی برای مسئله زیر بیابید (به روش کمترین هزینه) (۰/۷۵ نمره)

منزل انبار	۱	۲	۳	عرضه
۱	۸	۵	۶	۱۰۰
۲	۱۵	۱۰	۱۲	۱۲۰
۳	۳	۹	۱۰	۸۰
تقاضا	۱۰۰	۱۰۰	۱۰۰	۳۰۰

۴. در مسئله سوم پس از بدست آوردن جواب اولیه آثر به روش MODI حل کنید. (۱ نمره)

۵. شرکتی دارای سه ساختمان است که می خواهد آن ها را تبدیل به سالن غذا خوری، خوابگاه و آزمایشگاه کند. هزینه تبدیل هر یک از ساختمانها به موارد مذکور در جدول زیر داده شده است. چه نوع واگذاری کمترین هزینه را در بر دارد. (روش مجارستانی) (۱/۲۵ نمره)

	الف	ب	ج
آزمایشگاه	۶	۷	۶
غذاخوری	۲	۵	۴
خوابگاه	۱	۶	۲

نام درس: حقوق بازرگانی

رشته تحصیلی / کد درس: (حسابداری سنتی ۱۶۲۳۰۱۶) - (حسابداری تجمیع ۱۲۱۴۱۰۴)

تعداد سوالات: تستی: ۳۰ تشریحی: --

زمان آزمون (دقیقه): تستی: ۴۵ تشریحی: --

کد سری سؤال: یک (۱)

استفاده از: --

مجاز است.

امام خمینی (ره): این محرم و صفر است که اسلام را زنده نگه داشته است.

۱. کدامیک از عبارات زیر در مورد عملیات تجارت ذاتی و تبعی، صحیح است؟

الف. در معاملات تبعی، از معاملات تجاری به تاجر بودن عامل معامله، پی می بریم.

ب. در معاملات ذاتی، اصولاً تجاری نیستند و به اعتبار تاجر بودن شخص تجاری محسوب می گردد.

ج. در معاملات ذاتی، موضوع معاملات اصولاً تجاری است.

د. معاملات تبعی، صرف نظر از اینکه چه کسی آنرا انجام می دهد تجاری است.

۲. کدام یک از اعمال تجاری تبعی است؟

الف. معاملات برداتی

ب. معاملات بین تاجر و کسبه

ج. عملیات طرفی و بانکی

د. عملیات بیمه بحری

۳. در کدام یک از دفاتر تجاری، تاجر بایست کلیه ارسال مراسلات و صورت حسابهای صادره خود را ثبت نماید؟

الف. دفتر کلیه

ب. دفتر کل

ج. دفتر معین

د. دفتر روزنامه

۴. کدام یک از موارد زیر، از فواید دفتر ثبت تجاری، محسوب می گردد؟

الف. شناسایی تاجر

ب. روشن شدن درآمد تاجر

ج. اطلاع از مراکز اصلی فعالیت تاجر

د. اعطای برخی امتیازات

۵. اسم تجاری جزء کدام یک از انواع اموال یا حقوق است؟

الف. اموال مادی

ب. حقوق مالی

ج. اموال غیر مالی

د. حقوق غیر مالی

۶. شرایط اساسی جهت تشکیل شرکتهای تجاری چیست؟

الف. اهلیت - قصد..... - معین بودن موضوع شرکت

ب. ورشکسته نبودن - سرمایه کافی - قصد....

ج. سرمایه کافی - عدم حجر - ورشکسته نبودن

د. معین بودن موضوع شرکت - اهلیت - معسر نبودن

۷. کدام یک از موارد زیر از اشخاص حقوقی حقوق عمومی به شمار می آیند؟

الف. شرکتهای تجاری

ب. انجمن های ادبی

ج. وزارتخانه ها

د. موسسات غیر انتفاعی

۸. در کدام یک از انواع شرکتها، شخصیت شرکاء در درجه اول اهمیت است؟

الف. شرکت تضامنی

ب. شرکت سهامی خاص

ج. شرکت نسبی

د. شرکت تعاونی

نام درس: حقوق بازرگانی

رشته تحصیلی / کد درس: (حسابداری سنتی ۱۶۲۳۰۱۶) - (حسابداری تجمیع ۱۲۱۴۱۰۴)

تعداد سوالات: تستی: ۳۰ تشریحی: --

زمان آزمون (دقیقه): تستی: ۴۵ تشریحی: --

کد سری سؤال: یک (۱)

استفاده از: --

مجاز است.

۹. شرکت سهامی عام حداقل با چند نفر تشکیل می گردد؟

الف. حداقل ۳ نفر

ب. حداقل ۲ نفر

ج. حداقل ۵ نفر

د. حداقل ۷ نفر

۱۰. موضوع شرکتهای سهامی باید چگونه باشد تا شرکت، تجاری محسوب گردد؟

الف. تجاری باشد

ب. محدودیتی ندارد

ج. غیر تجاری باشد

د. محدودیت دارد

۱۱. حد نصاب جهت تشکیل مجمع عمومی مؤسس چیست؟

الف. حداقل نصف صاحبان سرمایه

ب. ثلث صاحبان سهام

ج. حداقل نصف صاحبان سهام

د. ثلث صاحبان سرمایه

۱۲. تصویب اساسنامه شرکت در صلاحیت کدام یک از مجامع عمومی شرکت سهامی می باشد؟

الف. فوق العاده

ب. عادی

ج. مؤسس

د. عاری به طور فوق العاده

۱۳. تغییر نام در شرکت سهامی، در صلاحیت کدام یک از مجامع عمومی است؟

الف. عادی

ب. خاص

ج. فوق العاده

د. مؤسس

۱۴. کاهش اجباری سرمایه در شرکت سهامی از چه طریقی امکان پذیر است؟

الف. کاهش تعداد سهام و مبلغ اسمی سهام

ب. کاهش مبلغ اسمی سهام

ج. کاهش تعداد سهام

د. کاهش تعداد صاحبان سهام

۱۵. ارزیابی سهام در شرکتهای سهامی، به چند صورت است؟

الف. قیمت اسمی - قیمت تجاری

ب. قیمت تجاری - قیمت ریالی

ج. قیمت ریالی - قیمت واقعی

د. قیمت واقعی - قیمت ظاهری

۱۶. مقام تصویب کننده سهام ممتاز در شرکتهای سهامی چیست؟

الف. هیات مدیره

ب. بازرسان

ج. مجمع عمومی عادی

د. مجمع عمومی فوق العاده

۱۷. در کدام نوع از شرکتهای تجاری، تشکیل مجمع عمومی مؤسس الزامی نمی باشد؟

الف. شرکتهای سهامی عام

ب. شرکت با مسئولیت محدود

ج. شرکتهای تضامنی

د. شرکتهای سهامی خاص

۱۸. تصویب ترازنامه و نحوه تقسیم سود بین شرکاء در صلاحیت کدام یک از مجامع عمومی در شرکتهای سهامی است؟

الف. مجمع عمومی عادی

ب. مجمع عمومی خاص

ج. مجمع عمومی فوق العاده

د. مجمع عمومی مؤسس

نام درس: حقوق بازرگانی

رشته تحصیلی / کد درس: (حسابداری سنتی ۱۶۲۳۰۱۶) - (حسابداری تجمیع ۱۲۱۴۱۰۴)

تعداد سوالات: تستی: ۳۰ تشریحی: --

زمان آزمون (دقیقه): تستی: ۴۵ تشریحی: --

کد سری سؤال: یک (۱)

استفاده از: --

مجاز است.

۱۹. حد نصاب رأی گیری در مجمع عمومی فوق العاده در شرکتهای سهامی چیست؟

الف. حداکثر آراء حاضرین

ب. $\frac{1}{3}$ آراء حاضرین

ج. $\frac{2}{3}$ آراء حاضرین

د. نصف آراء حاضرین

۲۰. محدود کردن اختیارات مدیران در اساسنامه یا به موجب تصمیمات مجامع از لحاظ روابط بین مدیران و صاحبان سهام چه حکمی دارد؟

الف. صحیح

ب. باطل

ج. غیر نافذ

د. قابل ابطال

۲۱. در صورتی که معامله در شرکتهای سهامی بدون اجازه هیات مدیران انجام شده باشد در صورت تقاطعی شرکت، معامله چه حکمی دارد؟

الف. قابل ابطال تا سه سال

ب. غیر نافذ تا دو سال

ج. قابل ابطال تا دو سال

د. غیر نافذ تا سه سال

۲۲. مدت انتخاب بازرسان در شرکت سهامی چقدر است؟

الف. دو سال

ب. یک سال

ج. هفت سال

د. چهار سال

۲۳. عضوناظر در شرکت سهامی، به منظور تصفیه شرکت چگونه تعیین می گردد؟

الف. به موجب اساسنامه

ب. به موجب تصمیم مجمع فوق العاده

ج. به حکم دادگاه

د. توسط مدیر تصفیه

۲۴. تصمیم در مورد انحلال شرکت سهامی می بایست در روزنامه آگهی گردد.

الف. رسمی

ب. کثیر الانتشار

ج. محلی

د. عادی

۲۵. تصریح نوع شرکت در کنار نام کدام نوع از شرکتهای تجاری وفق قانون تجارت ایران ضروری است؟

الف. سهامی

ب. تضامنی

ج. با مسئولیت محدود

د. مختلط سهامی

۲۶. علی الاصول هر گونه تغییرات در اساسنامه شرکت در شرکت با مسئولیت محدود چگونه صورت می گیرد؟

الف. اکثریت نسبی شرکاء

ب. دارندگان سه چهارم سرمایه

ج. اکثریت مطلق

د. اتفاق آراء

۲۷. مسئولیت شرکاء در شرکت تضامنی چگونه است؟

الف. محدود

ب. به نسبت سهم الشرکه

ج. به میزان سهم الشرکه

د. نامحدود

نام درس: حقوق بازرگانی

رشته تحصیلی / کد درس: (حسابداری سنتی ۱۶۲۳۰۱۶) - (حسابداری تجميع ۱۲۱۴۱۰۴)

تعداد سوالات: تستی: ۳۰ تشریحی: —

زمان آزمون (دقیقه): تستی: ۴۵ تشریحی: —

کد سری سؤال: یک (۱)

استفاده از: —

مجاز است.

۲۸. انتقال سهم الشرکه در شرکت تضامنی چگونه صورت می گیرد؟

الف. باتفاق آراء
ب. اکثریت مطلق شرکاء

ج. اکثریت مطلق شرکاء
د. دارندگان سه چهارم سرمایه

۲۹. در شرکت مختلط غیر سهامی، اداره شرکت و نظارت بر شرکت به ترتیب برای کدام شریک است؟

الف. مسئولیت محدود - سهامی
ب. نسبی - تضامنی

ج. تضامنی - با مسئولیت محدود
د. تضامنی - سهامی

۳۰. شرکت مختلط اصولاً از چند نوع شرکت تشکیل شده است؟

الف. شرکای ضامن و غیر ضامن
ب. شرکای ضامن و سهامی

ج. شرکای سهامی و غیر سهامی
د. شرکای با مسئولیت محدود و غیر مسئولیت محدود

www.Sanjesh3.com