



کد کنترل

831

D

آزمون ورودی دوره‌های کارشناسی ارشد ناپیوسته داخل - سال ۱۴۰۲



جمهوری اسلامی ایران
وزارت علوم، تحقیقات و فناوری
سازمان سنجش آموزش کشور

صبح جمعه
۱۴۰۱/۱۲/۱۲

«اگر دانشگاه اصلاح شود
مملکت اصلاح می‌شود.»
امام خمینی (ره)

زیست‌شناسی سلولی و مولکولی (کد ۱۲۰۶)

زمان پاسخ‌گویی: ۲۳۰ دقیقه

تعداد سؤال: ۲۰۰

عنوان مواد امتحانی، تعداد و شماره سؤالات

ردیف	مواد امتحانی	تعداد سؤال	از شماره	تا شماره
۱	زبان عمومی و تخصصی (انگلیسی)	۲۵	۱	۲۵
۲	مجموعه زیست‌شناسی (گیاهی، جانوری، میکروبی، سلولی و مولکولی، ژنتیک، بیوشیمی، بیوفیزیک، اکولوژی و تکامل)	۳۵	۲۶	۶۰
۳	ژنتیک	۲۰	۶۱	۸۰
۴	بیوشیمی	۲۰	۸۱	۱۰۰
۵	زیست‌شناسی سلولی و مولکولی	۲۰	۱۰۱	۱۲۰
۶	میکروبیولوژی	۲۰	۱۲۱	۱۴۰
۷	مجموعه ویروس‌شناسی، قارچ‌شناسی و ایمنی‌شناسی	۲۰	۱۴۱	۱۶۰
۸	بیوفیزیک	۲۰	۱۶۱	۱۸۰
۹	مجموعه زیست‌شناسی دریا (پلاتکتون‌شناسی - کفزیان - بوم‌شناسی - فیزیک بولوزی آبزیان)	۲۰	۱۸۱	۲۰۰

این آزمون نمره منفی دارد.

استفاده از ماشین حساب مجاز نیست.

حق چاپ، تکثیر و انتشار سؤالات به هر روش (الکترونیکی و...) پس از برگزاری آزمون، برای تمامی اشخاص حقیقی و حقوقی تنها با مجوز این سازمان مجاز می‌باشد و با متخلفین برابر مقررات رفتار می‌شود.

* داوطلب گرامی، عدم درج مشخصات و امضا در مندرجات جدول زیر، به منزله عدم حضور شما در جلسه آزمون است.

اینجانب با شماره داوطلبی با آگاهی کامل، یکسان بودن شماره صندلی خود با شماره داوطلبی مندرج در بالای کارت ورود به جلسه، بالای پاسخنامه و دفترچه سوالات، نوع و کد کنترل درج شده بر روی جلد دفترچه سوالات و پایین پاسخنامه ام را تأیید می‌نمایم.

امضا:

زبان عمومی و تخصصی (انگلیسی):

PART A: Vocabulary

Directions: Choose the word or phrase (1), (2), (3), or (4) that best completes each sentence. Then mark the answer on your answer sheet.

- 1- Despite the fact that Gross Domestic Product (GDP) has increased substantially in the industrialized West, the levels of human contentment have remained -----.
1) apposite 2) interwoven 3) static 4) implicit
- 2- Immigration ----- from the Latin word migration and means the act of a foreigner entering a country in the aim of obtaining the right of permanent residence.
1) gathers 2) obtains 3) arises 4) derives
- 3- Not speaking the same language as your customers can lead to communication -----.
1) breakdown 2) brevity 3) gesture 4) imitation
- 4- The factory's workforce has ----- from over 4,000 to a few hundred.
1) withdrawn 2) dwindled 3) undercut 4) forecasted
- 5- The police came up empty-handed despite an ----- exploration of the suspect's home.
1) exhaustive 2) inescapable 3) ephemeral 4) inevitable
- 6- When the old man married a woman in her thirties, all everyone talked about was the ----- in the couple's ages.
1) diversity 2) disparity 3) longevity 4) extension
- 7- One local factory will ----- the town's job shortage by providing 250 more jobs.
1) overlook 2) adjust 3) displace 4) alleviate

PART B: Cloze Test

Directions: Read the following passage and decide which choice (1), (2), (3), or (4) best fits each space. Then mark the correct choice on your answer sheet.

One commentator argues that the success of private schools is not in their money, (8) ----- their organization. State schools fail their pupils because, under government control, they lack options. But if head teachers at state schools (9) ----- given the same freedom as those at private schools, namely (10) ----- poor teachers and pay more to good ones, parents would not need to send their children to private schools any more.

- | | | | | |
|-----|---------------|-------------|-----------|------------|
| 8- | 1) that is | 2) it is in | 3) but in | 4) is |
| 9- | 1) had | 2) were | 3) to be | 4) be |
| 10- | 1) by sacking | 2) sacking | 3) sacked | 4) to sack |

PART C: Reading Comprehension

Directions: Read the following three passages and answer the questions by choosing the best choice (1), (2), (3), or (4). Then mark the correct choice on your answer sheet.

PASSAGE 1:

Glucose is central to the reactions of glycolysis and is utilized by *E. coli* with high efficiency, because the enzymes involved are permanently switched on or 'constitutive'. The β -galactosidase required for lactose breakdown, however, must be induced. What happens then, when *E. coli* is presented with a mixture of both glucose and lactose? It would be more efficient to metabolize the glucose, with the ready-to-use enzymes, but the presence of lactose would induce formation of β -galactosidase and subsequent lactose breakdown, a less energy-efficient way of going about things. In fact, *E. coli* has a way of making sure that while the readily utilized glucose is present, it takes precedence. It does this by repressing the formation of β -galactosidase, a phenomenon known as 'catabolite repression'. Thus, the presence of a 'preferred' nutrient prevents the synthesis of enzymes needed to metabolize a less favored one.

- 11- β -galactosidase is -----.
- | | |
|---|--------------------------|
| 1) central to the reactions of glycolysis | 2) a ready-to-use enzyme |
| 3) a repressible enzyme | 4) a favored enzyme |
- 12- Which of the following statements is Correct?
- 1) In catabolite repression, glucose is more readily repressed than lactose.
 - 2) β -galactosidase expression is repressed in the presence of glucose.
 - 3) β -galactosidase expression is induced in the presence of glucose.
 - 4) *E. coli* is unable to metabolize lactose.
- 13- The word "constitutive" in line 2 refers to -----.
- 1) expression in the presence of the substrate
 - 2) permanent expression of an enzyme
 - 3) preferred expression of an enzyme
 - 4) utilization of the substrate
- 14- In 'catabolite repression', -----.
- 1) the formation of β -galactosidase is enforced
 - 2) lactose is the preferred substrate than glucose
 - 3) utilization of lactose takes precedence over glucose
 - 4) utilization of glucose takes precedence over lactose
- 15- Lactose breakdown -----.
- 1) occurs in the absence of glucose
 - 2) inhibits metabolization of glucose
 - 3) is the preferred reaction in glycolysis
 - 4) is highly efficient in the presence of glucose

PASSAGE 2:

In the process of anaerobic respiration, carbohydrate can be metabolized by a process that utilizes oxidative phosphorylation via an electron transport chain, but instead of oxygen serving as the terminal electron acceptor a usually inorganic molecule such as nitrate or sulfate is used. These processes are referred to, respectively, as dissimilatory nitrate or sulfate reduction. Obligate anaerobes carry out this process, as they are unable to utilize oxygen; in addition, facultative anaerobes may turn to this form of respiration if oxygen is unavailable. Other examples of inorganic electron acceptors for anaerobic respiration include Fe^{3+} , CO_2 and Mn^{4+} . In certain circumstances, an organic molecule such as fumarate may be used instead. Anaerobic respiration is not as productive as its aerobic counterpart in terms of ATP production, because electron acceptors such as nitrate or sulfate have less positive redox potentials than oxygen. Anaerobic respiration tends to occur in oxygen-depleted environments such as waterlogged soils. It must be stressed that anaerobic respiration is not the same as fermentation. The latter process does not involve the components of the electron transport chain and much smaller amounts of energy are generated.

- 16- In anaerobic respiration, the terminal electron acceptor is -----.
- 1) always a carbohydrate
 - 2) usually an organic molecule
 - 3) always an inorganic molecule
 - 4) usually an inorganic molecule
- 17- Which of the following statements is Correct?
- 1) Anaerobic respiration is the same process as fermentation.
 - 2) Anaerobic respiration tends to occur in oxygen-limited environments.
 - 3) Obligate and facultative anaerobes can utilize oxidative phosphorylation.
 - 4) Electron acceptors for anaerobic respiration are limited to Fe^{3+} , CO_2 and Mn^{4+} .
- 18- Oxidative phosphorylation -----.
- 1) generates much smaller amounts of energy than aerobic respiration
 - 2) is as efficient as aerobic respiration in generating energy
 - 3) utilizes inorganic substrates as energy source
 - 4) utilizes fumarate substrate as energy source
- 19- Waterlogged soils -----.
- 1) lack inorganic molecules
 - 2) contain fumarate
 - 3) contain limited oxygen
 - 4) lack oxygen
- 20- Fermentation reactions -----.
- 1) contain electron transport chain molecules
 - 2) lack electron transport chain molecules
 - 3) generate large amounts of energy
 - 4) occur only in waterlogged soils

PASSAGE 3:

Mycoplasma lack a cell wall and hence have a fluid shape (pleomorphic). Since the Gram test is based on the peptidoglycan content of a cell wall, why are these organisms grouped with the Gram-positive bacteria? The answer is that although they do not give a positive Gram test, they are clearly related at the genetic level to other

www.Sanjesh3.com

- ۳۰- در خصوص ظرفیت یابی اسپرم پستانداران، کدام مورد درست است؟
 (۱) باعث جدا شدن اسپرماتیدها از یکدیگر می شود. (۲) در اپیدیدیم دستگاه تولیدمثلی نر اتفاق می افتد.
 (۳) طی آن آکروزم از دستگاه گلژی مشتق می شود. (۴) طی آن کلسترول از غشاء اسپرم حذف می شود.
- ۳۱- اندام کلاسیک در کوسه ماهی بخش تغییر یافته کدام باله است؟
 (۱) مخرجی (Anal) (۲) لگنی (Pelvic) (۳) دمی (Caudal) (۴) سینه ای (Pectoral)
- ۳۲- برای از بین بردن باکتری باسیلوس استئاروترموفیلوس در یک محیط کشت مایع، کدام روش مناسب تر است؟
 (۱) تندالیزاسیون
 (۲) استفاده از اشعه فرابنفش (UV)
 (۳) جوشاندن در ۱۰۰ درجه سلسیوس به مدت سی دقیقه
 (۴) پاستوریزاسیون در ۷۲ درجه سلسیوس به مدت پانزده ثانیه
- ۳۳- کدام یک از گروه های فیلوژنی زیر، فراوانترین میکروارگانیسم های خاک هستند؟
 (۱) گاما پروتئوباکتری ها (۲) آلفا پروتئوباکتری ها
 (۳) باکتری های گرم مثبت با درصد G + C پایین (۴) باکتری های گرم مثبت با درصد G + C بالا
- ۳۴- محل ورود پپتیدوگلیکان تازه سنتز شده، توسط کدام پروتئین تعیین می شود؟
 (۱) Fts K (۲) Fts Z (۳) Mre B (۴) Min CD
- ۳۵- کدام یک از توکسین های باکتریایی زیر، خاصیت 28S RNase دارد؟
 (۱) پرتوسیس توکسین (۲) اگروتوکسین A (۳) کلراتوکسین (۴) شیگاتوکسین
- ۳۶- در مورد باکتری های استوژن، کدام جمله درست است؟
 (۱) استوژن ها مانند متانوژن ها همگی جزء گروه آرکی ها و بی هوازی اجباری هستند.
 (۲) انتروباکتریاسه مثال شاخصی از این گروه از باکتری ها هستند که تولید اسیداستیک می کنند.
 (۳) دی اکسیدکربن را در زنجیره انتقال الکترون به عنوان گیرنده نهایی به اسیداستیک احیاء می کنند.
 (۴) بی هوازی اختیاری هستند و دی اکسیدکربن را در زنجیره انتقال الکترون به عنوان گیرنده نهایی می توانند به اسیداستیک احیاء کنند.
- ۳۷- چه تعداد از موارد زیر، در انتقال وزیکولی نقش دارند؟
 Pex5 .I
 Sar1 .II
 SNARE .III
 Rab .IV
 Ran .V
 (۱) ۱ (۲) ۲ (۳) ۳ (۴) ۴
- ۳۸- در یوکاریوت ها به ترتیب از راست به چپ، RNA پلیمراز رونویسی از توالی های RNA ی را با شناسایی توالی کدکننده انتهای 5' ساختار کلاسیک (Cap) آغاز می کند و DNA پلیمراز کدکننده 5srRNA می باشد.
 (۱) II - III (۲) III - II (۳) III - I (۴) II - I
- ۳۹- عملکرد کدام یک از ناقل های زیر در قلیایی شدن pH سیتوزولی نقش دارد؟
 (۱) Na^+/H^+ (۲) Cl^-/HCO_3^-
 (۳) Na^+/HCO_3^- (۴) $Na^+/HCO_3^-/Cl^-$
- ۴۰- پروتئین لکتین، برای شناسایی کدام یک از موارد زیر بیشترین کاربرد را دارد؟
 (۱) لیپید (۲) پروتئین (۳) کربوهیدرات (۴) اسیدهای نوکلئیک

www.Sanjesh3.com

۴۱- کدام مورد باعث فعال شدن ژن های ادیپوز و تشکیل بافت چربی می شود؟

(۱) فعال شدن PKB توسط انسولین

(۲) فعال شدن بتا کانتین توسط Wnt

(۳) فعال شدن SMAD توسط TGFβ

(۴) فعال شدن MAP کیناز توسط EGF

۴۲- سلول های اشریشیاکلی با دو سویه از ویروس T4 آلوده شده اند. با توجه به تعداد پلاک های به دست آمده برای هر

ژنوتیپ، کدام لوکوس در میان قرار گرفته است؟

m r tu ۳۴۶۷ m ++ ۵۲۰

m (۱)

+++ ۳۷۲۹ + r tu ۴۷۴

r (۲)

m r + ۸۵۳ + r + ۱۷۲

tu (۳)

m + tu ۱۶۲ ++ tu ۹۶۵

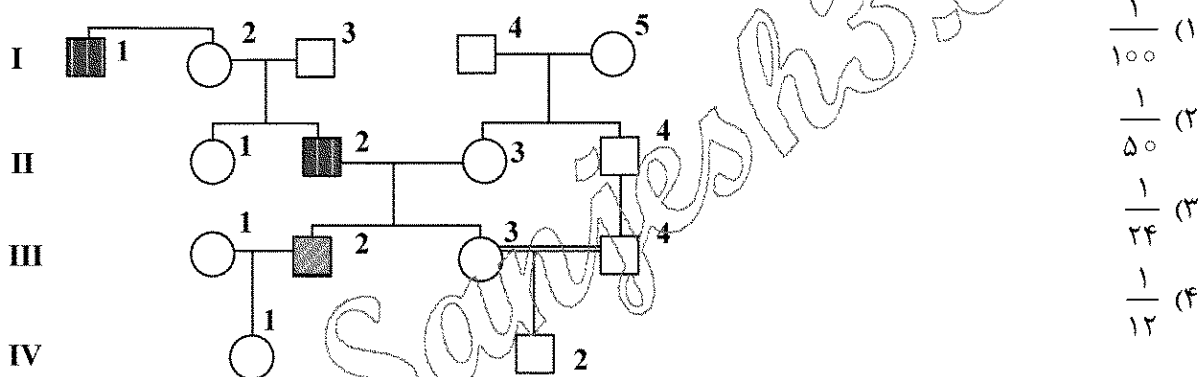
(۴) قابل تشخیص نیست.

۴۳- در این شجره ۱-۱ و ۲-۲ دارای دیستروفی عضلانی بکر است که نشان دهنده وراثت مغلوب وابسته به X

است. ۲-۳ دارای آلبنیسم چشمی است که توارث اتوزومال مغلوب را با شیوع در جمعیت عمومی ۱ در

۱۰۰۰۰ نشان می دهد. وضعیت بیماری برای دیستروفی عضلانی بکر و آلبنیسم چشمی برای ۱-۴ و ۲-۴

ناشناخته است. احتمال ابتلای ۲-۴ به آلبنیسم چشمی چقدر است؟



۴۴- در توجیه اثر pleiotropic یک ژن، کدام یک از رویدادهای زیر احتمالاً می توانند دلیل اثرات متعدد یک ژن باشند؟

I. بیان یک ژن می تواند از چند راه در عملکرد سلول نقش داشته باشد.

II. یک ژن می تواند در سلول های متفاوت بدن بیان شود.

III. ممکن است یک ژن در مراحل نمو متفاوت بیان شود.

IV. یک ژن برای بروز فنوتیپ های متفاوت آلل های متعدد داشته باشد.

V. ژن بر اثر تغییرات اپی ژنتیکی اثرات فنوتیپی گوناگون پدید آورد.

I, II, III (۴) I, IV, V (۳) III, V (۲) II, V (۱)

۴۵- کدام یک از موارد زیر، یک دنباله پالیندرومیک را نشان می دهد؟

GTTCCAAG (۲)

AGTCCTGA (۱)

GTTGGAAC (۴)

ATTGCAAT (۳)

۴۶- منظور از ژن گسسته (Split Gene) چیست؟

(۱) پراکنده بودن ژن ها در جاهای مختلف کروموزوم

(۲) وجود توالی های غیررمزگذار در میان توالی های رمزگذار ژنوم

(۳) ژن هایی که در طول تکامل ارتباط بین خود را از دست داده اند.

(۴) ژن هایی که در اثر هتروکروماتینه شدن غیرفعال شده و از ژن های فعال جدا شده اند.

۴۷- K_m بیان‌کننده تمایل آنزیم برای سوبسترا است، اگر:

$$k_{-1} = k_2 \quad (2)$$

$$k_1 = k_{-1} \quad (1)$$

$$k_2 \ll k_{-1} \quad (4)$$

$$k_1 \gg k_2 \quad (3)$$

۴۸- در اثر دکربوکسیلاسیون فسفاتیدیل سرین، کدام یک از لیپیدهای زیر حاصل می‌گردد؟

(۱) فسفاتیدیل اینوزیتول

(۲) فسفاتیدیل اتانول آمین

(۳) فسفاتیدیل کولین

(۴) فسفاتیدیک اسید

۴۹- کدام یک از حاملین الکترونی زیر، فقط یک الکترون جابه‌جا می‌کند؟

(۱) Cytochrome b

(۲) NAD^+

(۳) FAD

(۴) کوآنزیم Q

۵۰- کدام یک از آمینو اسیدهای زیر، پیش‌ساز کارنیتین در کبد است؟

(۱) هیستیدین و لیزین (۲) لیزین و متیونین (۳) آرژینین و متیونین (۴) پرولین و لیزین

۵۱- چنانچه فشار نشاندار وارد سلول‌های اریتروسیت گردد، نخستین بار در ساختار کدام یک از حدواسط‌های زیر وارد می‌شود؟

(۱) فسفوگلیسرل

(۲) آدنوزین تری فسفات

(۳) ۱ و ۳- بیس فسفوگلیسرل

(۴) فروکتوز ۱ و ۶- بیس فسفات

۵۲- انرژی جاذبه کدام میان‌کنش یا عکس توان ششم فاصله عوامل میان‌کنش‌دهنده $(\frac{1}{r^6})$ تغییر می‌کند؟

(۱) یون - دوقطبی القایی

(۲) یون - دوقطبی دائمی

(۳) دوقطبی القایی - دوقطبی القایی

(۴) دوقطبی دائمی - دوقطبی دائمی

۵۳- به کدام دلیل، قرارگیری بازی‌های نوکلئوتید در صورت‌بندی syn مطلوب نیست؟

(۱) وجود بارهای منفی گروه فسفات مانع از این عمل می‌شود.

(۲) بین بازها و حلقه قند برخورد و ممانعت فضایی وجود دارد.

(۳) اتصال بین دو نوکلئوتید از طریق کرین‌های ۳' و ۵' صورت می‌گیرد.

(۴) حلقه بنزنی موجود در بازهای آلی و وجود اتم نیتروژن در ساختمان آنها علت اصلی این مسئله می‌باشد.

۵۴- در میان‌کنش پرتو گاما با بافت‌های نرم بدن، احتمال وقوع کدام فرایند بیشتر است؟

(۱) تولید جفت

(۲) پراکندگی ریلی

(۳) جذب فوتوالکتریک

(۴) پراکندگی کامپتون

۵۵- در دستگاه سانتریفوژ و در موقع ته‌نشین شدن یک ماکرومولکول، کدام نیرو تحلیل نمی‌شود؟

(۱) نیروی گرانش (F_g)

(۲) نیروی سانتریفوژ (F_c)

(۳) نیروی اصطکاک (F_f)

(۴) نیروی ارشمیدس (نیروی شناوری) (F_b)

۵۶- مسیر انجام فرایندهای خودبه‌خودی، موضوع کدام قانون ترمودینامیک است؟

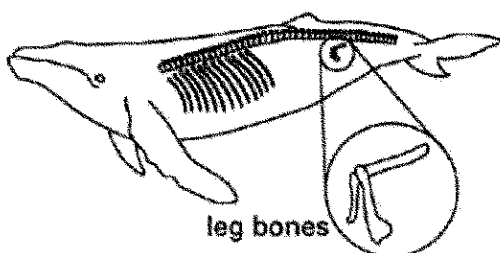
(۱) سوم

(۲) دوم

(۳) اول

(۴) صفر

۵۷- استخوان‌های پای عقب نشان داده شده در نهنگ، نمونه‌ای از ساختارهای هستند.



(۱) آنالوگ

(۲) فسیلی

(۳) هم‌ساخت (Homologus)

(۴) تحلیل‌رفته (Vestigial)

۵۸- علت فراوانی و تنوع خانواده آفتاب‌پرستان (Chameleontidae) در ماداگاسکار چیست؟

- (۱) عدم وجود رقیب جدی و خالی بودن نیچ‌های اکولوژیک مربوطه
- (۲) وجود خزندگان دیگر به‌عنوان رقبای خطرناک و روش خاص زندگی
- (۳) وجود خزندگان دیگر به‌عنوان رقبای خطرناک و مدت زمان طولانی جدایی
- (۴) ورود از سرزمین اصلی آفریقا به طریقۀ شناکردن از عرض کانال موزامبیک که امروزه نیز ادامه دارد.

۵۹- کدام یک از موارد زیر در طول جانشینی (توالی) اکولوژیکی کاهش می‌یابد؟

- (۱) تولید ناخالص در مرحله اولیه
 - (۲) رشد نسبی افراد جامعه
 - (۳) تولید خالص جامعه
 - (۴) زیست‌توده
- ۶۰- تنوع زیستی و فراوانی گونه‌های گیاهی و جانوری در کدام بیوم کم است؟
- (۱) تایگا
 - (۲) استپ
 - (۳) جنگل خشک حاره
 - (۴) جنگل معتدل خزان‌کننده

ژنتیک:

۶۱- ژن‌های modifier (تعدیل‌کننده)، در شجره‌نامه‌های خانوادگی مسئول کدام مورد است؟

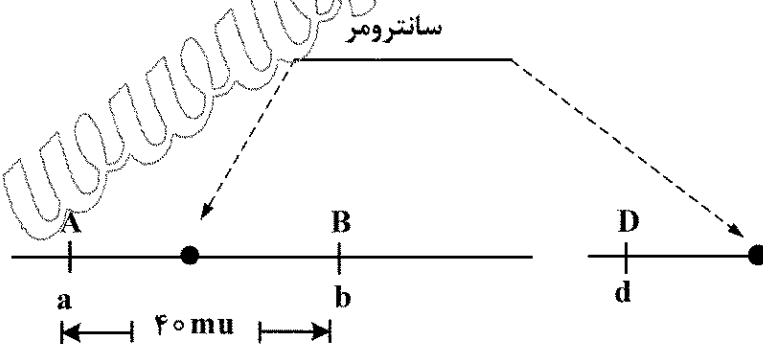
- (۱) Mosaicism
- (۲) Phenocopy
- (۳) Locus Heterogeneity
- (۴) Variable expressivity

۶۲- اگر فراوانی نوترکیبی بین ژن‌های a و c برابر ۲ درصد، b و c برابر ۱۳ درصد، b و d برابر ۴ درصد، a و b برابر ۱۵ درصد، c و d برابر ۱۷ درصد و a و d برابر ۱۹ درصد باشد، کدام گزینه ترتیب ژن‌ها در کروموزوم را نشان می‌دهد؟

- (۱) d, b, a, c
- (۲) a, d, b, c
- (۳) a, c, b, d
- (۴) a, b, c, d

۶۳- از یک سلول اسپرماتوسیت اولیه با ژنوتیپ زیر، در مگس سرکه بعد از پیست‌سر گذاشتن مراحل تقسیمات میوزی - ۱ و میوزی - ۲، به‌طور کامل و نرمال چند نوع اسپرم به لحاظ ژنوتیپی تولید می‌کند؟

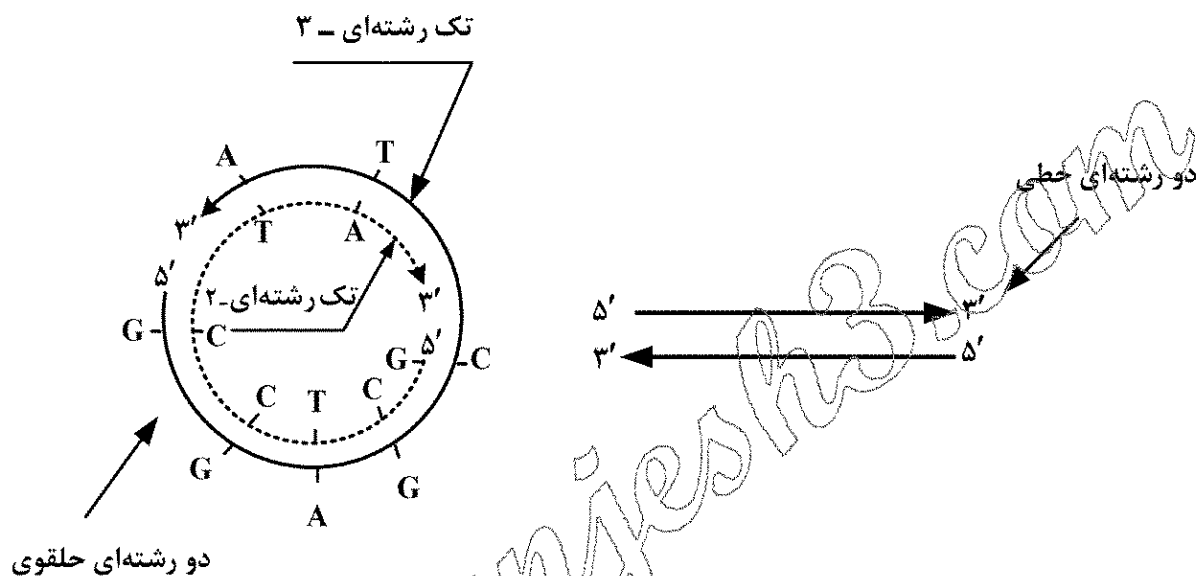
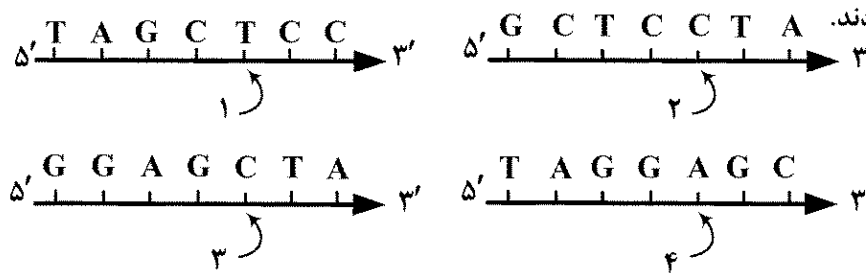
- (۱) ۲
- (۲) ۴
- (۳) ۸
- (۴) ۱۶



۶۴- مفهوم توارث‌پذیری در کدام گزینه به درستی تعریف شده است؟

- (۱) اندازه‌گیری مقیاس پیوستگی ژن‌ها است.
- (۲) اندازه‌گیری میزان افراد هتروزیگوت در یک جمعیت است.
- (۳) اندازه‌گیری نسبت تغییرات موروثی است که علل آن ژنتیکی است.
- (۴) مقیاسی برای برآورد میزان درون‌زاد آوری در میان افراد یک جمعیت است.

۶۵- دو مولکول دو رشته‌ای DNA از جمعیت فاز T2 انتخاب و با حرارت denature شده و چهار تک رشته DNA زیر را تولید کردند.



سپس با تدریجی سرد کردن مخلوط، رشته‌های جدا شده به‌طور اتفاقی با هم renature شدند. مطابق طرح، پاره‌ای از مولکول‌های دو رشته‌ای حاصل از renature شدن، خطی و بعضی حلقوی بودند. یکی از حلقوی‌ها مورد بررسی قرار گرفت، مشخص شد دو تک رشته‌ای ۲ و ۳ در تشکیل حلقه مشارکت دارند. کدام دوتای دیگر از این چهار رشته می‌توانند با هم یک مولکول دو رشته‌ای تشکیل دهند؟

- (۱) ۱ و ۲ (۲) ۱ و ۴ (۳) ۲ و ۴ (۴) ۳ و ۴

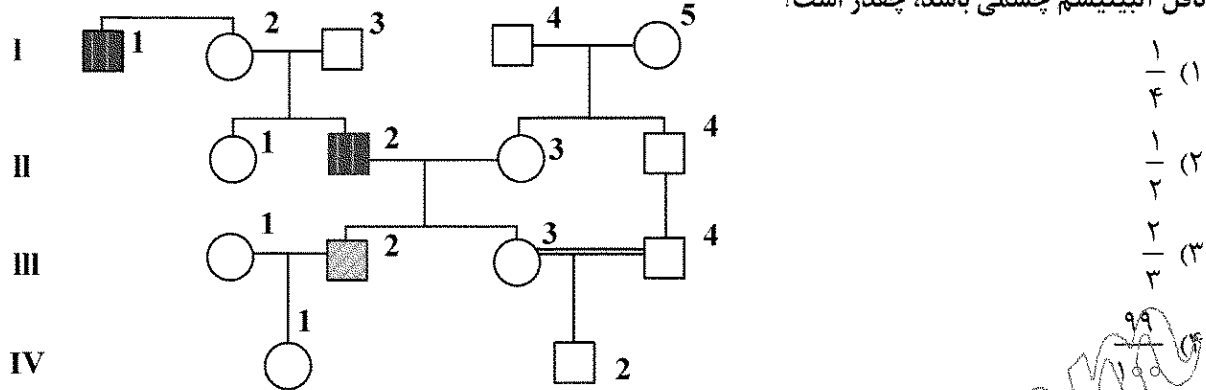
۶۶- همه جملات زیر درست است، به‌جز:

- (۱) آلل‌های مسئول صفت کمی مستقلاً دسته‌بندی و از هم جدا نمی‌شود.
- (۲) اغلب صفات پلی‌ژنیک تنوع پیوسته (continuous variation) را نشان می‌دهد.
- (۳) آلل‌های معین لوکوس‌های صفت کمی، (QTL) دارای اثر افزایشی روی صفت یا ویژگی هستند.
- (۴) در توارث صفات کمی برای یک صفت پلی‌ژنیک، طیفی از فنوتیپ‌های قابل اندازه‌گیری را می‌توان مشاهده نمود.

۶۷- حداکثر فراوانی نوترکیبی بین دو ژن چند درصد است؟

- (۱) ۲۵
(۲) ۵۰
(۳) ۷۵
(۴) ۱۰۰

۶۸- در شجره‌ی زیر، افراد ۱-۱ و ۲-۲ مبتلا به دیستروفی عضلانی بکر با توارث مغلوب وابسته به X است. فرد ۲-۳ مبتلا به آلبنیسم با توارث اتوزومی مغلوب و شیوع در جمعیت عمومی ۱ در ۱۰۰۰۰ می‌باشد. وضعیت بیماری برای دیستروفی عضلانی بکر و آلبنیسم چشمی برای افراد ۱-۴ و ۲-۴ ناشناخته است. احتمال این که ۱-۴ ناقل آلبنیسم چشمی باشد، چقدر است؟



۶۹- وکتورهای کلون‌سازی، در فناوری DNA نو ترکیب برای انتقال ژن مورد نظر در سلول میزبان استفاده می‌شوند. ویژگی‌هایی که برای این منظور مناسب هستند، کدام‌اند؟

- I. وجود مبدأ همانندسازی (Ori)
 - II. وجود یک نشانگر قابل انتخاب
 - III. وجود حداقل یک سایت شناسایی برای یک آنزیم گزین‌بر
- I, II (۱)
 II, III (۲)
 I, II, III (۳)

۷۰- از تکنیک cell hybridization، در کدام مورد زیر استفاده می‌شود؟

- (۱) تعیین مکان تبادل کروماتیدهای خواهری بین کروموزوم‌های انسانی
- (۲) تعیین جهش‌های نقطه‌ای در ژن‌های انسانی
- (۳) تعیین مکان ژن روی کروموزوم‌های انسانی
- (۴) تعیین ناهنجاری‌های کروموزومی

۷۱- کدام مورد زیر، تعریف درست‌تری از صفت آستانه‌ای (threshold trait) است؟

- (۱) در جمعیت، فراوانی بسیار پایین دارد.
- (۲) با بقای برتر هتروزیگوت‌ها همراه است.
- (۳) در یک مقیاس توزیع ممتد یک صفت بیان می‌شود.
- (۴) تحت تأثیر ژنتیک و عوامل محیطی قرار می‌گیرد.

۷۲- کدام گزینه زیر را می‌توان به نقش آنزیم FEN1 (Flap Endonuclease) نسبت داد؟

- (۱) شناسایی مبدأ همانندسازی یوکاریوتی
- (۲) تجزیه DNA تک رشته‌ای در ترمیم DNA
- (۳) حذف پرایمر از قطعات اکازاکی در یوکاریوت
- (۴) جدا ساختن پیوندهای هیدروژنی حین همانندسازی

۷۳- در مورد تبدیل ژنی (gene conversion)، کدام جمله نادرست است؟

- (۱) تبادل ژنتیکی یک‌طرفه است.
- (۲) تبادل ژنتیکی دوطرفه است.
- (۳) طی فرایند نو ترکیبی رخ می‌دهد.
- (۴) با سازوکارهای ترمیمی DNA رخ می‌دهد.

۷۴- در غیاب تریپتوفان، تضعیف‌کننده (attenuator) چگونه در تنظیم اپرون تریپتوفان نقش ایفا می‌کند؟

- (۱) رونویسی متوقف می‌شود.
- (۲) سرعت ترجمه کاهش می‌یابد.
- (۳) سرعت رونویسی کاهش می‌یابد.
- (۴) در انجام رونویسی دخالتی ندارد.

۷۵- هستک، جایگاه کدام یک از فرایندهای زیر است؟

(۱) سنتز پروتئین‌های ریبوزومی

(۲) گردهمایی زیرواحدهای ریبوزومی

(۳) تجمع توالی‌های تلومری کروموزوم‌های آکروساتریک

(۴) گردهمایی زیرواحدهای ریبوزومی و سنتز پروتئین‌های ریبوزومی

۷۶- در رابطه با پدیدهٔ نقش‌بندی ژنگانی (Genomic Imprinting)، کدام مورد درست است؟

(۱) بیشتر ژن‌های مرتبط روی کروموزوم‌های جنسی قرار دارند.

(۲) اغلب ژن‌های انسانی با نقش‌پذیری ژنگانی بیان می‌شوند.

(۳) توسط توالی‌های ICR و متیلاسیون تنظیم می‌شود.

(۴) تنها در پستانداران جفت‌دار دیده می‌شود.

۷۷- کدام رویکرد منجر به تشکیل خانواده‌های ژنی شده است؟

(۱) کراسینگ‌اور نابرابر

(۲) حذف ژنی

(۳) وارونگی ژنی

(۴) تبدیل ژنی

۷۸- Response elements، بخشی از توالی‌های تنظیمی واقع در ناحیه پروموتور ژن‌هاست که:

(۱) موجب شناسایی محل پروموتورها و تشدید فعالیت ژن‌های خاص می‌شوند.

(۲) خاص پروموتورهای ضعیف (weak promoters) هستند.

(۳) خاص پروموتورهای قوی (strong promoter) هستند.

(۴) زمان و مکان بیان ژن‌ها را مشخص می‌کنند.

۷۹- اصطلاح به حالتی گفته می‌شود که در آن جهش‌های مختلف در یک ژن باعث بروز بیماری‌های مختلف در افراد می‌شوند.

(۱) ناهمگنی بالینی (Clinical Heterogeneity)

(۲) ناهمگنی لوکوسی (Locus Heterogeneity)

(۳) ناهمگنی آلی (Allelic Heterogeneity)

(۴) هتروزیگوسیتی لوکوسی (Locus Heterozygosity)

۸۰- در سازماندهی ژن‌ها در پستانداران، همه جملات زیر درست است، به جز:

(۱) سیگنال polyA در آخرین اگزون قرار دارد.

(۲) کدون شروع (AUG)، شروع اولین اگزون را نشان می‌دهد.

(۳) کدون پایان یک توالی رمزگذار فعال، باید در یک اگزون قرار گیرد.

(۴) یک تقویت‌کننده رونویسی (enhancer) برای یک ژن معین می‌تواند در داخل یک ژن دیگر قرار گیرد.

بیوشیمی:

۸۱- جهت تبدیل استواسات به بتا - هیدروکسی بوتیرات، چه عملی بر روی استواسات صورت می‌گیرد؟

(۱) احیاء

(۲) دکربوکسیلاسیون

(۳) هیدروکسیلاسیون

(۴) شکستن پیوند استری

۸۲- Kd کدام اتصال زیر عموماً بیشتر است؟

(۱) Fab به آنتی‌ژن

(۲) آنتی‌بادی به آنتی‌ژن

(۳) آنزیم به سوبسترا

(۴) آویدین به بیوتین

- ۸۳- در یک واکنش آنزیمی که سرعت اولیه آن معادل ۸۰٪ سرعت بیشینه است، کدام گزینه زیر صحیح است؟
 (۱) $[S] = 2 \text{ Km}$
 (۲) $[S] = 0.2 \text{ Km}$
 (۳) $[S] = 0.8 \text{ Km}$
 (۴) $[S] = 4 \text{ Km}$
- ۸۴- جایگاه کدام ساختار در نقشه رامچاندرا در ناحیه‌ای متفاوت از سایرین است؟
 (۱) مارپیچ سه‌رشته‌ای کلاژن
 (۲) صفحه بتا موازی ناهمسو
 (۳) مارپیچ آلفا
 (۴) صفحه بتا موازی همسو
- ۸۵- سومین واحد آمینو اسیدی در ساختار دور بتا نوع II کدام است؟
 (۱) آسپاراتات
 (۲) گلیسین
 (۳) پرولین فرم سیس
 (۴) پرولین فرم ترانس
- ۸۶- در مورد ساختار آلفا - کراتین، کدام جمله زیر درست است؟
 (۱) از دو مارپیچ آلفا راست‌گرد تشکیل شده که درهم تابیده‌اند و نوعی ابرمارپیچ راست‌گرد شکل داده‌اند.
 (۲) از دو مارپیچ آلفا چپ‌گرد تشکیل شده که درهم تابیده‌اند و نوعی ابرمارپیچ راست‌گرد شکل داده‌اند.
 (۳) از دو مارپیچ آلفا راست‌گرد تشکیل شده که درهم تابیده‌اند و نوعی ابرمارپیچ چپ‌گرد شکل داده‌اند.
 (۴) از دو مارپیچ آلفا چپ‌گرد تشکیل شده که درهم تابیده‌اند و نوعی ابرمارپیچ چپ‌گرد شکل داده‌اند.
- ۸۷- انتقال کدامیک به سطح بیرونی غشای سلولی یکی از علائم فرایند آپوپتوز است؟
 (۱) اسفنگو لیپیدها
 (۲) فسفاتیدیل سرین
 (۳) فسفاتیدیل کولین
 (۴) فسفاتیدیل اتانل آمین
- ۸۸- ایجاد حدواسط کربانیون در مسیر کاتالیز کدام آنزیم ایجاد می‌شود؟
 (۱) مالات دهیدروژناز
 (۲) سیتروتات سنتاز
 (۳) فوماراز
 (۴) آکونیاز
- ۸۹- کدامیک از دو پروتئین با ویژگی‌های زیر، به ترتیب از رزین کروماتوگرافی تعویض آنیونی و ژل فیلتراسیون در $\text{pH} = 7$ سریع‌تر خارج می‌شود؟
 پروتئین A: نقطه ایزوالکتریک = ۱۰ ، جرم مولکولی = ۱۲۰۰۰ دالتون
 پروتئین B: نقطه ایزوالکتریک = ۴ ، جرم مولکولی = ۶۲۰۰۰ دالتون
 (۱) A و A
 (۲) B و B
 (۳) A و B
 (۴) B و A
- ۹۰- واحدهای تشکیل‌دهنده اسید سیالیک کدامند؟
 (۱) N-استیل مانوز آمین و پیروات
 (۲) N-استیل گلوکز آمین و اسید لاکتیک
 (۳) N-استیل فروکتوز آمین و الکل اینوزیتول
 (۴) N-استیل گالاکتوز آمین و اسید مورامیک
- ۹۱- کدامیک از مشتقات مونوساکاریدی زیر می‌تواند حلقوی شود؟
 (۱) اسید گالاکتاریک
 (۲) اسید گلوکاریک
 (۳) اسید گلوکونیک
 (۴) اسید گلوکورونیک
- ۹۲- کدام جمله زیر در مورد ساختارهای DNA درست است؟
 (۱) A - DNA راست‌گرد است و کونفورماسیون چروکیده قند آن endo - ۲' است.
 (۲) B - DNA راست‌گرد است و کونفورماسیون چروکیده قند آن endo - ۲' است.
 (۳) B - DNA راست‌گرد است و کونفورماسیون چروکیده قند آن endo - ۳' است.
 (۴) A - DNA چپ‌گرد است و کونفورماسیون چروکیده قند آن به تناوب endo - ۳' و endo - ۲' است.

۹۳- فعالیت همه آنزیم های زیر در اثر فسفریلاسیون کاهش می یابد، به جز:

- (۱) سترات لیاز
- (۲) گلیکوژن سنتاز
- (۳) HMG - CoA ردوکتاز
- (۴) استیل کوآ کربوکسیلاز

۹۴- کدام گزینه در ارتباط با فعالیت آنزیم فسفوفروکتوکیناز I صحیح است؟

- (۱) در غلظت پایین ATP، K_m آنزیم برای فروکتوز ۶ - فسفات تغییری نمی کند.
- (۲) در غلظت بالای ATP، K_m آنزیم برای فروکتوز ۶ - فسفات کاهش می یابد.
- (۳) در غلظت پایین ATP، K_m آنزیم برای فروکتوز ۶ - فسفات افزایش می یابد.
- (۴) در غلظت پایین ATP، K_m آنزیم برای فروکتوز ۶ - فسفات کاهش می یابد.

۹۵- کوآنزیم مورد نیاز جهت انجام واکنش کلی زیر کدام است؟



B_1 (۴)

B_2 (۳)

B_6 (۲)

B_{12} (۱)

۹۶- در باکتری های تثبیت کننده نیتروژن، کدام آنزیم با انتقال الکترون به نیتروژن آن را تبدیل به آمونیاک می کند و کوفاکتور آن کدام است؟

- (۱) آمینوترانسفراز، کوفاکتور آهن - مولیبدون
- (۲) نیتروژناز، کوفاکتور آهن - مولیبدون
- (۳) نیتروژناز، کوفاکتور آهن - کبالت
- (۴) آمینوترانسفراز، کوفاکتور آهن - کبالت

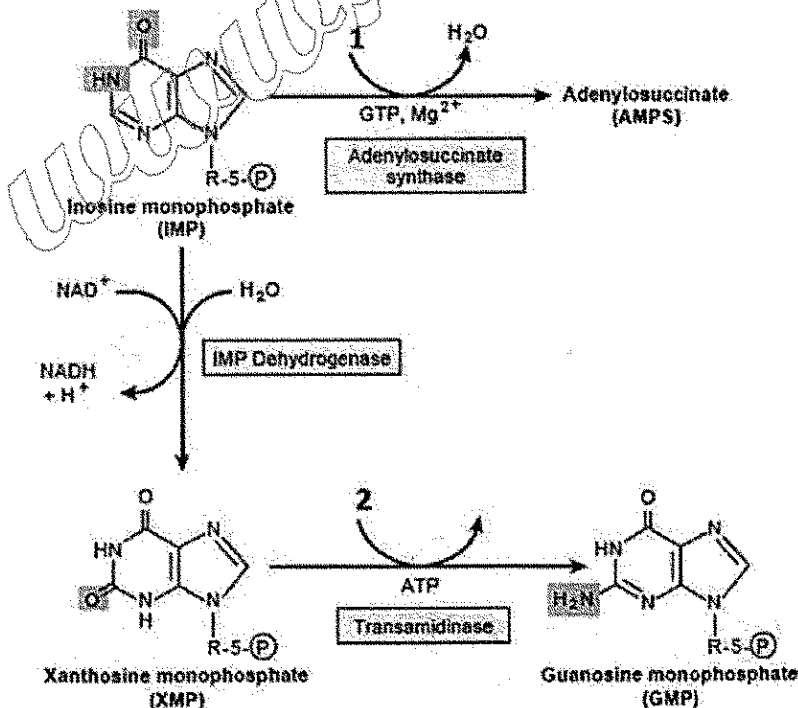
۹۷- در صورت مواجهه با ماده شیمیایی که می تواند زنجیره انتقال الکترون را در میتوکندری مهار کند، چه اتفاقی در یک سلول جانوری رخ می دهد؟

- (۱) افزایش pH ماتریکس
- (۲) کاهش مصرف O_2

- (۱) تحریک پمپاژ یون های H^+
- (۳) تحریک ساخت ATP

۹۸- در تبدیل IMP به AMP و GMP، شماره های ۱ و ۲ به ترتیب کدام اند؟

- (۱) آسپاراتات - گلوتامات
- (۲) گلوتامین - آسپاراتات
- (۳) آسپاراتات - گلوتامین
- (۴) گلوتامات - آسپاراتات



- ۹۹- در کدام واکنش زیر، مقدار انرژی بیشتری تولید می شود؟
 (۱) تبدیل فومارات به مالات
 (۲) تبدیل پیرووات به استیل کوآ
 (۳) تبدیل سوکسینیل کوآ به سوکسینات
 (۴) تبدیل سوکسینات به فومارات
- ۱۰۰- در مسیر گلوکونئوز، به ترتیب چه ترکیبی اثر آلوستریکی مثبت بر روی آنزیم پیرووات کربوکسیلاز و اثر آلوستریکی منفی بر آنزیم فروکتوز ۱ و ۶- بیس فسفاتاز دارد؟
 (۱) استیل کوآنزیم A، فروکتوز ۲ و ۶- بیس فسفات
 (۲) ATP، فروکتوز ۲ و ۶- بیس فسفات
 (۳) استیل کوآنزیم A، سترات
 (۴) آلانین، سترات

زیست شناسی سلولی و مولکولی:

- ۱۰۱- کدام یک از زیریکول های زیر عمل سورتینگ پروتئین ها به داخل زیریکول نیاز به پوشش در اطراف زیریکول ندارد؟
 (۱) گلژی به ایندوزوم
 (۲) گلژی به غشای پلاسمائی
 (۳) شبکه آندوپلاسمائی به گلژی
 (۴) غشای پلاسمائی به ایندوزوم
- ۱۰۲- همه جملات زیر در رابطه با زیرواحدهای تشکیل دهنده کمپلکس $F_0 F_1$ باکتری *E. coli* درست اند، به جز:
 (۱) زیرواحد c، حلقه چرخان را در ساختار این کمپلکس می سازد.
 (۲) در ساختار این کمپلکس ۸ نوع پروتئین با نسبت های $\alpha: \beta: \gamma: \delta: \epsilon: a: b: c$ وجود دارد.
 (۳) زیرواحد a، کانالی را می سازد که اجازه عبور یه پروتون ها و انتقال آنها از فضای پری پلاسمی به داخل سلول را می دهد.
 (۴) دو زیرواحد b با اتصال به زیرواحد دلتا (δ) بخش ساقه مرکزی را می سازند که در تثبیت زیرواحدهای α/β نقش دارد.
- ۱۰۳- پروتئین هایی که در چرخه سلولی در تجزیه سیکورین، (SCi) و شروع آنافاز نقش دارند به ترتیب کدامند؟
 (۱) APC/C^{Cdh1} و APC/C^{CdC20}، SCF
 (۲) APC/C^{CdC20} و APC/C^{Cdh1}، SCF
 (۳) APC/C^{CdC20} و SCF، APC/C^{Cdh1}
 (۴) APC/C^{CdC20} و SCF
- ۱۰۴- کدام یک در لنگراندازی زیریکول در محل هدف نقش دارد؟
 (۱) Rab
 (۲) Snare
 (۳) Dynein
 (۴) Dynactin
- ۱۰۵- تأثیر داروهایی مثل Ouabain و Digoxin بر پمپ های $Na^+ - K^+ - Na^+ - Ca^{2+}$ و فیزیولوژی سلول به ترتیب چگونه است؟
 (۱) فعال - فعال - انقباض شدید سلول
 (۲) فعال - غیرفعال - سلول در حال استراحت
 (۳) غیرفعال - فعال - انقباض شدید سلول
 (۴) غیرفعال - غیرفعال - سلول در حال استراحت
- ۱۰۶- در فعال سازی مسیر NF- κ B به وسیله $TNF\alpha$ ، کدام یک به عنوان واحد تنظیم کننده عمل می کند؟
 (۱) IKB
 (۲) NEMO
 (۳) IKK α
 (۴) IKK β

۱۰۷- نقش زیرواحد سیگما از آنزیم RNA پلیمراز در اشریشیاکلی چیست؟

- (۱) کمک به طولیل‌سازی زنجیره mRNA در حال سنتز
- (۲) کمک به شناسایی محل دقیق ختم سنتز زنجیره mRNA
- (۳) کمک به شناسایی محل دقیق شروع سنتز زنجیره mRNA
- (۴) کمک در تجمیع اجزاء آلفا و بتای هولوآنزیم پلیمریزه‌کننده mRNA

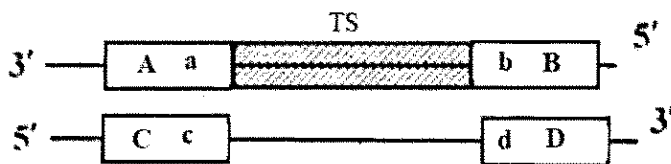
۱۰۸- کدام یک از مولکول‌های زیر در فاز λ برای بیان **Delayed early genes** ضروری است؟

- (۱) پروتئین Cro به‌عنوان مهارکننده ژن CI
- (۲) پروتئین CI به‌عنوان مهارکننده ژن Cro
- (۳) پروتئین Q به‌عنوان یک antiterminator
- (۴) پروتئین N به‌عنوان یک antiterminator

۱۰۹- اگر قرار باشد منطقه هاشور زده (TS) مکمل توالی کدکننده پروتئین (CDS) از یک ژن پروکاریوتی باشد، به‌ترتیب

موقعیت تقریبی توالی شاین دالگارنو و پروموتور در دو رشته باز شده این لوکوس ژنی در مرحله رونویسی در شکل

شما تیک زیر کدام است؟



- (۱) Dd و b
- (۲) Cc و a
- (۳) Bb و d
- (۴) Aa و c

۱۱۰- در اپرون لاکتوز کنترل مثبت چه زمانی صورت می‌گیرد؟

- (۱) القاکننده لاکتوز باشد.
- (۲) رپرسور روی اپراتور بنشیند.
- (۳) CAP روی DNA بنشیند.
- (۴) RNA پلیمراز روی پروموتور بنشیند.

۱۱۱- کدام حالت باعث باز شدن اتصالات منفذی (Gap junction) می‌شود؟

- (۱) کاهش غلظت Ca^{2+} و افزایش H^+ در فضای بین دو سلول
- (۲) افزایش غلظت Ca^{2+} و کاهش H^+ در فضای بین دو سلول
- (۳) کاهش غلظت Ca^{2+} و افزایش H^+ در داخل سلول
- (۴) افزایش غلظت Ca^{2+} و کاهش H^+ در داخل سلول

۱۱۲- کدام مورد زیر، از پروتئین‌های ترانس ممبران غشاء سلولی است که دارای مقادیر قابل توجه از گلووسیدها و

تأمین‌کننده قسمت عمده بار منفی غشای گلبول‌های قرمز می‌باشد؟

- (۱) گلیکوفورین A
- (۲) اسپکترین
- (۳) آنکیرین
- (۴) باند ۳

۱۱۳- چند مورد از تغییرات پساترجمه‌ای زیر در شبکه آندوپلاسمی خشن اتفاق می‌افتد؟

- I. قندی شدن از نوع O
- II. تشکیل پیوندهای دی‌سولفیدی
- III. بسته‌بندی صحیح پروتئین‌های چند زیرواحدی
- IV. برش‌های پروتئولیزی توسط فورین‌ها
- V. سولفریلاسیون پروتئین‌ها
- VI. هیدراکسیلاسیون بعضی از اسیدهای آمینه در ساختمان پروتئین‌ها

- (۱) ۲
- (۲) ۳
- (۳) ۴
- (۴) ۵

۱۱۴- کدام یک از عوامل رونویسی زیر، پروتئین مونومری کوچک است و به صورت نامتقارن به DNA متصل می شود؟

TFIIE (۲)

TFIIB (۱)

TFIIH (۴)

TFIIF (۳)

۱۱۵- دقت کدام یک از سیستم های ترمیمی زیر نسبت به سایرین کمتر است؟

BER (۲)

NER (۱)

(۴) اتصال انتهای غیرهمولوگ

(۳) نوترکیبی همولوگ

۱۱۶- کدام یک از تکنیک های زیر، جهت بررسی باز و بسته شدن کانال های یونی مورد استفاده قرار می گیرد؟

FRAP (۲)

ESR (۱)

Freeze Fracture (۴)

Patch clamping (۳)

۱۱۷- کدام یک از مکانیسم های سلولی زیر عامل جمود نعشی پس از مرگ انسان است؟

(۱) عدم اتصال Pi به ADP و تولید ATP و عدم اتصال سر میوزین به رشته اکتین

(۲) اتصال محکم سر میوزین به رشته اکتین در حضور ATP

(۳) اتصال محکم سر میوزین به رشته اکتین در غیاب ADP

(۴) اتصال محکم سر میوزین به رشته اکتین در غیاب ATP

۱۱۸- کدام یک از اجسام هسته ای زیر با حذف اینترون ها در ارتباط است؟

PML body (۲)

Speckle (۱)

Polycomb body (۴)

Clastosome (۳)

۱۱۹- در رابطه با ساختار «کمپلکس منفذ هسته ای»، کدام جمله زیر صحیح است؟

(۱) چهار نوع نوکلئوپورین، ساختار هر منفذ هسته ای را تشکیل می دهند.

(۲) نوکلئوپورین های غشایی، داربست ساختار منفذ هسته ای را تشکیل می دهند.

(۳) شانزده کپی از کمپلکس Y، داربست ساختار پایه ای منفذ هسته ای را تشکیل می دهند.

(۴) هشت نوکلئوپورین ساختاری، تشکیل یک کمپلکس Y را در ساختار منفذ هسته ای می دهند.

۱۲۰- کدام موارد زیر در ارتباط با مرگ برنامه ریزی شده آپوپتوز درست اند؟

a. cFLIP مشابه یک کاسپاز آغازگر دارای فعالیت پروتئازی می باشد.

b. cFLIP در جایگاه فعال خود دارای باقی مانده های آمینو اسیدی سیستمین می باشد.

c. پروتئین Bid رابط بین مسیر خارج سلولی و داخل سلولی آپوپتوز است که توسط Casp-۸ فعال می شود.

d. پروتئین Bid رابط بین مسیر خارج سلولی و داخل سلولی آپوپتوز است که توسط Casp-۳ فعال می شود.

e. پروتئین Bid از طریق مهار IAPs باعث القاء آپوپتوز در مگس سرکه می شود.

f. پروتئین Omi از طریق مهار IAPs باعث القاء آپوپتوز در پستانداران می شود.

a, c, e (۲)

a, b, d (۱)

c, e, f (۴)

b, d, f (۳)

میکروبیولوژی:

۱۲۱- اتصال تیکوئیک اسید به دیواره باکتری، از کدام طریق است؟

(۲) کربن ۶ در N - استیل گلوکزآمین

(۱) کربن ۳ در N - استیل گلوکزآمین

(۴) کربن ۶ در N - استیل مورامیک اسید

(۳) کربن ۳ در N - استیل مورامیک اسید

۱۲۲- کدام گزینه در مورد FtsZ صحیح است؟

- (۱) در تعیین شکل باکتری FtsZ نقش دارد.
- (۲) FtsZ با اثر القایی MinCD پلیمریزه می‌شود.
- (۳) انرژی پلیمریزه شدن FtsZ به شکل GTP است.
- (۴) ساختار FtsZ مشابه اکتین در سلول‌های یوکاریوتی است.

۱۲۳- واکنش استیکلند روی اتانل و استات در کدام باکتری مشاهده شده است؟

- | | |
|------------------------------------|--|
| (۱) <i>Closteridium aceticum</i> | (۲) <i>Closteridium kluyveri</i> |
| (۳) <i>Closteridium sporogenes</i> | (۴) <i>Closteridium acetobutylicum</i> |

۱۲۴- پروتئین کلیدی در فرایند سازگاری و آماده‌سازی مجدد کموتاکسی کدام است؟

- | | | | |
|---------|-----------|-----------|-----------|
| (۱) MCP | (۲) Che Y | (۳) Che B | (۴) Che A |
|---------|-----------|-----------|-----------|

۱۲۵- نخستین ترکیب ضد میکروبی سنتتیک چیست و بر ضد کدام عامل استفاده شد؟

- | | |
|--|---|
| (۱) سولفانیل آمید - عامل بیماری سل | (۲) سالوارزان - عامل بیماری سفلیس |
| (۳) پنی‌سیلین - عوامل عفونت‌های مجروحان جنگی | (۴) آمفوتریسین B - عوامل عفونت‌های قارچی پوست |

۱۲۶- نقش آنزیم‌های Anaplerotic در باکتری‌های هتروتروف چیست؟

- (۱) تأمین واسطه‌های چرخه کربس از طریق کربوکسیلاسیون
- (۲) سنتز واسطه‌های چهار کربنی توسط چرخه گلیکسالات
- (۳) تولید آسپاراتات و گلوتمات توسط ترانس آمینازها
- (۴) مصرف ملات در سلول توسط ملات دهیدروژناز

۱۲۷- فسفوریلاسیون کدام پروتئین زیر به عنوان مهم‌ترین فاکتور اسپورزایی در باسیلوس سوبتیلیس به‌منزله

شروع‌کننده فرایند اسپورزایی است؟

- | | |
|----------------------|----------------------|
| (۱) سیگمافاکتور (σF) | (۲) سیگمافاکتور (σE) |
| (۳) Spo0E | (۴) Spo0A |

۱۲۸- برای تشخیص کدام باکتری از هماگلوتیناسیون در ۴ درجه سانتی‌گراد استفاده می‌شود؟

- | | |
|---------------------------------|-----------------------------------|
| (۱) <i>Brucella melitensis</i> | (۲) <i>Chlamydia pneumoniae</i> |
| (۳) <i>Mycoplasma pneumonia</i> | (۴) <i>Listeria monocytogenes</i> |

۱۲۹- کدام ترکیب از بیوسنتز مورامیک اسید ممانعت می‌کند؟

- | | |
|-----------------|------------------|
| (۱) باسیتراکسین | (۲) پنی‌سیلین |
| (۳) سیکلوسرین | (۴) فسفونومایسین |

۱۳۰- منشاء کدام یک از فاکتورهای بیماری‌زای زیر، به ترتیب باکتریوفازی و ترانسپوزونی است؟

- (۱) سم شبه شیگا تولیدی توسط اش‌ریشیاکلی و سم شیگا تولیدی توسط شیگلا دیسانتری
- (۲) کواگولاز تولیدی توسط یرسینیا پستیس و فاکتورادم تولیدی توسط باسیلوس آنتراسیس
- (۳) سم دیفتری تولیدی توسط کورینه باکتریوم دیفتری و سم اریتروتوکسین تولیدی توسط استریتوکوکوس پایوجنز
- (۴) نوروتوکسین C تولیدی توسط کلستریدیوم بوتولینوم و فاکتور کلونیزاسیون پیلی تولیدی توسط اش‌ریشیاکلی

۱۳۱- مکانیسم مقاومت به دارو در کدام آنتی بیوتیک زیر، براساس شکست در ساختمان آنتی بیوتیک است؟

- | | |
|------------------|--------------------|
| (۱) ریفامپین | (۲) جنتامایسین |
| (۳) آموکسی‌سیلین | (۴) سیپروفلوکسازین |

- ۱۳۲- کدام یک از موارد زیر در بقای لیستریا مونوسیتوز در داخل فاگوزوم مؤثر است؟
 (۱) کوآگولاز
 (۲) فسفولیپاز C
 (۳) گلیسرید A
 (۴) هماگلوتیناسیون در ۴ درجه سانتی‌گراد
- ۱۳۳- کدام یک از باکتری‌های زیر، فاقد آنتی‌ژن H هستند؟
 (۱) شیگلا - کلبسیلا
 (۲) شیگلا - سراشیا
 (۳) سیتروباکتر - سراشیا
 (۴) کلبسیلا - سیتروباکتر
- ۱۳۴- فراوان‌ترین پروکاریوت آب‌های شیرین، کدام گروه از باکتری‌های زیر است؟
 (۱) Archaea
 (۲) Actinobacteria
 (۳) Cyanobacteria
 (۴) Proteobacteria
- ۱۳۵- کدام یک از میکروارگانیسم‌های زیر، از قدمت بیشتری در حیات برخوردارند؟
 (۱) باکتری‌های فتوسنتزکننده غیراکسیژن‌زا
 (۲) ریزجلبک‌های سبز
 (۳) سیانوباکتری‌ها
 (۴) پروتوزوئرها
- ۱۳۶- با کمک قارچ آسپوزیلوس نایجر در pH حدود ۷، کدام یک از فرآورده‌های تخمیری زیر را می‌توان تولید کرد؟
 (۱) اسید سیتریک
 (۲) اگزالیک اسید
 (۳) اسید مالئیک
 (۴) سوکسینیات
- ۱۳۷- رنگ سبز گوشت درون یخچال می‌تواند به دلیل رشد باشد.
 (۱) *Pseudomonas syringae*
 (۲) *Pseudomonas aeruginosa*
 (۳) *Pseudomonas mephitica*
 (۴) *Pseudomonas fluorescens*
- ۱۳۸- کدام یک از واکنش‌های چرخه بیولوژیک ازت در خاک باعث اسیدی شدن pH خاک می‌شود؟
 (۱) آمونیفیکاسیون
 (۲) تثبیت ازت
 (۳) دنیتریفیکاسیون
 (۴) نیتریفیکاسیون
- ۱۳۹- کدام یک از باکتری‌های زیر، به‌منظور تأمین اکسی‌والان احیایی لازم در تثبیت دی‌اکسیدکربن از چرخه جریان الکترون برگشتی (Reverse Electron Flow) استفاده می‌کند؟
 (۱) آنابنا
 (۲) کلروبیوم
 (۳) کروماتیوم
 (۴) هلیوباکتریوم
- ۱۴۰- در باکتری‌های گوگردی ارغوانی و سیانوباکتری‌ها، به‌ترتیب کدام رنگی‌های فتوسنتزی وجود دارد؟
 (۱) کلروفیل a - کلروفیل a
 (۲) کلروفیل a - کلروفیل a
 (۳) کلروفیل a - باکتریوکلروفیل
 (۴) باکتریوکلروفیل - باکتریوکلروفیل

مجموعه ویروس‌شناسی، قارچ‌شناسی و ایمنی‌شناسی:

- ۱۴۱- کدام جزء سیستم کمپلمان، باعث اپسونیزه کردن میکروارگانیسم‌ها می‌شود؟
 (۱) C5a
 (۲) C3a
 (۳) C3b
 (۴) C5b
- ۱۴۲- عملکرد سلول‌های M، باعث تولید کدام ایزوتیپ آنتی‌بادی اختصاصی، علیه آنتی‌ژن می‌شود؟
 (۱) IgA
 (۲) IgE
 (۳) IgG
 (۴) IgM
- ۱۴۳- در سیستم ایمنی انسان، کدام یک از نقش‌های سلول‌های T کمکی (T helper) در پاسخ ایمنی نمی‌باشد؟
 (۱) فعال‌سازی ماکروفاژها
 (۲) انجام تغییر در ایزوتیپ آنتی‌بادی
 (۳) جلوگیری از تمایز سلول‌های Tc
 (۴) تحریک تولید آنتی‌بادی توسط سلول‌های B

۱۴۴- تواتر (فرکانس) آلل‌ها در جمعیت انسانی برای جایگاه ژن‌های کدام HLA در کروموزوم ۶ از بقیه بیشتر است؟

(۱) HLA-C (۲) HLA-DQ (۳) HLA-DP (۴) HLA-DR

۱۴۵- کدام مورد در کمپلکس MHC I در شبکه آندوپلاسمی مشارکت ندارد؟

(۱) TAP (۲) Tapasin

(۳) Chaperon protein (۴) B2 – microglubulin

۱۴۶- کدام مورد در خصوص شاخص‌های سلول‌های دندریتیک نابالغ درست است؟

(۱) بیان بالای IL – 12 (۲) بیان بالای گیرنده FC

(۳) بیان پایین گیرنده مانوز (۴) طول عمر بالای MHC II روی سطح سلول

۱۴۷- کدام آنتی‌بادی در سرم دارای طول عمر بیشتری است؟

(۱) IgA (۲) IgE (۳) IgG (۴) IgM

۱۴۸- کدام مورد در رابطه با پریون‌ها درست است؟

(۱) پریون‌ها فقط در پستانداران مشاهده می‌شوند.

(۲) پریون‌های بیماری را (PrP^{Sc}) ایمونوزن هستند.

(۳) پریون‌های طبیعی (PrP^C) نسبت به پروتئازها مقاوم هستند.

(۴) پریون‌های طبیعی (PrP^C) و بیماری را (PrP^{Sc}) از لحاظ توالی آمینو اسیدی یکسان هستند.

۱۴۹- کدام یک از پروتئین‌های ویروس HIV – 1 در خروج PNA های ویروسی غیربرش خورده (unsplicing) از هسته نقش دارد؟

(۱) Rev (۲) Nef (۳) Vpr (۴) Vpu

۱۵۰- کدام یک از ویروس‌های زیر، با عبور از جفت توان ایجاد عفونت در جنین را دارند؟

(۱) B19, HPV (۲) CMV – B19

(۳) CMV – HPV (۴) HPV, HIV – 6

۱۵۱- در مورد واکسن رایج ویروس واریسلایزوتر (VZV) و اوریون (Mumps)، کدام گزینه درست است؟

(۱) کشته شده - ضعیف شده (۲) کشته شده - کشته شده

(۳) ضعیف شده - کشته شده (۴) ضعیف شده - ضعیف شده

۱۵۲- در کدام یک از ویروس‌های زیر، محل مسیر ورود ویروس با محل عفونت مطابقت دارد؟

(۱) Adenovirus (۲) Rabies virus

(۳) Cytomegalovirus (۴) Varicella zoster virus

۱۵۳- کدام ویروس، کلاهک (Cap) مورد نیاز mRNA های خود را از mRNA های میزبان می‌گیرد؟

(۱) فلاوی ویروس (۲) رابدو ویروس

(۳) آنفلوآنزا (۴) پاراآنفلوآنزا

۱۵۴- کدام ویروس در سلول‌های لمفوسیت B خفته می‌شود؟

(۱) VZV (۲) EBV

(۳) HSV – 1 (۴) HSV – 2

۱۵۵- قارچ‌های بی‌هوازی ساکن دستگاه گوارش نشخوارکنندگان، در کدام گروه زیر قرار می‌گیرند؟

(۱) آسکومیکوتا (۲) زیگومیکوتا

(۳) بازیدیومیکوتا (۴) کترییدیومیکوتا

- ۱۵۶- در ارتباط با اسپور قارچ ها، کدام مورد با سایر انواع متفاوت است؟
(۱) کنیدیوسپور (۲) بازیدیوسپور (۳) زیگوسپور (۴) آسکوسپور
- ۱۵۷- در خصوص قارچ های دو شکلی، کدام مورد زیر درست است؟
(۱) در خاک به شکل رشته ای رشد می کنند.
(۲) در حرارت 25°C به شکل مخمری رشد می کنند.
(۳) در میزان زیاد CO_2 به شکل رشته ای رشد می کنند.
(۴) در میزان زیاد اکسیژن به شکل مخمری رشد می کنند.
- ۱۵۸- کدام یک از ویژگی های زیر، در مورد قارچ ها درست است؟
(۱) موجوداتی میکسوتروف و همه چیزخوار هستند.
(۲) شکل ذخیره ای در قارچ ها به شکل پلیمر گلیکوژن است.
(۳) به شکل یوکاریوت بوده و قرابت ژنتیکی بیشتری به گیاهان دارند.
(۴) در گیاهان بیماری زا بوده و همراه با سیستم آوندی در ساقه خود هستند.
- ۱۵۹- کدام مورد زیر، ویژگی بارز اسپور در قارچ های حقیقی را بهتر بیان می کند؟
(۱) اسپور قارچ، عامل نهفتگی عفونت است و شدت بیماری زایی را کنترل می کند.
(۲) اسپور قارچ عامل مقاومت در برابر دماهای بالا است.
(۳) اسپور ابزار حفاظت از اطلاعات توارثی قارچ است.
(۴) اسپور ابزار تولیدمثل و انتشار قارچ است.
- ۱۶۰- کدام قارچ های زیر، مولد ترکیبات آلكالوئیدی است؟
(۱) *Claviceps purpurea* (۲) *Fusarium graminearum*
(۳) *Saccharomyces cerevisiae* (۴) *Trichophyton mentagrophytes*

بیوفیزیک:

- ۱۶۱- در کدام روش جداسازی، بار الکتریکی سطحی پروتئین الزاماً منفی است؟
(۱) Capillary Electrophoresis
(۲) Isoelectric Focusing Electrophoresis
(۳) Polyacryl Amide Gel Electrophoresis
(۴) SDS-Polyacryl Amide Gel Electrophoresis
- ۱۶۲- بار خالص دی پپتید Cys-Gly در pH های ۲، ۷ و ۱۰ به ترتیب چگونه است؟
(۱) +۱، ۰ و -۱ (۲) +۱، ۰ و -۲
(۳) +۲، ۰ و -۱ (۴) +۲، ۰ و -۲
- ۱۶۳- سرعت انتقال یون ها توسط حامل ها در غشاء با کاهش دما چگونه است؟
(۱) افزایش ملایم (۲) افزایش ناگهانی
(۳) کاهش ناگهانی (۴) بدون تغییر

www.Sanjesh3.com

۱۶۴- اندازه قطر هیدرودینامیکی نانوذرات در محلول با کدام روش تعیین می‌شود؟

(۱) DLS (۲) DSC

(۳) ORD (۴) TGA

۱۶۵- کدام یک جهت آنالیز توالی پروتئین استفاده نمی‌شود؟

(۱) BLAST (۲) Modeller

(۳) EmBoss-Needle (۴) EmBoss-Matcher

۱۶۶- کدام بانک اطلاعات، ساختار ماکرومولکول‌های زیستی را به طور اختصاصی ذخیره می‌کند؟

(۱) PDB (۲) EMBL

(۳) Gen Bank (۴) Swiss-prot

۱۶۷- در کدام یک از انواع برهم‌کنش‌های زیر، انرژی داخلی با توان چهارم فاصله رابطه عکس دارد؟

(۱) دو قطبی دائمی - دو قطبی القایی (۲) دو قطبی دائمی - دو قطبی دائمی

(۳) یون - دو قطبی القایی (۴) یون - دو قطبی دائمی

۱۶۸- بیشترین فضای کنفورماسیونی در منحنی رامانندران به کدام آمینو اسید تعلق دارد؟

(۱) گلیسین (۲) پرولین

(۳) آلانین (۴) ایزولوسین

۱۶۹- براساس نظریه آنفینزن (Anfinsen)، اطلاعات لازم برای تاخوردن پروتئین‌ها در سطح کدام ساختار وجود دارد؟

(۱) چهارم (۲) سوم

(۳) دوم (۴) اول

۱۷۰- کدام مارپیچ در ساختار پروتئین‌ها بیشتر مشاهده می‌شود؟

(۱) $2/7_{11}$ (۲) 3_{10}

(۳) $3/6_{13}$ (۴) $4/3_{16}$

۱۷۱- آمینو اسید پرولین به دلیل ایجاد محدودیت در کدام زاویه چرخشی باعث خم شدن زنجیره پروتئین می‌شود؟

(۱) امگا (ω) (۲) کای (χ)

(۳) سای (ψ) (۴) فی (ϕ)

۱۷۲- کدام روش برای تعیین ساختار سه‌بعدی پروتئین‌ها به کار نمی‌رود؟

(۱) NMR (۲) IR

(۳) X-Ray (۴) Croy-EM

۱۷۳- جذب مولکول اسید نوکلئیک در طول موج ۲۶۰ نانومتر، با افزایش نظم ساختاری کروموفورها چگونه است؟

(۱) افزایشی (۲) کاهشی

(۳) بدون تغییر (۴) ابتدا افزایش بعد ثابت

۱۷۴- کدام یک از روش‌های کروماتوگرافی قابلیت جداسازی بهتری دارد؟

(۱) تمایلی (۲) کاغذی

(۳) لایه نازک (۴) کروماتوگرافی گازی

۱۷۵- با تغییر کنفورماسیون یک پروتئین از حالت واسرشته (unfold) به حالت طبیعی و تاخورد (fold)، شدت نشر

فلورسانس ذاتی و فلورسانس مبتنی بر ANS، به ترتیب چگونه خواهد بود؟

- (۱) افزایش - افزایش
(۲) کاهش - کاهش
(۳) افزایش - کاهش
(۴) کاهش - افزایش

۱۷۶- برآیند نور قطبیده چرخشی راست بر و چپ بر با دامنه های غیریکسان در روش دورنگ نمایی دورانی یک نور است.

- (۱) قطبیده صفحه ای
(۲) قطبیده بیضوی
(۳) غیرقطبیده صفحه ای
(۴) غیرقطبیده بیضوی

۱۷۷- اختلاف طول موج ورودی و خروجی در پدیده کمپتون در کدام زاویه پراکندگی فوتون کمترین است؟

- (۱) صفر درجه
(۲) ۹۰ درجه
(۳) ۱۸۰ درجه
(۴) ۲۷۰ درجه

۱۷۸- در کدام گزینه هر دو مورد، واحد دز جذبی معادل می باشند؟

- (۱) گری و رم
(۲) سیورت و راد
(۳) سیورت و رم
(۴) سیورت و گری

۱۷۹- کدام جمله، توصیف ترمودینامیکی درست از یک درخت است؟

- (۱) هنگامی که درخت تازه است و برگ و میوه می دهد یعنی آنروپی سیستم (حاوی درخت و محیط اطراف) کمینه است.
(۲) هنگامی که درخت تازه است و برگ و میوه می دهد یعنی در تعادل با محیط اطراف است.
(۳) هنگامی که درخت خشک شده است یعنی آنروپی درخت در حالت کمینه است.
(۴) هنگامی که درخت خشک شده است یعنی در تعادل با محیط اطراف است.

۱۸۰- در کدام قانون ترمودینامیک بر تفاوت بین گرما و دما تاکید می شود؟

- (۱) سوم
(۲) دوم
(۳) اول
(۴) صفر

مجموعه زیست شناسی دریا (پلانکتون شناسی - کفزیان - بوم شناسی - فیزیولوژی آبزیان):

۱۸۱- مقدار ترشحات فیتوپلانکتون ها و زئوپلانکتون ها به محیط آبی تابعی از بوده و مقدار این ترشحات در

مناطق بیشتر است.

- (۱) دما - ساحلی
(۲) دما - بازاقیانوسی
(۳) میزان اکسیژن محلول - ساحلی
(۴) میزان اکسیژن محلول - بازاقیانوسی

۱۸۲- اثر فعالیت گونه های کلیدی (Keyston species) بر تنوع زیستی معمولاً چگونه است؟

- (۱) کاهش تنوع زیستی
(۲) افزایش تنوع زیستی
(۳) بدون اثر بر تنوع زیستی
(۴) تغییر در تعداد افراد بدون تغییر در تنوع زیستی

۱۸۳- پدیده اسیدی شدن اقیانوس ها، کدام گروه را بیشتر تحت تأثیر قرار می دهد؟

- (۱) نماتودها
(۲) جنگل های مانگرو
(۳) مرجان های سخت
(۴) کرم های پهن آزادی

۱۸۴- لارو رایج در شاخه کیسه تنان (Cnidaria) چه نام دارد؟

- (۱) بیپیناریا
(۲) پلانولا
(۳) پیلیدیوم
(۴) پارانشی مُلا

۱۸۵- کدام یک از پمپ های زیر، در تنظیم اسمزی سلول های کلراید آبشش ماهیان دریایی نقش ندارند؟

- (۱) پروتونی
(۲) پتاسیم
(۳) سدیم - پتاسیم
(۴) سدیم - پتاسیم - کلر

۱۸۶- در لاک پشت های دریایی، ترشح نمک اضافی به خارج از بدن از چه طریقی صورت می گیرد؟

- (۱) تنظیم فشار اسمزی در لایه مخاطی مری
(۲) تجمع در لاک های قدیمی تر
(۳) غدد لاکریمال
(۴) کلیه ها

۱۸۷- جانورانی که از اتوتروف ها تغذیه می کنند، کدام اند؟

- (۱) Spongivores
(۲) Omnivores
(۳) Carnivores
(۴) Herbivores

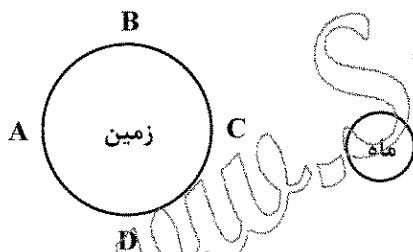
۱۸۸- بخش عمده حیات در کدام بخش زیر وجود دارد؟

- (۱) در گودال های اقیانوسی
(۲) در امتداد پشته های میان اقیانوسی
(۳) بر رو یا بالای بخش فلات قاره
(۴) نزدیک چشمه های آب گرم اقیانوس

۱۸۹- گونه های مختلف که در یک منطقه زندگی می کنند و با هم برهم کنش دارند، یک را تشکیل می دهند.

- (۱) اکوسیستم
(۲) اکوتون
(۳) بیوم
(۴) جامعه

۱۹۰- کدام بخش از شکل زیر دارای بیشترین مد خواهد بود؟



- (۱) A و B
(۲) A و C
(۳) B و D
(۴) C و D

۱۹۱- خیلی از مرجان ها رابطه همزیستی با دارند.

- (۱) باکتری ها
(۲) دیاتومه ها
(۳) جلبک های قرمز
(۴) داینوفلاژله ها

۱۹۲- کدام یک از موجودات زیر به ترتیب اوز سیلیکاتی و اوز آهکی تولید می کنند؟

- (۱) شعاعیان - فرامینیفرها
(۲) فرامینیفرها - کوكولیتوفرها
(۳) کوكولیتوفرها - دیاتومه ها
(۴) دیاتومه ها - شعاعیان

۱۹۳- به کل بدنه یک جلبک دریایی چه اطلاق می شود؟

- (۱) Stipe
(۲) Thallus
(۳) Blades
(۴) Pneumatocysts

۱۹۴- منطقه‌ای از دریا که در آن پرتوهای از نور نفوذ می‌کنند و شدت تنفس در آن از شدت فتوسنتز بیشتر است، چه نامیده می‌شود؟

- (۱) Euphotic
(۲) Epipelagic
(۳) Disphotic
(۴) Bathypelagic

۱۹۵- وجود مرزهای افقی از ویژگی‌های کدام منطقه است؟

- (۱) گلی
(۲) مرجانی
(۳) ماسه‌ای
(۴) صخره‌ای

۱۹۶- چشم ماهیان به‌طور معمول در کدام منطقه اقیانوسی بزرگتر است؟

- (۱) هادال پلاژیک
(۲) ابیسوپلاژیک
(۳) اپی پلاژیک
(۴) مزوپلاژیک

۱۹۷- جنگل‌های حرا در چه مناطقی رشد می‌کنند؟

- (۱) در مناطق جزایر و مدی ساحلی نواحی حاره و نیمه‌حاره
(۲) در مناطق جزایر و مدی ساحلی مناطق معتدله
(۳) در همه‌ی عرض‌های جغرافیایی
(۴) در نیمکره‌ی جنوبی

۱۹۸- نکتون قادر به چه حرکتی می‌باشد؟

- (۱) برخلاف جریان آب
(۲) با جریان آب
(۳) در کف دریا
(۴) با جریان‌های جزر و مدی

۱۹۹- فراوان‌ترین گروه از نت پلانکتون‌ها کدامند؟

- (۱) آمفی‌پودا
(۲) کریل‌ها
(۳) کپه‌پودا
(۴) رادیولاریا

۲۰۰- تولید در اقیانوس‌ها از مرکز به نواحی ساحلی را نشان می‌دهد.

- (۱) کاهش
(۲) افزایش
(۳) ابتدا افزایش و سپس کاهش
(۴) ابتدا کاهش و سپس افزایش

www.Sanjesh3.com