

تعداد سوالات: تستی: ۴ تشریحی: ۴

زمان آزمون (دقیقه): تستی: ۴۰ تشریحی: ۶۰

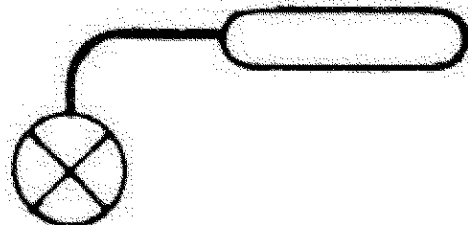
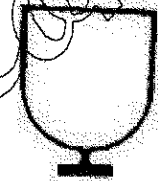
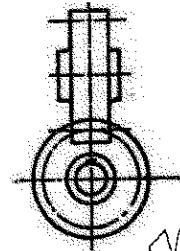
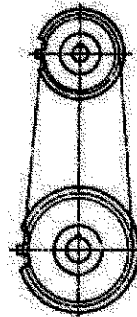
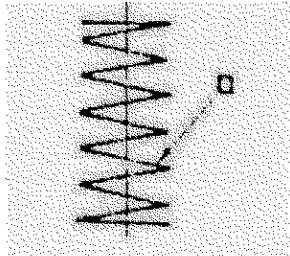
سری سوال: یک ۱

درس: نقشه کشی تخصصی

رشته تحصیلی/کد درس: مهندسی مدیریت اجرایی (چندبخشی) ۱۳۱۱۰۳۴

نمره ۴.۴۲

۱- هر کدام از شکل های زیر علامت اختصاری چه چیزی در نقشه کشی می باشد؟



سری سوال : ۱ یک

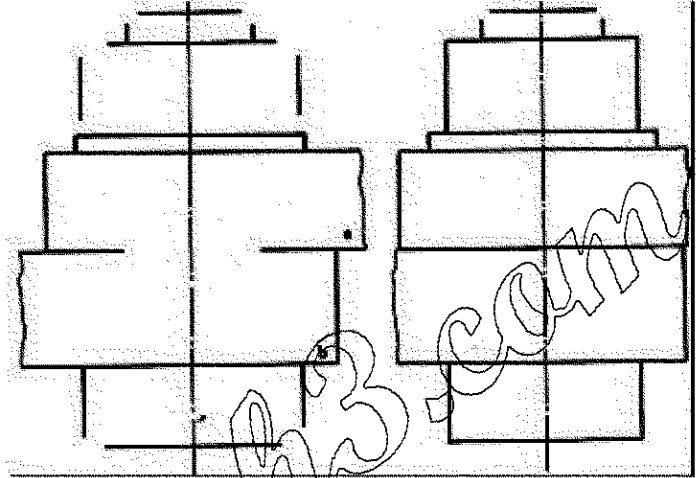
زمان آزمون (دقیقه) : تستی : ۴۰ تشریحی : ۶۰

تعداد سوالات : تستی : ۴۰ تشریحی : ۶۰

درس : نقشه کشی تخصصی

رشته تحصیلی/کد درس : مهندسی مدیریت اجرایی (چندبخشی) ۱۳۱۱۰۳۴

- ۲- برای شکل زیر مطلوب است: الف) رسم برش تصویر قائم دو قطعه را که توسط یک پیچ شش گوش متصل شده اند ب) رسم برش تصویر جانب ج) رسم تصویر افق



نمره ۱.۸۴

- ۳- منظور از تلورانس در نقشه کشی چیست؟ با ذکر مثال توضیح دهید

نمره ۱.۸۵

- ۴- دو رابطه از مدول چرخ دنده بنویسید و اجزای رابطه را مشخص نمایید