

تعداد سؤال: ۴۰ تکمیلی - تشریحی -

نام درس: اقتصاد بخش عمومی ۲

رشته تحصیلی: گرایش: اقتصاد

کد درس: ۷۰۱۲۰۱

زمان امتحان: تئوری و تکمیلی ۸۰ دقیقه تشریحی — دقیقه

[استفاده از ماشین حساب مجاز نیست ☆ سوالات تئوری نمره منفی دارد]

تعداد کل صفحات: ۷

نیمسال دوم ۸۲-۸۳

۱. در چه صورت احتمال دارد، قرضه امروز دولت بوسیله نسل فردا پرداخت شود؟

الف. اوراق قرضه به مصرف کنندگان فروخته شود. ب. اوراق قرضه به سرمایه داران فروخته شود.

ج. دولت قرضه امروز را صرف هزینه های مصرفی کند. د. دولت قرضه امروز را صرف هزینه های سرمایه ای کند.

۲. دلیل دیدگاه جدید مبنی بر عدم تأثیر کسر بودجه دولت و قرضه آن در نرخ بهره چیست؟

الف. افزایش تقاضای وام بوسیله دولت توسط افزایش پس انداز مردم خنثی می شود.

ب. افزایش تقاضای وام بوسیله دولت تأثیری در تقاضای کل پول در بازار ندارد.

ج. افزایش تقاضای وام بوسیله دولت توسط چاپ پول جبران می شود.

د. افزایش تقاضای وام بوسیله دولت نرخ ذخیره قانونی را کاهش می دهد.

۳. در دیدگاه ریکاردو، علت افزایش دستمزد اسمی هنگام تعلق مالیات بر دستمزد چیست؟

الف. متغیر بودن عرضه بلند مدت کار

ب. ثابت بودن عرضه بلند مدت کار و ثابت بودن دستمزد در حد معیشت

ج. ثابت بودن عرضه کوتاه مدت و ثابت بودن دستمزد در حد معیشت

د. ثابت بودن عرضه بلند مدت

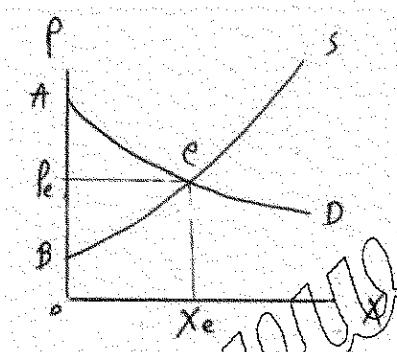
۴. در شکل زیر اضافه رفاه مصرف کننده چقدر است؟

الف. مساحت $AePe$

ب. مساحت AeB

ج. مساحت AeX_eO

د. مساحت PeB



۵. اگر دولت سیاست بودجه متعادل را دنبال کند و تابع بصورت $T = T_0$ باشد و در تابع مصرف افراد هزینه های مصرفی

دولت جانشین تقاضای بخش خصوصی باشد. تغییر در هزینه های مصرفی دولت چه تأثیری بر درآمد ملی دارد؟

الف. $\frac{1}{1-b}$ برابر ب. $\frac{-b}{1-b}$ برابر ج. صفر برابر د. ۱ برابر

۶. مالیات بر ارث چه نوع مالیاتی است؟

الف. مالیات بر ذخیره ثروت

ب. مالیات بر جریان درآمد

ج. مالیات تنازلی

د. مالیات بر مصرف

با توجه به قانون مالیاتی زیر به سؤالهای ۷ و ۸ پاسخ دهید.

«درآمد تا ۱۷۰۰ (هزار ریال) از پرداخت مالیات معاف است و به درآمد مازاد بر ۱۷۰۰ (هزار ریال) تا ۲۷۰۰ (هزار ریال)

نرخ مالیات ۱۰٪ و از ۲۷۰۰ (هزار ریال) تا ۳۷۰۰ (هزار ریال) نرخ مالیات ۲۰٪ و از ۳۷۰۰ (هزار ریال) به بالا ۴۰٪

۷. نرخ متوسط مالیات برای فردی که دارای درآمدی معادل ۵۵۰۰ (هزار ریال) است تقریباً چقدر است؟

الف. ۲۰٪ ب. ۲۵٪ ج. ۳۲٪ د. ۱۸٪

جامع ترین بانک نمونه سوالات آزمون دانشگاه ها

۵۱۱-۸۴۵۸-۸۱

www.SanjeshT.com

نام درس: اقتصاد بخش عمومی ۲

رشته تحصیلی: گرایش: اقتصاد

کد درس: ۷۰۱۲۰۱

نیمسال دوم ۸۲-۸۳

تعداد سؤال: ۴۰ نمره: ۲۰ تکمیلی - تشریحی -

زمان امتحان: تئوری و تکمیلی ۸۰ دقیقه تشریحی — دقیقه

[استفاده از ماشین حساب مجاز نیست] ☆ سوالات تئوری نمره منفی دارد

تعداد کل صفحات: ۷

۸. نرخ نهائی مالیات برای فردی که دارای درآمدی معادل ۴۰۰۰ (هزار ریال) باشد چقدر است؟

الف. ۴۰٪ ب. ۲۰٪ ج. ۲۲٪ د. ۳۵٪

۹. مالیات بر مصرف بنزین و گازوئیل جهت نگهداری و ایجاد جاده‌ها، متکی بر چه اصلی است؟

الف. اصل توانائی پرداخت ب. اصل فایده ج. برابری مطلق ایثار د. برابری نهائی ایثار

۱۰. کدامیک از گزینه‌های زیر صحیح است؟

الف. اصل فایده معیاری مناسب برای تأمین هزینه‌های دولت است.

ب. اصل فایده معیاری توزیع مجدد درآمد نمی‌تواند مؤثر باشد.

ج. اصل فایده از قاعده برابری عمودی تبعیت می‌کند.

د. اصل توانائی پرداخت در توزیع مجدد درآمد مؤثر نمی‌باشد.

۱۱. قاعده ایثار برابر یعنی چه؟

الف. مردم با درآمد متفاوت باید بطور برابر مالیات بپردازند.

ب. مردم با درآمد برابر باید بطور برابر مالیات بپردازند و با درآمدهای متفاوت، مالیات غیر برابر بپردازند.

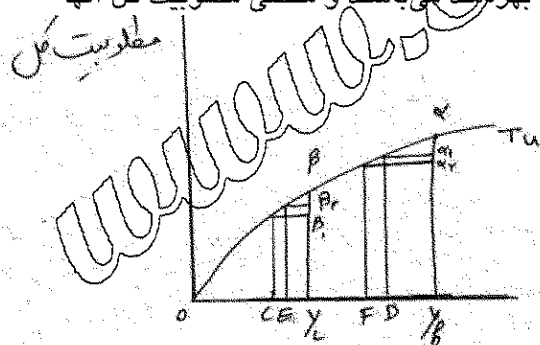
ج. مردم با درآمدهای متفاوت و درآمدهای یکسان باید ایثار را معیار پرداخت مالیات بدانند.

د. مردم متناسب با ایثار در پرداخت مالیات می‌توانند از خدمات دولت استفاده کنند.

با توجه به مطالب زیر به سؤالهای ۱۲ و ۱۳ و ۱۴ پاسخ دهید:

«دو شخص L, H ، قبل از برقراری مالیات از درآمدهای Oy_L, Oy_H بهره‌مند می‌باشند و منحنی مطلوبیت کل آنها

بصورت زیر است.»

مالیات پرداختی $y_H D$ مالیات پرداختی $y_L C$ 

۱۲. برابری نسبی ایثار را به چه صورتی می‌توان نشان داد؟

$$\frac{\alpha \alpha_p}{\alpha y_h} = \frac{\beta \beta_p}{\beta y_L} \quad \text{الف.}$$

$$Y_L E \beta \beta_1 = y_h B \alpha \alpha_p \quad \text{ب.}$$

$$\alpha y_h = \beta y_L \quad \text{د.}$$

$$\alpha \alpha_p = \beta \beta_p \quad \text{ج.}$$

۱۳. طبق قاعده برابری نهائی ایثار چگونه عمل می‌کنیم؟

الف. ابتدا از L مالیات گرفته می‌شود تا مطلوبیت نهائی درآمد او برابر H شود.ب. فرد H تا مرحله‌ای که درآمد برابر او نشود از پرداخت مالیات معاف است.ج. براساس این قاعده به فرد H مالیاتی تعلق نخواهد گرفت.د. فرد L تا مرحله‌ای که درآمد H برابر او شود از پرداخت مالیات معاف است.

تعداد سؤال: ۴۰ تکمیلی - تشریحی -

نام درس: اقتصاد بخش عمومی ۲

رشته تحصیلی: گرایش: اقتصاد

کد درس: ۷۰۱۲۰۱

زمان امتحان: تئوری و تکمیلی ۸۰ دقیقه تشریحی — دقیقه

[استفاده از ماشین حساب مجاز نیست] ☆ سوالات تئوری نمره منفی دارد

تعداد کل صفحات: ۷

نیمسال دوم ۸۲-۸۳

۱۴. طبق قاعده مطلق کدام گزینه صحیح است؟

الف. $y_h D = y_{LC}$ ب. $y_h \alpha = y_L \beta$ ج. $y_{LC} > y_h D$ د. $y_h D > y_{LC}$

۱۵. کدام یک از گزینه‌های زیر یکی از دلایل گروهی را بیان می‌کند که مالیات بر مصرف را بهتر از مالیات بر درآمد می‌دانند؟

الف. بار مالیات بر مصرف با نرخ فزاینده توزیع می‌شود.

ب. مالیات بر مصرف نسبت به مالیات بر درآمد تأثیر کمتری بر پس‌انداز دارد.

ج. مالیات بر مصرف نسبت به مالیات بر درآمد تأثیر بیشتری بر پس‌انداز دارد.

د. مالیات بر مصرف نسبت به مالیات بر درآمد بر توزیع درآمد تأثیر بیشتری دارد.

۱۶. کدام گزینه صحیح‌تر است؟

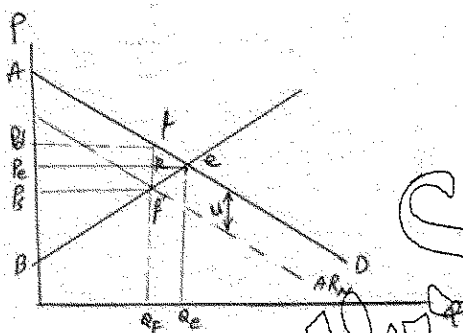
الف. مالیات‌های غیر مستقیم ما را به طور مؤثر به توزیع مناسب درآمد نزدیک می‌کند.

ب. مالیات‌های مستقیم ما را بطور مؤثرتر به توزیع مناسب درآمد نزدیک می‌کند.

ج. مالیات بر مصرف منبع مناسبی برای کاهش درآمد دولت نیست.

د. مالیات بر مصرف کالاهای ضروری موجب افزایش پس‌انداز می‌شود.

- با توجه به شکل زیر به سؤالهای ۱۷ و ۱۸ پاسخ دهید.



۱۷. پس از برقراری مالیات تغییر در اضافه رفاه مصرف کنندگان چقدر است؟

د. $ff'e$ ج. $peef'p_s$ ب. $pdfepe$ الف. Rfe

۱۸. کاهش خالص در رفاه بازار ناشی از برقراری مالیات چقدر است؟

د. $Q_f f' e Q_e$ ج. Rfe ب. fef' الف. $Q_e e f Q_f$

۱۹. کدام گزینه درخصوص بار مالیاتی صحیح نیست؟

الف. در صورتیکه کشش عرضه صفر باشد سهم بار مالیات عرضه‌کنندگان صفر است.

ب. در صورتیکه کشش منحنی عرضه بی‌نهایت باشد کل اضافه بار مالیاتی توسط مصرف‌کنندگان پرداخت می‌شود.

ج. در صورتیکه کشش منحنی عرضه بی‌نهایت باشد سهم اضافه بار مالیاتی مصرف‌کنندگان صفر است.

د. در صورتیکه کشش منحنی عرضه صفر باشد سهم اضافه بار مالیاتی مصرف‌کنندگان صفر است.

- با توجه به تابع عرضه و تقاضای زیر در یک بازار رقابتی به سؤالهای ۲۰ و ۲۱ و ۲۲ پاسخ دهید:

$$P = 100 - 2Q \text{ تابع تقاضا}$$

$$P = 10 + 3Q \text{ تابع عرضه}$$

تعداد سؤال: ۲۰ تکمیلی - تشریحی -

نام درس: اقتصاد بخش عمومی ۲

رشته تحصیلی: گرایش: اقتصاد

کد درس: ۷۰۱۲۰۱

زمان امتحان: تئوری و تکمیلی ۸۰ دقیقه تشریحی — دقیقه

[استفاده از ماشین حساب مجاز نیست ☆ سوالات تئوری نمره منفی دارد]

تعداد کل صفحات: ۷

نیمسال دوم ۸۲-۸۳

۲۰. اثر مالیات بر واحد برابر ۵ واحد پولی باشد قیمت برای مصرف کننده و برای عرضه کننده بعد از وضع مالیات به ترتیب چقدر است؟

الف. ۶۱، ۶۶ ب. ۷۱، ۷۶ ج. ۱۰۵، ۱۰۰ د. ۹۵، ۹۱

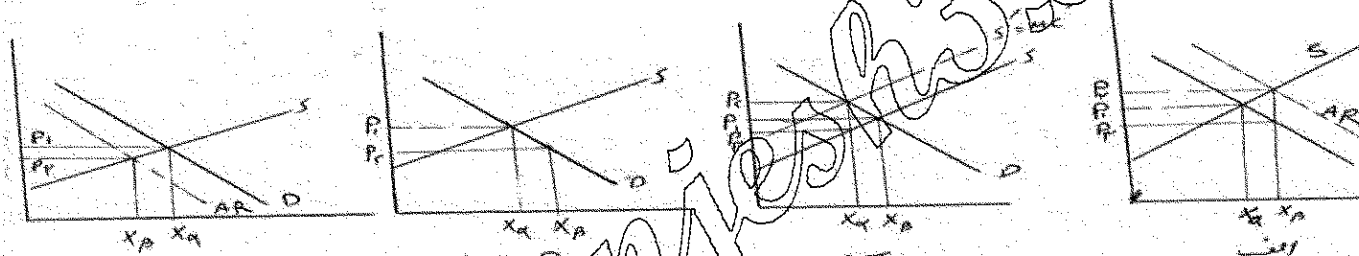
۲۱. اگر مالیات بر واحد معادل ۱۰ واحد پولی باشد تفاوت قیمت برای مصرف کننده نسبت به قبل از وضع مالیات چقدر است؟

الف. ۵ ب. ۶ ج. ۱۰ د. ۴

۲۲. اگر نرخ مالیات بر قیمت مساوی ۱۰٪ باشد سطح تولید تعادلی بعد از وضع مالیات چقدر است؟

الف. ۱۶/۶ ب. ۱۸/۵ ج. ۱۷/۳ د. ۱۴/۱

۲۳. کدامیک از نمودارهای زیر اثر سوبسید بر واحد (کالای X) را نشان می دهد.



۲۴. کدام گزینه در مورد سوبسید بر واحد در یک بازار صحیح نیست؟

الف. باعث کاهش خالص در رفاه جامعه می شود. ب. باعث افزایش در رفاه عرضه کنندگان می شود.

ج. باعث افزایش در رفاه مصرف کنندگان می شود. د. باعث افزایش در رفاه جامعه می شود.

۲۵. کدام گزینه در شرایطی که عرضه کاملاً کشش ناپذیر است صحیح است.

الف. کلیه هزینه سوبسید دولت تبدیل به اضافه رفاه مصرف کننده می شود.

ب. سوبسید بین مصرف کننده و تولید کننده بطور مساوی تقسیم می شود.

ج. اضافه بار سوبسید مساوی صفر است.

د. کلیه هزینه سوبسید دولت تبدیل به اضافه رفاه عرضه کننده می شود.

۲۶. تابع تقاضا و عرضه برای کالائی در یک بازار رقابتی بصورت زیر می باشد:

$$D = a - bQ \quad S = c + dQ \quad \text{و مبلغ } S \text{ ریال بر واحد سوبسید در نظر گرفته مقدار تعادلی تولید چقدر است؟}$$

الف. $a - b\left(\frac{a-s}{d+b}\right)$ ب. $\frac{a-c+s}{d+b}$ ج. $\frac{bs}{a+d}$ د. $\frac{a-s}{d+c}$

۲۷. کدامیک از گزینه های زیر صحیح تر است؟ (هنگامیکه مالیات بر واحد در بازار انحصاری وضع می شود.)

الف. هر چه منحنی هزینه نهائی شیب بیشتری داشته باشد اضافه بار مالیاتی کمتر خواهد بود.

ب. هر چه منحنی هزینه نهائی شیب بیشتری داشته باشد اضافه بار مالیاتی بیشتر خواهد بود.

ج. اصولاً در بازار انحصار برقراری مالیات اضافه بار مالیاتی ندارد.

د. کل مالیات بر واحد بر دوش مصرف کنندگان خواهد بود.

نام درس: اقتصاد بخش عمومی ۲

رشته تحصیلی: گرایش: اقتصاد

کد درس: ۷۰۱۲۰۱

تعداد سؤال: ۴۰ تکمیلی - تشریحی -

زمان امتحان: تئوری و تکمیلی ۸۰ دقیقه تشریحی — دقیقه

[استفاده از ماشین حساب مجاز نیست ☆ سوالات تستی نمره منفی دارد]

تعداد کل صفحات: ۷

نیمسال دوم ۸۲-۸۳

۲۸. در صورتیکه توابع درآمد متوسط و هزینه متوسط زیر مربوط به انحصارگر می باشد

$$AR = a - bQ \quad AC = C + dq$$

بعد از برقراری سوبسید بر واحد به اندازه α سطح تعادلی تولید چقدر است؟

الف. $\frac{a - c + \alpha}{2(b + d)}$ ب. $\frac{a + c + \alpha}{2(b + d)}$ ج. $\frac{b(a - \alpha)}{2(b + d)}$ د. $a + c - \alpha$

۲۹. اگر بنگاه انحصارگر یک حداقل سودی برابر π^* در نظر داشته باشد و سود در حداکثر درآمد π° باشد کدامیک از حالت های زیر صحیح است؟

الف. اگر $\pi^\circ = \pi^*$ هر نرخ مالیات بر قیمت تأثیری در سطح تولید بنگاه ندارد.ب. اگر $\pi^\circ = \pi^*$ هر نرخ مالیات بر قیمت باعث افزایش سطح تولید می شود.ج. اگر $\pi^\circ > \pi^*$ مالیات بر قیمت تا نرخ که سود خالص π° برابر π^* شود تأثیری در سطح تولید نخواهد گذاشت.د. اگر $\pi^\circ > \pi^*$ مالیات بر قیمت تا نرخ که سود خالص π° برابر π^* شود در سطح تولید تأثیر خواهد گذاشت.

۳۰. طبق قاعده رمزی کدام گزینه صحیح است؟

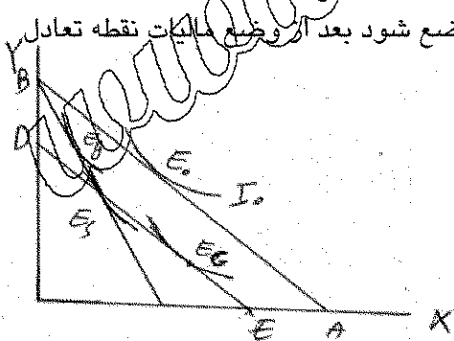
الف. برای حداقل کردن اضافه بار مالیاتی، مالیات ها بر اساس نسبت کشش تقاضا برای کالاها باید برقرار شوند.

ب. برای حداقل کردن اضافه بار مالیاتی، مالیات ها بر اساس نسبت کشش تقاضا برای کالاها باید برقرار شوند.

ج. نرخ مالیات بر بازارهایی که کشش تقاضای آن کمتر است باید بیشتر باشد.

د. بطور کلی مالیات ها هیچ تأثیری در توزیع درآمد ندارند.

۳۱. با توجه به شکل زیر، اگر بجای مالیات بر درآمد، مالیات بر فروش کالای X وضع شود بعد از وضع مالیات نقطه تعادل کجاست؟

الف. E_G ب. E_g ج. E_s د. E_o

۳۲. پس از وضع مالیات بر عرضه نیروی کار در بازارهای رسمی کدام گزینه صحیح تر است؟

الف. اگر مالیات فقط از درآمدهای بالا گرفته شود تغییری در بازارهای رسمی بوجود نمی آید.

ب. اگر پس از مالیات تغییری در نسبت کار- فراغت رخ ندهد عرضه کل کار تغییری نمی کند.

ج. عرضه کل کاهش می یابد.

د. عرضه کل کار افزایش می یابد.

نام درس: اقتصاد بخش عمومی ۲

رشته تحصیلی: گرایش: اقتصاد

کد درس: ۷۰۱۲۰۱

تعداد سؤال: ۴۰ تکمیلی - تشریحی -

زمان امتحان: تئوری و تکمیلی ۸۰ دقیقه تشریحی — دقیقه

[استفاده از ماشین حساب مجاز نیست] ☆ سوالات تئوری نمره منفی دارد

تعداد کل صفحات: ۷

نیمسال دوم ۸۲-۸۳

۳۳. «بوسیکن» به چه دلیلی در مورد کاهش عرضه کار بعد از وضع سوبسید بر دستمزد تردید داشت؟

الف. افراد حداکثر ساز درآمد هستند لذا با وجود دریافت سوبسید کار می کنند.

ب. کارگران به انگیزه سطح آموزش و بهداشت بهتر همچنان به عرضه کار ادامه می دهند.

ج. وجود بیمه و انگیزه بازنشستگی اثر سوبسید را خنثی می کند.

د. افزایش خانوار تحت پوشش کارگران، انگیزه کار را افزایش می دهد.

۳۴. عمر یک سرمایه ۱۰۰ هزار ریالی ۱۰ سال می باشد نرخ مالیات بر شرکت ها ۳۰٪ است اگر شرکتی به روش خط مستقیم

استهلاک را کسر نماید و نرخ بهره ۱۰٪ باشد صرفه جوئی مالیاتی برای هزینه سرمایه گذاری در سال دوم چقدر است؟

الف. ۲۴۷۹

ب. ۳۰۵۵

ج. ۲۷۲۷

د. ۳۵۲۱

۳۵. اثر مالیات بر شرکت ها از نظر توزیع درآمد (در کاهش بازده خالص) به چه چیزی بستگی دارد؟

الف. به وزن کالاهای صنعتی در سبد خانوارها

ب. به وزن کالاهای کشاورزی در سبد خانوارها

ج. به توزیع سهام و طبقه بندی صاحبان سرمایه در کل اقتصاد

د. به کشش عرضه پس انداز صاحبان سرمایه در اقتصاد

۳۶. چرا بار مالیاتی مالیات بر ارزش افزوده کالاهای ضروری بر خانواده های فقیر سنگین تر خواهد شد؟

الف. به علت کشش پذیری کمتر تقاضای آن و سهم کمتر آنها در سبد خانواده های فقیر

ب. به علت کشش پذیری بیشتر تقاضای آن و سهم کمتر آنها در سبد خانواده های فقیر

ج. به علت کشش پذیری کمتر تقاضای آن و سهم بیشتر آنها در سبد خانواده های فقیر

د. به علت کشش پذیری کمتر تقاضای عرضه آن و سهم کمتر آنها در سبد خانواده های فقیر

۳۷. کدام گزینه در مورد مالیات های انتخابی در ایران صادق نیست؟

الف. مالیات بر مصرف سیگار در تخصیص بهتر منابع دخالت دارد.

ب. مالیات بر نوشابه احتمالاً در جهت مناسب تر کردن توزیع درآمد عمل می کند.

ج. توجیه اقتصادی برای مالیات بر الکل صنعتی و طبی به عنوان یک مالیات انتخابی وجود ندارد.

د. توجیه اقتصادی برای مالیات بر مصرف سیگار و نوشابه به عنوان یک مالیات انتخابی وجود ندارد.

۳۸. مالیات یکجا بر محدودیت بودجه خانوار چه تأثیری دارد؟

الف. اگر مصرف کننده پس انداز مثبت داشته باشد پس انداز افزایش می یابد.

ب. اگر مصرف کننده قرض گیرنده باشد مالیات پس انداز دوره اول را افزایش می دهد.

ج. اگر مصرف کننده قرض گیرنده باشد مالیات مصرف دوره اول را افزایش می دهد.

د. اگر مصرف کننده پس انداز مثبت داشته باشد مصرف دوره اول را افزایش می دهد.

نام درس: اقتصاد بخش عمومی ۲

رشته تحصیلی: گرایش: اقتصاد

کد درس: ۷۰۱۲۰۱

نیمسال دوم ۸۲-۸۳

تعداد سؤال: ۴۰ نمره: ۲۰ تکمیلی - تشریحی -

زمان امتحان: تستی و تکمیلی ۸۰ دقیقه تشریحی — دقیقه

[استفاده از ماشین حساب مجاز نیست ☆ سوالات تستی نمره منفی دارد]

تعداد کل صفحات: ۷

۳۹. کدام گزینه صحیح است؟ (در کشور ایران)

الف. ابلاغ بودجه بر عهده رئیس جمهور است.

ب. تهیه و تنظیم بودجه بر عهده مجلس است.

ج. در مرحله نهائی، لایحه بودجه توسط وزارت امور اقتصادی و دارائی تهیه می شود.

د. کنترل عملیات فنی طرحهای عمرانی و پروژه ها به عهده ذیحسابان دستگاهها است.

۴۰. به موجب کدامیک از اصول بودجه تمام درآمدها و هزینه های دولت در سند بودجه جمع آوری و به صورت ناخالص به

مجلس تقدیم می شود؟

الف. شاملیت بودجه ب. کاملیت بودجه ج. وحدت بودجه د. تعادل بودجه