

نام درس: اقتصاد کلان ۲

رشته تحصیلی/گروه درس: علوم اقتصادی (۱۳۳۱۰۹۸)

تعداد سوالات: تستی: ۴۰ تشریحی: —

زمان آزمون: تستی: ۹۰ تشریحی: — دقیقه

آزمون نمره منفی دارد ○ ندارد ⊗

گزینه سوال: یک (۱)

استفاده از ماشین حساب مجاز است. منبع: —

پیامبر اعظم (ص): روزه سیر آتش جهنم است.

۱. بر اساس دیدگاه مکتب کمبریج در مورد تقاضای پول، کشش تقاضای پول نسبت به نرخ بهره و درآمد به ترتیب برابر کدام یک موارد زیر است؟
الف. یک و صفر
ب. صفرو بی نهایت
ج. یک و بی نهایت
د. صفر و یک
۲. اگر یک برگ اوراق قرضه بدون سررسید به مبلغ اسمی ۲۰۰۰ دلار منتشر شود و نرخ بهره آن ۱۰ درصد باشد و بعد از یک سال قیمت همان اوراق قرضه برابر ۱۲۵۰ گرید، نرخ بهره در بازار چند درصد است؟
الف. ۱۲
ب. ۱۴
ج. ۱۶
د. ۱۸
۳. کدامیک از عوامل زیر مستقیماً با سرعت گردش پول ارتباط ندارد؟
الف. درآمد
ب. نرخ تورم
ج. شیوه پرداخت حقوق
د. نرخ بهره
۴. بر اساس نظریه تقاضای معاملاتی بامول اگر درآمد از ۳۰ به ۴۵۰۰ افزایش یابد سبب می شود تقاضای پول از ۵۰۰۰ به کدام عدد افزایش یابد؟
الف. ۶۲۵۰
ب. ۷۵۰۰
ج. ۸۲۵۰
د. ۸۵۰۰
۵. کدام یک از گزینه های زیر از نظر فریدمن تقاضای حقیقی پول را افزایش می دهد؟
الف. کاهش نرخ بهره سپرده های بلند مدت
ب. افزایش نرخ بهره سپرده های بلند مدت
ج. افزایش نرخ سود سهام
د. کاهش میزان درآمد
۶. کدام یک از موارد زیر از مصارف پایه پولی محسوب نمی شود؟
الف. ذخایر اضافی بانکها
ب. وام های اعطای بانک مرکزی به بانکهای تجاری
ج. اسکناس در دست اشخاص
د. سپرده های قانونی بانکها نزد بانک مرکزی
۷. اگر ضریب تکاثر خلق پول $2/5$ باشد نرخ ذخیره قانونی $15/100$ و نرخ ذخیره اضافی $1/10$ باشد نسبت اسکناس به سپرده چقدر است؟
الف. $15/100$
ب. $2/100$
ج. $25/100$
د. $3/100$
۸. با توجه به اطلاعات سؤال قبل اگر پایه پولی برابر ۱۰۰ باشد میزان اسکناس در دست اشخاص چقدر است؟
الف. ۲۰
ب. ۵۰
ج. ۲۰۰
د. ۲۵۰
۹. افزایش نرخ ذخیره قانونی به ترتیب چه اثری بر عرضه پول و نرخ بهره دارد؟
الف. کاهش - کاهش
ب. افزایش - افزایش
ج. کاهش - افزایش
د. افزایش - افزایش

نام درس: اقتصاد کلان ۲

رشته تحصیلی/گرایش: علوم اقتصادی (۱۳۹۸-۱۳۹۹)

تعداد سؤالات: تستی: ۴۰ تشریحی: —

زمان آزمون: تستی: ۹۰ تشریحی: — دقیقه

آزمون نمره منفی دارد ○ ندارد ⊗

گد سری سؤال: یک (۱)

استفاده از: ماشین حساب

مجاز است.

منبع: —

۱۰. کدام مورد گویای عملیات بازار باز است؟

الف. خرید اوراق قرضه دولتی توسط بانک مرکزی

ب. دریافت اوراق قرضه دولتی توسط بانک مرکزی از دولت

ج. خرید اوراق قرضه دولتی توسط بانکهای تجاری از مردم

د. باز خرید اوراق قرضه توسط خزانه داری از مردم

۱۱. اگر عرضه حقیقی پول ۴۰۰ و معادله تقاضای سفته بازی پول $L_2 = -20r$ و معادله تقاضای معاملاتی $L_1 = 100 + 0.2y$ باشد معادله LM کدام است؟

الف. $y = 400 + 100r$

ب. $y = 500 + 50r$

ج. $y = 500 + 50r$

د. $y = 400 + 50r$

۱۲. اگر تابع تقاضای پول به صورت $\frac{Md}{p} = 500 + 0.2y - 10r$ باشد، ۱۰ واحد افزایش حجم پول منحنی LM را چند واحد به طرف راست انتقال می دهد؟

الف. ۱۰

ب. ۲۰

ج. ۳۰

د. ۵۰

۱۳. وقتی منحنی LM دارای شیب بی نهایت است؟

الف. ناحیه کینز است و سیاست مالی کاراتر از سیاست پولی است.

ب. ناحیه کینز است و سیاست پولی کاراتر از سیاست مالی است.

ج. ناحیه کلاسیک هاست و سیاست مالی کاراتر از سیاست پولی است.

د. ناحیه کلاسیک هاست و سیاست پولی کاراتر از سیاست مالی است.

۱۴. تغییر در نرخ نهایی مالیات باعث تغییر در کدام یک از موارد زیر می شود؟

الف. شیب منحنی IS

ب. شیب منحنی LM

ج. شیب و عرض از مبدا منحنی IS

د. شیب و عرض از مبدا منحنی LM

۱۵. افزایش حساسیت سرمایه گذاری نسبت به نرخ بهره موجب؟

الف. افزایش شیب IS میشود

ب. کاهش شیب IS میشود

ج. افزایش شیب LM میشود

د. کاهش شیب LM میشود

۱۶. با توجه به اطلاعات زیر شیب منحنی LS کدام است؟

الف. $I = 200 - 100r$

ب. $T = 200 + 0.2y$

و

و $C = 500 + 0.6yD$

الف. -0.0052

ب. 0.7800

ج. -0.052

د. -0.078

۱۷. در کدام یک از گزینه های زیر سیاست مالی اثر گذاری بیشتری دارد؟

الف. معادله IS

ب. معادله LM

و $0.25y = 160 - 800r$

و $0.25y = 160 - 800r$

الف. معادله IS

ب. معادله LM

و $0.25y = 640 - 3200r$

و $0.25y = 640 - 3200r$

الف. معادله IS

ب. معادله LM

و $y = 160 - 500r$

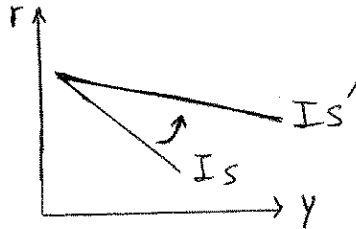
و $y = 160 - 500r$

الف. معادله IS

ب. معادله LM

و $0.25y = 125 + 1000r$

و $0.25y = 125 + 1000r$

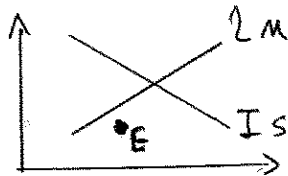


۱۸. شکل مقابل در اثر کدام موارد زیر صورت می گیرد؟

- الف. افزایش نرخ بهره
ب. افزایش میل بی نهایت به مصرف
ج. کاهش نرخ مالیات
د. افزایش مخارج دولتی

۱۹. کدام یک از موارد زیر در مورد نقطه E صحیح است؟

- الف. مازاد تقاضای بازار کالا و بازار پول
ب. مازاد عرضه بازار کالا و بازار پول
ج. مازاد عرضه بازار کالا و مازاد تقاضای بازار پول
د. مازاد تقاضای بازار کالا و مازاد عرضه بازار پول



با توجه به اطلاعات زیر به سؤالات ۲۰ تا ۲۳ پاسخ دهید؟

$$T = 100 + 0.1Y \text{ و } C = 120 + 0.8Y_D \text{ و } I = 800 - 100r$$

$$\frac{M^d}{P} = 100 + 0.2Y - 400r \text{ و } \frac{M^s}{P} = 300 \text{ و } G = 600 \text{ و } TR = 300$$

۲۰. میزان درآمد تعادلی چقدر است؟

- الف. ۹۸۵۰
ب. ۵۹۲۰
ج. ۵۳۱۸
د. ۹۹۰۵

۲۱. اگر دولت پرداخت‌های انتقالی خود را ۱۰۰ واحد افزایش دهد، درآمد تعادلی تقریباً چقدر افزایش می یابد؟

- الف. ۲۴۲
ب. ۳۸۰
ج. ۵۲۶
د. ۷۳۱

۲۲. با توجه به سؤال قبل میزان افزایش در نرخ بهره چه مقدار است؟

- الف. ۰/۱۲۱
ب. ۰/۲۲
ج. ۰/۱۷۵
د. ۷۳۱

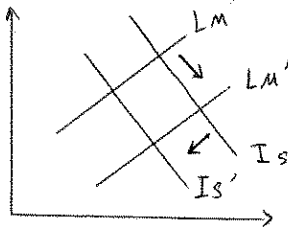
۲۳. با افزایش ۱۰۰ واحد در عرضه حقیقی پول، درآمد تعادلی تقریباً چه مقدار افزایش می یابد؟

- الف. ۸۵
ب. ۸۸
ج. ۷۵
د. ۸۰

گلد سری سؤال: یک (۱) استفاده از: ماشین حساب مجاز است. منبع: —

۲۴. نمودار مقابل نشانگر کدام یک از موارد زیر است؟

- الف. سیاست پولی و مالی انقباضی
ب. سیاست پولی و مالی انبساطی
ج. سیاست پولی انقباضی و سیاست مالی انبساطی
د. سیاست پولی انبساطی و سیاست مالی انقباضی



۲۵. کاهش در نرخ مالیات موجب کارایی سیاست پولی و کارایی سیاست مالی می شود؟
الف. افزایش - کاهش
ب. کاهش - افزایش
ج. افزایش - افزایش
د. کاهش - کاهش

۲۶. اثر جایگزینی کامل (full crowding out) زمانی اتفاق می افتد که؟

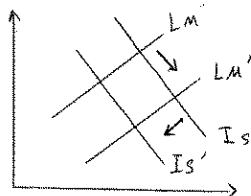
- الف. منحنی LM افقی باشد.
ب. منحنی LM عمودی باشد.
ج. منحنی LS افقی باشد.
د. منحنی LS عمودی باشد.

۲۷. اگر تحرک کامل سرمایه بین یک کشور و جهان خارج حاکم باشد منحنی BP چه حالتی دارد؟

- الف. نزولی
ب. صعودی
ج. عمودی
د. افقی

۲۸. با توجه به شکل مقابل کدام یک از موارد زیر صحیح است؟

- الف. تعادل همزمان داخلی و خارجی
ب. تعادل داخلی و مازاد تراز پرداختها
ج. تعادل داخلی و کسری تراز پرداختها
د. تعادل خارجی و کسری تقاضا در بازار کالا



۲۹. کدام گزینه نادرست است؟

- الف. در سیستم نرخ ارز ثابت سیاست مالی کارایی بیشتری دارد.
ب. در سیستم نرخ ارز شناور سیاست پولی کارایی زیادی دارد.
ج. در سیستم نرخ ارز ثابت مالی موجب انتقال هر دو منحنی IS و LM می شود.
د. در سیستم نرخ ارز ثابت سیاست پولی استقلال ندارد.

۳۰. در سمت راست راست منحنی BP و منحنی LM چه وضعیتی وجود دارد؟

- الف. اضافه عرضه پول و ارز
ب. اضافه تقاضای پول و ارز
ج. اضافه عرضه پول و اضافه تقاضای ارز
د. اضافه تقاضای پول و اضافه عرضه ارز

نام درس: اقتصاد کلان ۲

رشته تحصیلی/گرایش: علوم اقتصادی (۱۲۲۱۰۹۸)

تعداد سوالات: تستی: ۴۰ تشریحی: —

زمان آزمون: تستی: ۹۰ تشریحی: — دقیقه

آزمون نمره منفی دارد ○ ندارد ⊗

گد سری سؤال: یک (۱)

استفاده از: ماشین حساب

مجاز است.

منبع: —

۳۱. اگر AS بیانگر منحنی کل باشد در کدام یک از موارد زیر افزایش عرضه پول منجر به افزایش قیمت‌ها به همان نسبت می‌شود؟

- الف. LM عمودی و AS عمودی
ب. LM افقی و AS صعودی
ج. LM افقی و AS عمودی
د. LM عمودی و AS صعودی

۳۲. تقاضای کل در کدام حالت زیر افقی می‌شود؟

- الف. نام نقدینگی
ب. توهم پولی کامل
ج. عمودی بودن منحنی LM
د. هیچکدام
۳۳. اگر منحنی عرضه کل در حالت عدم توهم پولی باشد افزایش عرضه پول دستمزد:
الف. حقیقی را کاهش می‌دهد
ب. حقیقی را افزایش می‌دهد.
ج. اسمی را افزایش می‌دهد
د. اسمی را تغییر نمی‌دهد.

۳۴. در کدام یک از موارد زیر میزان انتقال افقی منحنی تقاضای کل AD دقیقاً برابر با انتقال افقی IS خواهد بود؟

- الف. سرمایه گذاری نسبت به نرخ بهره کاملاً باکشش باشد.
ب. تقاضای پول نسبت به نرخ بهره کاملاً باکشش باشد.
ج. منحنی LS کاملاً افقی باشد.
د. منحنی LM کاملاً عمودی باشد.

۳۵. اگر چسبندگی دستمزد به سمت پایین وجود داشته باشد، کاهش سطح قیمت‌ها سبب:

- الف. افزایش دستمزد اسمی می‌شود.
ب. کاهش دستمزد اسمی می‌شود.
ج. افزایش دستمزد حقیقی می‌شود.
د. کاهش دستمزد حقیقی می‌شود.

۳۶. اگر پارامترهای α_p در روابط زیر مثبت باشد کدام یک از روابط زیر بیان مناسب‌تری از منحنی فلیسین است؟

- الف. $\omega = \alpha_1 - \alpha_p u$
ب. $\omega = \alpha_1 + \frac{\alpha_p}{u}$
ج. $\omega = \alpha_1 - \frac{\alpha_p}{u}$
د. $\omega = \alpha_1 + \alpha_p v$

۳۷. در کدام یک از حالات زیر تورم ناشی از فشار دستمزد بروز می‌کند؟

- الف. با ثابت ماندن تولید متوسط نیروی کار درخواست مزد بالاتر نماید.
ب. تولید متوسط نیروی کار و دستمزدها با نرخ یکسانی افزایش یابند.
ج. تولید متوسط نیروی کار بیشتر از دستمزدهای نیروی کار افزایش یابد.
د. بدلیل سیاست‌های انقباضی نیروی کار درخواست مزد بالاتر نماید.

۳۸. عقلایی بودن انتظارات به این معنی است که :

- الف. توهم پولی در کوتاه مدت نیز وجود ندارد.
ب. توهم پولی، در بلند مدت وجود دارد.
ج. توهم پولی در کوتاه مدت هست اما در بلند مدت نیست.
د. قیمت‌های انتظاری در بلند مدت با قیمت‌های واقعی یکی می‌شود.

نام درس: اقتصاد کلان ۲

رشته تحصیلی/ کد درس: علوم اقتصادی (۱۲۲۱۰۹۸)

تعداد سوالات: تستی: ۴۰ تشریحی: —

زمان آزمون: تستی: ۹۰ تشریحی: — دقیقه

آزمون نمره منفی دارد ○ ندارد ⊗

کد سری سؤال: یک (۱)

استفاده از ماشین حساب

مجاز است.

منبع: —

۳۹. کدام یک از موارد زیر نشان دهنده پدید آمدن یک شوک عرضه (انتقال منحنی عرضه) است؟

الف. تولید و قیمت‌ها در یک جهت تغییر کنند.

ب. تولید و قیمت‌ها در جهات متضاد تغییر کنند.

ج. تولید و اشتغال در یک جهت تغییر کنند.

د. اشتغال و سطح قیمت‌ها در یک جهت تغییر کنند.

۴۰. اگر بر اثر یک سیاست پولی در بلند مدت نرخ تورم ۴ درصد بوجود آید بر اساس منحنی فلیپس بلند مدت؟

الف. دستمزد حقیقی ۴ درصد افزایش می‌یابد.

ب. دستمزد حقیقی ۴ درصد کاهش می‌یابد.

ج. دستمزد اسمی ۴ درصد کاهش می‌یابد.

د. دستمزد اسمی ۴ درصد افزایش می‌یابد.

www.Sanjesh3.com