

137F

کد کنترل

137

F

آزمون (نیمه متمرکز) ورود به دوره های دکتری - سال ۱۴۰۱

دفترچه شماره (۱)

صبح جمعه ۱۴۰۰/۱۲/۶



جمهوری اسلامی ایران
وزارت علوم، تحقیقات و فناوری
سازمان سنجش آموزش کشور

«اگر دانشگاه اصلاح شود مملکت اصلاح می شود»
امام خمینی (ره)

رشته باستان شناسی

(کد ۲۱۷۶)

جدول مواد امتحانی، تعداد، شماره سؤال ها و زمان پاسخ گویی

زمان پاسخ گویی	تا شماره	از شماره	تعداد سؤال	مواد امتحانی
۱۲۰ دقیقه	۸۰	۱	۸۰	مجموعه دروسی تخصصی: - دوره پیش از تاریخ و دوران تاریخی ایران (ایلام - مادها - هخامنشی - اشکانی - ساسانی) - دوران اسلامی (معماری و شهرسازی - هنرها - فنون و صنایع - خطوط و کتابت) - مبانی باستان شناسی (تاریخچه - نظریات - روش ها و فنون)

استفاده از ماشین حساب مجاز نیست.

این آزمون نمره منفی دارد.

حق چاپ، تکثیر و انتشار سؤال ها به هر روش (الکترونیکی و...) پس از برگزاری آزمون، برای تمامی اشخاص حقیقی و حقوقی تنها با مجوز این سازمان مجاز می باشد و با متخلفان برابر مقررات رفتار می شود.

* متقاضی گرامی، وارد نکردن مشخصات و امضا در کادر زیر، به منزله غیبت و حضور نداشتن در جلسه آزمون است.

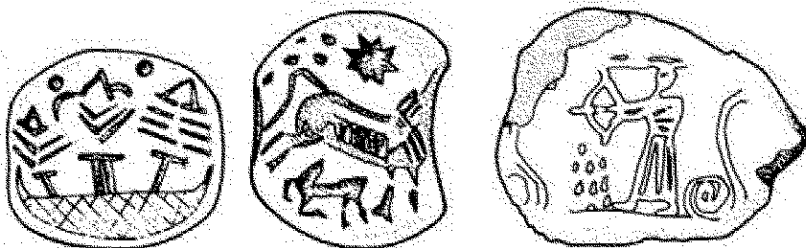
اینجانب با شماره داوطلبی با آگاهی کامل، یکسان بودن شماره صندلی خود را با شماره داوطلبی مندرج در بالای کارت ورود به جلسه، بالای پاسخ نامه و دفترچه سؤال ها، نوع و کد کنترل درج شده بر روی دفترچه سؤال ها و پایین پاسخ نامه ام را تأیید می نمایم.

امضا:

- ۱- در کدام غار، شواهد تداوم استقرار از دوره پارینه سنگی میانی به پارینه سنگی جدید وجود دارد؟
(۱) کمربند (۲) گمیشان (۳) هوتو (۴) وازواسی
- ۲- کدام گزیشه در مورد تکنیک «لوالوا» در مصنوعات سنگی غار کلدر درست است؟
(۱) در لایه II تغییرات تکنولوژیکی از تیغه به ریزتیغه در حدود ۲۵۰۰۰ سال قبل رخ داد.
(۲) در لایه VII تغییرات تکنولوژیکی از تیغه به ریزتیغه در حدود ۶۰۰۰۰ سال قبل رخ داد.
(۳) در لایه III تغییرات تکنولوژیکی از تیغه به ریزتیغه در حدود ۳۵۰۰۰ سال قبل رخ داد.
(۴) در لایه V تغییرات تکنولوژیکی از تیغه به ریزتیغه در حدود ۵۰۰۰۰ تا ۲۳۰۰۰ سال قبل رخ داد.
- ۳- فرهنگ علی آباد، بیانگر کدام حوزه فرهنگی ایران است و از چه تاریخی شروع می شود؟
(۱) منطقه کرمان، ۳۳۰۰ - ۴۰۰۰ ق.م (۲) شمال شرق ایران، ۴۰۰۰ - ۴۵۰۰ ق.م
(۳) فلات مرکزی، ۳۵۰۰ - ۴۰۰۰ ق.م (۴) شمال غرب، ۳۵۵۰ - ۴۰۰۰ ق.م
- ۴- قدیمی ترین مس ذوب شده دارای آرسنیک در کدام محوطه به دست آمد و تاریخ آن مربوط به چه دوره ای است؟
(۱) تپه قبرستان - ۴۵۰۰ ق.م (۲) تل ابلیس - نیمه اول هزاره پنجم ق.م
(۳) تپه سیلک - نیمه اول هزاره پنجم ق.م (۴) تپه یخسار - ربع چهارم هزاره پنجم ق.م
- ۵- سفال معروف Caspian Black on Red Ware مربوط به چه زمانی است و کدام حوزه فرهنگی ایران را در برمی گیرد؟
(۱) هزاره سوم ق.م - شمال ایران (۲) هزاره سوم ق.م - شمال غرب ایران
(۳) اواخر هزاره چهارم ق.م - شمال شرق ایران (۴) نیمه اول هزاره چهارم ق.م - شمال غرب ایران
- ۶- واژه تمدن هلمند، کدام حوزه جغرافیایی ایران را در برمی گیرد؟
(۱) شرق ایران - موندیگاگ (۲) شمال غرب ایران - گودین
(۳) شرق ایران - جیرفت (۴) شمال شرق ایران - دشت گرگان
- ۷- مدیریت منابع غذایی، مشخصه کدام دوره است؟
(۱) فراپارینه سنگی (۲) نوسنگی انتقالی (۳) نوسنگی قدیم (۴) نوسنگی میانی
- ۸- کدام محوطه ها، حاوی شواهد دوره نوسنگی انتقالی در غرب ایران هستند؟
(۱) آسیاب - گوران - جفاگلان (۲) جفاگلان - آسیاب - شیخی آباد
(۳) گنج دره - عبدالحسین - چیا سبز شرقی (۴) چیا سبز شرقی - گوران - شیخی آباد
- ۹- برجسته ترین طرفدار نظریه های پیچیدگی اجتماعی در مباحث فرایند نوسنگی شدن، چه کسی است؟
(۱) برایان هایدن (۲) رابرت بریدوود (۳) گوردون چایلد (۴) لوئیس بینفورد
- ۱۰- چه کسی برای اولین بار دوره پارینه سنگی زیرین را در زاگرس مرکزی شناسایی کرد؟
(۱) کنت فلاتری (۲) فرانک هول (۳) رابرت بریدوود (۴) پدرو مورتنسن

- ۱۱- کدام یک، از ویژگی های دوره فرایارینه سنگی به شمار نمی آید؟
 (۱) تولید تیغه (۲) تولید ریزتیغه
 (۳) طیف وسیع اقتصادی (۴) ساخت دست افزارهای ترکیبی
- ۱۲- فرایند گرمادهی سنگ خام به منظور تولید مصنوعات سنگی با چه هدفی انجام شده است؟
 (۱) صرفاً برای آماده سازی سنگ مادرهای لاک پشتی (۲) تولید با استفاده از فناوری فشار
 (۳) سهولت تولید با استفاده از فناوری ضربه (۴) ساخت هسته ابزارهای درشت به روش ضربه
- ۱۳- قیر اندود کردن جداره داخلی اغلب سفال ها به منظور مقاوم سازی در برابر نشت مایع، در سفالگری کدام محوطه گزارش شده است؟
 (۱) تپه بندبال - لایه های ۲۲ تا ۱۱ (۲) تپه شوش - لایه های طبقه D
 (۳) تپه جعفرآباد - لایه های ۶ تا ۴ (۴) تپه جوی - لایه های ۸ تا ۱
- ۱۴- در کدام لایه های آکروپل ۲ (صفت مرتفع آکروپل شوش) آثار دوران شوش I یا A شناسایی شده است؟
 (۱) لایه های ۷ تا ۱ (۲) لایه های ۸ تا ۴ (۳) لایه های ۱۱ تا ۷ (۴) لایه های ۱۰ تا ۴
- ۱۵- طبق دیدگاه «ویلیام سامنر» اولین مدارک قانع کننده از تغییر شیوه کشت دیم به آبی در کدام فاز حوزه رود کر شناسایی شده است؟
 (۱) باکون A (۲) شمش آباد (۳) موشکی و جری (۴) بانس قدیم
- ۱۶- براساس نظریه جان آلدن (Alden) در دوره شوش III A محوطه شوش چند هکتار داشت؟
 (۱) ۵ (۲) ۱۰ تا ۱۱ (۳) ۲۵ (۴) ۳۰
- ۱۷- دوره آغاز عیلامی تپه یحیی، مربوط به کدام لایه است؟
 (۱) II (۲) III (۳) IV (۴) VIII
- ۱۸- در محوطه باستانی شوش، چند لوح آغاز عیلامی به دست آمده؟
 (۱) ۳۸۰ (۲) ۱۰۰۰ (۳) ۱۵۶۰ (۴) ۲۰۰۰
- ۱۹- کدام گزینه درباره پدیده اقلیمی ۴/۲k درست است؟
 (۱) باعث گرم و مرطوب شدن ایران در هزاره چهارم ق.م و افزایش قابل توجه جمعیت در جنوب غربی ایران شد.
 (۲) از هزاره چهارم ق.م شروع شد، یک دوره فراوانی و حاصلخیزی ایجاد کرد و باعث افزایش جمعیت در ایران شد.
 (۳) از نیمه دوم هزاره دوم ق.م شروع شد و خشکسالی بر نواحی شرق، شمال شرق و مرکز فلات ایران تأثیر گذاشت.
 (۴) باعث خشکسالی و متروک شدن بخش هایی از ایران در هزاره چهارم ق.م شد.
- ۲۰- کدام مورد درباره اهلی شدن گاو درست است؟
 (۱) در چیا سبز اهلی شد و پدیده بومی است.
 (۲) در گنج دره اهلی شد اما پدیده ای غیربومی است.
 (۳) در لایه محمدجعفر اهلی شد و پدیده بومی است.
 (۴) در ایران اهلی نشد و در دوره CMT از غرب ایران وارد سرزمین ایران شد.
- ۲۱- در شهر باستانی شوش، دوره شوش II در چه مقطع زمانی به پایان می رسد؟
 (۱) در لایه ۱۷A حدود ۳۱۰۰ ق.م از میلاد این دوره به پایان می رسد.
 (۲) در حدود ۳۳۰۰ ق.م شوش II به پایان می رسد و از لایه ۱۸ دوره آغاز عیلامی، شروع می شود.
 (۳) در حدود ۳۴۰۰ ق.م شوش II به پایان می رسد و از لایه ۱۸ تغییرات اساسی و دوره آغاز عیلامی شروع می شود.
 (۴) در لایه نگاری آکروپل I در حدود ۳۲۰۰ ق.م طبقه ۱۷A به پایان رسیده و یک دوره جدید با لوحه های جدید آغاز می شود.

- ۲۲- در کدام یک از مناطق جغرافیایی ایران، شواهد آغاز عیلامی به دست نیامد؟
(۱) شمال غرب (۲) فلات مرکزی (۳) شرق ایران (۴) جنوب غرب ایران
- ۲۳- در کدام لایه از تپه سیلک جنوبی آتش سوزی رخ داد و رومن گیرشمن چند مهر استوانه ای آغاز عیلامی در آن کشف کرد؟
(۱) III - ۸ عدد (۲) III - ۳ - ۸ عدد (۳) III - ۴ - ۸ عدد (۴) III - ۷ - ۶ عدد
- ۲۴- نخستین شواهد آتش سپاری اجساد در ایران در کدام محوطه به دست آمد؟
(۱) یاریم تپه - هزاره چهارم ق.م (۲) سیلک - دوره نوسنگی
(۳) تپه حیحی - هزاره چهارم ق.م (۴) شهر سوخته - هزاره سوم ق.م
- ۲۵- فاز ۳ غار حاج بهرامی، متعلق به کدام دوره زمانی است؟
(۱) ۱۰۰۰۰ - ۷۴۰۰ ق.م (۲) ۸۸۰۰ - ۸۰۰۰ ق.م
(۳) ۹۰۰۰ - ۸۵۰۰ ق.م (۴) ۱۲۰۰۰ - ۱۰۰۰۰ ق.م
- ۲۶- کدام بازه زمانی را می توان برای ایلام نو III در نظر گرفت؟
(۱) ۷۴۶-۵۳۹ ق.م (۲) ۷۶۴-۵۵۹ ق.م
(۳) ۶۷۴-۵۵۹ ق.م (۴) ۶۴۷-۵۳۹ ق.م
- ۲۷- آجرهای کتیبه دار تل ملیان به ترتیب، توسط چه کسانی کشف و قرائت شد؟
(۱) راینر، والا (۲) سامنر، کامرون (۳) سامنر، راینر (۴) راینر، پاتس
- ۲۸- ساخت عبارت «ایلام»، منسوب به کدام یک است؟
(۱) کاتبان اکدی (۲) کاتبان ایلامی
(۳) کاتبان سومری (۴) نویسندگان یونانی
- ۲۹- طبق دیدگاه پاتس، به منظور ارائه مقدمه درباره فرهنگ آغاز ایلامی، چه محوطه هایی را باید مطالعه کرد؟
(۱) شوش، تل موشکی و تل جری (۲) شوش، تل باکون و تل ملیان
(۳) تل باکون، تل موشکی و تل نخودی (۴) تل ملیان، تل نخودی و شوش
- ۳۰- شیل و پاتس، به ترتیب، متون مکشوفه از شوش (استقرار ایلامی) را چه نامیدند و شیل معتقد بود در نظام نگارشی متون ایلامی قدیم، از چه متونی الهام گرفته شده است؟
(۱) آغاز ایلامی - شوش III - آغاز ایلامی (۲) شوش III - ماورای ایلامی - آغاز ایلامی
(۳) ماورای ایلامی - شوش III - شوش III (۴) ماورای ایلامی - آغاز ایلامی - شوش III
- ۳۱- کدام محوطه های منسوب به دوره ماد، دارای حصار مدور هستند؟
(۱) ازبکی، موش تپه (۲) ازبکی، گونسپان تپه
(۳) گودین، هگمانه (۴) گودین، گونسپان تپه
- ۳۲- مهرهای مقابل، مربوط به کدام محوطه مادی است؟
(۱) سیلک ب (۲) تپه حاجی خان
(۳) باباجان تپه (۴) نوشیجان تپه



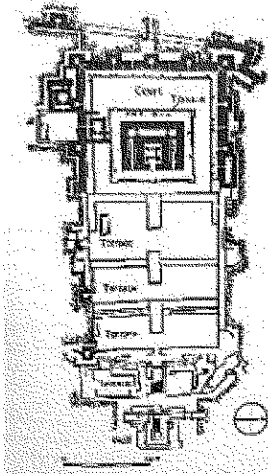
- ۳۳- تفاوت مهم قبرهای غوردخمه قیزقاپان با انواع آرامگاه های شاهان هخامنشی کدام است؟
- (۱) قبرهای قیزقاپان بیضوی شکل هستند اما قبرهای هخامنشی مستطیل شکل هستند.
 - (۲) قبرهای قیزقاپان در سطح کف، کنده شده اما قبرهای هخامنشی بر بلندی و سطح سکو است.
 - (۳) در ساخت قبرهای قیزقاپان از شانه سنگ تراشی استفاده نشده اما در قبرهای هخامنشی استفاده شده است.
 - (۴) قبرهای قیزقاپان روباز و فاقد دریوش سنگی بودند اما قبرهای هخامنشی دارای دریوش سنگی هستند.
- ۳۴- گنجینه نوشیجان از کدام بنای این محوطه به دست آمده، شامل چند قطعه است و تاریخ احتمالی دفن آن کدام است؟
- (۱) قلعه، ۲۱۳ قطعه طلایی، ۶۰۰-۶۵۰ ق.م
 - (۲) قلعه، ۲۳۱ قطعه نقره ای، ۵۷۵-۶۵۰ ق.م
 - (۳) معبد مرکزی، ۲۳۰ قطعه نقره ای، ۵۵۰-۶۵۰ ق.م
 - (۴) تونل تالار ستون دار، ۲۳۰ قطعه نقره ای، ۶۵۰-۷۵۰ ق.م
- ۳۵- کدام محوطه منسوب به دوره ماد، دارای تالار مشابه با تالارهای هخامنشی با چهار برج در چهار گوشه است؟
- (۱) ازبکی (۲) باباجان (۳) گودین (۴) نوشیجان
- ۳۶- کدام گزینه در ارتباط با ویژگی های سبک درباری در مهرهای دوره هخامنشی درست است؟
- (۱) صحنه شکار پادشاه اشخاصی با لباس پارسی و گوی بالدار
 - (۲) نقش پادشاهان هخامنشی، حیوانات افسانه ای و انسان بالدار
 - (۳) نماد گوی یا انسان بالدار، حیوانات افسانه ای و درختان نخل
 - (۴) نماد گوی یا انسان بالدار، اشخاصی با لباس پارسی و درختان نخل
- ۳۷- کدام گزینه در ارتباط با اشکال شاخص در ساخته های فلزی دوره هخامنشی درست است؟
- (۱) ظروف لاله ای شکل، بشقاب های طلایی، دستبندها و ظروف بزرگ ترینات مرصع کاری شده
 - (۲) ظروف لاله ای شکل، ظروف با دسته حیوانی شکل، پلاک های بزرگ، تزیینات مرصع کاری شده
 - (۳) ظروف لاله ای شکل، ظروف با دسته حیوانی شکل، دستبندهایی با دو سر حیوانی شکل، ریتون
 - (۴) کاسه های طلایی، ظروف با دسته حیوانی شکل، دستبندهایی با دو سر حیوانی شکل، تزیینات شخصی
- ۳۸- کارکرد سه بنای مهم دهانه غلامان (شماره ۳، شماره ۲ و شماره ۱۵) به ترتیب کدام است و تاریخ احتمالی ساخت و استفاده از آن در چه قرن (قرون) قبل از میلاد است؟
- (۱) مذهبی، خدماتی، مذهبی - ششم
 - (۲) خدماتی، مذهبی، تشریفاتی - پنجم
 - (۳) اداری، مذهبی، خدماتی و کارگاهی - چهارم تا سوم
 - (۴) مذهبی، اداری، خدماتی و کارگاهی - ششم تا پنجم
- ۳۹- ایوان بزرگ به طول حدود ۷۲ متر با نیمکت سنگی و سکوی تختگاه مربوط به کدام بنای هخامنشی است؟
- (۱) تالار آپادانای شوش
 - (۲) کاخ بارعام پاسارگاد
 - (۳) کاخ اختصاصی پاسارگاد
 - (۴) تالار آپادانای تخت جمشید
- ۴۰- کدام گزینه در ارتباط با نام های مختلف تخت جمشید به ترتیب در دوره های مختلف درست است؟
- (۱) پارسه، پرسه پلیس، صدستون، چهل ستون یا چهل منار، قصر جمشید، تخت جمشید
 - (۲) پرسه پلیس، دژنشت، صدستون، چهل ستون یا چهل منار، تخت جمشید
 - (۳) پرسه پلیس، شهر پارسیان، صدستون، چهل ستون یا چهل منار، تخت جمشید
 - (۴) پارسه، پرسه پلیس، چهل ستون یا چهل منار، تخت جمشید، قصر جمشید
- ۴۱- نام حاکم شهر لاتودیسه هم زمان با آنتیوخوس یکم پادشاه سلوکی چه بوده است؟
- (۱) مندموس (۲) هوسپاتوسین (۳) دیمتریوس (۴) گامناسگیر

۴۲- آنتیوخوس یکم در استوانه بوریسیا، چه هدفی را دنبال می کرده است؟

- (۱) مارشری شدن
 - (۲) مشروعیت سیاسی
 - (۳) کاهن اعظم شدن
 - (۴) تسلط بر سرزمین های شرقی
- ۴۳- در کدام محوطه باستانی، اشمیت، یک پادگان نظامی از اواخر دوره اشکانی را کاوش کرده است؟
- (۱) تپه ناریشان
 - (۲) تورنگ تپه
 - (۳) تپه های قومس
 - (۴) یاریم تپه

۴۴- شیوه تدفین در چشمه سار تخت جمشید به چه شکل بوده است؟

- (۱) تابوتی
 - (۲) خمره ای
 - (۳) گوردخمه
 - (۴) سردابه ای
- ۴۵- پلان مقابل، مربوط به کدام محوطه همزمان با دوره اشکانی است؟



- (۱) آی خانم
- (۲) تلکسیلا
- (۳) سرخ کتل
- (۴) کوه خواجه

۴۶- ویسهوفر، با تکیه بر سکه ها، چه کسی را پادشاه مستقل پارس دانسته است؟

- (۱) تیسافرن
- (۲) وهبرز
- (۳) ولخش (بلاش)
- (۴) ودفرداد اول (فرهاد)

۴۷- کدام شاه ساسانی برای نخستین بار، لقب شاه ایران و ایران را روی سکه های خود ضرب کرد؟

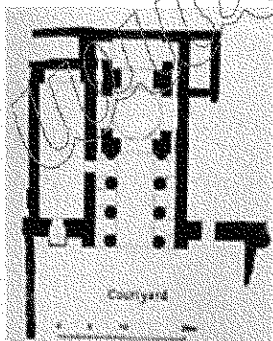
- (۱) هرمزد اول
- (۲) شاپور اول
- (۳) بلاش اول
- (۴) اردشیر بابکان

۴۸- براساس گزارش جغرافی نگاران دوره اسلامی مانند ابن بلخی و اصطخری، منار (طریال) فیروزآباد چه عملکردی داشته است؟

- (۱) برج دیده بانی
- (۲) جایگاه آب
- (۳) جایگاه آتش
- (۴) نقطه یرگار

۴۹- تصویر مقابل، پلان کدام بنای ساسانی است؟

- (۱) ایوان کرخه
- (۲) بیشاپور
- (۳) طاق کسری
- (۴) کاخ دامغان



۵۰- کاوش های شهر استخر، توسط کدام باستان شناسان صورت گرفته است؟

- (۱) هرتسفلد و اشمیت
- (۲) گیرشمن و اشمیت
- (۳) گیرشمن و استروناخ
- (۴) استروناخ و هرتسفلد

۵۱- عبارت زیر به کدام یک از موارد روش شناختی مرتبط با رویکرد باستان شناسی فضایی (فضاها) دلالت دارد؟
«در مقیاس یک محوطه انجام می شود و مدل های اجتماعی و معماری در آن مورد استفاده است. در این مطالعات فضای عمومی و عوامل فرهنگی و اجتماعی از عوامل اقتصادی اهمیت بیشتری دارند، اما موقعیت اقتصادی بیشتر نمایان می شود.»

- (۱) مدل مکان مرکزی
(۲) مطالعات سطح خرد
(۳) مطالعات سطح کلان
(۴) مطالعات سطح شبه خرد

۵۲- کدام گزینه در ارتباط با کاخ های صفوی درست است؟

- (۱) کاخ چهل ستون قزوین به شکل کوشکی هشت ضلعی در سه طبقه ساخته شده است.
(۲) در زمان سلطنت شاه سلیمان صفوی تالاری با هجده ستون چوبی به طبقه سوم کاخ عالی قاپو اضافه شده است.
(۳) کاخ آینه از کاخ های معدوم شده صفوی در اصفهان به کاخ هشت بهشت شباهت داشته است.
(۴) کاخ های دیمی، آب گرم و کیوتردره از جمله کاخ های صفوی قرار گرفته در مسیر اصفهان به فرخ آباد ساری و به شهر هستند.

۵۳- عبارت زیر به کدام یک از حکومت های محلی ایران اشاره دارد؟

- «در ناحیه دیلم به مرکزیت رودبار الموت حکومت می کردند. دوره حکومت آن ها اواخر قرن دوم تا قرن پنجم ه. ق. بود.»
(۱) آل مسافر
(۲) جستانیان
(۳) روادیان
(۴) هاشمیان

۵۴- نوع خط مقابل کدام است؟

- (۱) توفیق
(۲) دیوانی
(۳) رقعی
(۴) ثلث
- اَلَا كُمْرَ اللَّيْلِ بَدَا وَ كُنِيَ فِي فَجْرِ الْبُكْرِ لِي بَنَاءُ اَنْتَ
كَمَا اَجِيفُ جَعَلَنِي كَمَا حَبَّبَ قَالَ عَلَيْهِ السَّلَامُ

۵۵- تکنیک ترصیع کاری روی سفال با استفاده از قطعات لعاب فیروزه ای یا لاجوردی در کدام دوره اسلامی، رواج بیشتری داشته است؟

- (۱) ایلخانی
(۲) تیموری
(۳) صفوی
(۴) قاجاریه

۵۶- دو مسجد قروین و قطبیه به ترتیب در کدام شهرها قرار دارند؟

- (۱) فاس و مراکش
(۲) الجزیره و طلیطله
(۳) المریه و مدینه الزهرا
(۴) مراکش و المریه

۵۷- دو بنای مناره سوق الغازی و آرامگاه امام ذر به ترتیب در کدام شهرها قرار دارند؟

- (۱) دهلی و غزنی
(۲) رقه و اسوان
(۳) بغداد و سامرا
(۴) قاهره و دمشق

۵۸- یکی از اولین شهرهای شناخته شده ایرانی که در آن سکه های درهم اسلامی دوره اموری ضرب شد، چه نام دارد؟

- (۱) ایرشهر
(۲) بلخ
(۳) تستر
(۴) شق التیمره

۵۹- کلماتی مانند النصر، الیمن و السعاده روی سکه های کدام حکومت دیده می شود؟

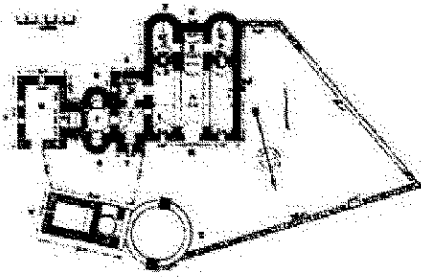
- (۱) طاهریان
(۲) سامانیان
(۳) صفاریان
(۴) سلجوقیان

۶۰- امضای عبدالوهاب شیرازی در ساخت کدام مسجد دیده می شود؟

- (۱) امام اصفهان
(۲) عتیق شیراز
(۳) وکیل شیراز
(۴) جامع اصفهان

۶۱- امضای استادکاران تبریزی در کاشی کاری کدام مسجد، قابل ملاحظه است؟

- (۱) برسیان
(۲) اشترجان
(۳) جامع یزد
(۴) جامع ورامین



۶۲- پلان زیر مربوط به چه بنایی است؟

(۱) المثنی

(۲) قصر العمرة

(۳) خربة المفجر

(۴) قصر الحیر غربی

۶۳- آخرین حاکم مسلمانی که در شمال ایران به سبک سکه های باستانی تبرستانی با امرای گاوبارگان، اقدام به ضرب سکه کرد، چه نام داشت؟

(۱) خالد (۲) عمر بن علا (۳) سلیمان بن منصور (۴) فضل بن سهل

۶۴- کتیبه های دو ضلع شرقی و غربی داخل گنبد مسجد شیخ لطف الله دارای چه محتوایی است و به خط چه کسی نگاشته شده است؟

(۱) آیاتی از قرآن (سوره بقره) - علیرضا عباسی

(۲) اسماء مقدس خداوند به زبان عربی - علیرضا عباسی

(۳) اشعاری به زبان فارسی در مدح امامان شیعی - باقر بنا

(۴) اشعاری به زبان عربی مستعمل بر اسماء چهارده معصوم - باقر بنا

۶۵- در کدام کتاب، اشاره ای به چگونگی ساخت مبالغ نشده است؟

(۱) معراج نامه (۲) تنسوخ نامه

(۳) جواهر نامه (۴) عرایس الجواهر و نقایس الاطایب

۶۶- از آثار جاویدان کدام خوشنویس، می توان به کتیبه های اطراف ایوان آینه امام زاده حمزه بن موسی بن جعفر در شهرری و کتیبه اطراف صحن آرامگاه شیخ صدوق در این بابویه اشاره کرد؟

(۱) محمدابراهیم طهرانی (۲) میرزا غلامرضا اصفهانی (۳) محمد رضا کلهر (۴) عماد الکتاب

۶۷- در تشریح ویژگی های مکتب فلزکاری موصل، کدام گزینه نادرست است؟

(۱) فن دو پوسته سازی ظروف فلزی در این دوره مورد توجه قرار گرفت.

(۲) این مکتب پس از افول موقت، مجدداً در دوره های تیموری و صفوی رونق یافت.

(۳) نام «سلطان بدرالدین لولو» بر شمار زیادی از آثار فلزی این دوره حک شده است.

(۴) هم زمان با دوره سلجوقی، طی سده های ششم و هفتم هـ. ق شکل گرفت.

۶۸- درباره کتاب «علاق النفیسه»، کدام مورد درست است؟

(۱) اثر ابن خردادبه درباره بناها و مساجد (۲) اثر ابوالفرج اصفهانی درباره شهرسازی صفویان

(۳) اثر ابن رسته درباره شهرها، مشاغل و غیره (۴) اثر دینوری درباره جغرافیای تاریخی مناطق و غیره

۶۹- کدام قلعه، در مرکز الجزایر، حوالی ۳۸۹ هـ. ق با نظارت و حمایت فاطمیان، به صورت شهری با اجزای عظیم سلطنتی، مرکب از یک برج عظیم با گوشک هایی در رأس آن ساخته شده است؟

(۱) بنی حماد (۲) جابر (۳) نجم (۴) یست

۷۰- القابی همچون ابوالقاسم یا امیرالسید روی سکه های کدام حکومت، شناسایی شده است؟

(۱) ایلخانی (۲) تیموری (۳) غزنوی (۴) سلجوقی

- ۷۱- مراحل تزئین داخلی مقبره العاجیه به چه صورت است؟
 (۱) مرحله اول کاشی و مرحله دوم با گچ رنگی
 (۲) مرحله اول گچ رنگی و مرحله دوم با آجر و کاشی
 (۳) مرحله اول گچ رنگی و کاشی و مرحله دوم با آجر
 (۴) مرحله اول آجر و کاشی و مرحله دوم با گچ رنگی
- ۷۲- سردر خورخیر کنار کدام بنا و کدام شهر واقع شده است؟
 (۱) سردر قورخانه - تهران
 (۲) دروازه باغ ملی - تهران
 (۳) مسجد حکیم - اصفهان
 (۴) مسجد جامع عتیق - اصفهان
- ۷۳- کدام یک از جغرافی دانان قرن چهارم هـ. ق، به موزاییک کاری های مسجد جامع دمشق اشاره نموده است؟
 (۱) ابن حوقل (۲) مقدسی (۳) استخری (۴) بلاذری
- ۷۴- آیه «قُلْ لَا اسْتَلْکُمْ عَلَیْهِ اَجْرًا اِلَّا الْمَوْدَه فِی الْقُرْبٰی» بر روی کدام سکه ها شناسایی شده است؟
 (۱) خوارج (۲) علویان طبرستان (۳) ابومسلم خراسانی (۴) یعقوب لیث صفاری
- ۷۵- گوره کاشی سازی در کاوش های باستان شناسی کدام محوطه به دست آمده است؟
 (۱) ری (۲) سیراف (۳) جرجان (۴) تخت سلیمان
- ۷۶- نظریه استبداد شرقی و ظهور جوامع پیچیده و تمدن آب ها، متعلق به چه کسی است؟
 (۱) ویستر (۲) ویتفونگل (۳) دایسون و کایلر یانگ (۴) لوئیس بینفورد
- ۷۷- کایلر یانگ، پیرو کدام مکتب باستان شناسی بود؟
 (۱) تاریخی فرهنگی (۲) روندگرا (۳) فراروندگرا (۴) مارکسیسم
- ۷۸- دکتر عباس علیزاده به کدام راهبرد باستان شناسی اعتقاد داشت؟
 (۱) جبر تاریخی (۲) ساختارگرایی (۳) تاریخ آنال (۴) زیست بوم فرهنگی و روندگرا
- ۷۹- واژه آغاز عیلامی را چه کسی برای اولین بار مطرح کرد؟
 (۱) جان آلدن (۲) رومن گیرشمن (۳) ویسن سیل (۴) لمبرت کارلوفسکی
- ۸۰- واژه Peer polity interaction را چه کسی برای اولین بار استفاده کرد و در کدام شاخه از مطالعات خود آن را به کار برد؟
 (۱) کنت فلانری - ایران (۲) لوئیس بینفورد - تمدن اتیک (۳) ایان هادر - ترکیه، آناتولی (۴) کولین رنفرو - عصر مفرغ اژه